

桃園市龜山區壽山國民小學 109 學年度第 1 學期五年級社會領域期中評量試卷

五年 班 座號： 姓名：

一、是非題：(每題 2 分，共 20 分)

- () 1. 臺灣本島是一個南北短、東西長的島嶼，形狀像一顆甘薯。
- () 2. 黑面琵鷺每年都會從遙遠的北方往南飛，到比較溫暖的地方過冬。
- () 3. 經緯度除了可以讓我們得知某地的位置，也能讓我們知道該地的約略氣候狀況。
- () 4. 經緯線是用來標示位置的假想線，並非實際存在於地球表面。
- () 5. 臺灣的山脈分布多偏向西部，所以東部有廣闊的平原地形。
- () 6. 臺灣冬季盛行東北季風，夏季盛行西南季風。
- () 7. 臺灣的河川多呈南北方向流向海洋，這是受到地形的影響。
- () 8. 社會規範會隨著社會變遷而調整，不同的文化背景也會形成不同的社會規範。
- () 9. 騎乘機車不戴安全帽並未影響他人的權利，所以不會被罰款。
- () 10. 興建水庫可以有效解決臺灣缺水問題，也不會影響周遭的自然環境。

二、選擇題：(每題 2 分，共 24 分)

- () 1. 下列哪一個島嶼位居臺灣本島的東方？
①金門 ②澎湖 ③龜山島 ④琉球嶼(小琉球)。
- () 2. 下列哪一項不是臺灣本島的特色？
①四面環海 ②臺灣本島東西窄、南北長
③形狀看起來像一條鯨魚 ④位在亞洲西部。
- () 3. 用北回歸線來看，桃園市屬於什麼氣候？
①副熱帶氣候 ②寒帶氣候 ③熱帶氣候
④沙漠氣候。
- () 4. 下列關於緯度和氣候關係的敘述，何者正確？
①緯度愈高的地方，氣候愈炎熱
②緯度愈高的地方，氣候愈寒冷 ③緯度愈低的地方，氣候愈冷
④緯度 0 度的地方，氣候涼爽宜人。
- () 5. 有關北回歸線的敘述，下列何者錯誤？
①就是北緯 23.5 度的緯線 ②是陽光直射地表最北的緯線
③臺灣的苗栗縣設有北回歸線標誌 ④臺灣的花蓮縣設有北回歸線標誌。
- () 6. 子秋騎單車環島，目前所在地是四周廣闊低平的地區，下列哪一個地區最有可能是子秋目前的位置？
①苗栗丘陵 ②嘉南平原
③八卦台地 ④泰源盆地。
- () 7. 有關臺灣本島地形的敘述，下列何者錯誤？
①花東縱谷平原南北狹長，東側為海岸山脈
②平原地勢低平寬廣，多由河

川沖積而成 ③臺灣島面積狹小，境內沒有山地 ④臺灣有盆地、丘陵、台地等地形。

- () 8. 陳婷阿姨深夜製造噪音，結果被政府罰款，最主要的原因是什麼？
①白天才可以製造噪音 ②她妨害別人的安寧
③深夜不睡覺會遭到罰款 ④她的錢太多。
- () 9. 下列關於宗教信仰的敘述，哪一項錯誤？
①大部分宗教對於社會有負面教育意義
②信仰前需要了解宗教的理想和目標
③對不同的宗教都要予以尊重 ④發揮宗教行善助人的精神。
- () 10. 因為風俗習慣、倫理道德和宗教信仰只有約束行為的作用，而沒有強制力，所以我們需要什麼來維持社會秩序？
①戒律 ②法律 ③公約 ④族譜。
- () 11. 下列哪一項不是臺灣河川的主要特性？
①流速急 ②坡度陡 ③長度長 ④季節流量變化大。
- () 12. 關於臺灣氣候的特性，下列哪一項敘述正確？
①春季多颱風侵襲 ②雨量稀少
③氣候溫暖 ④冬、夏風向一致。

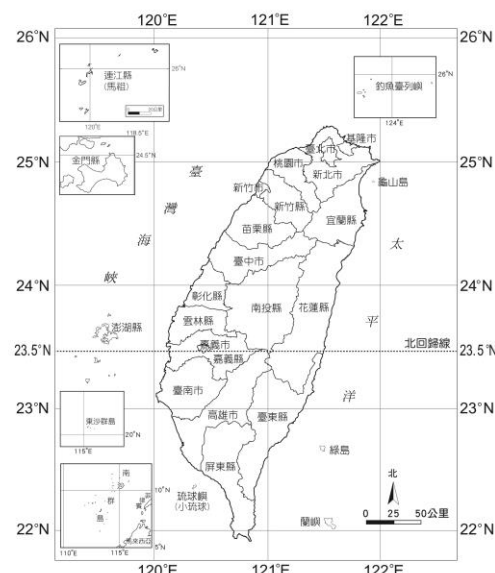
三、連連看：(每個答案 2 分，共 10 分)

1. 請將下列有關地形的敘述，與正確的地形連起來。

- | | | |
|---------------------|---|-------|
| ①面積廣大，地勢高聳的地形 | ● | ●甲、丘陵 |
| ②地勢四周高、中間低，狀似臉盆 | ● | ●乙、盆地 |
| ③地勢稍高，頂部平坦的地形 | ● | ●丙、平原 |
| ④地勢低平寬廣，多由河川沖積而成的地形 | ● | ●丁、台地 |
| ⑤地勢較低，坡度起伏較小的地形 | ● | ●戊、山地 |

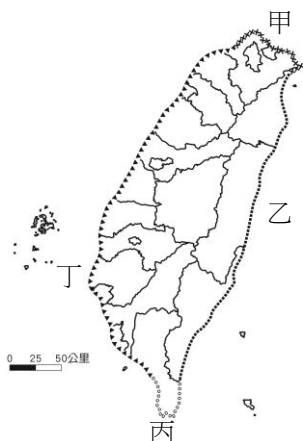
四、看圖回答問題：(共 24 分)

1. 請觀察「臺灣地區經緯度圖」，用經緯度表示桃園市的範圍。(以整數回答)(每格 2 分)



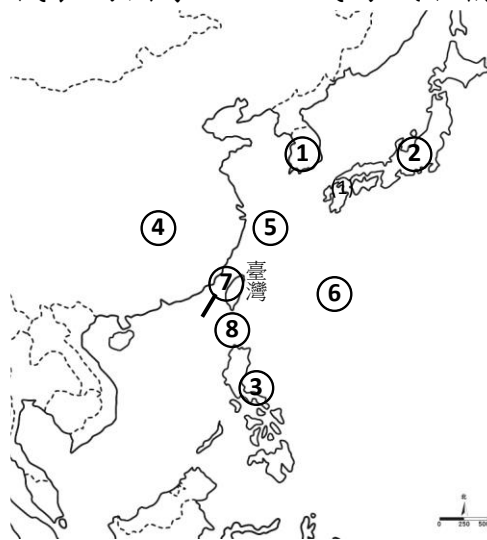
- ①北緯 () 度到 () 之間。
- ②東經 () 度到 () 之間。

2. 請分辨地圖中各海岸分別具有哪些特色，以代號填入對應的海岸類型中：（每格2分）



- ① 珊瑚礁發達：（ ）
- ② 沙洲與潟湖遍布：（ ）
- ③ 曲折多灣：（ ）
- ④ 斷崖連綿：（ ）

3. 請觀察下列「臺灣地理位置圖」，寫出各代號所代表的國家、地區或海域名稱。（每格1分）



鄰國：

- ① （ ）
- ② （ ）
- ③ （ ）
- ④ （ ）

海洋：

- ⑤ （ ）
- ⑥ （ ）
- ⑦ （ ）
- ⑧ （ ）

五、勾選題：（每格2分，共8分）

1. 下列是關於社會規範的敘述，請在正確的□中打✓。
- ① 倫理道德是指人與人之間合宜的相處方式和是非判斷的標準。
 - ② 法律是長時間生活經驗的累積，具有約定俗成的慣例。
 - ③ 風俗習慣是具有強制力的社會規範。
 - ④ 每個宗教都有自己的戒律，用來規範信徒的行為。

六、題組題：（每格1分，共14分）

1. 臺灣不僅有多樣的地形，在不同的地區也有不同的氣候表現。閱讀下列情況並找出正確答案，在□中打✓。

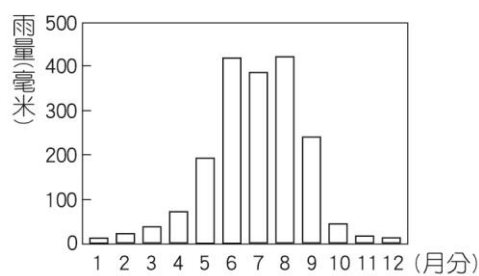
1、尖尖居住的地區幾乎全年有雨，冬季時更是陰雨連綿，每天出門上班時包包中必備雨傘，她有可能居住在下列哪一地區？

- ① 北部。
- ② 南部。

2、新成生活的地方四季氣候溫暖，夏季和冬季的氣溫差異並不大，他有可能居住在下列哪一地區？

- ① 北部。
- ② 南部。

3、下圖是凌霄居住城市的雨量圖，從雨量分布的情形推測，他有可能居住在下列哪一個城市？



各月平均雨量圖

- ① 基隆市。
- ② 高雄市。

2. 閱讀下方短文，並回答問題。

西元2020年新冠肺炎疫情蔓延期間，網路上出現了許多消息，例如「○○醫院有新冠肺炎確診病例」、「因原物料做口罩，衛生紙將成為下一波缺貨物資」等，消息一傳開造成許多民眾的恐慌及排隊搶購物資的情形。

1、文中的這些消息後來被確認為假消息，散布這些不實消息的人，已經違反了哪一種社會規範，將會受到警方的偵辦？在□中打✓。

- ① 風俗習慣
- ② 倫理道德
- ③ 宗教信仰
- ④ 法律

2、如果你在網路上看到類似這樣的消息，應該怎麼做？在□中打✓。

- ① 趕緊轉發給所有人。
- ② 向警方查證或舉報。
- ③ 謠言止於智者，不轉傳分享。
- ④ 只發給自己的親朋好友。

試題結束，若還有時間，請再多檢查幾遍喔！

