


桃園市草漯國民小學 108 學年度第二學期一年級數學領域第二次定期考查

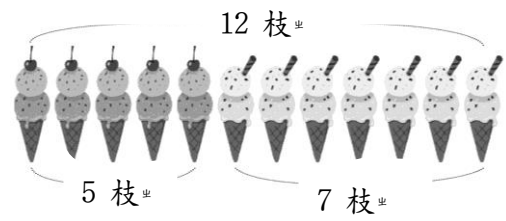
一年 _____ 班 座號：_____ 姓名：_____

一、選擇題：(每題 3 分，共 24 分)

- () 1. 一瓶鮮奶 88 元，如果都用 10 元付，最少要付幾個 10 元才夠？ ① 8 個 ② 9 個 ③ 16 個。
- () 2. 7 個 5 元，夠買一瓶 39 元的優酪乳嗎？ ① 夠 ② 不夠 ③ 無法知道。
- () 3. 如果明天是 5 月 10 日，那麼今天幾月幾日？ ① 5 月 9 日 ② 5 月 11 日 ③ 10 月 5 日。
- () 4. 1 個 10 元和 5 個 1 元可以換成幾個 5 元？ ① 5 個 ② 4 個 ③ 3 個。
- () 5. 小羽身上有 20 元，想買一本角落生動物便條紙，卻還不夠 8 元，請問一本便條紙要多少元？ ① 12 元 ② 20 元 ③ 28 元。
- () 6. 哥哥的生日是 8 月 9 日，姐姐的生日是 9 月 11 日，弟弟的生日是 11 月 8 日。請問今年誰的生日會先到？ ① 哥哥 ② 姐姐 ③ 弟弟。
- () 7. 1 張 100 元可以換成幾個 50 元？ ① 2 個 ② 5 個 ③ 10 個。
- () 8.  左邊的人形圖中，哪一種形狀用得最少？
① 三角形 ② 圓形 ③ 長方形。

二、看圖回答問題：(每格 2 分，共 24 分)

1.



(1) $12 - 7 = (\quad)$ (2) $5 + 7 = (\quad)$

2. 想買一片 65 元的雞排，可以怎麼付錢？

付完剛好錢給老闆？請圈圈看看。



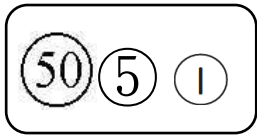
3. 看月曆回答問題：

中華民國 109 年 7 月						
日	一	二	三	四	五	六
			1	2	3	4
5	6	7	8	9	10	11
12	13	14	15	16	17	18
19	20	21	22	23	24	25
26	27	28	29	30	31	

- (1) 今天幾月幾日星期()，昨天是 7 月()日星期()。
- (2) 小布每個星期一至四都要上英文課，請問 7 月一共要上()次英文課。
- (3) 7 月的第 3 個星期三暑假就開始囉！請把令人期待的一圈起來。
- (4) 8 月的第一天是星期()，這天是假日嗎？()

【背面還有題目喔！】

4. 小智的錢包裡有：

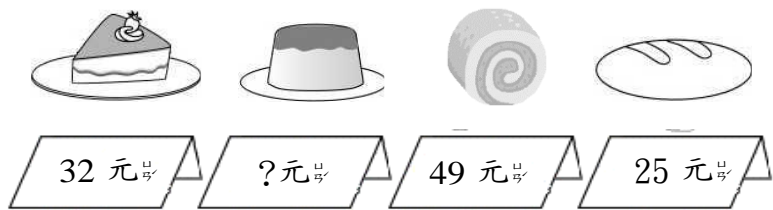


(1) 玩一次寶可夢機台需要投入 3 個 $\textcircled{10}$ ，小智先把 $\textcircled{50}$ 換成 () 個 $\textcircled{10}$ 。

(2) 玩一次寶可夢機台後，小智的錢包裡還剩下 () 元。

三、下圖是「小草咖啡」店各式甜點的價錢，請列出算式，並用 $\textcircled{10}$ 和 $\textcircled{1}$ 畫畫看看：(每題 6 分，共 24 分)

蛋糕 布丁 肉桂捲 麵包



1. 布丁比蛋糕貴 9 元，請問 1 個布丁多錢?

算式：

畫法：

答：() 元

2. 姐姐買 2 個麵包，要付多少錢?

算式：

畫法：

答：() 元

3. 最貴的甜點和最便宜的甜點相差多少錢?

算式：

畫法：

答：() 元

4.

★ 愛地球



做環保★

自備購物袋，結帳折價 3 元

媽媽自備購物袋買了 1 塊蛋糕，

請問結帳時要付給老闆多少錢?

算式：

畫法：

答：() 元

四、「飛燕進洞」比賽，射進一個

飛盤得 1 分，請完成表格的正


字畫記和分數。(每格 2 分，共 10 分)

班級	正字畫記	分數
一-甲	正正正正	() 分
一-乙	正正正正正	() 分
一-丙		8 分
一-丁		10 分

請問最高分的班級是 ()。

五、用不同類型的分類方法，圖形會

有幾個? (每格 3 分，共 18 分)



分法一	黑色	() 個
	白色	() 個
分法二	大圖形	() 個
	小圖形	() 個
分法三	星星	() 個
	圓形	() 個