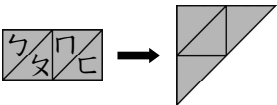
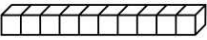







一、選擇題：每題2分

- () 數字「83」讀作什麼？
 (1) 八十加三 (2) 三十加八
 (3) 八十三
- () 下面哪一個算式的答
 案最大？
 (1) $8+4$ (2) $7+6$ (3) $9+7$
- () 如下圖，移動哪一片
 三角形圖卡，才能變成
 右邊的圖形？

 (1) ㄅ (2) ㄆ (3) ㄇ
- () 下面哪一個算式的答
 案最小？
 (1) $16-8$ (2) $12-7$ (3) $13-4$
- () 5條  和 8個 ，
 合起來和幾個  一樣
 多？
 (1) 85 (2) 58 (3) 55
- () 罐子裡有6顆巧克力，
 再放進5顆，罐子裡共
 有幾顆巧克力？
 (1) 11 (2) 12 (3) 13
- () 如下圖，牙刷和幾個
 一樣長？

 (1) 9 (2) 10 (3) 11
- () 小翔今年15歲，弟弟比
 小翔小7歲，弟弟今年
 幾歲？
 (1) 8 (2) 9 (3) 10
- () 下面圖形中，哪一個
 是三角形？
 (1) ∇ (2) \square (3) \bigcirc

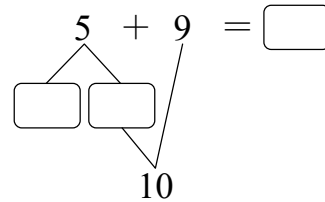
10. () 小文拿著  在紙上

描著畫，可以畫出下列
 列哪個圖形？

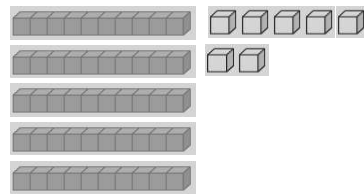
- (1) 正方形 (2) 三角形
 (3) 圓形

二、填充題：每格2分，第四題每
 格1分

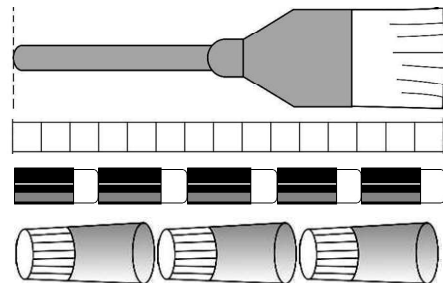
- (1) $68 \rightarrow () \rightarrow 70 \rightarrow 71 \rightarrow ()$
 (2) $() \rightarrow 40 \rightarrow 45 \rightarrow ()$
- 個位數字是9，十位數字是7的數字是()。
- 小華排隊買票，他前面有59個人，他排在第()個。
-







5. 如下圖，有()個十和
 ()個一，合起來是()。

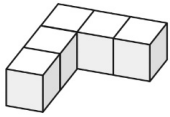


6. 如下圖



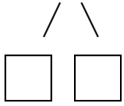
- (1) 1把牙刷和()個  一樣長。
- (2) 1瓶膠水和()個  一樣長。
- (3) 1把牙刷比1瓶膠水長()個 。

7. 數數看，用了 () 個 。

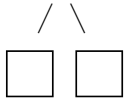


三、計算題：每題4分

1. $5+8=()$

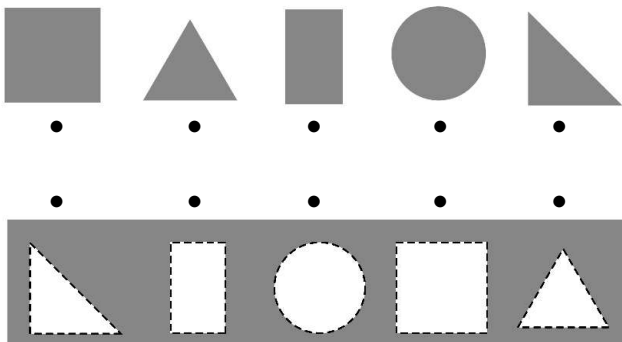


2. $17-9=()$



四、連連看：每條線2分

1. 上排的圖形是從哪裡剪下來的？用尺連連看。



2. 下面各算式的答數是多少？用尺連連看。

- | | | |
|--------|---|------|
| $5+6$ | • | • 9 |
| $18-9$ | • | • 11 |
| $7+7$ | • | • 14 |
| $12-6$ | • | • 12 |
| $4+8$ | • | • 6 |

五、比比看：每題2分

比較大打○，比較小打×

(1) 77	74	(2) 56	65
()	()	()	()

(3) 39	81	(4) 69	70
()	()	()	()

六、應用題：

1. 哥哥有4枝藍筆，弟弟比哥哥多7枝，弟弟有幾枝藍筆？(先畫○，再算出答案) 5分

畫○

哥哥：

弟弟：

算式：

答：() 枝

2. 老師從7樓搭電梯，往上升6層樓後，老師在幾樓？3分

算式：

答：() 樓

3. 冰箱裡原有12顆蘋果，吃掉5顆後，冰箱裡還有幾顆蘋果？3分

算式：

答：() 顆

4. 樹上有18隻小鳥，飛走9隻後，樹上還有幾隻小鳥？(先畫○，再算出答案) 4分

畫○

算式：

答：() 隻

寫完記得檢查喔！