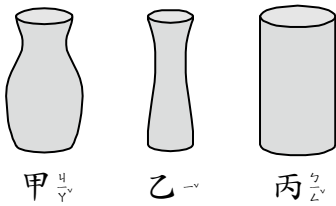



二年 班 號 姓名：

一、比比看看：12 分


1. 哪一個容器可以裝的水最少？()



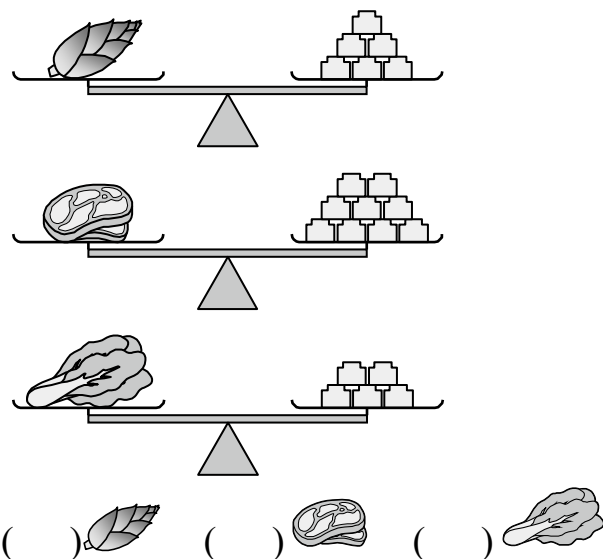
2. 哪一個杯子可以再裝進最多的水？()




3. 最重的是 ()。



4. 從重到輕照順序填上 1.2.3。



二、看看圖做做看看：22 分



1. 媽媽今天去在 抵 達公司上班，她下班時已經是下午 5 時，媽媽今天上班時間一共是 () 小時。時針一共走了 () 大格。

2.



(1) 根據上圖，鐘面時刻是 () 時 () 分。

(2) 根據上圖，如果分針再走 1 大格，是經過 () 分鐘，是 () 時 () 分。

(3) 根據上圖，分針從 4 走到 6 是走了 () 小格，經過 () 分鐘，是 () 時 () 分。

三、連算連看：16分

1. 把答案相同的算式連起來。

5×7	•	•	9×9
$25 + 56$	•	•	7×5
3×4	•	•	8×9
$80 - 8$	•	•	6×2

2. 把正確的答案連起來。

$6 + 6 + 6$	•	•	3有6個
$4 + 4 + 4 + 4 + 4$	•	•	5的4倍
$5 + 5 + 5 + 5$	•	•	4的5倍
$3 + 3 + 3 + 3 + 3$	•	•	6有3個

四、做做看看：30分

1. 「3的9倍」比「3的6倍」多
()個3，是多()。

2. $7 \times 4 = ()$ ， $7 \times 3 = ()$ ，
合起來有()個7，一共
是()。

3. 一包餅乾賣9元，買2包
共要幾元？對的打✓

- () 9+9元
- () 2+2元
- () 2×9 元
- () 9×2 元
- () 18元

4. 一袋糖果有8顆，3袋糖果
有幾顆？對的打✓

- () $8 + 8 + 8$ 顆
- () $3 + 3 + 3$ 顆
- () 3×8 顆
- () 8×3 顆

五、應用題：把做法記下來 20分

1. 一串香蕉有3根，老師買了
了6串，共有幾根香蕉？

2. 老闆上午賣出39個風箏，
下午比上午少賣出9個，今
天共賣出幾個風箏？

3. 小志原有90元，買一盒50
元蠟筆後，再買一盒35元鉛
筆，還剩下幾元？

4. 一個皮球賣30元，一個棒球
比一個皮球多賣15元，各
買一個共要幾元？

5. 一個魚缸有4條魚，8個
魚缸會幾條魚？