

桃園市大湖國小 109 學年度第一學期 一年級數學領域期中評量試卷

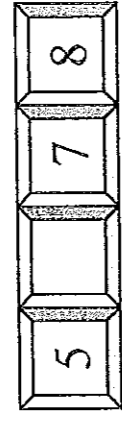
範圍：康軒版第一單元至第五單元

一一年 班 號 姓 名：




一、選擇題：每答 2 分，共 6 分

(填入正確的代號)

() 1. 按照順序填數字，空格要填哪一個數字？

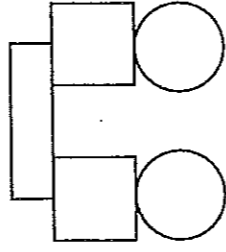


- ① 3 ② 6 ③ 7 ④ 9

() 2. 7 個  可以分成 2 個  和 幾個 ？

- ① 2 個 ② 3 個
③ 4 個 ④ 5 個

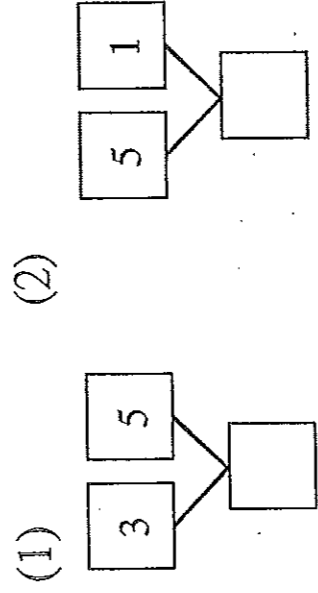
() 3. 數數看，一共有幾個正方形？



- ① 1 個 ② 2 個
③ 3 個 ④ 4 個

二、填填看看(每答 2 分，共 40 分)

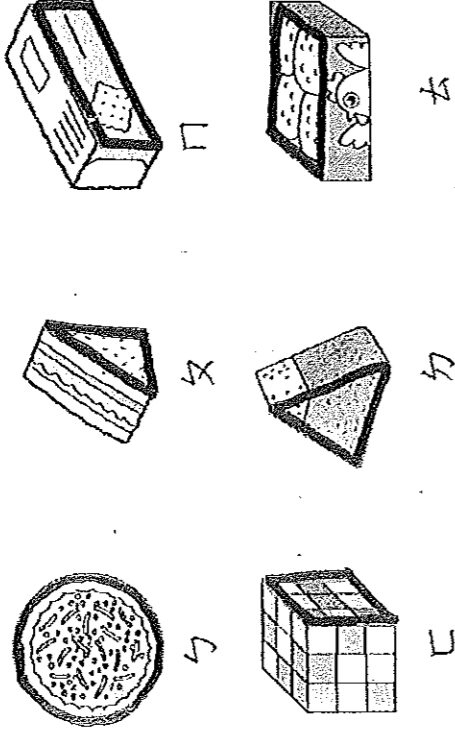
1. 在 裡填入正確的數字。



2. 「有一個數真可愛，生來就像一顆蛋，繫出了腰帶變 8 來。」猜一猜，這是哪一個數字？ ()

3. 觀察深色粗線的形状，用代號的代號填填看。

女的代號填填看。



- (1) 正方形：()
 (2) 長方形：()
 (3) 圓形：()
 (4) 三角形：()

4. 寫寫看。把【】裡的數字寫出來。

- (1) 小禮有【4】顆橘子。()
 (2) 宗泰有【2】片餅乾。()

5. 老師要全班依照座號順序排成一排，最前面是 1 號。

小玲是 6 號，她的前一個是 () 號，後一個是 () 號。

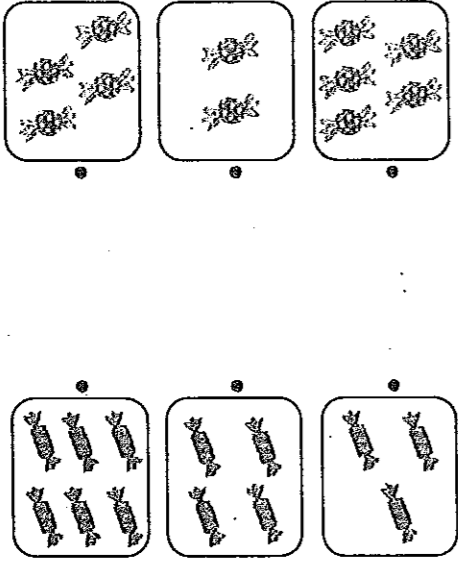
6. 按照順序填填看。



(背面還有題目喔！加油)

三、連連看看：(每答2分，共6分)


1. 合起來共有8顆糖果，連連看看。



四、看看圖回答問題：

(每答3分，共12分)

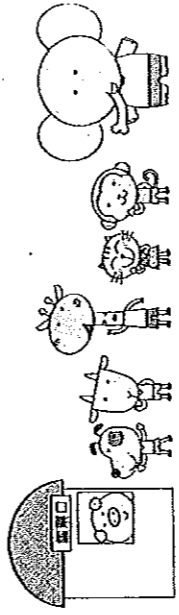
1. 數數一一數，有多少多少？



☆ 有()個， △ 有()個。

2. 動物們排隊買票準備進場入遊樂園。

遊樂園圖。




(1) 排在最前面的1個的動物是

()， ()。


(2) 後面排了()隻動物。

五、勾選題：(每答3分共12分)

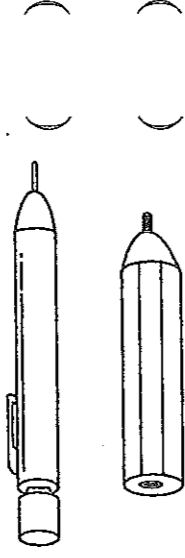
1. 比較高的樹打√。



2. 最長的打√，最短的打×。



3. 比較長的筆打√。



六、看看圖填填看看：(每答2分共24分)

1. 觀察下列物品，再圈出看看。

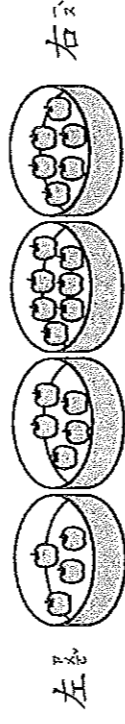
(1) 哪些物品容易一堆疊？



(2) 哪些物品不容易滾動？



2. 觀察下列物品，再填填看看。



從右邊數起第()籃的蘋果

最多。從左邊數起第一籃有

()顆蘋果。

3. 用鉛筆塗塗看看：

(從左邊數起)

第3個	○ ○ ○ ○ ○ ○ ○ ○ ○ ○
5個	○ ○ ○ ○ ○ ○ ○ ○ ○ ○
9個	○ ○ ○ ○ ○ ○ ○ ○ ○ ○
第7個	○ ○ ○ ○ ○ ○ ○ ○ ○ ○
2個	○ ○ ○ ○ ○ ○ ○ ○ ○ ○