

新竹縣立竹北國民中學 106 學年度第一學期第三次定期評量三年級地理科題目卷

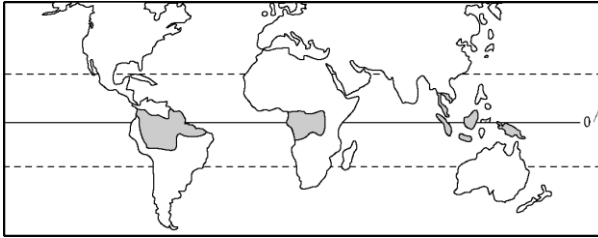
班級：_____ 座號：_____ 姓名：_____

範圍：康軒版 第五、六單元

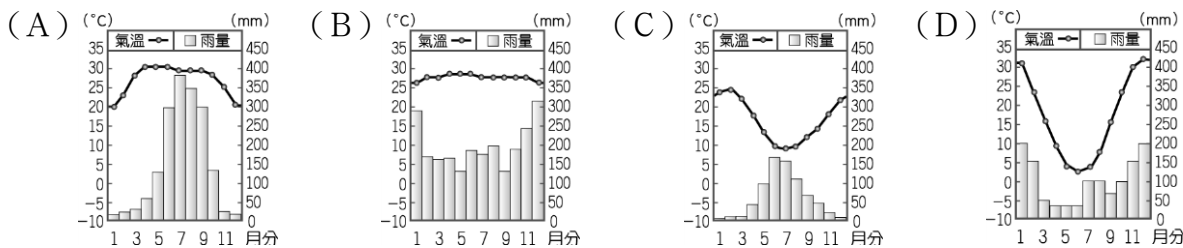
配分： 1-45 題，1-10 題每題 3 分，11-45 題每題 2 分。

【共四頁】

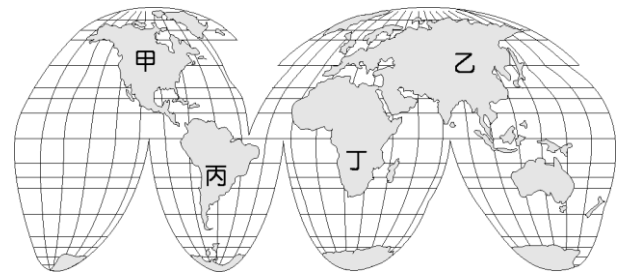
1. 下圖為熱帶雨林氣候分布圖，由圖中可觀察到熱帶雨林氣候多沿著赤道分布，中南美洲的熱帶雨林主要分布於哪一個地形區？ (A) 巴塔哥尼亞高原 (B) 亞馬孫盆地 (C) 巴西高原 (D) 安地斯山脈



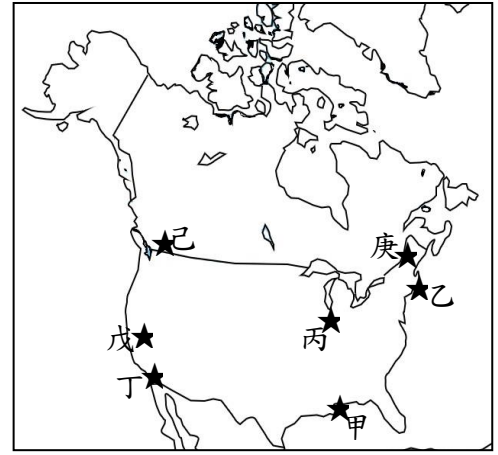
2. 承上題，近年來熱帶雨林面積大量減少，引發了許多問題，下列哪些項目跟雨林的開發有關？(甲)加速全球暖化(乙)造成物種滅絕危機(丙)糧食價格波動(丁)水土流失嚴重。正確的有哪些？
 (A) 甲乙丙 (B) 甲乙丁 (C) 甲丙丁 (D) 乙丙丁
3. 墨西哥近年來工業發展相當快速，該國吸引國外企業前往投資設廠的主要因素為哪些？(甲)技術進步(乙)資金充沛(丙)工資低廉(丁)關稅減免
 (A) 甲丙 (B) 乙丁 (C) 丙丁 (D) 甲乙
4. 至倫來到位於極圈內的阿拉斯加欣賞極光奇景，同時也可以觀察到哪一個民族的生活特色？
 (A) 維京人 (B) 毛利人 (C) 因紐特人 (D) 印第安人
5. 下列關於北美自由貿易區的敘述，何者錯誤？ (A) 由美國、加拿大、巴西共同簽署 (B) 面臨歐盟激烈競爭，在西元1994年成立 (C) 會員國間成為單一自由貿易區 (D) 為美、加的自由貿易建立穩固的基礎
6. 美國文化相當強勢，透過各種商業化的包裝，影響擴及全世界。下列何者不是美國文化的產物？
 (A) 麥當勞餐廳 (B) 星巴克咖啡 (C) 世界盃足球賽 (D) 好萊塢電影
7. 美國社會被形容為民族的熔爐，匯聚各種文化形成其多元特色。這種多元文化的起源與和下列何項關係最為密切？ (A) 出生率高 (B) 死亡率低 (C) 移入率高 (D) 移出率高
8. 布拉的家鄉位於南半球，而且當地冬季降雨比夏季多。下列哪一張圖最可能是布拉家鄉的氣候資料？



9. 美國是全球最常發生龍捲風的區域，尤其是北美大平原，主因為來自落磯山脈的乾冷空氣以及來自墨西哥灣吹來的暖濕空氣，於北美大平原劇烈輻合，導致大氣狀況非常不穩定，國家地理頻道也曾因此製作播出「北美龍捲風特輯」。國家地理頻道的工作人員，應該在什麼季節拍攝，以最能看到壯觀的龍捲風？
 (A) 春夏之際 (B) 夏秋之際 (C) 秋冬之際 (D) 冬春之際
10. 逸蘋到加拿大打工度假已四個月，行前她知道加拿大是個雙語國家，但她所來到的這個地方只有法文的指示，沒有英文！於是展開了她溝通不良的度假生活。逸蘋打工度假的地方可能是加拿大哪一個地方？
 (A) 魁北克省 (B) 拉布拉多省 (C) 哥倫比亞省 (D) 育空地區
11. 有部電影描述生存於某大陸數百年之久的印第安人，在西班牙殖民者到來之後，生活的土地不斷被侵占，甚至因歐洲人帶來的疾病導致印地安人大量死亡。故事的背景應該是右圖中的哪個地區？ (A) 甲 (B) 乙 (C) 丙 (D) 丁
12. 印加帝國的舊都—庫斯科高 3,399 公尺，玻利維亞首都拉巴斯、哥倫比亞首都波哥大、墨西哥首都墨西哥城皆位於二千公尺以上的高地。中南美洲許多重要城鎮皆位於高原或山間盆地，主要原因為何？ (A) 礦產資源豐富 (B) 牧業較為發達 (C) 產業較為多元 (D) 氣候涼爽宜人
13. 阿根廷是世界主要的小麥與牛肉出口國，其農、牧業主要分布於下列哪一地形區？
 (A) 巴塔哥尼亞高原 (B) 彭巴草原 (C) 福克蘭群島 (D) 安地斯山脈



★ 北美洲地區發展受其位置影響相當深，優越的地理位置，使得該地區的發展過程遠較其他地區為快。以下是北美洲重要都市分布，請根據右圖回答下列第 14-15 題：



14. 每年夏天都要為了防範颶風而提心吊膽的都市最有可能是何處？
 (A) 甲 (B) 庚 (C) 丁 (D) 己
15. 北美第一大城、第一大港口，也是美國經濟與商業中心，還是世界的金融中心，有「大蘋果」別稱的城市位於何處？
 (A) 乙 (B) 丙 (C) 丁 (D) 戊

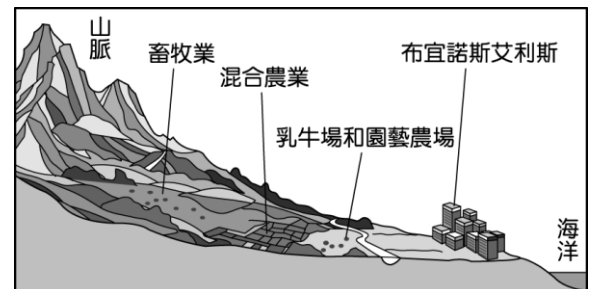
★ 右圖為美國籃球協會(NBA)各球隊所在地的分布圖。每支球隊的特色及風格也反映出所在城市的不同意義。請依圖回答第 16-19 題：

【○○】代表其中幾支球隊；《○○》代表部分城市



16. 「休士頓，我們有麻煩了。(Houston, we have a problem.)」是 1970 年美國太空人執行阿波羅 13 登月任務時，因飛行器故障所留下的經典名言。當時太空人緊急呼叫的地方，就位於休士頓的太空總署 NASA。哪支球隊代表這座城市？ (A) 雷霆 (B) 火箭 (C) 熱火 (D) 湖人
17. 火山活動雖帶來恐懼，但它所生成的產物「金礦」，卻讓人為之瘋狂！十九世紀美國的「淘金熱」，吸引大量人口到此。右圖中哪個都市最可能有金礦？
 (A) 新奧爾良 (B) 芝加哥 (C) 丹佛 (D) 紐約
18. 熱火隊名稱由來是因為所在城市氣候潮溼炎熱而名，陽光、沙灘、海上活動正是這個城市的特色。熱火隊所在城市的氣候類型為下列何者？
 (A) 溫帶沙漠氣候 (B) 溫帶地中海型氣候 (C) 溫帶海洋性氣候 (D) 夏雨型暖濕氣候
19. 煜凱今年暑假到紐約自助旅行，雖然沒有機會到芝加哥觀看 7 月 15 日晚上七點公牛隊和熱火隊的比賽，但在紐約的運動餐廳觀看球賽現場直播也是一大享受。煜凱在紐約要幾點開始鎖定準時開打的比賽呢？
 (A) 下午五點 (B) 晚上六點 (C) 晚上七點 (D) 晚上八點

20. 全世界最大的皇家郵輪主要航行於加勒比海，在旅程中可以順道參觀哪一個群島？
 (A) 西印度群島 (B) 馬爾地夫群島 (C) 東印度群島 (D) 琉球群島
21. 國際組織內的會員國常會利用各自的優勢，以分工的方式進行生產活動，例如加入歐盟後的東歐各國，透過低廉的勞力等優勢，成為歐盟的「組裝基地」。相較於歐盟，北美自由貿易區中的哪一個國家，所扮演的角色與東歐各國類似？ (A) 墨西哥 (B) 巴拿馬 (C) 加拿大 (D) 美國
22. 阿根廷為南美洲重要的農牧大國，右圖即為該國不同農業類型的分布示意圖。圖中的山脈及海洋分別為何？(A) 安地斯山脈、大西洋 (B) 落磯山脈、太平洋 (C) 安地斯山脈、太平洋 (D) 落磯山脈、大西洋
23. 北美大平原「北部」可見到大小不等的湖泊分布，這些湖泊的主要成因為何？
 (A) 斷層陷落 (B) 風力侵蝕 (C) 冰河侵蝕 (D) 河川沖積
24. 十六世紀時歐洲人開始殖民中南美洲，也帶來傳染病使原住民人數不斷減少，為了維持墾殖所需勞力，便從哪個地區輸入勞動力？ (A) 亞洲 (B) 非洲 (C) 歐洲 (D) 澳洲
25. 中南美洲的氣候類型以熱帶範圍最為廣大，這和該地區何種自然環境特色關係最大？ (A) 面積廣大 (B) 海岸線長 (C) 暖流經過 (D) 緯度位置

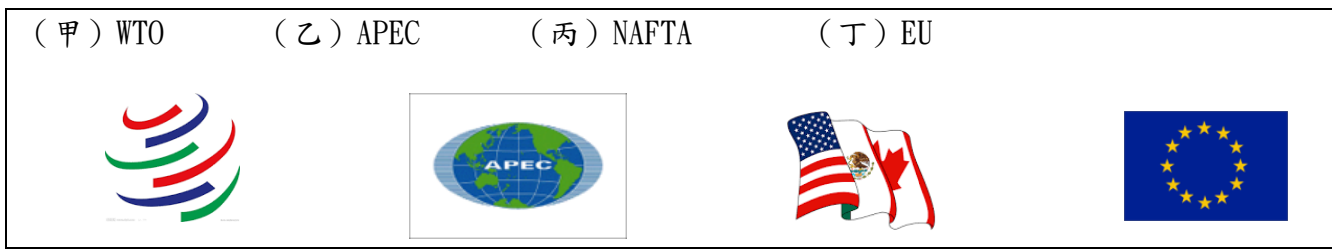


26. 巴拿馬運河為美洲相當重要的航行要道，下列哪兩個地區之間的船運不須經過巴拿馬運河？

- (A) 美國紐約~日本東京 (B) 加拿大多倫多~中國上海 (C) 巴西里約~英國倫敦 (D) 美國舊金山~荷蘭鹿特丹

27. 以經濟組織的地域觀念而言，美、加兩國無法成為下列哪一個經濟組織的會員國？

- (A) 甲 (B) 乙 (C) 丙 (D) 丁



28. 鶴明攀登安地斯山脈時，當時山下氣溫接近 30℃，一路向上氣溫漸低，最後低至 0℃ 以下，根據敘述鶴明所攀登安地斯山脈的緯度位置最可能為下列何處？

- (A) 40°~50°N (B) 0°~10°S (C) 30°~40°S (D) 40°~50°S

★ 下列左圖為美國的農業分布圖，顯示當地大規模種植單一作物，且作物呈現帶狀分布。請依圖回答第 29-31 題：



29. 威斯康辛州被稱為「奶製品之州」，本州出產的奶酪尤其出名。當地居民還會在體育比賽或其他公共活動中戴著一頂圓餅形瑞士奶酪一角的帽子(上列右圖)。威斯康辛州最有可能位在哪一個地區？

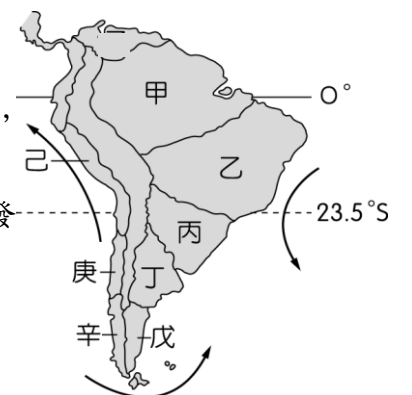
- (A) 甲 (B) 乙 (C) 丙 (D) 丁

30. 財經新報：為 Adidas、Armani 生產服裝的中國天源紡織以 2 千萬美元收購位於美國阿肯色州小岩城一家已停業的金屬製造廠，將其改造成紡織廠並招聘 400 名員工，是中國服裝公司美國生產的首例。天源最大市場在北美，在美國設廠可降低成本，且阿肯色州是美國棉花產地，吸引紡織與服裝製造商就地取材…該紡織廠最有可能位在哪一個地區？

- (A) 丙 (B) 丁 (C) 己 (D) 庚

31. 由上列左圖可知，美國地廣人稀，配合各地自然環境及市場需求發展出各具規模的農作帶。下列哪些可能是美國農業的經營特色？(甲)單位面積產量大 (乙)生產專業化 (丙)市場導向 (丁)機械化 (戊)自給自足 (己)粗放農業 (庚)集約農業 (A)甲乙丙丁 (B)丁戊己庚 (C)甲丙己庚 (D)乙丙丁己

32. 發生於南美洲太平洋沿岸的聖嬰現象對當地產業活動造成衝擊，聖嬰現象導致涼流減弱，漁獲量大為減少，沿海地區亦反常多雨，造成大小不一的水患。據說在 16 世紀時，西方殖民者為獲取他們所需的資源，即在這種「溼年」征服了當時的印第安帝國。聖嬰現象發生時，右圖中哪個地點受到洋流性質的變化，對漁業造成衝擊？



- (A) 乙 (B) 戊 (C) 己 (D) 庚

33. 中南美洲都市化程度高，烏拉圭甚至高達 95%，造成中南美洲都市化程度高的主要原因為何？ (A) 工商業發達 (B) 政府政策鼓勵 (C) 國際貿易興盛 (D) 鄉村經濟蕭條

34. 中南美洲各國的文化特色相近，因此形成一個完整的文化區，該文化區主要的語言及宗教為何？

- (A) 西班牙語、天主教 (B) 英語、天主教 (C) 葡萄牙語、基督新教 (D) 西班牙語、東正教

35. 中南美洲因為各族群通婚的情況普遍，已形成血統融合的新族群，該地區主要的混血族群中不包括何者？

- (A) 拉丁人 (B) 印第安人 (C) 貝都因人 (D) 非洲人

36. 造成阿根廷南部的巴塔哥尼高原成為溫帶沙漠的主要原因是下列何者？(甲)副熱帶高氣壓籠罩 (乙)背西風 (丙)巴西暖流經過 (丁)福克蘭寒流經過 (A)甲乙 (B)乙丁 (C)乙丙 (D)甲丁

37. 威宜到拉丁美洲參加熱鬧的嘉年華會，他拍下森巴舞者的遊行，照片如右圖所示。他所前往的國家最可能為何者？(A)哥倫比亞 (B)阿根廷 (C)智利 (D)巴西



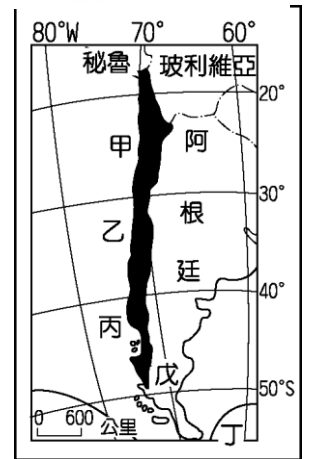
38. 聯合國環境署指出全球冰河溶化速度又創紀錄(2012年3月)，若冰層持續融化、全球海平面上升，許多著名國際城市皆位於沿海人口密集，屆時多處沿海城市都會受影響。下列那一城市受到的影響程度可能最小？(A)紐約 (B)曼谷 (C)鹿特丹 (D)墨西哥城

★下列右圖塗黑部分為南美洲智利的地圖，請依序回答第39-40題：

39. 智利形狀狹長，有「絲帶國」之稱，造成其領土狹長的原因可能為何？

(A)東有安地斯山脈阻隔 (B)東側為沙漠氣候，難以橫越 (C)海岸線綿長，利於往海洋發展 (D)與阿根廷以西經70度作為停戰線的結果

40. 根據緯度判斷，圖中的甲乙丙區分別為哪氣候？(A)甲：熱帶莽原氣候，乙：熱帶沙漠氣候，丙：溫帶地中海型氣候 (B)甲：夏雨型暖溫帶，乙：熱帶沙漠氣候，丙：熱帶沙漠氣候 (C)甲：熱帶沙漠氣候，乙：溫帶沙漠氣候，丙：溫帶地中海型氣候 (D)甲：熱帶沙漠氣候，乙：溫帶地中海型氣候，丙：溫帶海洋性氣候。



41. 「駱馬」是產於下列何處的特有種動物，居民常用來載運貨物，是該地重要的馱獸？

(A)阿爾卑斯山脈 (B)安地斯山脈 (C)北美大平原 (D)喜馬拉雅山脈

42. 「George 是美國的農夫，他有一個大約 200 公頃的農場，大部分的土地用來種植小麥，雖然採用較粗放的耕種方式，但農場的收入也能維持一般的生活水準。」下列何者最能解釋上述的現象？

(A)自給性農業 (B)農產品價格高 (C)農產品總產量大 (D)單位面積產量高

★右圖為北美工業分布圖，請根據提示回答第43-45題：

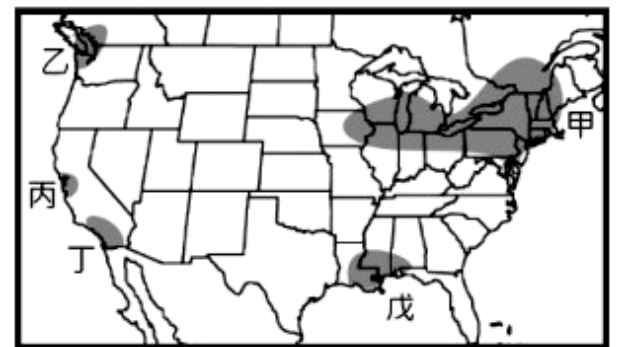
43. 「聖他克拉谷地原來為果園區，戰後被規畫開發為無污染的工業區，吸引大批高科技產業來此設廠，包括電腦及其周邊設備、通訊器材和運輸設備等，是美國電子工業的中心，素有『矽谷』之稱。」上文描述的地區位於圖中的何地？(A)甲 (B)乙 (C)丙 (D)丁

44. 臺灣的臺塑企業選擇在圖右中「戊」處設立石化工廠，成為跨國企業的經營方式。台塑選擇此區設廠的最主要區位條件為下列何者？

(A)開發較早 (B)原料充足 (C)勞工眾多 (D)交通便利

45. 好萊塢環球影城 (Universal Studios Hollywood) 是一個電影製片廠及主題樂園。它是歷史悠久、著名且仍在使用的電影製片廠之一。若小閔想在暑假期間到這個有「洛杉磯最酷的地方」(The Coolest Place in LA) 之稱的地方旅遊時，他應前往圖中哪一地區？

(A)甲 (B)乙 (C)丙 (D)丁



北美洲工業分布圖

試題結束。

請再次核對答案卡上的答案，並檢查有無在答案卡【寫上】班級座號姓名新竹

縣立竹北國中 106 學年度上學期三年級第三次段考地理科【解答】

1	2	3	4	5	6	7	8	9	10
B	B	C	C	A	C	C	C	A	A
11	12	13	14	15	16	17	18	19	20
C	D	B	A	A	B	C	D	D	A
21	22	23	24	25	26	27	28	29	30
A	A	C	B	D	C	D	B	C	C
31	32	33	34	35	36	37	38	39	40
D	C	D	A	C	B	D	D	A	D
41	42	43	44	45					
B	C	C	B	D					