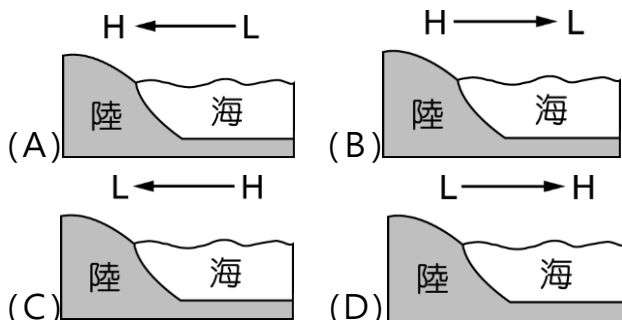


※ 請將答案畫於答案卡上，按規定畫記清楚，並確實畫記、填寫班級、姓名、座號等資料，若未填寫班級座號，或畫記錯誤者，將扣段考成績 2 分！ (1~11 題 2 分，12~37 題 3 分)

二年__班__號 姓名：_____

第一部份：單選題

1. 2016 年 7 月 6 日新聞報導：「中國南方的連場暴雨引發了洪災升級警報，中央氣象台今早繼續發布暴雨橙色預警，內地以南方為主的 26 個省份持續遭遇暴雨及洪澇災害，多個省份暴雨仍在持續。」請問災情發生時，中國的氣壓系統應為下列何者？



2. 中國的考古學家發現，早在原始社會，居民就有將房屋以「坐北朝南」的形式修建的習慣。請問：此種建築形式主要是受當地何種環境特徵影響而形成的？
(A)地勢低窪 (B)丘陵遍布 (C)夏季潮溼多雨 (D)冬季寒風強盛。

3. 河川的長度、水量、水位變化等特性往往與其流域的自然環境關係密切。珠江流域的河川水量最穩定，此現象與下列哪一項因素關係最密切？
(A)降水量較多 (B)降水期較長 (C)河川長度較長 (D)流域坡度較平緩。



圖(一)

4. 圖(一)為中國某地特殊的建築形式，當地因氣候乾燥，缺乏木、石等建築材料，居民因而就地取材，挖掘不易崩塌的洞穴居住。依此判斷，此建築的主要分布地應為下列何處？
(A)青藏高原 (B)橫斷山脈 (C)四川盆地 (D)黃土高原。

5. 「你從雪山走來，春潮是你的丰采。擬向東海奔去，驚濤是你的氣概。你用甘甜的乳汁，哺育各族兒女。你用健美的臂膀，挽起高山大海。……」這是獲得 1984 年中央電視台最佳創作獎，並被收入中國大陸教材的歌曲，由歌詞判斷此歌曲描述的應是下列哪一河流？
(A)珠江 (B)長江 (C)塔里木河 (D)雅魯藏布江。

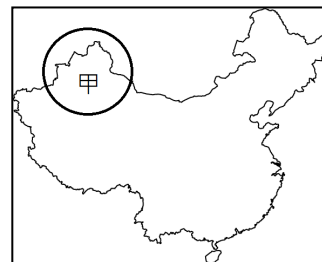
6. 小宜想使用 Excel 將中國 55 個民族的比例繪製成圖，他應該要選擇下列何種圖表類型？



7. 冬末春初之際，來自蒙古地區的冬季季風常將裸露地表的塵土颳起，產生沙塵暴的現象，對所經地區居民的生活造成很大的影響。請問，當北京遇到沙塵暴時，當地的風向應為下列何者？
(A)↖ (B)↘ (C)↗ (D)↙。

8. 中國推動希望小學工程，邀請企業或個人捐款，幫助內陸偏遠地區建校，讓當地兒童能夠上學，此活動的主要目的是要改善下列哪一問題？
(A)人口數量過多 (B)性別比例失衡 (C)流動人口過多 (D)人口素質較低。

9. 圖(二)上的甲地區族群分布相當多元，造成當地族群複雜的主要原因為何？
(A)氣候溼熱 (B)地形崎嶇 (C)政策移民 (D)地處邊疆。



圖(二)

10. 環境負載力是指生活環境所能供養生物的能力。請問：以下四個地形區，何者環境負載力應該最高？
(A)青藏高原 (B)橫斷山脈 (C)塔里木盆地 (D)長江中下游平原。

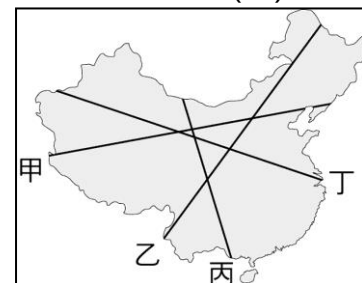
11. 表(一)為中國某地的月均溫及月降水量資料，根據表中資料判斷，當地應為何種氣候類型？

月分 項目	1	2	3	4	5	6	7	8	9	10	11	12
月均溫 (°C)	3.7	4.6	8.5	14.2	19.2	23.4	27.8	27.7	23.6	18.3	12.4	6.1
降水量 (mm)	39	59	81	102	115	152	128	133	156	61	51	35

(A)溫帶草原 (B)溫帶季風 (C)副熱帶季風 (D)熱帶季風 氣候。

12. 李教授為中國的農業專家，專門研究中國境內的農業活動。若李教授從中國華南地區向北移動，他應會看到氣候與農業活動出現下列何種變化？
(A)降雨量漸增、由麥田轉為稻田 (B)降雨量漸增、由稻田轉為麥田 (C)降雨量漸減、由麥田轉為稻田 (D)降雨量漸減、由稻田轉為麥田。

13. 圖(三)中哪條線，最能呈現出中國人口數量多與寡、人口密度高與低的空間差異？
(A)甲 (B)乙 (C)丙 (D)丁。



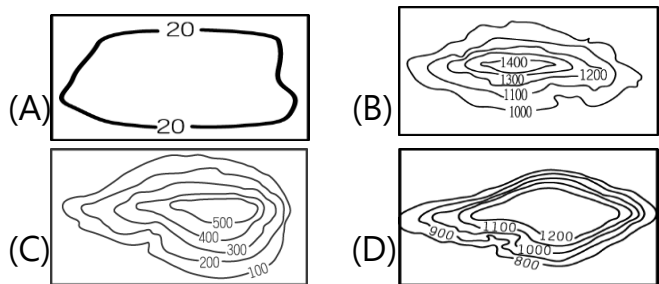
圖(三)

14. 青藏高原南部的雅魯藏布江河谷是中國青藏地區氣候較暖溼，而能從事農業的地區。請問當地降雨的水氣應該來自哪一海洋？
(A)印度洋 (B)太平洋 (C)北極海 (D)大西洋。

15. 犛牛耐寒，且能於高山中負重行走，依此判斷，犛牛的主要分布地點應在下列何處？
(A)四川盆地 (B)青藏高原 (C)東南丘陵 (D)珠江三角洲。

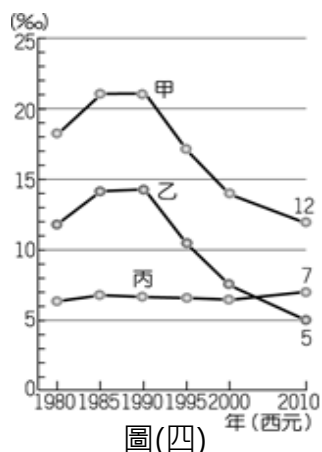
16. 中國於 2016 年全面開放生育第二胎，此政策的轉變，對於下列哪一人口問題的幫助較大？
(A)人口分布不均 (B)人口高齡化 (C)人口素質低落 (D)鄉村人口外流。

17. 一地人口數量的多寡會受到當地地形條件的影響，若不考慮其他因素的影響，下列哪一個等高線地形圖所代表的地形種類人口數量應該會最多？



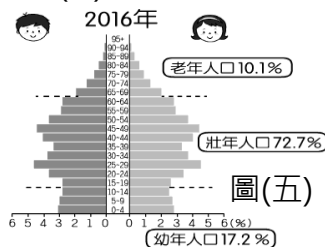
18. 今日中國對世界經濟發展的影響相當大，主要原因之一為中國的潛在市場廣大。請問：下列何者和中國市場廣大的關係最密切？ (A)面積廣闊 (B)面海背陸 (C)人口眾多 (D)資源豐富。

19. 中國自實施一胎化政策後，對於人口數量的影響相當明顯。圖(四)為中國自1980年以來的出生率、死亡率、自然增加率統計圖，請問：圖(四)中出生率、死亡率、自然增加率應該分別為哪一線段？ (A)甲、乙、丙 (B)甲、丙、乙 (C)乙、丙、甲 (D)丙、甲、乙



20. 小昌想要比較中國與印度兩國人口素質的高低，他應取得兩國的何種資料進行分析？ (A)歷年出生率 (B)人口金字塔圖 (C)人民識字率 (D)男女性別比。

21. 圖(五)為中國2016年的人口金字塔圖，由此圖中無法推知下列哪項資訊？ (A)人口總數多 (B)少子化 (C)高齡化 (D)勞動力充足。



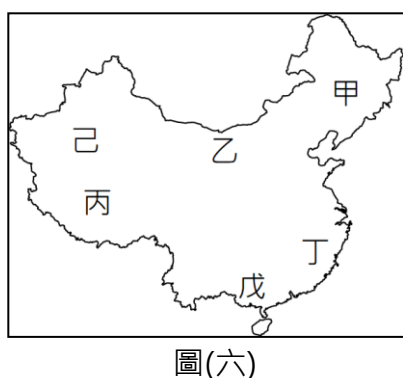
22. 造成中國季風氣候區冬季氣溫差異的最主要因素為何？ (A)緯度 (B)季風 (C)洋流 (D)距海遠近。

23. 「2017年11月18日北京聚福緣公寓發生超大火災，造成19死悲劇，也燒出違建等問題，北京各區政府為消除隱患，大規模拆除違建，限時2至3天內強迫商家和住戶搬走，由於住在便宜群居房裡的，多是來自外地且收入偏低民眾，寒冬將至，不少租戶走投無路，只能返回老家。」以上是某電子報的報導，請問造成北京外來人口眾多的原因與下列何者關係最密切？ (A)中國人口成長快速 (B)中國人口年齡結構改變 (C)中國性別比失衡 (D)中國城鄉經濟發展不均。

第二部份：題組題

※圖(六)是中國簡圖，請依據圖(六)上的代號，回答第24~28題：

24. 小瑜要規畫暑假和父母到中國旅遊的行程，若不想遇到炎熱的天氣，圖上何地會是較適宜的旅遊地點？ (A)甲 (B)乙 (C)丙 (D)丁。



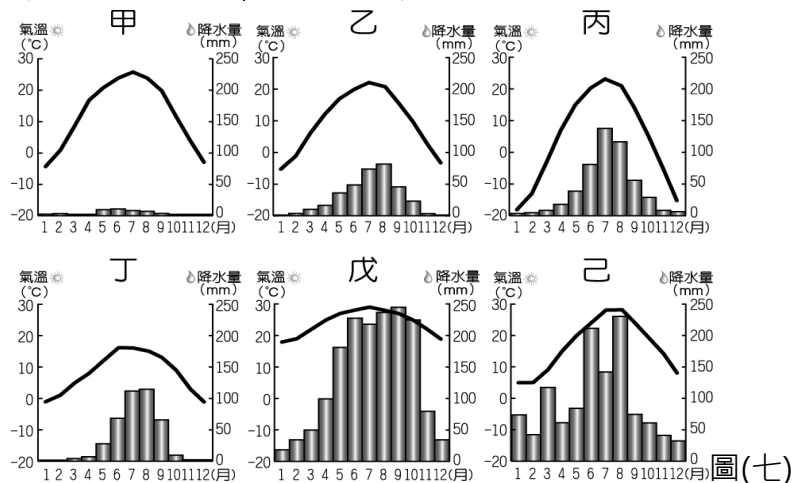
25. 圖上哪一地區的氣候最乾燥，且有夏熱冬寒、早晚寒冷中午炎熱的特徵？ (A)甲 (B)丙 (C)戊 (D)己。

26. 小哲想要了解生活在冰天雪地的環境裡的居民其生活方式與臺灣有何不同，那冬季時他應該選擇去圖上何處實察？ (A)甲 (B)丁 (C)戊 (D)己。

27. 中國少數民族各具傳統風俗與特色，小華前往圖上的戊地，應可見到下列哪種文化景觀？ (A)善於農耕的壯族 (B)能歌善舞的維吾爾族 (C)逐水草而居的蒙古族 (D)宗教信仰虔誠的藏族。

28. 建立中國最後一個君主制的王朝--清朝的滿族，主要分布在圖上何處？ (A)甲 (B)丙 (C)戊 (D)己。

※中國面積廣大，形成多樣性的氣候分布特色。圖(七)為中國境內某六個城市的氣候分布圖，請依圖上內容回答第29~33題。



29. 甲城市為何種氣候類型？ (A)溫帶沙漠 (B)溫帶草原 (C)溫帶季風 (D)副熱帶季風 氣候。

30. 哪一城市位於高地氣候區？ (A)甲 (B)乙 (C)丙 (D)丁。

31. 哪一城市最可能位於中國位置最南的海南省？ (A)乙 (B)丙 (C)戊 (D)己。

32. 中國降雨集中夏季的現象非常明顯，此現象與下列何者關係最密切？ (A)緯度 (B)地形 (C)季風 (D)距海遠近。

33. 若只考慮氣候因素的影響，甲、乙、丁、己四個城市何者的人口密度應該會較高？ (A)甲 (B)乙 (C)丁 (D)己。

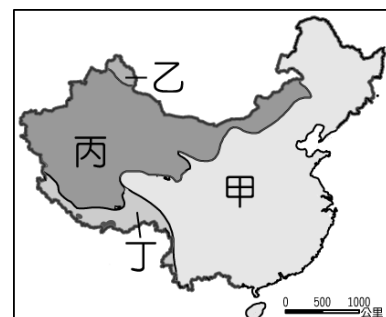
※圖(八)為中國水系分布圖。請依圖上內容回答第34~37題。

34. 青海湖與納木錯皆為鹹水湖，請問此兩湖應位於圖上哪一地區？ (A)甲 (B)乙 (C)丙 (D)丁。

35. 額爾濟斯河為俄羅斯西伯利亞三大河之一鄂畢河的上游，此河應位於圖上哪一區域內？ (A)甲 (B)乙 (C)丙 (D)丁。

36. 長江、黃河、珠江等河川位於圖上哪一區域內？ (A)甲 (B)乙 (C)丙 (D)丁。

37. 丙區域因氣候乾燥，河川水源不足而無法注入海洋。請問此區域河川的水源主要為下列何者？ (A)雨水 (B)雪水 (C)湖水 (D)地下水。



圖(八)