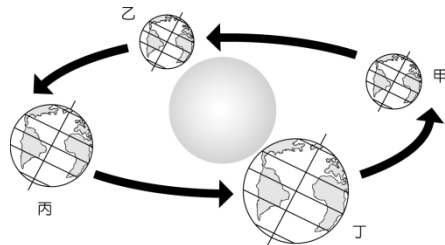


一、選擇題：每題 2 分，共 60 分

- 1.() 全球化過程中，跨國企業將生產基地分散至不同的國家或地區，其主要目的為下列何者？(A) 均衡區域發展 (B) 促進國內消費 (C) 降低生產成本 (D) 降低國內失業率。
- 2.() 臺灣聞之色變的「登革熱」原流傳於熱帶地區，然而受到下列何種因素的影響，逐漸擴散到了溫帶地區？(A) 海水面上升 (B) 降雨集中 (C) 洪水為患 (D) 全球暖化。
- 3.() 附圖為地球公轉示意圖。在甲的位置時，北極圈內是永夜；在丙的位置時，北極圈內是永晝。請問：當地球在丁的位置時，臺灣的季節為何？(A) 春 (B) 夏 (C) 秋 (D) 冬。

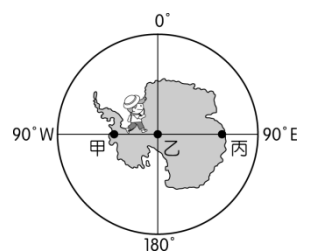
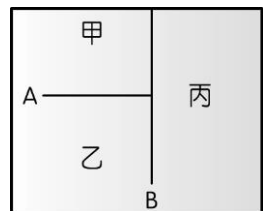


- 4.() 跨國企業的形成和交通運輸的發展關係相當密切，其經營型態主要為下列何者？(A) 進口世界各地產品 (B) 引進大量外籍勞工 (C) 使用多國貨幣交易 (D) 海外各地設廠製造。
- 5.() 紐西蘭位於環太平洋的火山地震帶上，這對當地的主要影響為下列何者？(A) 面積狹小 (B) 山地地形為主 (C) 南島有冰河地形 (D) 草原廣大。
- 6.() 科技進步為形成地球村的重要條件，而交通革新所造成的最主要影響為下列何者？(A) 兩地實際距離縮短 (B) 交通方式單一 (C) 時空收斂 (D) 交通運費增加。
- 7.() 非洲境內的哪一條河川終年水力豐富，因此發展工業的潛力十足？(A) 尼羅河 (B) 剛果河 (C) 亞馬孫河 (D) 尼日河
- 8.() 位於南非西南部的開普敦，以景色優美及宜人的地中海型氣候著稱。若要前往當地旅遊時希望不要遇到下雨天，應避免在下列哪一個時間前往當地？(A) 一月 (B) 四月 (C) 七月 (D) 十月。
- 9.() 近年許多國家都致力於區域結盟來擴大經濟實力，臺灣在西元 1991 年加入下列哪一個區域組織的運作，以加速和周邊國家的經貿？(A) 歐洲聯盟 (B) 亞太經濟合作會議 (C) 國際貨幣基金 (D) 世界貿易組織
- 10.() 阿拉斯加位於北極圈內，近年來由於開採何種自然資源，而對當地造成生態環境的破壞？(A) 石油 (B) 黃金 (C) 鐵礦 (D) 雨林。
- 11.() 國際間訂定《京都議定書》、《蒙特婁議定書》等，主要的共同目的為下列何者？(A) 維護世界和平 (B) 追求永續發展 (C) 縮小貧富差距 (D) 提高國民所得
- 12.() 非洲的地形以下列何者為主體？(A) 平原 (B) 山地 (C) 盆地 (D) 高原
- 13.() 穆斯林的宗教戒律中，必須前往麥加朝拜。若位於北非埃及的信徒欲搭乘渡輪前往阿拉伯半島，則以橫渡哪一個海域距離最近？(A) 黑海 (B) 地中海 (C) 紅海 (D) 阿拉伯海。
- 14.() 全球暖化將造成地球整體環境的變化。請問：海水面上升對於下列哪一個都市的威脅較小？(A) 荷蘭的阿姆斯特丹 (B) 美國的紐約 (C) 瑞士的日內瓦 (D) 義大利的威尼斯。

- 15.() 2014 年馬航由吉隆坡飛往北京的 MH370 班機在起飛後消失，1 年多後其殘骸才在馬達加斯加東側的留尼旺島被尋獲。附圖為馬航事件的搜尋區域示意圖，請問：飛機殘骸漂流的海域為何？(A) 太平洋 (B) 大西洋 (C) 印度洋 (D) 地中海



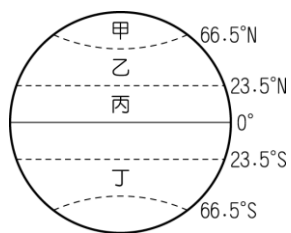
- 16.() 下列何者為世界貿易組織的縮寫，其主旨在解決世界各國間的貿易爭端及障礙？(A) APEC (B) EU (C) WTO (D) WHO。
- 17.() 北極海因為被眾多大陸所環繞，交通地位重要。環繞北極海的陸地不包括下列何者？(A) 歐洲 (B) 非洲 (C) 亞洲 (D) 北美洲。
- 18.() 附圖為大洋洲的簡圖，其中甲、乙、丙分別為三大島群，而 A、B 代表其分界線。請問：A 界線與下列哪一條線相符？(A) 赤道 (B) 本初經線 (C) 180 度經線 (D) 北回歸線。
- 19.() 承上題地圖，下列哪一個島嶼位於「丙」島群？(A) 關島 (B) 帛琉 (C) 所羅門群島 (D) 復活節島。
- 20.() 彥文計畫到南極洲探險，路線是由附圖中的甲點出發，直線前進經乙點至丙點。根據圖中經緯座標系統判斷，下列對他前進方向的敘述，何者正確？(A) 從甲點至乙點為向南前進 (B) 從甲點至乙點為向東前進 (C) 從乙點至丙點為向南前進 (D) 從乙點至丙點為向東前進。
- 21.() 請問：若非洲及南美洲的熱帶雨林地區發生森林大火，下列哪一項商品的國際價格將會大幅波動？(A) 小麥 (B) 稻米 (C) 咖啡 (D) 針葉林。
- 22.() 已開發國家受到下列哪些因素的影響，經常由其他開發中國家引進外籍勞工，形成跨國的勞工移動現象？(甲) 素質不佳 (乙) 死亡率高 (丙) 工資過高 (丁) 人口老化 (A) 甲乙 (B) 丙丁 (C) 甲丙 (D) 乙丁。
- 23.() 目前全球的水資源短缺日趨嚴重，下列哪一種措施對於解決水資源不足的情況有其必要性？(A) 引用河水 (B) 節約用水 (C) 抽地下水 (D) 雪水融化
- 24.() 請問：亞太經濟合作會議的會員國為分布於下列何處周遭的國家？(A) 歐洲 (B) 非洲 (C) 印度洋 (D) 太平洋。
- 25.() 亞斯文高壩興建後帶來的影響，下列敘述何者正確？(甲) 淹沒部分古蹟 (乙) 下游水量減少 (丙) 土壤沃度降低 (丁) 河口三角洲面積變大 (戊) 減少水旱災發生 (己) 灌溉面積變大，收穫次數增加 (A) 甲乙丙丁戊 (B) 甲乙丁戊己 (C) 乙丙丁戊己 (D) 甲乙丙戊己



【背面尚有試題，請翻頁作答】

- 26.()臺灣的超級馬拉松好手曾經前往南極地區參賽，克服了惡劣的自然環境，終於挑戰成功。請問：南極地區主要的地形為何？
(A)平原 (B)山地 (C)盆地 (D)高原。

- 27.()極光為地球上相當特殊的自然景觀，這種特殊的景觀最常出現在附圖中哪一個地區？
(A)甲(B)乙(C)丙(D)丁。



- 28.()附表為某種環境問題在各個地區造成的影響，該環境問題持續惡化後，最可能出現下列何種現象？

地區	影響
喜馬拉雅山區	冰河逐漸消退
熱帶海域	大量珊瑚白化
北極地區	部分動物棲息地減少
溫帶地區	出現熱帶地區常見的傳染病

- (A)海水淹沒沿海低窪地區 (B)兩極地區海水鹽度上升 (C)沿海地區地層下陷嚴重 (D)高緯區可耕地面積減少。
- 29.()大洋洲以熱帶氣候為主，這和下列何種地理條件的關係最為直接？(A)位於國際換日線兩側 (B)位於世界最大海洋上 (C)位於南、北回歸線之間 (D)位於亞洲大陸東側地區。

- 30.()附圖為澳洲的氣候類型分布圖，圖中哪一個地區的氣候特色終年皆受到副熱帶高氣壓的影響？
(A)甲 (B)乙 (C)丙 (D)丁。



二、整合題：每題 2 分，共 40 分

- (一)非洲大陸素有「神祕大陸」之稱，因為對外交通的不便，導致該地區蒙上一層神祕面紗。請問：

- 31.()北非為著名的古文明發源地，但其他地區卻不為人知，開發甚晚。請問：阻隔北非文化向南傳播的原因為下列何者？(A)高大山脈 (B)廣大沙漠 (C)茂密熱帶雨林 (D)火山活動。
- 32.()北非最早藉由北部海域和其他地區進行文化交流，所以與非洲其他地區的文化明顯不同。請問：和北非文化交流最頻繁的地區為下列何處？(A)拉丁美洲 (B)印度半島 (C)南歐地區 (D)北美東岸。
- 33.()北非境內人口集中的地區，以從事下列何種農業活動為主？(A)游耕 (B)灌溉農業 (C)混合農業 (D)熱帶栽培業。

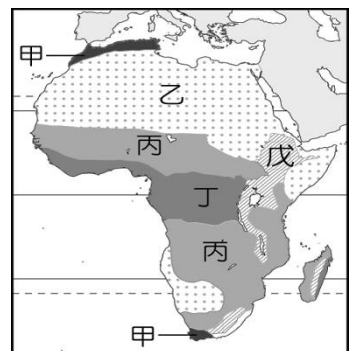
(二)兩極地區是指南、北極圈內的區域，請問：

- 34.()阿良到南極探險，並記錄下在南極的所見所聞。請問：下列敘述何者正確？(甲)以海洋為中心(乙)終年乾冷、風勢強勁，沿途可看到許多壯麗的冰河地形(丙)還可看到企鵝和正從事科學研究的科學家(丁)最後遇到幾個當地原住民—因紐特人熱情招待
(A)甲乙 (B)甲丁 (C)乙丙 (D)丙丁。
- 35.()由下列何地前往南極洲的距離會最近？
(A)阿根廷 (B)紐西蘭 (C)澳洲 (D)南非共和國。
- 36.()北極圈附近的陸塊和南極洲大多呈現「寒漠」景觀，這與哪一自然因素有密切關係？(A)氣溫偏低，蒸發微弱 (B)土質堅硬，寸草難生 (C)風力強勁，侵蝕旺盛 (D)涼流經過，乾燥少雨。
- 37.()北極圈內的國家競相爭取北極海的開發權，事實說明北極亟為重要，下列何者不是爭取的原因？
(A)蘊藏豐富農產 (B)戰略地位重要 (C)重要交通要道 (D)礦藏資源豐富。

- 38.()若要從美國阿拉斯加飛往北歐，以飛越哪一個地方最符合大圓航線，降低飛航成本？
(A)加拿大 (B)太平洋 (C)大西洋 (D)北極海

(三)附圖為非洲的氣候區圖，請回答下列問題：

- 39.()圖中哪一個氣候區的氣候特徵，受地形影響最大？
(A)乙 (B)丙 (C)丁 (D)戊。
- 40.()圖中哪一氣候區夏季乾熱、冬季暖溼，日照充足且氣候宜人？(A)甲 (B)乙 (C)丙 (D)丁



- 41.()小宜參加非洲野生動物追尋之旅，在一望無際的大草原上見識到難得一見的動物遷徙景觀。請問：這些動物主要棲息於圖中哪一區？(A)甲 (B)乙 (C)丙 (D)丁。
- 42.()圖中「乙」區有世界上最大的沙漠—撒哈拉沙漠，其形成的主要原因為何？(A)高山環繞，焚風出現頻仍 (B)沿岸海域有暖流經過 (C)距海遙遠，水氣難以深入 (D)副熱帶高氣壓籠罩。
- 43.()圖中「丁」區的剛果盆地，其主要降雨類型為何？
(A)對流雨 (B)地形雨 (C)鋒面雨 (D)梅雨。

(四)「茉莉花革命發生於 2010 年末至 2011 年初，起因於非洲突尼西亞一名水果攤販的自殺事件，而引爆了民眾長期累積的不滿情緒，人民上街示威，2011 年 1 月統治突尼西亞 23 年的總統班阿里倉皇流亡海外，此革命因茉莉花為其國花而得名，堪稱『○○○世界』近代第一場人民革命。不久，這把火延燒到鄰近的埃及，將獨裁統治 30 年的穆巴拉克推翻。之後利比亞、阿爾及利亞等國，也效法其示威抗議行動。」
(資料來源：改寫自《聯合報》，記者田思怡，2011 年 1 月 16 日) 閱讀完上文，請回答下列問題：

- 44.()茉莉花革命的發生，也影響到國際油價。請問：油輪從西亞紅海開往歐洲地中海必須經過何地？
(A)巴拿馬運河 (B)蘇伊士運河 (C)麻六甲海峽 (D)直布羅陀海峽。
- 45.()文中所述的國家位於非洲何處？(A)北部非洲 (B)西部非洲 (C)中部非洲 (D)東部非洲。
- 46.()文中「○○○世界」是指下列何者？
(A)日耳曼 (B)斯拉夫 (C)伊斯蘭 (D)布希曼
- (五)「澳洲為褐色大陸，紐西蘭為綠色島嶼」，此差異乃受氣候因素所致，請問：
- 47.()澳洲境內的氣候類型相當多樣化，其中乾溼分明的熱帶莽原氣候主要分布於下列何處？(A)西部高原 (B)東南沿海平原 (C)西部高原 (D)北部海灣
- 48.()澳洲中、西部地區大部分氣候乾燥，主要原因為何？
(甲)終年受西風吹拂 (乙)背東南信風 (丙)迎東南信風 (丁)副熱帶高氣壓籠罩 (戊)受行星風帶隨季節移動影響，正確的是：
(A)甲乙 (B)乙丁 (C)丙戊 (D)甲戊。
- 49.()澳洲東部沿海為夏雨型暖溫帶氣候，氣候溫和濕潤，是人口及都市的主要集中地，下列何者是形成此氣候的主要原因？(A)終年西風吹拂 (B)迎東南季風 (C)迎東南信風 (D)副熱帶高氣壓籠罩
- 50.()紐西蘭全年溫和溼潤，主要原因為何？
(A)終年西風吹拂 (B)背東南信風 (C)迎東南信風 (D)受行星風帶隨季節移動影響。

【試題結束】