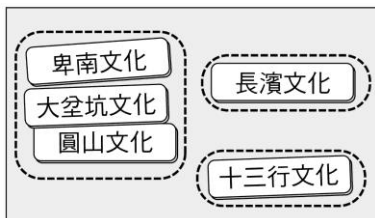


一、單題：84%(每題 3 分)

( ) 1. 研究臺灣最早的舊石器時代文化遺址，並記錄該文化的特色。請問：在記述中，應該不會出現下列何種內容？ (A) 這個史前文化為長濱文化 (B) 這個文化已有干欄式住屋 (C) 當時的人已知用火 (D) 當時的人以採集、漁獵等方式維生。

( ) 2. 老師將學生分成三組上臺報告，三組的主題內容如右圖所示，從圖中內容判斷，老師分組的依據為何？



(A) 是否已飼養家畜  
(B) 遺址的區域分布  
(C) 原住民的傳說  
(D) 器具的製作方式和材質

( ) 3. 考古學家在北部地區進行考古挖掘，根據文化層的概念，下列哪個地層中，史前文化遺物呈現的方式最為正確？

(A)	(B)	(C)	(D)
十三行文化	大坌坑文化	圓山文化	大坌坑文化
圓山文化	圓山文化	大坌坑文化	十三行文化
大坌坑文化	十三行文化	十三行文化	圓山文化

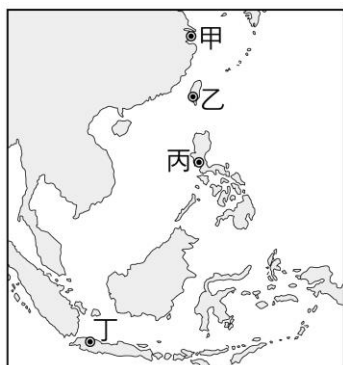
( ) 4. 宇恩參與一處史前文化的挖掘工作，發現遺址裡有石器、人類遺骸、動物骨骼，用火後殘留的灰燼等。請問：宇恩該從何處著手，以快速分辨遺址屬於舊石器或新石器時代？ (A) 石器的製作方式 (B) 遺骸的分布情形 (C) 動物的種類 (D) 灰燼的多寡。

( ) 5. 為考驗學生對新石器時代的遺址分布，以及文化特色的了解程度，老師抽點學生發表意見。請問：下列說法何者正確？ (A) 當時的石器製作方式以打製為主 (B) 考古學家在八仙洞遺址發現陶器 (C) 當時已開始農耕定居生活 (D) 長濱文化是該時期的代表文化之一。

( ) 6. 瑞陽在閱讀一本介紹史前文化的雜誌，雜誌中對臺灣的新石器時代介紹頗為詳細。請問：下列哪種「非」屬於臺灣新石器晚期的文物？ (A) 陪葬的玉飾 (B) 粗繩紋陶器的殘片 (C) 貝塚 (D) 石板棺。

( ) 7. 在十三行文化遺址中，考古學家發現鐵渣、銅錢、玻璃手環等，從這些出土文物判斷，該文化最有可能屬於下列哪個時期？ (A) 舊石器時代 (B) 新石器時代早期 (C) 新石器時代晚期 (D) 金屬器時代。

( ) 8. 十六世紀左右，歐洲國家開始陸續經由海路到東方探險、殖民。其荷蘭到東方之後，以右圖中的何處為主要貿易據點？

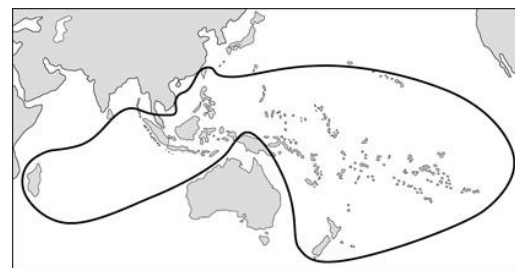


(A) 甲 (B) 乙  
(C) 丙 (D) 丁。

( ) 9. 史前時代沒有文字的記載，所以請問：史前文化的命名，下列何者為是？ (A) 以發現該遺址者的名字 (B) 從首先發現遺址中的較小地名 (C) 由學者專家選定 (D) 由政府官方訂定。

( ) 10. 荷蘭聯合東印度公司為了獲取臺灣的經濟利益，除了引進新式作物、大量招募漢人開墾土地之外，也將臺灣特產外銷至中國、日本和東南亞等地，為聯合東印度公司帶來龐大利益。但下列何者並非當時臺灣外銷的特產之一？ (A) 鹿皮 (B) 稻米 (C) 蔗糖 (D) 香料。

( ) 11. 小昱為自己的歷史報告找了右圖搭配說明，從圖中的資訊判斷，小昱的報告主題最可能為何者？



(A) 海商活動範圍圖 (B) 華人分布地圖  
(C) 南島語族分布圖 (D) 臺灣對外貿易圖。

( ) 12. 中華人民共和國在 1999 年正式收回澳門，結束澳門 400 多年的被殖民歷史，請問：中華人民共和國是從哪一國家手中收回澳門的主權？ (A) 英國 (B) 西班牙 (C) 日本 (D) 葡萄牙

( ) 13. 十七世紀初，臺灣成為中國海商活動的主要範圍，此時期海商首領曾帶領民眾來到臺灣，除了海上走私之外，也從事開墾工作。上文中提及的「首領」最可能是下列何者？ (A) 鄭經 (B) 郭懷一 (C) 沈有容 (D) 顏思齊。

( ) 14. 十七世紀時荷蘭在亞洲發展的情況，下列敘述何者正確？ (A) 對待在臺灣的漢人相當寬容 (B) 與西班牙因為徵稅問題發生嚴重的衝突 (C) 在大員(安平區)建商業市街 (D) 在日本鎖國時期仍可與日本合法貿易。

( ) 15. 自鄭芝龍開始綿延數代的鄭家勢力，不但在十七世紀的東亞引領風騷，還曾在臺灣建立鄭氏政權。請問：下列關於鄭氏家族的敘述，何者為「非」？ (A) 鄭芝龍與鄭成功父子政治立場一致，都堅定反對清帝國 (B) 鄭芝龍在東亞海上競爭時，曾被荷蘭人聯合其他海商集團攻打 (C) 17 世紀中期，荷蘭人因明、清政權更替，貿易遽衰 (D) 鄭成功以金門、廈門為根據地反清。

( ) 16. 育瑋是泰雅族的一分子，所以對自身族群的傳說、起源與神話很感興趣，常向族裡的長輩請益這方面的知識。請問：下列長輩所說內容何者為「是」？ (A) 臺東縣鹿野鄉為我們族群的起源地 (B) 我們的族群因洪水淹沒陸地而向山上遷徙 (C) 傳說我們祖先是南投仁愛鄉岩石中誕生 (D) 屏東縣滿州鄉的瑞穗部落，是我們泰雅族聖地。

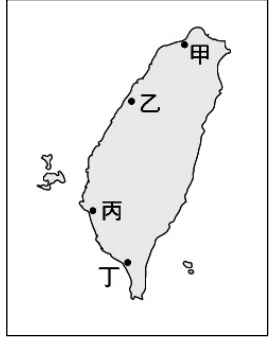
( ) 17. 「……從傳說中，反映出因為洪水淹沒家園，導致他們的族人向高山遷徙避難……洪水退去，族人再重返家園。」由上述可知：這應該是指下列哪一個族群？ (A) 泰雅族 (B) 布農族 (C) 西拉雅族 (D) 凱達格蘭族。

- ( )18.新航路發現後，歐洲人陸續東來亞洲。其中，葡萄牙人於下列何處建立據點，展開在東亞的貿易與傳教？ (A)馬尼拉 (B)巴達維亞 (C)澳門 (D)長崎。
- ( )19.若用「郭懷一」作為歷史報告的主題，主題名稱選擇下列何者最為合適？ (A)率眾反抗荷人統治的領袖 (B)十七世紀稱霸東亞的海商 (C)輔佐鄭氏政權的軍師 (D)建孔廟、興文教，使漢人典章制度移入台灣。
- ( )20.西元 1662 年，荷蘭撤離台灣後，轉而與哪個政權合作，共同對抗鄭氏政權？ (A) 清帝國 (B) 明帝國 (C) 元帝國 (D) 唐帝國。
- ( )21.十六至十七世紀，歐洲國家派船隊到世界各地探險。某國為治理臺灣，針對經濟方面列出如右重點。根據內容判斷，提出的是下列哪個國家？ (A)英國 (B)葡萄牙 (C)西班牙 (D)荷蘭。
- 1.招募漢人，發展農業
  - 2.發展國際貿易轉運站
  - 3.開徵各種苛捐雜稅
- ( )22.台灣原住民族群都有「特有」的生活文化，下列敘述何者為「非」？ (A) 飛魚祭是達悟族獨特的祭典 (B) 阿美族人口最多，以豐年祭歌舞有名 (C) 排灣族將祀壺信仰象徵祖靈的存在 (D) 矮靈祭是賽夏族最神秘的祭典。
- ( )23.鄭氏在臺時期，軍隊在駐紮地屯墾，農暇時則從事軍事訓練，戰爭時可直接投入作戰。請問：鄭氏當時在臺灣實施軍屯的主要原因為下列何者？ (A)解決糧食問題 (B)出口農產品以賺取利益 (C)發展走私貿易 (D)地方爭鬥嚴重。
- ( )24.不同時期的臺灣史前文化特色各有不同。下列何者敘述的是「卑南文化」的特色？ (A)出土煉鐵作坊遺跡 (B) 出土石板棺和陪葬玉器 (C)發現居住的洞穴和打製石器 (D)發現外來的玻璃手環。
- ( )25.古籍中的大員、高砂等名稱，皆指臺灣，其中稱呼臺灣原住民族為「高砂族」的國家，應該是下列何者？ (A)荷蘭 (B)葡萄牙 (C)西班牙 (D)日本。
- ( )26.鄭氏為建立反清復明的新基地，遂攻取臺灣。鄭成功親自率軍出征，從○○登陸，最後成功驅離荷蘭人。請問：空格中應為下列何者？ (A)鹿耳門 (B)鹿港 (C)雞籠 (D)淡水。
- ( )27.這個史前文化最早在臺北盆地被發現，遺址中挖掘出大量農具與丟棄的貝殼。這個文化應指右圖中的何者？
- 
- (A)甲 (B)乙 (C)丙 (D)丁。
- ( )28.右圖是臺灣某個史前文化遺址出土的人獸形玉質耳飾，如果想前往此玉器出土的地點，應該前往地圖中的何處？
- 
- (A)甲 (B)乙 (C)丙 (D)丁。

二、題組：16%(每題 2 分)

(一)自宋代以來，台灣即有漢人居住，元代也曾設置巡檢司，到了十四世紀，明朝政府開始在沿海地區施行海禁政策，以致於臺灣逐漸淪為海盜活動與走私的根據地。西元 1624 年荷蘭進占臺灣，成為最先占領臺灣的歐洲國家，也建城作為政治中心。而西班牙為了與荷蘭競爭，在西元 1626 年後陸續占領臺灣，並且在臺灣宣揚宗教信仰。西元 1642 年荷蘭驅離西班牙，全力發展在臺灣的殖民事業。請回答下列問題：

- ( )29. 荷蘭在臺時期，以右圖中何處為根據地，建立統治中心與商業市街？ (A)甲 (B)乙 (C)丙 (D)丁。
- ( )30.荷蘭人進占臺灣後，不久，西班牙人也隨之入臺，與荷對峙長達十六年。請問：西班牙人遭到荷蘭人驅離的關鍵因素，應為下列何者？ (A)西班牙的科技文明不敵荷蘭 (B)遭到荷、明聯軍夾攻 (C)因為日本鎖國政策影響，對日貿易受挫，駐軍減少 (D)宗教信仰不同，互相攻擊。
- ( )31.文中提及荷蘭進占臺灣後，曾建城作為政治中心，這應該是指下列哪個城堡？ (A)聖多明哥城 (B)熱蘭遮城 (C)聖薩爾瓦多城 (D)普羅民遮城。
- ( )32.荷蘭與西班牙等歐洲國家，於十七世紀開始陸續進占臺灣地區，並積極建設。當時荷蘭與西班牙占領並建設臺灣的主要目的為何？ (A)將臺灣作為國際貿易轉運站 (B)讓本國居民大量移居臺灣 (C)以臺灣為戰略基地欲與中國相抗衡 (D)見臺灣居民生活水準落後，欲提升其水平。



(二)凱凱的好朋友喬治，是一位從美國來的交換學生。凱凱為了讓喬治知道臺灣的歷史文化，在今年暑假特別安排一趟史蹟的實地探索，希望藉由史蹟之旅，讓喬治更了解臺灣。請回答下列問題：

- ( )33.凱凱帶著喬治從臺北出發，首先來到甲站，在這個地方可能參觀哪個新石器時代的遺跡？ (A)圓山文化 (B)卑南文化 (C)長濱文化 (D)十三行文化。
- ( )34.承上題，凱凱和喬治到達乙站，查看資料後得知：乙站這個地區曾經被歐洲國家占領，並且築城。請問：最早是哪個歐洲國家占領此地？ (A)荷蘭 (B)西班牙 (C)日本 (D)英國。
- ( )35.為了見證歷史，凱凱帶著喬治前往丙地的景點，從殘存的城牆遺跡中，憑弔大員一帶在大航海時代的榮光。請問：她們去的應該是下列哪個景點？ (A)紅毛城 (B)赤崁樓 (C)安平古堡 (D)孔廟。
- ( )36.在朋友的建議下，凱凱帶著喬治前往丁地的天后宮，由廟中保存的紀念碑碑文，了解明朝將領逼退欲占領澎湖的荷蘭人的那段歷史。請問：這位將領應是何人？ (A)李旦 (B)沈有容 (C)顏思齊 (D)郭懷一。



一年級歷史（第一次段考）答案

一、單題：84分（每題3分）

題號	答案
1-10	BDAAC BDDBD
11-20	CDDDA CBCAA
21-28	DCABD ABD

二、題組：16分（每題2分）

題號	答案
29-36	CCBAA BCB