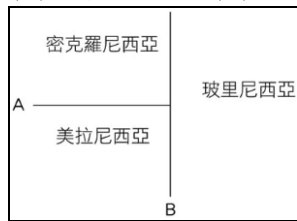


單選題(1-10 題每題 3 分，11-38 題每題 2.5 分)

1. () 南島語族是世界唯一主要分布在島嶼上的語系，目前約有 4 億人使用南島語。請問：南島語族大多分布在哪些洋面的島嶼上？(甲)太平洋 (乙)大西洋 (丙)印度洋 (丁)北極海 (A)甲丙 (B)乙丁 (C)乙丙 (D)丙丁。
2. () 附圖為大洋洲的簡圖，圖中 A、B 代表其分界線。請問：A 界線大致與下列哪一條線相符？(A)赤道 (B)本初經線 (C)國際換日線 (D)北回歸線。



3. () 好萊塢電影明星巨石強森本身就有薩摩亞的血統，經常在電影中納入自己的文化特色。他在電影《玩命關頭 8》中大跳「哈卡舞」，這種舞蹈緣起於玻里尼西亞，是一種動作、拍打配以叫嚷和哼聲的團體舞蹈，包括在紐西蘭、薩摩亞等地都很有名。請問：以上流行「哈卡舞」的地區在地理環境上具有以下哪一項特徵？(A)為分布在大西洋上的島嶼 (B)地處年溫差大的氣候帶 (C)為南島語族的分布地 (D)當地產業多以重工業為主。
4. () 某島國距離澳洲不遠，但是卻與澳洲有近一天的時差，該島國為了減少與澳洲貿易上的困擾，在 2012 年調整時區，調整後該島與澳洲只剩 3 小時的時差。請問該島國應該位於下列何處？(A)南美洲 (B)非洲 (C)北美洲 (D)大洋洲。
5. () 大洋洲的諸多島嶼，其地勢高低與面積大小各有不同，有些面積較小且低平，有些則面積較大且地勢較高。請問：上述這些島嶼特性主要會影響到下列哪一種人文特色的展現？(A)產業活動 (B)宗教信仰 (C)海運航線 (D)族群語言。
6. () 「大洋洲的島國吐瓦魯，由於資源貧乏，農業落後，幾乎無工業發展，但漁業資源豐富，主要產業為捕魚業及旅遊業。由於其地勢極低，全球暖化造成的海平面上升對吐瓦魯造成嚴峻威脅，使得國家的平地面積日漸縮少。」請問：根據文中敘述，吐瓦魯最有可能屬於下列哪一種島嶼成因？(A)大陸島 (B)火山島 (C)珊瑚礁島 (D)人工島。
7. () 觀光業是目前大洋洲三大島群諸多小島的重要經濟來源，這些島嶼國家或地區能吸引遊客的觀光資源最不可能包括下列何者？(A)絢麗多彩的極光現象 (B)壯麗的火山熔岩活動 (C)景色優美的珊瑚礁島 (D)海洋浮潛水上活動
8. () 紐西蘭雖地廣人稀，但人口分布不均，全境約 480 萬的人口中，約有 153 萬人住在北島的奧克蘭，這讓奧克蘭看起來是稍微擁擠的城市。請問：紐西蘭北島人口數量較多的主要原因為何？(A)地震較少，降水豐沛 (B)緯度較低，氣候較暖 (C)礦產開發，所得較高 (D)鐵路密集，交通便利。



9. () 附圖中的冰河地形景觀——峽灣海岸，除了可以在歐洲欣賞到之外，下列哪一個地區亦有相似的地形？(A)臺灣 (B)帛琉 (C)夏威夷 (D)紐西蘭南島。

10. () 阿妹在臺東國立臺灣史前文化博物館參觀南島民族廳的主題資料，了解臺灣的原住民族與南島語族之間的相關性。請問：下列有關南島語族的敘述，何者正確？

- (A)南島語族僅在島嶼上從事農耕活動 (B)南島語族的族群大致已全部消失 (C)南島語族約在 400 年前移居至臺灣 (D)臺灣是南島語族地理分布的最北端。
11. () 小萱從事觀光旅遊規劃工作，公司請他規劃紐西蘭的旅遊行程，她可以從以下那些景觀著手？(甲)陡峭的高山 (乙)冰河地形 (丙)沙漠景觀 (丁)火山地形 (戊)珊瑚礁生態系 (A)甲乙丙 (B)甲乙丁 (C)乙丙丁 (D)丙丁戊。
12. () 「紐西蘭肉牛特有的天然粗放放牧方式，比其他餵穀物的一般牛肉少油花、低脂肪。」畜牧業是紐西蘭重點產業，與下列哪一個原因最相關？(A)人口稀少、勞力缺乏 (B)經濟貧困、資金不足 (C)缺乏種植穀物的技術 (D)乾燥氣候區面積廣大。
13. () 「紐西蘭的畜牧業相當發達，每年生產大量的鮮乳，但是當地酪農場所生產的鮮乳僅 9% 供當地消費，91% 則須進一步加工，才能銷往全球市場。」上文所描述的現象與該國哪一項特徵最相關？(A)歐裔居多 (B)距離歐、亞主要市場較遠 (C)山地高聳 (D)氣候溫溼。
14. () 從紐西蘭的緯度和盛行風向來看，當地主要的氣候型態為何？(A)溫帶地中海型氣候 (B)草原氣候 (C)溫帶海洋性氣候 (D)夏雨型暖溫帶氣候。
15. () 紐西蘭全黑隊是橄欖球國際賽的常勝軍，除了其剽悍的球風外，開賽前該隊會來一段紐西蘭原住民族的「戰舞」以提升士氣，成為全黑隊的特色。請問：紐西蘭的原住民為下列哪一個民族？(A)毛利人 (B)吉普賽人 (C)印第安人 (D)因紐特人。
16. () 紐西蘭新鮮蔬果類的產品，多出口至北半球國家，其出口至北半球國家的優勢為何？(A)與北半球有時區差異 (B)北半球國家沒有生產類似蔬果產品 (C)與北半球產季相反 (D)距離北半球主要市場近。

【題組】西元 2019 年 12 月一則關於紐西蘭的報導：「白島距離紐西蘭北島海岸約 48 公里，火山在當地時間 9 日下午 2 時 11 分噴發，從火山口噴出的大量火山碎屑、火山灰與高溫蒸氣，在短短幾十秒內壟罩全島，並竄上了 3,650 多公尺的高空。由於白島擁有紐西蘭最大、地形景觀最壯麗的火山錐，噴發當下仍有許多登島遊覽的國際觀光客，因此才會造成嚴重死傷。」請回答 17-19 題

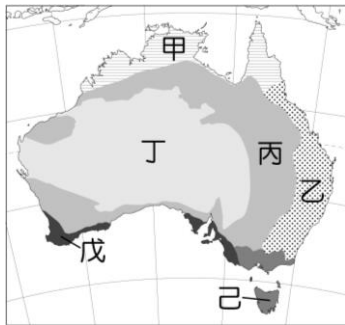
17. () 該則火山爆發新聞報導時，正值紐西蘭的哪一個季節？(A)春 (B)夏 (C)秋 (D)冬。
18. () 白島的自然環境最可能具有下列哪一項特色？(A)位處西風帶 (B)位處赤道附近 (C)1 月均溫 0°C 等溫線經過 (D)年降水量約 250 毫米。
19. () 紐西蘭多火山與下列哪一項自然環境特徵關係最密切？(A)位居東半球、南半球 (B)位居海陸交會位置 (C)位居歐亞非三洲接觸帶 (D)位居環太平洋地震帶上。
20. () 澳洲的地形可以明顯分成三部分，其中西部的地形區占了全國面積三分之二，從東向西直抵印度洋海岸，寬約 2,250 公里，以巨大堅硬的花崗岩構成。請問：澳洲西部的地形以下列何者為主？(A)山地 (B)平原 (C)高原 (D)盆地。
21. () 「為了減緩珊瑚白化的情形，澳洲科學家於西元 2020 年 3 月底在大堡礁展開測試，使用類似滑雪場噴出冰晶的雪炮向天空噴射鹽晶令雲朵變亮，從而提升反射陽光的能力，使雲層下的海水降溫，希望可以藉此延緩珊瑚白化，初步結果令人鼓舞。」請問：



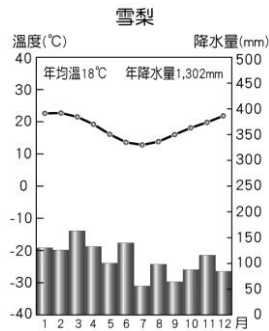
上述新聞中提及活動施行的地區，位於附圖中哪一海域附近？(A)甲 (B)乙 (C)丙 (D)丁。

22. () 澳洲有褐色大陸之稱，意即澳洲內陸有廣大的乾燥地帶，植物覆蓋率低。請問澳洲的乾燥環境與下列哪一因素最不相關？(A)副熱帶高壓壟罩 (B)信風背風側 (C)涼流流經 (D)距海遙遠。

23. () 夏乾冬雨的氣候特色特別適合葡萄、柑橘類水果的種植，也因此往往在這樣的氣候區會出現紅酒產業的發展。附圖是澳洲的氣候分布圖，依上述推斷，若要尋找澳洲的紅酒酒莊應該優先查看哪一地區？(A)甲 (B)乙 (C)丙 (D)戊。



24. () 附圖為雪梨氣候圖，氣候特徵為年溫差小、降水豐沛，是澳洲人口聚集的精華區。請問：形成該氣候的原因為何？(甲)沿岸有東澳暖流經過 (乙)沿岸有西澳涼流經過 (丙)中央有南回歸線橫貫 (丁)終年西風吹拂 (戊)面迎東南信風。(A)甲丁 (B)甲戊 (C)乙丁 (D)丙戊。



25. () 礦產豐富是澳洲發展工業最有利的條件，此與下列哪一項因素的關係最密切？(A)開採技術進步 (B)英國殖民背景 (C)地質古老 (D)勞工充裕。
26. () 「目前已知的有袋類大約有 334 個物種，其中超過 200 種生活於澳洲及其附近島嶼。此外，澳洲也還有其他特殊的動植物生態系統」下列何者是形成這種現象的主要因素？(A)地質古老而資源豐富 (B)四面環海與各大陸隔絕 (C)熱帶沙漠面積廣大難以進入 (D)大分水嶺阻隔東西交通。

27. () 附圖(一)為澳洲國旗，圖(二)為紐西蘭國旗。觀察兩國國旗可發現，都是藍底搭配左上角米字旗的設計，僅旗面上星星的顏色和角度不同；紐西蘭總理曾控訴澳洲抄襲他們的國旗設計，應該更換。由旗面資訊判斷，澳、紐兩國的國旗如此相似的原因為何？(A)皆地處西風帶 (B)皆位於東半球 (C)皆曾被英國殖民 (D)皆加入亞太經濟合作會議。



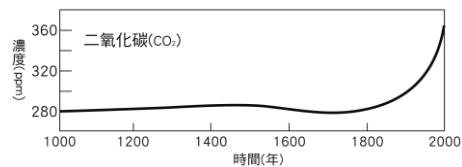
圖(一)

圖(二)

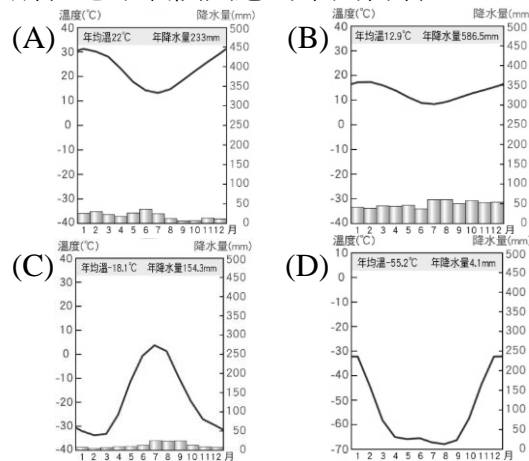
28. () 南極地區與北極地區皆處於極圈內，但南極的氣溫卻比北極低，造成此現象的主要原因為何？(A)南極為一完整大陸且地勢較高 (B)南極的人口較稀少 (C)南極較不受地球暖化的影響 (D)南極的降水較多。
29. () 下列對於南極地區的敘述，何者錯誤？(A)以高原地形為主體 (B)為全球最低溫的地區 (C)原住民族為因紐特人 (D)其主權不屬於任何國家。
30. () 近年來，因為全球暖化使得北極融冰現象更加嚴重，尤其在夏季北極海的通航範圍不斷擴大，藉由此海域的航線比起傳統的跨洲航運可縮短較多的里程，但下列何種航段最不必要經由北極海地區？(A)大洋洲的澳洲——亞洲的中國 (B)歐洲的英國——亞洲的日本 (C)北美洲的美國阿拉斯加——歐洲的俄羅斯 (D)歐洲北部的挪威——亞洲的俄羅斯。

31. () 附圖為近千年來全球二氧化碳濃度的變化情形。

從圖可看出十九世紀以來，二氧化碳的濃度大幅增加，此情形與下列哪一項因素關係最密切？(A)紫外線的增加 (B)種植大量樹林 (C)臭氧層破壞 (D)煤和石油的大量使用。



32. () 阿敏在新聞網站查閱到以下報導：「澳洲政府近期在南極開放了約 150 個職缺，召集各地人才一起到南極研究中心工作，最高薪資可達 600 萬臺幣，心動不如馬上行動！」依據新聞內容判斷，獲選上述職缺的工作所在地點氣候圖應為下列何者？



33. () 大洋洲大部分的島嶼地勢低平，四周海域遼闊。近年來全球氣候變遷，使得兩極冰山融化，對大洋洲直接產生的影響為何？(A)作物生長季改變，面臨缺糧 (B)地層下陷 (C)海平面上升，淹沒部分土地 (D)河川侵蝕加劇。

【題組】附圖為澳洲的農牧業分布圖。甲~己代表不同的土地使用分區。請 34-36 題

34. () 丙區為澳洲酪農業分布區域，其分布主要受下列何項因素影響？(A)河川流量 (B)年降水量 (C)城市位置 (D)年均溫。



35. () 戊、丁兩區位於澳洲乾燥地帶，但卻能經營羊隻畜牧與小麥種植，這與當地的何種特殊條件有關？(A)地下水豐沛 (B)夏季陽光充足 (C)坎井遍布 (D)由東岸跨域引水。
36. () 澳洲的農牧區常藉由大量國際移工協助當地產業發展，主要原因為何？(A)地廣人稀 (B)外交需求 (C)氣候限制 (D)經貿協議。

【題組】澳洲目前為全球第 20 大貿易國，對外貿易早期重歐輕亞，但目前亞洲已經躍居澳洲對外貿易的首位，占有澳洲外銷市場約 60%；東亞各國(含日本、中國、南韓、臺灣)亦占有澳洲進口市場相當大的比例。澳洲不論是消費品或工業產品大部分均依賴進口，其主要進口產品包括客貨車、電腦、通訊設備、航空器、汽車零配件等工業製品，占進口總值的 70%。請回答 37、38 題

37. () 早期澳洲對外貿易重歐輕亞的主要原因為何？(A)距離亞洲太遠 (B)受歷史背景影響 (C)歐洲人喜愛澳洲產品 (D)加入 APEC 的影響。
38. () 澳洲逐漸將市場重心轉移至亞洲地區主要原因為何？下列哪兩者？(甲)澳、歐間運輸成本昂貴 (乙)澳洲的黃種人逐漸增加 (丙)亞洲經濟發展突飛猛進 (丁)美國為了增強在亞洲勢力刻意引導 (A)甲乙 (B)甲丙 (C)乙丙 (D)丙丁。