

一、 選擇題 (1~10 題, 每題 4 分, 11~30 題, 每題 3 分)

- 烏俄戰爭至今, 似乎演變成持久戰, 許多非政府組織 (NGO), 紛紛化身救援先鋒隊, 挺入前線戰區, 撤離平民。其中 MSF 組織, 與烏克蘭鐵路公司合作, 四月一日將戰爭前線馬立波的重大傷患, 從鄰近的扎波羅熱, 運到西部大城利維夫, 完成首次傷患轉移。請問: 上述新聞中所提及的 MSF 組織所指為何?
(A) 國際綠色和平組織 (B) 國際特赦組織
(C) 世界展望會 (D) 無國界醫生組織。
- 承上題, 烏克蘭國會罕見在社群平台『Telegram』發文, 感謝台灣從俄羅斯全面入侵第一天起, 烏克蘭就得到來自遙遠的台灣支持, 特別提到在台北首都舉辦的『我們都是烏克蘭人』的躺倒『假死抗議』反戰活動, 以及由台灣外交部透過民間勸募超過 9.4 億新台幣賑濟烏克蘭, 提供醫療物資。請問: 上述台灣支援烏克蘭的行動屬於哪一種國際互動模式?
(A) 國際合作 (B) 國際交流
(C) 國際援助 (D) 國際衝突。
- 新北市光復國小為了將國際課程融入教育, 2021 年底與美國加州爾灣雙語國際小學簽訂合作協議備忘錄, 透過網路視訊的方式, 互相介紹自己學校及國家具特色的飲食文化。即使疫情關係無法出國, 但也能藉由視訊方式拓展國際視野。請問: 上述兩校的做法屬於下列哪一種國際互動模式?
(A) 國際合作 (B) 國際交流
(C) 國際援助 (D) 國際衝突。
- 下圖為某基督教人道救援組織辦理『飢餓三十』活動的宣傳海報, 飢餓三十的活動緣起於一群加拿大青年在亞伯達省卡加利市的一所教會, 以饑餓 36 小時為衣索比亞飢民募款, 30 多年後的今天, 已經有上百萬人參加這項飢餓活動。請問: 上述所提到的 NGO 組織所指為何?
(A) 聯合國 (B) 台灣路竹會
(C) 世界展望會 (D) 慈濟基金會



- 小動在做公民科的報告, 主題: 『我國參與國際社會的現況』, 他將重點整理如下:

甲	我國於 1971 年, 退出聯合國, 由中華人民共和國取代
乙	中國主張『一個中國』原則, 使我國在參與國際社會上較為困難
丙	我國與他國展開正式外交關係, 至今無任何邦交國
丁	政府與民間團體仍積極透過各種方式, 參與各項國際活動。

請問: 上述報告內容中哪一項是錯誤的?

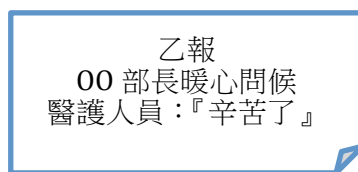
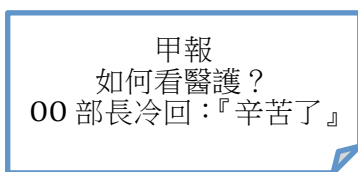
- 2022 年 1 月, 美英兩國在世界衛生組織執行委員會議上, 聲援台灣參與世衛, 美國衛生及公共服務部負責全球事務助理部長佩斯 (Loyce Pace) 表示: 美國感謝台灣在防疫及抗疫所展現的典範, 以及對世界各國的支持, 呼籲世界衛生組織, 在全球因應公共衛生緊急事件時, 應完全接納所有夥伴, 包括台灣。請問: 上述新聞中所提到的『世界衛生組織』, 下列有關該組織的敘述何者正確?
(A) 屬於全球性的政府組織 (B) 組織成立宗旨在維

護世界和平 (C) 台灣曾以『台澎金馬個別關稅領域』的名稱參與世界衛生組織會議 (D) 英文縮寫為『WTO』。

- 芊芊在複習公民時不小心睡著了, 口水弄濕了部分筆記內容 (如右圖), 請問: 弄髒處應填入下列何者?



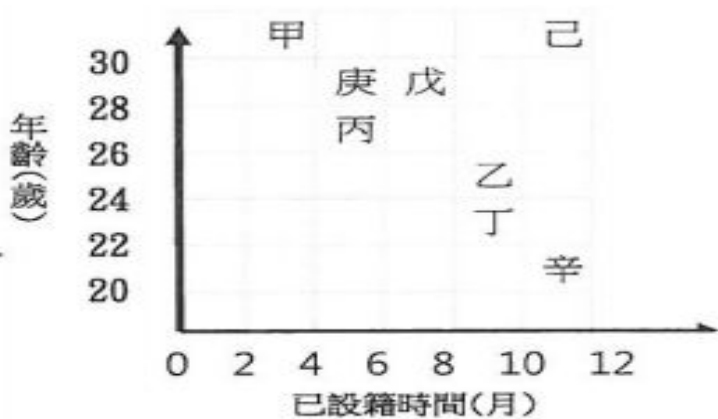
- 弄髒處應填入下列何者?
(A) 世界貿易組織
(B) 東南亞國家協會
(C) 歐盟 (D) 亞太經濟合作會議。
- 台灣路竹會常參與國際事務, 下列有關該組織的敘述, 何者正確?
(A) 屬於全球性的政府組織
(B) 組成醫療服務團隊, 提供義診與醫療援助
(C) 屬於宗教性的民間團體
(D) 透過資助兒童計畫, 改善兒童成長環境並脫離貧窮。
- 小瑜在歷史課本中讀到一段: 「十九世紀以來, 帝國主義的國家透過與他國結盟的方式來壯大實力。至二十世紀初, 逐漸形成德、奧、義『三國同盟』與英、法、俄『三國協約』兩大陣營對抗的局面。」請問: 若以國際互動方式來看, 文中的國家結盟, 應屬於下列何者?
(A) 國際交流 (B) 國際援助
(C) 國際衝突 (D) 國際合作。
- 下列何者在國際社會中扮演最重要的角色?
(A) 國家 (B) 社區 (C) 國際組織 (D) 跨國企業。
- 阿倫在圖書館看報紙時, 發現甲報及乙報對同一事件分別寫出下圖的標題。請問: 身為擁有媒體識讀素養的公民, 應抱持下列何項觀點較為恰當?
(A) 閱聽人應認知媒體有特定立場, 避免被標題誤導
(B) 扭曲事實是媒體報導的常態, 習慣就好
(C) 與政治有關的內容沒有價值, 可直接翻到娛樂版
(D) 最好只讀一份報紙, 以避免收到資訊太亂。



- 布農族獵人王光祿在民國 102 年間, 因持獵槍射殺山羌等保育類動物, 最高法院依『槍砲彈藥刀械管制條例』及『野生動物保護法』判決 3 年 6 個月有期徒刑定讞, 經非常上訴, 裁定申請釋憲。110 年 5 月釋字 803 號解釋出爐, 宣告『槍砲彈藥刀械管制條例』及『野生動物保護法』合憲, 但相關法令部分違憲。原住民族的狩獵傳統, 在現今常因持有獵槍而遭法辦, 使狩獵文化發展受到限制, 應如何解決此問題較佳?
(A) 全面放棄原有傳統狩獵文化 (B) 族人透過部落會議表達意見 (C) 實施絕食抗議向政府施壓 (D) 衝撞法律以維護傳統文化。
- 承上題, 有關於釋憲, 請問依我國法律應由誰來負責解釋憲法、法律及命令? (A) 司法院長 (B) 高等法院法官 (C) 總統 (D) 大法官。
- 藝人大 S 在離婚後三個月與韓國藝人具俊曄再婚, 倘若現任丈夫具俊曄沒有收養大 S 與前夫所生的兩名子女,

請問：上文所述，依據我國民法規定，具俊燁與大S的兩名子女屬於何種親屬關係？(A)旁系血親(B)姻親(C)法定血親(D)沒有關係。

15. 阿祺：「當監察委員通過彈劾案後，會交給我們審理，否則即使是公務人員涉及違法，我們也不能主動對當事人進行審議。」請問：根據阿祺的說法判斷，他任職於下列哪一部門？(A)司法院大法官(B)最高法院法官(C)司法院懲戒法院(D)行政院法務部。
16. 瑞士被稱為世界上最愛公投的國家，1846年開始建立公民投票制度，聯邦議題加上地方議案，瑞士大約每隔一個月就要公投一次，平均投票率約4成。若就我國而言，下列哪一種狀況也會採行公投機制做出決定？(A)追認緊急命令(B)複決領土變更案(C)表決不信任案(D)審理正副總統彈劾案。
17. 承上題，瑞士公投充分展現哪一種精神？(A)直接民主(B)間接民主(C)均權制度(D)權力分立。
18. 2022年11月26日，台灣將舉行九合一地方選舉，戶籍在彰化縣埔心鄉的阿嘜，今年剛滿20歲，終於可以投票了，請問：阿嘜這次投票可以領到幾張選票？(A)9張(B)7張(C)5張(D)3張。
19. 下列8位候選人想要參選2022年的彰化縣縣長，請依據參選年齡及設籍彰化縣時間來判斷，下列何者有參選資格？(A)甲、己(B)丙、戊、庚(C)乙、丁、辛(D)己。



20. 下列資料為「漢摩拉比法典」中部分條文內容，依據我國法律類別判斷，何者相當於現行『刑法』的範圍？(A)若父親生前未承認與奴隸所生子女，則奴隸子女不得與配偶之子同分家產(B)若自由民無法以銀兩償還債務，只能以穀物來償還，債權人必須接受(C)自由民竊取神廟或王宮財務者應被處死，而收受贓物者亦應被處死(D)自由民娶妻時未定契約，則此婦女並非其妻子。
21. 下圖是警察局婦幼警察隊的宣導海報，請問：根據海報內容所示，沒有保護好兒童居家安全的成人，違反下列何項法律？(A)兒童及少年福利與權益保障法(B)家庭暴力防治法(C)少年事件處理法(D)兒童及少年性剝削防制條例。

兒童居家安全要知道

1. 不獨留6歲以下孩童在家，以免發生危險。
2. 應避免讓孩童獨自在廚房、陽台等家中危險區域。
3. 平時教育孩子正確觀念，例如：不隨意幫陌生人開門



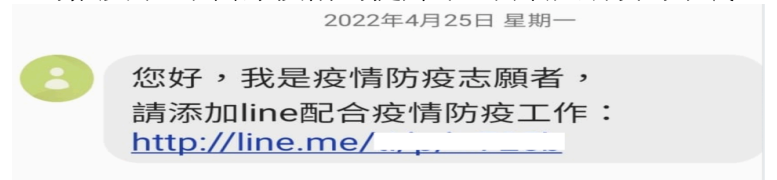
22. 我國中央基於五權分立、相互制衡的理念運作，例如：「不信任案」。請問：上述『不信任案』的運作流程與

下列哪一院無關？(A)行政院(B)立法院(C)監察院(D)總統。

23. 小卉畢業後有甲、乙、丙三個工作機會，將其機會成本製作成右表。若小卉只以薪資為考量，根據表中內容判斷，甲、乙、丙工作的薪資高低為下列何者？

工作	機會成本
甲	乙薪水
乙	丙薪水
丙	丙薪水

- (A) 甲>乙>丙 (B) 乙>丙>甲
(C) 甲>丙>乙 (D) 丙>乙>甲。
24. 鈔票在在中國唐宋時代就發明了，真正全國大量使用專用鈔票則是在元朝，但是元朝即將滅亡的時候，政府為了籌措龐大的軍費，大量印發紙幣，引發惡性通膨。這段時間也是朱元璋加入農民軍隊建立明朝之時。元朝成為史上第一個因為惡性通貨膨脹而滅亡的國家。請問：上述歷史中元朝政府之作為，引發的經濟問題，若在今日社會中持續發生，社會上最有可能出現下列何種現象？(A)同一面額所能購買的商品數量愈來愈多(B)市場上的大部分商品出售價格會愈來愈高(C)人民所擁有的貨幣不斷增加，生活水準日益提升(D)貨幣貶值，有利於進口商品。
25. 近日在手機簡訊瘋傳一則訊息(如下圖)，該傳言也在社群平台流傳，「165反詐騙」專線表示：建議民眾收到不明訊息時，不要打開任何連結，關於疫情相關訊息，可撥打1922專線詢問。請問：依據上則新聞內容判斷，在網路科技發達的時代，假訊息、假新聞氾濫，下列何者更應受到重視？(A)資訊科技的設備(B)生命倫理的推廣(C)醫療技術的提升(D)媒體識讀的素養。



26. 2022年3月25日上百位高中生身穿制服到立法院外，舉辦『Vote for 18~十八歲公民權關鍵一戰』的集會遊行。請問：上文中高中生集會遊行的行為屬於憲法保障的哪一項基本權利？(A)自由權(B)平等權(C)受益權(D)參政權。
27. 承上題，台灣少年權益與福利促進聯盟針對『18歲公民權』做了民調，民調結果顯示：20.2%非常同意，28.4%還算同意，22.7%不太同意，20.4%非常不同意。贊成者多半認為：可以提高年輕人對政治的敏感度，減少民事、刑事責任上的矛盾。但反對者認為：18、19歲心智想法尚未成熟。請問：上述正反兩方意見，凸顯了公共意見的哪一項特性？(A)公開性(B)不穩定性(C)差異性(D)影響性。
28. 承上題，要將投票權下修為18歲，必須先修改憲法，請問：下列修憲程序何者正確？(A)行政院提案--->總統公告--->立法院追認(B)監察院提案--->司法院大法官審查(C)立法院提案--->立法院三讀通過--->總統公告(D)立法院提案三讀--->公告半年--->公民投票表決。
29. 曾昭高在捷運上，遇見長者或行動不便者，都不願意讓位，但他仍不須接受刑罰制裁，這是受到刑法的哪一項原則保障？(A)不溯及既往原則(B)罪刑法定原則(C)依法行政原則(D)權力濫用禁止原則。
30. 下列何者不屬於『行政管制』的範圍？(A)監察院糾舉公務人員(B)核發學生畢業證書(C)違規營業場所勒令歇業(D)向戶政事務所申請改名字為「鮭魚」。