

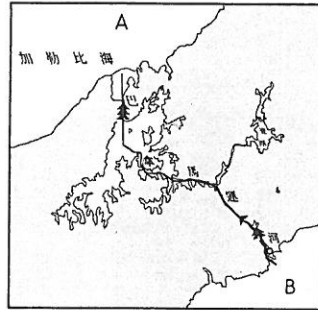
試題卷共三頁 總題數：40 題 (1~20 題：每題 2 分，21~40 題：每題 3 分) 合計 100 分。

請在答案卡上寫出班級、座號、科目、姓名，並正確的以 2B 鉛筆畫出座號與答案。

1、美式文化指的是來自不同地區的移民擁有不同的文化，使美國呈現多元文化的特色，更進一步融合，而產生新的美式文化。例如美國南部的爵士樂，就是哪兩種文化融合的產物？

- (A)美洲、歐洲 (B)印第安、歐洲 (C)非洲、歐洲 (D)拉丁、歐洲

2、右圖為世界唯一的一條聯洋運河巴拿馬運河，請問貨輪若由圖中B往A的方向，可能是開往哪一個國家？



- (A)英國 (B)日本 (C)俄羅斯 (D)紐西蘭

3、目前北美洲主要的族群中，以哪一族群人數最多？

- (A)亞裔 (B)印第安 (C)拉丁美洲裔 (D)歐裔白人

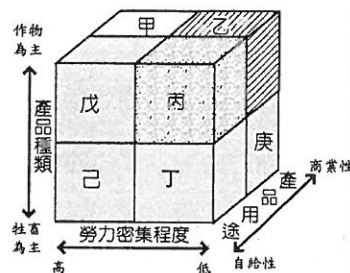
4、北美洲的「五大湖」、「哈得孫灣」形成的原因，與何種地形作用有關？

- (A)板塊擠壓 (B)河流侵蝕 (C)冰河堆積 (D)冰河侵蝕

5、全球陸地上最長的山脈安地斯山脈位於哪一洲？

- (A)北美洲 (B)南美洲 (C)亞洲 (D)歐洲

6、中南美洲因受殖民影響，發展出熱帶栽培業，大量運銷回殖民母國，請問熱帶栽培業的經營屬於右圖中哪一種農業的經營方式？



- (A)甲 (B)丙 (C)己 (D)庚

7、巴塔哥尼亞高原的氣候特徵為寒冷、乾燥，為一溫帶沙漠氣候，請問巴塔哥尼亞沙漠氣候的成因除了背西風之外還有哪一因素？

- (A)副熱帶高壓籠罩 (B)秘魯涼流 (C)福克蘭寒流 (D)加利福尼亞涼流

8、北美大平原有一條河流流貫其間，為大平原早期最重要的交通要道，請問這條河流的名稱為何？

- (A)科羅拉多河 (B)聖羅倫斯河 (C)亞馬孫河 (D)密西西比河


9、北美洲種族歧視的情況至今仍時有所聞，但中南美洲卻罕有種族歧視的情況，主要影響因素為何？

- (A)氣候環境不同 (B)移民方式不同 (C)地形種類不同 (D)文化觀點不同

10、加拿大地廣人稀，人口密度比美國低很多，主要是受到哪個環境因素的影響？

- (A)地形 (B)緯度 (C)洋流 (D)風向

11、下圖為北美洲地形剖面圖，請問以下對圖中各地區的描述，何者有誤？



- (A)乙為落磯山脈，為板塊擠壓而成的新褶曲山，多火山、地震 (B)戊為東岸地區，瀕臨大西洋，為早期移民的根據地 (C)丙為平原地形，有聖羅倫斯河流經，交通便利 (D)丁為東部丘陵區，為古老陸塊，地形起伏不大，礦產豐富

12、以下對北美商業性農業的敘述，何者有誤？

- (A)單位面積產量高 (B)高度機械化 (C)人均耕地面積大 (D)耕作粗放

13、中南美洲有些國家都市化程度非常高，甚至比已開發國家還高，其主因為何？

- (A)都市拉力強 (B)鄉下推力強 (C)都市推力強 (D)鄉下拉力強

14、以下對北美自由貿易協定的描述，何者錯誤？

- (A)加工出口區多設在美墨邊境的美國境內 (B)美國擁有資金、技術 (C)墨西哥擁有廉價勞工 (D)解決美國勞力成本過高的問題

15、中南美洲有些國家都市化程度非常高，但都市郊區又多有貧民區，形成貧富的強烈對比，以下對此現象的描述，何者有誤？

- (A)鄉村地區無法謀生造成高度都市化 (B)部分移入都市的居民，居住在都市邊緣，形成廣大貧民區 (C)這些國家多屬開發中國家 (D)高度都市化代表其都市工商業繁榮

16、由著名的美國男影星強尼·戴普 (Johnny Depp) 主演的「神鬼奇航」系列電影，以加勒比海的海盜船長為故事主角，劇情內容詭異離奇，已連續發行五集，為電影史上最賣座的電影之一。請問加勒比海位於哪一地區？

- (A)中美洲 (B)北美洲 (C)南美洲 (D)歐洲

17、怡真是西班牙語文學系的學生，她想要在寒假出國自助旅行，並利用這趟旅行增進西班牙語文的能力，請問她到哪一地區可以充份發揮她所學專長？

- (A)東歐 (B)中亞 (C)南亞 (D)中南美洲

18、南美洲阿根廷最主要的農牧區位於哪一地區？

- (A)密西西比平原 (B)彭巴草原 (C)亞馬孫河盆地 (D)科羅拉多河平原

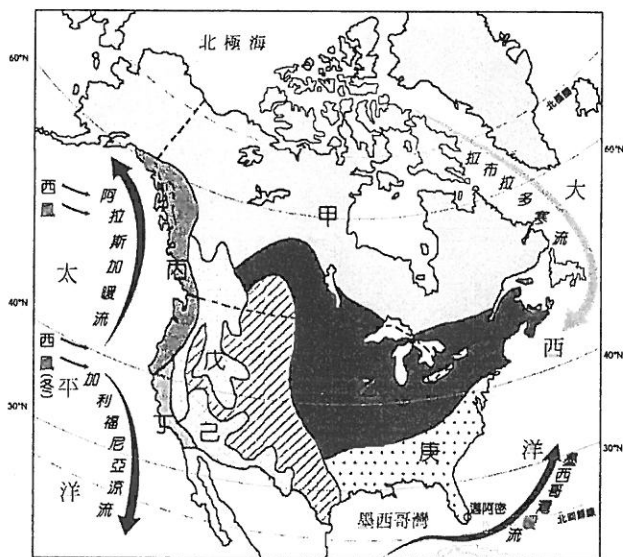
19、今日中南美洲的居民，經過長時間的族群融合，已經很由身體的外在特徵，辨認出族群的類別。請問與中南美洲族群融合無關的是哪一族群？

- (A)西班牙人 (B)印第安人 (C)因紐特人 (D)非裔黑人

20、北美自由貿易協定三國在經濟上密切合作，彼此互利共生，請問哪一國不是其成員？

- (A)美國 (B)墨西哥 (C)加拿大 (D)巴拿馬

◎下圖為北美洲氣候分布圖，請回答第 21~25 題。



21、美國著名賭城拉斯維加斯位處於內華達州荒涼的沙漠山谷之中，請問拉斯維加斯位於哪一氣候區？

- (A)丁 (B)戊 (C)己 (D)庚

22、請問拉斯維加斯當地氣候的成因為何？

- (A)涼流流經 (B)寒流流經 (C)位於背西風側 (D)大陸冷氣團籠罩

23、我們從圖中可以發現，北美西岸出現寒帶氣候的緯度較北美東岸高出許多，這是受到什麼因素的影響？

- (A)洋流 (B)緯度 (C)地形 (D)板塊

24、某處的氣候特性為「全年有雨，秋冬略多，年溫差小」，

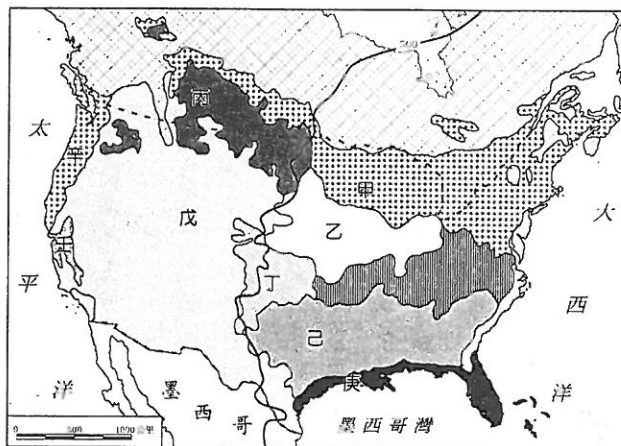
請問此處位於圖中何處？

- (A)甲 (B)丙 (C)丁 (D)戊

25、哪一種氣候區擁有較多的針葉林？

- (A)丙 (B)己 (C)甲 (D)戊

◎下圖為北美洲農牧業分布圖，請回答第 26~30 題



26、酪農業主要分布於哪一區？

- (A)甲 (B)乙 (C)戊 (D)己

27、呈上題，酪農業分布於該區的區位因素為何？

- (A)原料 (B)市場 (C)勞工 (D)動力

28、我們經常可以買到來自美國加州的水果，如加州無籽葡萄、香吉士，請問這類農產品主要分布於哪一區？

- (A)乙 (B)壬 (C)己 (D)丁

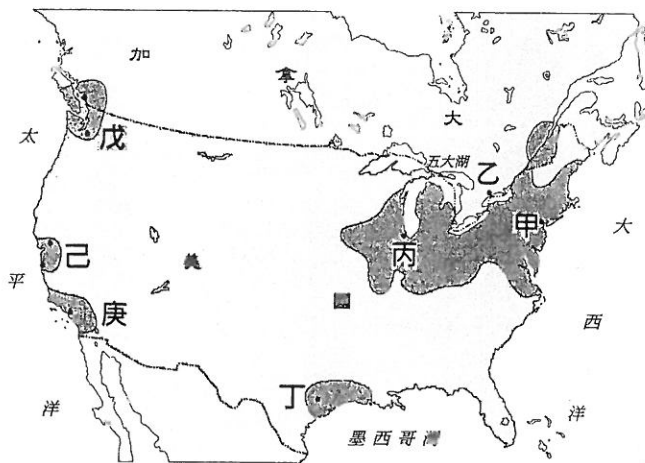
29、美國近幾年來因為頻傳狂牛症的疫情，使該國的牛肉出口受到影響，包括臺灣皆曾禁止美國牛肉的進口。請問：美國的牛肉生產主要位於附圖中哪一個地區？

- (A)乙 (B)丁 (C)己 (D)戊

30、美國生產的棉花大量出口到世界各地，請問美國棉花的主要生產區位於何處？

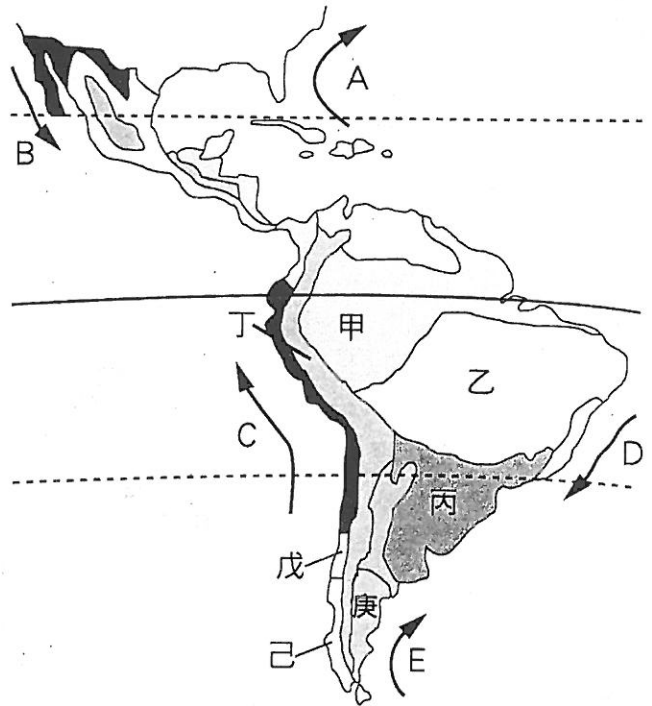
- (A)乙 (B)丁 (C)己 (D)戊

◎下圖為北美洲工業帶分布圖，請回答第 31~35 題。



- 31、過去二、三十年來，電腦軟體產業龍頭微軟，發展出的視窗系統，讓電腦的使用更人性化，改變了傳統使用電腦的方式，請問微軟總公司所在的西雅圖位於圖中何處？
 (A)丁 (B)戊 (C)己 (D)甲
- 32、美國好萊塢的電影產業行銷全球，請問好萊塢位於圖中何處？
 (A)丁 (B)庚 (C)己 (D)乙
- 33、以下對於美加之間最大工業帶的描述，何者錯誤？
 (A)有廉價勞工 (B)有工業用水 (C)有航運之利 (D)有豐富礦產
- 34、何處以半導體和通訊網路等資訊產業為主，是全球重要的高科技工業中心？
 (A)己 (B)庚 (C)丁 (D)戊
- 35、美國太空總署 NASA 在休士頓的 Johnson 太空中心，是美國最大的航空研究、生產及控制中心，請問 Johnson 太空中心位於何處？
 (A)丁 (B)己 (C)庚 (D)丙

◎下圖為中南美洲氣候分布圖，請回答第 36~40 題。

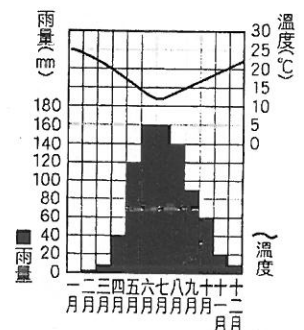


36、全球最大的熱帶雨林亞馬孫盆地位於何種氣候區？

- (A)戊 (B)己 (C)甲 (D)乙

37、右圖是某地區的氣候圖，請問該地位於上圖中哪一種氣候區？

- (A)己 (B)丙 (C)戊 (D)丁



38、位於秘魯、智利北部的阿他加馬沙漠年平均降雨量小於 0.1 毫米，有統計更指，1570 年至 1998 年長達 400 多年時間幾乎未曾下雨，號稱是全球最乾燥的地方，請問此地區氣候乾燥的原因為何？

- (A)寒流流經 (B)背西風 (C)深處內陸 (D)副熱帶高壓

39、中南美洲的氣候分布以赤道為中心，呈南北對稱的分布狀態，請問圖中哪一氣候類型的分布與緯度無關？

- (A)己 (B)戊 (C)甲 (D)丁

40、印加帝國是 11 世紀至 16 世紀時的古老帝國，主要分布於南美洲的安地斯山上，是中南美洲三大古文明之一。請問印加帝國主要分布於哪一氣候區？

- (A)庚 (B)戊 (C)乙 (D)丁

☆試題作答結束，祝各位同學寒假愉快☆

福興國中106學年度第一學期第三次段考地理科三年級試題解答

(1~20題：每題2分；21~40題：每題3分，合計100分)

| | | | | | | | | | |
|----|----|----|----|----|----|----|----|----|----|
| 1 | 2 | 3 | 4 | 5 | 6 | 7 | 8 | 9 | 10 |
| C | A | D | D | B | A | C | D | B | B |
| 11 | 12 | 13 | 14 | 15 | 16 | 17 | 18 | 19 | 20 |
| C | A | B | A | D | A | D | B | C | D |
| 21 | 22 | 23 | 24 | 25 | 26 | 27 | 28 | 29 | 30 |
| C | C | A | B | C | A | B | B | D | C |
| 31 | 32 | 33 | 34 | 35 | 36 | 37 | 38 | 39 | 40 |
| B | B | A | A | A | C | C | D | D | D |

福興國中106學年度第一學期第三次段考地理科三年級試題解答

(1~20題：每題2分；21~40題：每題3分，合計100分)

| | | | | | | | | | |
|----|----|----|----|----|----|----|----|----|----|
| 1 | 2 | 3 | 4 | 5 | 6 | 7 | 8 | 9 | 10 |
| C | A | D | D | B | A | C | D | B | B |
| 11 | 12 | 13 | 14 | 15 | 16 | 17 | 18 | 19 | 20 |
| C | A | B | A | D | A | D | B | C | D |
| 21 | 22 | 23 | 24 | 25 | 26 | 27 | 28 | 29 | 30 |
| C | C | A | B | C | A | B | B | D | C |
| 31 | 32 | 33 | 34 | 35 | 36 | 37 | 38 | 39 | 40 |
| B | B | A | A | A | C | C | D | D | D |

福興國中106學年度第一學期第三次段考地理科三年級試題解答

(1~20題：每題2分；21~40題：每題3分，合計100分)

| | | | | | | | | | |
|----|----|----|----|----|----|----|----|----|----|
| 1 | 2 | 3 | 4 | 5 | 6 | 7 | 8 | 9 | 10 |
| C | A | D | D | B | A | C | D | B | B |
| 11 | 12 | 13 | 14 | 15 | 16 | 17 | 18 | 19 | 20 |
| C | A | B | A | D | A | D | B | C | D |
| 21 | 22 | 23 | 24 | 25 | 26 | 27 | 28 | 29 | 30 |
| C | C | A | B | C | A | B | B | D | C |
| 31 | 32 | 33 | 34 | 35 | 36 | 37 | 38 | 39 | 40 |
| B | B | A | A | A | C | C | D | D | D |