

彰化縣福興國中一0七學年度上學期第二次段考地理科二年級試題

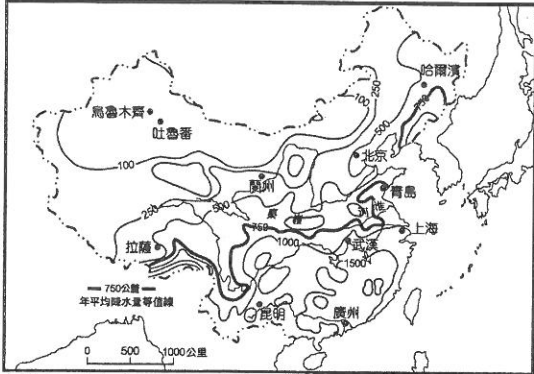
命題老師：陳雅萍 配分：1-20 題 2 分；21-40 題 3 分

班 座 號 _____ 姓 名 _____

【請依學校規定用 2B 鉛筆在答案卡上作答】

壹、單選題

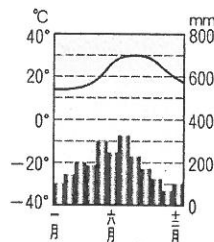
1. 附圖是中國的年降水量分布圖。從圖中可以看出其空間分布大致是屬於下列哪種方式？



- (A) 由西向東遞增 (B) 由東北向西南遞減 (C) 由東南向西北遞減 (D) 由西北向東南遞減

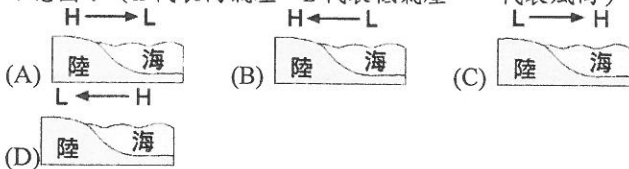
2. 中國近年氣候資料顯示：廣州一月氣溫為 13.1°C ，七月氣溫為 28.5°C ；哈爾濱一月氣溫為 -19.2°C ，七月氣溫為 22.7°C 。此資料說明了緯度愈高則會產生哪種現象？(A) 冬季氣溫愈高 (B) 夏季氣溫愈高 (C) 年溫差愈大 (D) 年均溫愈高
3. 中國氣候可分為三大類型，其中乾燥和季風兩種氣候的分界線為何？(A) 年降水量 750mm (B) 最冷月均溫 0°C (C) 最暖月均溫 20°C (D) 年降水量 500mm

4. 右圖為中國某城市的氣候圖。根據圖中的資料判斷，該城市的氣候類型為何？



- (A) 溫帶季風氣候 (B) 副熱帶季風氣候 (C) 溫帶草原氣候 (D) 高地氣候

5. 亞洲在濱臨印度洋和太平洋的地區，是地表季風氣候最發達的地區，下列哪張是夏季季風成因示意圖？(H 代表高氣壓，L 代表低氣壓，→ 代表風向)



6. 中國境內，春夏以高山融雪補注的河川，多位於哪個區域？(A) 內流區 (B) 北極海外流區 (C) 印度洋外流區 (D) 太平洋外流區
7. 位於青藏高原的拉薩，夏季較同緯度的上海氣溫低，非常涼爽，請問：兩地的氣溫差異主要是受到哪一項因素的影響？(A) 距海遠近 (B) 緯度 (C) 季風 (D) 地形。
8. 中國東半部降水的季節分布呈現夏雨冬乾的特徵，主要是受到哪一項因素的影響？(A) 距海遠近 (B) 緯度 (C) 季風 (D) 地形。
9. 中國地形複雜，種類多。地勢高低呈三級階級，請問：第三級階梯的地形主體是？(A) 山地、高原 (B) 平原、丘陵

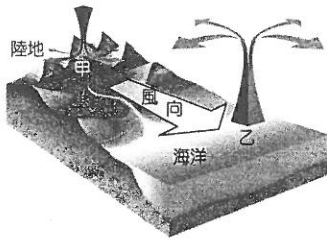
(C) 高原、盆地 (D) 山地、盆地。

10. 下列哪個地形區位於「第一級階梯」？(A) 四川盆地 (B) 準噶爾盆地 (C) 柴達木盆地 (D) 塔里木盆地
11. 下列哪一項政策，是中國為了解決人口數量過多的問題而實施？(A) 推動九年義務教育 (B) 實施「一胎化」政策 (C) 推動男女性別平等 (D) 規劃完善的老年福利制度。
12. 氣候影響人類的日常生活，同時也反映在建築特色上：(甲) 干欄式建築 (乙) 騎樓 (丙) 四合院坐北朝南 (丁) 平頂式建築。以上所列的建築，哪些型式與一地「少雨、日夜溫差大」的氣候特色較為相關？(A) 甲 (B) 乙 (C) 丙 (D) 丁
13. (甲) 廣大草原、牛羊成群 (乙) 季風氣候適合發展農業 (丙) 地形多山地、高原 (丁) 就業機會多。以上四個條件中，哪些是影響中國人口集中在東半部的因素？(A) 甲、乙 (B) 乙、丙 (C) 乙、丁 (D) 丙、丁
14. 中國的民族，除了漢族占總人口的 92% 外，其中哪個少數民族中的人口數最多？(A) 藏族 (B) 回族 (C) 壯族 (D) 滿族
15. 某手搖飲料商認為「只要每 10 人裡面有 1 人購買他們的珍珠奶茶，就可以有 1,3000 杯的銷售量」，因此積極前進中國。這是受到什麼因素的影響？(A) 中國幼年人口比例下降 (B) 中國消費市場龐大 (C) 中國的勞動力充足 (D) 中國人口高齡化
16. 2015 年中國總人口的性別比是 106.3，0-4 歲新生兒童的性別比高達 115.8，這些統計資料所代表的意義為何？(A) 女性嬰兒死亡率較高 (B) 女性人口數多於男性人口數 (C) 女性人口數少於男性人口數 (D) 男性人口數有逐年減少的趨勢
17. 呈上題，此種人口結構嚴重失衡的現象，主要是受到那兩個因素的影響？(甲) 一胎化政策 (乙) 教育普及率低 (丙) 限制城鄉人口移動 (丁) 傳統重男輕女的觀念。(A) 甲、乙 (B) 乙、丙 (C) 乙、丁 (D) 甲、丁
18. 目前世界人口數最多的國家是哪一個？(A) 俄羅斯 (B) 中國 (C) 美國 (D) 日本
19. 王教授在做中國建築型態調查時，發現中國北方房屋的方向多坐北朝南。研究結果得知與當地冬季的風向有關。請問：中國北方冬季的風向為何？(A) 東北風 (B) 東南風 (C) 西北風 (D) 西南風
20. 雲南西雙版納的房屋多為下層架空的「干欄式」建築，此種建築有什麼優點？(A) 防風沙 (B) 適應日夜溫差大 (C) 防水災 (D) 方便遷徙
21. 1970 年代以來，中國受到一胎化政策及經濟發展的影響，出現了下列何種人口變化？(A) 男性人口減少、女性人口增加 (B) 幼年人口比例減少、老年人口比例增加 (C) 幼年人口比例增加、老年人口比例減少 (D) 勞動人口比例減少。

※請翻面繼續作答：第一頁※

22. 中國的人口分布，大致以甲-乙連線為分界，請問甲、乙分別為何？(A)大興安嶺—太行山—巫山 (B)黑河—騰衝 (C)秦嶺—淮河 (D)長城

23. 中國季風氣候某季節的風向示意圖如附圖所示，依圖中資料判斷，下列哪一項敘述是正確的？



- (A)此時正是夏季
- (B)陸地吸熱快，增溫快
- (C)甲—高氣壓；乙—低氣壓
- (D)氣流溫暖濕潤

24. 中國的面積廣大，氣候種類眾多。其中下列哪一種氣候的特徵是日溫差大、年溫差小？(A)季風氣候 (B)乾燥氣候 (C)高地氣候 (D)寒帶氣候。

25. 依氣候分類標準，中國某城市的年降水量為386毫米，七月均溫為28.8°C，一月均溫為-3.9°C，則該城市的氣候類型為下列何者？(A)高地氣候 (B)溫帶沙漠氣候 (C)熱帶季風氣候 (D)溫帶草原氣候

26. 比較中國南北氣候對居民生活的影響，附表中哪個選項錯誤？

區域	(A)氣候特徵	(B)衣物	(C)飲食特性	(D)建築特色
中國北方	嚴寒	厚重	米食	坐北朝南
中國南方	溫暖潮溼	輕薄	麵食	騎樓

27. 中國西南橫斷山脈及雲貴高原地區少數民族的族數較多，各族文化特色豐富多元。導致此現象產生和當地哪項特色有關？(A)政府政策 (B)人口稠密 (C)地形崎嶇 (D)氣候乾燥

28. 中國有一個民族，族人多信奉伊斯蘭教，居住在新疆，以綠洲農業為主。請問：以上描述應該是指哪個民族？(A)蒙古族 (B)藏族 (C)維吾爾族 (D)滿族

29. 附圖為中國某一氣候資料的等值線分布圖，圖中甲<乙<丙<丁，則該氣候資料應為下列何者？



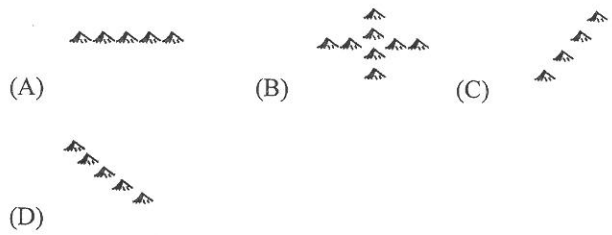
- (A)年雨量
- (B)年溫差
- (C)七月均溫
- (D)日溫差。

30. 「此河流為中國第一長的內流河，蜿蜒流過塔克拉瑪干沙漠，最後在黃沙滾滾中消失不見。」以上敘述為哪條河川的特色？(A)額爾濟斯河 (B)塔里木河 (C)黃河 (D)雅魯藏布江。

31. 高齡化社會通常出現在經濟發展程度高的國家，如日本、瑞典。但中國在西元2000年時經濟正在發展，卻已達到高齡化社會的標準，其成因為何？(甲)實施一胎化政策 (乙)平均壽命延長 (丙)少子化 (丁)傳統重男輕女的觀念 (戊)勞動人口大量流入鄰近國家

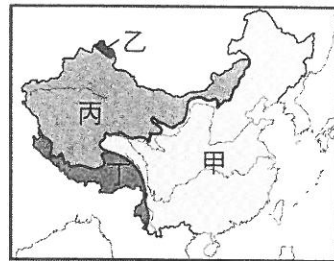
- (A)甲、乙、丙
- (B)乙、丙、丁
- (C)甲、乙、丁
- (D)甲、丁、戊

32. 山脈的走向若與風向有交角，則山脈往往成為氣候上的障壁。中國西半部哪種走向的山脈，阻擋來自印度洋的夏季暖溼氣流，所以迎風坡溼潤多雨，而背風坡乾燥少雨？



貳、題組：

(一) 附圖為中國外流區與內流區分布圖，請回答下列問題。



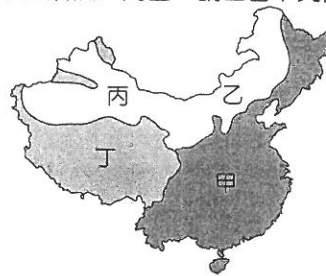
33. 中國的內流區位於何處？(A)甲 (B)乙 (C)丙 (D)丁

34. 雅魯藏布江屬於印度洋外流區，請問它位於何處？(A)甲 (B)乙 (C)丙 (D)丁

35. 青海湖是中國最大的鹹水湖，可以製造出食用鹽，請問它位於何處？(A)甲 (B)乙 (C)丙 (D)丁

36. 每年「乙」區的額爾濟斯河在春天會發生「凌汛」，河水從冰層上溢流出來造成水災。請問：此現象可能跟該河流的何項特性有關？(A)流量不穩 (B)流速緩慢 (C)河水混濁 (D)流向朝北

(二) 下圖為中國氣候區簡圖，請回答下列問題。



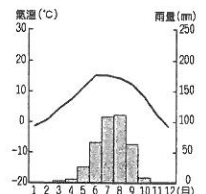
37. 中國屬於「季風亞洲」的範圍，請問季風氣候區的代號是？(A)甲 (B)乙 (C)丙 (D)丁

38. 乾燥氣候區又分成乙、丙兩種氣候，請問主要受何項因素影響？(A)河川流向 (B)地勢高低 (C)距海遠近 (D)緯度高低

39. 駱駝被稱為「沙漠之舟」，中國的駱駝主要分布在一個地區？(A)甲 (B)乙 (C)丙 (D)丁

40. 右圖為中國某都市的氣候圖。請根據圖中資料判斷，該都市位於何處？

- (A)甲
- (B)乙
- (C)丙
- (D)丁



※作答完畢，再檢查一次※

福興國中一〇七學年度第一學期第二次段考地理科二年級答案

配分：1-20 題 2 分；31-40 題 3 分

1-10 C.C.D.B.D.A.D.C.B.C.

11-20 B.D.C.C.B.C.D.B.C.C.

21-30 B.B.C.C.D.C.C.C.A.B.

31-40 A.A.C.D.C.D.A.C.C.D.

福興國中一〇七學年度第一學期第二次段考地理科二年級答案

配分：1-20 題 2 分；31-40 題 3 分

1-10 C.C.D.B.D.A.D.C.B.C.

11-20 B.D.C.C.B.C.D.B.C.C.

21-30 B.B.C.C.D.C.C.C.A.B.

31-40 A.A.C.D.C.D.A.C.C.D.

福興國中一〇七學年度第一學期第二次段考地理科二年級答案

配分：1-20 題 2 分；31-40 題 3 分

1-10 C.C.D.B.D.A.D.C.B.C.

11-20 B.D.C.C.B.C.D.B.C.C.

21-30 B.B.C.C.D.C.C.C.A.B.

31-40 A.A.C.D.C.D.A.C.C.D.

福興國中一〇七學年度第一學期第二次段考地理科二年級答案

配分：1-20 題 2 分；31-40 題 3 分

1-10 C.C.D.B.D.A.D.C.B.C.

11-20 B.D.C.C.B.C.D.B.C.C.

21-30 B.B.C.C.D.C.C.C.A.B.

31-40 A.A.C.D.C.D.A.C.C.D.