

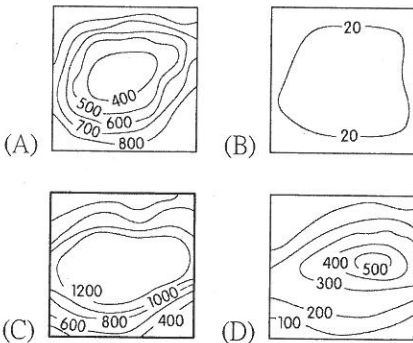
試題總題數 40 題：1~20 題，每題 2 分；21~40 題，每題 3 分 合計 100 分。

請在答案卡上寫出班級、座號、科目、姓名，並正確的以 2B 鉛筆畫出座號。

1、台灣各處有景色絕美的自然風景，以下著名的景點，何者主要是由內營力造成？

- (A)太魯閣峽谷 (B)佳陽沖積扇
(C)陽明山小油坑 (D)野柳女王頭

2、小明與家人來到南投埔里的地理中心碑附近，小明看到四周都是高山林立，請問埔里附近的地形類型與下列哪一等高線地形圖相同？



3、右圖為蔣渭水高速公路路線圖，其中甲路段經過的地形主要為下列何者？

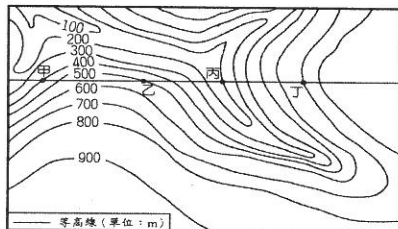
- (A)山地 (B)平原 (C)丘陵 (D)盆地



4、承上題，蔣渭水高速公路有全台最長的隧道，位於坪林與頭城之間，這座隧道穿越的是哪一座山脈？

- (A)中央山脈 (B)玉山山脈 (C)海岸山脈 (D)雪山山脈

5、地理老師帶全班同學到野外進行地理實察，透過等高線圖（如右圖）與實地地形的觀察，以了解當地的地形特色，請問圖中甲乙丙丁四處，何處因地勢低窪，容易發生淹水現象。



- (A)甲 (B)乙 (C)丙 (D)丁

6、根據文獻資料顯示：「早期在鹿港天后宮前就可以看到海岸線，但三百年後的今日，天后宮已離海岸線約 2 公里之遠。」造成上述變化，主要是因為當地的海岸受到下列何種作用影響？

- (A)侵蝕 (B)搬運 (C)堆積 (D)風化

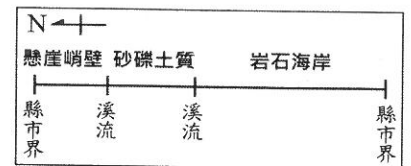
7、我國海軍敦睦艦隊在遠航訓練前，會先繞行臺灣進行短程的航訓任務，並停靠主要港口供民眾參觀。下表甲至己為 2015 年該艦隊依序停靠的本島港口，根據各

港口位置判斷，該航線中哪個港口應為基隆港？

港口	經度	緯度
甲	120.27°E	22.62°N
乙	120.15°E	22.99°N
丙	120.52°E	24.26°N
丁	121.74°E	25.13°N
戊	121.86°E	24.60°N
己	121.62°E	23.98°N

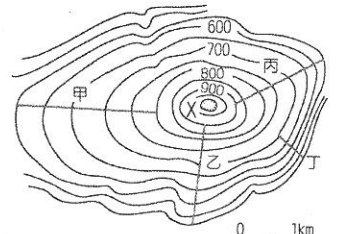
- (A)甲 (B)丁 (C)戊 (D)己

8、下圖為花蓮縣的海岸地形特徵示意圖，根據圖中資訊，往北經過一段懸崖峭壁之後就來到縣市交界，請問此處是花蓮縣與哪一縣市的交界？



- (A)新北市
(B)南投縣
(C)宜蘭縣
(D)台東縣

9、小明全家利用風和日麗的假日來到山區爬山，由於有爺爺、奶奶，也有小朋友，想要選一條最適合全家人一起輕鬆爬山、悠閒散步的路線，請問下圖中哪一條路線是最適合的路線？



- (A)甲 (B)乙 (C)丙 (D)丁

10、分層設色圖是以不同的顏色表示不同的高度，在福興國中所在的位置而言，此處高度在分層設色圖上通常塗成什麼顏色？

- (A)紅色 (B)褐色 (C)黃色 (D)綠色

11、台灣位於歐亞板塊與菲律賓海板塊的擠壓帶上，所以地震頻繁，請問這兩個板塊的交界位於何處？

- (A)花東縱谷 (B)中央山脈 (C)海岸山脈 (D)宜蘭平原

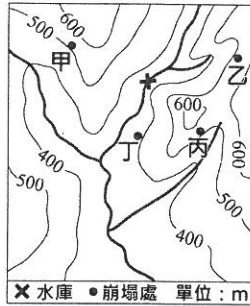
12、台灣有五大地形類型，請問哪兩種地形是台灣多數人口最主要生活空間？

- (A)平原、丘陵 (B)平原、台地 (C)山地、台地 (D)平原、盆地

13、台灣從北到南都有台地分布，由於台地地勢較高，缺乏河流，所以若要在台地耕作，多須建設灌溉設施，下列哪一處台地就是以埤塘蓄水，以提供農田灌溉用水？

- (A)八卦台地 (B)林口台地 (C)桃園台地 (D)后里台地

14、右圖為某區域的等高線地形圖，「x」是建於河流上的水庫。圖中甲、乙、丙、丁發生的大規模崩塌，何處會造成該水庫水質混濁？



(A)甲 (B)乙 (C)丙 (D)丁

15、下列哪一座山脈不但是台灣島的脊梁，也是台灣島上多數河流的分水嶺？

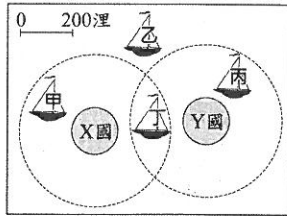
(A)玉山山脈 (B)雪山山脈 (C)阿里山山脈 (D)中央山脈

16、我國籍遠洋漁船上，船長與漁工的對話如下：

漁工小義：「船長，我們可以下網捕魚了嗎？」

船長小城：「沒問題，我們的船已經開到可自由捕魚的公海上了。」

根據上述內容判斷，小城的船隻最可能位於右圖中哪一個位置？



(A)甲 (B)乙 (C)丙 (D)丁

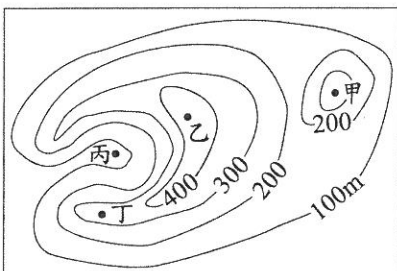
17、以下對台灣海岸的敘述，何項錯誤？

- (A)東部為斷層海岸，海岸線平直、海底平淺
- (B)西部為沙岸，為河流、海流堆積地形
- (C)南部為珊瑚礁海岸，地表崎嶇不平，岩塊造型奇特
- (D)北部為岬灣海岸，海岸線曲折、天然良港多

18、臺灣本島的位置約介於 22°N~25°N，120°E~122°E 之間。某中國旅遊團至臺灣某地遊覽時，車上的定位系統測得該地的經緯度坐標為(24.16°N，121.62°E)，該旅遊團最可能是在下列何處遊覽？

(A)基隆港 (B)屏東恆春 (C)花蓮太魯閣 (D)士林夜市

19、在古代，由於沒有電話和無線電等通訊設備，烽火臺成為傳遞軍情的最好設施之一，傳遞的方法是白天燃煙，夜間舉火。為使軍情能快速傳遞，烽火臺通常設置在視野極佳的位置。下圖中甲、乙、丙、丁哪一地點最適合設置烽火臺？



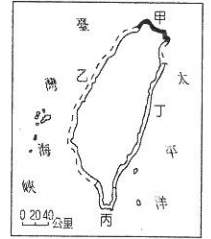
(A)甲 (B)乙 (C)丙 (D)丁

20、臺灣沿海的潟湖溼地，由於有豐富的食物來源，每年冬天都成為北方候鳥的棲息地。請問：如果小明要去

潟湖賞鳥，到何處去最為適合？

(A)基隆 (B)花蓮 (C)墾丁 (D)台南

21、附圖為臺灣的四段海岸線示意圖，在哪一段海岸線可看到落差高達數十至數百公尺、氣勢雄偉的懸崖峭壁？



(A)甲 (B)乙 (C)丙 (D)丁

22、右圖為臺灣某次馬拉松比賽路線圖，參賽者在路跑過程中，應該不會看到下列何種景觀？



(A)岬角 (B)海灣 (C)蚵田 (D)奇岩

23、根據聯合國《海洋法公約》規定，各國擁有在其經濟海域內資源的使用權。臺灣因四面環海，島嶼眾多，擁有廣大的經濟海域，但因與鄰近國家的經濟海域重疊，經常有漁業上的糾紛。上文所述的鄰近國家不包含下列何者？

(A)中國 (B)日本 (C)南韓 (D)菲律賓

24、2013 年 5 月 9 日發生屏東縣琉球籍漁船廣大興 28 號衝突事件，導致船長遭到射殺身亡。當地漁民說，這種經濟海域衝突事件經常發生，這是台灣南方與哪一國家的經濟海域重疊，導致常發生兩國之間的衝突事件。

(A)菲律賓 (B)中國 (C)馬來西亞 (D)日本

25、台灣擁有為數眾多的離島，哪一處可見到柱狀玄武岩？

(A)太平島 (B)蘭嶼 (C)馬祖 (D)澎湖

26、1868 年，有外國人在臺灣旅行時發現：「這裡泉水溫度很高，可能被蒸氣燙傷，空氣中瀰漫著濃烈的硫磺味，惡劣的環境不利植物生長。周圍泉水沸騰的聲響很大，就好像地下有一個 24 小時運作的工作室一樣。」下列哪一離島，具有類似上述旅遊地點的地質環境？

(A)龜山島 (B)琉球嶼 (C)金門 (D)太平島

27、離島因面積小、水源有限、農業不發達，人口較少，甚至有些島嶼沒有人居住，各國卻爭搶海上島嶼的主權，因為佔有島嶼除了領海之外，可能擁有經濟海域的廣大資源。請問台灣附近海域中，哪一處海域附近國家眾多，多國在此海域易因經濟海域重疊而產生衝突？

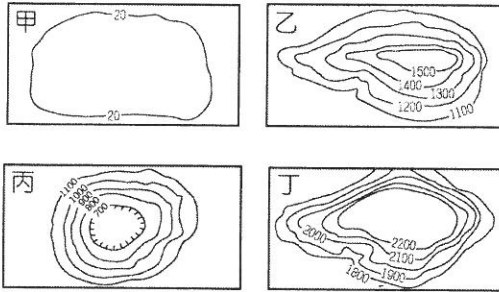
(A)黃海 (B)東海 (C)南海 (D)日本海

請繼續第 28 題作答

28、位於陸地與沙洲間的海域通常稱為潟湖，請問以下對於潟湖的描述何者有誤？

- (A)常見於沙岸地帶 (B)潟湖是由於海浪侵蝕作用而成
(C)高雄港就是潟湖改建而成 (D)潟湖內水淺浪小，常可發展養蚵

29、知名紀錄片《看見臺灣》，以直升機空拍的創新手法拍攝，讓觀眾深受震撼與感動，也帶動了民眾對於山林保育的重視。直升機為了飛行安全，需要利用等高線地形圖藉以判斷地形的種類與地形起伏，請問《看見臺灣》的導演不太可能會用到哪一幅圖？



- (A)甲 (B)乙 (C)丙 (D)丁

30、以下對於台灣的海岸描述，何者有誤？

- (A)珊瑚礁海岸位於熱帶海洋，魚類資源豐富，常成為潛水者天堂
(B)西部海岸是海水、河川侵蝕作用形成的海岸
(C)東部的斷層海岸，海岸陡直，不利於航運
(D)北部為岬灣海岸，港闊水深，多良港

31、宜蓁計畫週末要和家人前往福寶溼地，來趟自然保育知識之旅和欣賞夕陽的美景。請問她這趟旅程的海岸特色不會出現哪項景觀？

- (A)懸崖斷壁 (B)寬廣的潮間帶 (C)魚塢 (D)蚵田。

32、臺灣四面環海，其附近海域的離島約有 88 個，成因各不相同。請問：下列哪一組島嶼的成因性質最為相近？

- (A)澎湖、東沙島 (B)小琉球、金門
(C)太平島、蘭嶼 (D)綠島、龜山島

33、琉球嶼、東沙島、太平島等島嶼通常缺乏淡水，地勢低平。請問：這類島嶼形成的原因為何？

- (A)離岸沙洲陸化而成 (B)火山岩漿堆積而成 (C)海底珊瑚礁露出海面而成 (D)沿海山地丘陵沒入海中而成

34、右圖為某種災害的警告標示牌，用來提醒民眾提高警覺。根據臺灣行政區的地形特色判斷，此種標示牌在下列哪個縣(市)最多？



圖(二)

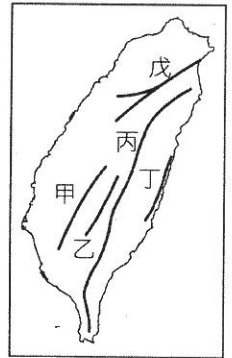
- (A)彰化 (B)澎湖 (C)南投 (D)雲林

35、地理老師說，鹿港及福興地區在日治時期曾有廣達數百甲的鹽田，後因故荒廢，並轉為魚塢，故留下了「鹽埕」的舊地名。請問下列哪一地區的海岸特色與鹿港相同？

- (A)墾丁 (B)基隆 (C)花蓮 (D)七股

◎右下圖為台灣五大山脈分布圖，請回答第 36~40 題。

36、蘇花公路自日治時期以來，因經常塌方，一直未能維持長期穩定的安全度，故公路總局提出「蘇花改改善工程」並自 2011 年開始動工，終於捎來喜訊，蘇花改確定將於 109 年春節前「全線通車」。蘇花公路自宜蘭蘇澳至花蓮市，沿路景觀懸崖峭壁，一邊是太平洋、一邊是高山，驚險萬分，請問蘇花公路旁的山脈為何？



- (A)戊 (B)丙 (C)丁 (D)乙

37、阿里山除了著名的日出、雲海，還有原住民鄒族也生活在阿里山一帶。請問阿里山位於何處？

- (A)甲 (B)乙 (C)丙 (D)丁

38、雪山為全台灣第二高峰，標高 3,886 公尺，僅次於的玉山主峰 (3,952 公尺)，在日治時代被稱做次高山，是兩座超越富士山高度的台灣山脈之一。請問雪山位於何處？

- (A)戊 (B)丙 (C)丁 (D)乙

39、台灣位於歐亞板塊與菲律賓板塊的交界，哪一座山脈所屬的板塊與其他四者不同？

- (A)戊 (B)丙 (C)丁 (D)乙

40、有「臺灣版魔戒」之稱的《東谷沙飛傳奇》，以臺灣布農族的聖山-東谷沙飛(玉山)為故事場景，故事中的魔幻場景、正邪對戰畫面總為人津津樂道，請問玉山位於何處？

- (A)甲 (B)乙 (C)丙 (D)丁

☆ 試題作答結束！ ☆

福興國中108學年度第一學期第二次段考地理科一年級試題解答
 (1~20題：每題2分，21~40題：每題3分) 合計100分

1	2	3	4	5	6	7	8	9	10
C	A	B	D	C	C	B	C	A	D
11	12	13	14	15	16	17	18	19	20
A	D	C	B	D	B	A	C	B	D
21	22	23	24	25	26	27	28	29	30
D	C	C	A	D	A	C	B	D	B
31	32	33	34	35	36	37	38	39	40
A	D	C	C	D	B	A	A	C	B

福興國中108學年度第一學期第二次段考地理科一年級試題解答

1	2	3	4	5	6	7	8	9	10
C	A	B	D	C	C	B	C	A	D
11	12	13	14	15	16	17	18	19	20
A	D	C	B	D	B	A	C	B	D
21	22	23	24	25	26	27	28	29	30
D	C	C	A	D	A	C	B	D	B
31	32	33	34	35	36	37	38	39	40
A	D	C	C	D	B	A	A	C	B

福興國中108學年度第一學期第二次段考地理科一年級試題解答

1	2	3	4	5	6	7	8	9	10
C	A	B	D	C	C	B	C	A	D
11	12	13	14	15	16	17	18	19	20
A	D	C	B	D	B	A	C	B	D
21	22	23	24	25	26	27	28	29	30
D	C	C	A	D	A	C	B	D	B
31	32	33	34	35	36	37	38	39	40
A	D	C	C	D	B	A	A	C	B