

彰化縣福興國中 108 學年度第一學期第三次段考歷史科一年級試題

※請將答案畫卡至答案卡上

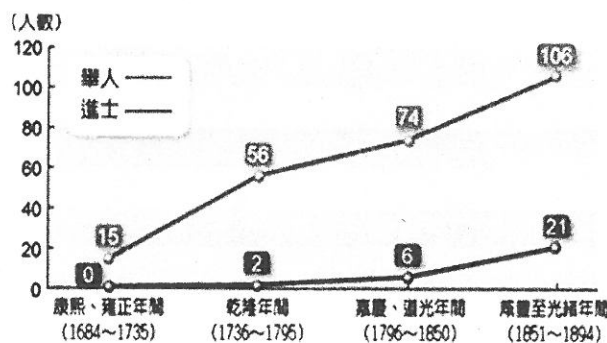
(50 題，共 4 面)

一、是非題(10 分)<正確請寫 A;錯誤請寫 B>

- 1、清朝於朱一貴事件後，增設嘉義縣與淡水廳
- 2、彰化基督教醫院，成立於 19 世紀末。為荷治時期荷蘭人所建立的現代化醫院之一。
- 3、祭祀無主孤魂的有應公廟四處林立，反映清台灣社會生存艱辛、民變與械鬥頻繁的情況
- 4、清代灌溉規模最大的水圳，為郭錫瑠父子興建的八堡圳。
- 5、台南七股區、高雄市的左營區、苗栗的頭份市，此地名的由來接與漢人合資開墾土地有關。

二、選擇題(50 分)

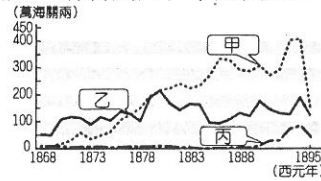
- 6、集集綠色隧道位於名間鄉與集集鎮兩鄉鎮之間，綠色隧道全長為 4.5 公里，兩旁的樹木皆為日治時期 1931 年所種植，至今這些樹齡已約有 60 至 80 歲不等；濃綠茂密的枝葉拱覆成一條綠蔭大道，為集集最具名氣的景觀之一「綠色隧道」。綠色隧道與臺灣鐵路管理局集集線幾乎平行，時有小火車經過，並設置有解說牌、木製涼亭與座椅供民眾休憩，成為旅客前往遊憩之著名景點之一。而綠色隧道的樹種在清領後期曾經提煉過一種產物，在 1877 年以前，出口量曾為世界第一，請問綠色隧道樹木提煉的東西為(A)蔗糖 (B)茶葉 (C)樟腦 (D)橡膠。
- 7、清領時期，臺灣開港通商。一位名叫威廉的英國商人，想要到臺灣經營生意，他打算在臺灣剛被核定的四個通商口岸中，擇一處設立公司。請問，下列哪一個地點不可能是他的選擇？(A)安平(B)萬華 (C)雞籠(D)打狗。
- 8、相傳乾隆時期派福康安等人平定林爽文事件，請問若福康安要平台灣中部的林爽文事件，應由哪一港口登陸最佳 (A)雞籠 (B)安平 (C)打狗 (D)鹿港
- 9、臺灣在清治初期因埤圳的修築，使農作由旱園粗放轉為水田精耕細作。請問：下列哪一條水圳是以「漢人提供資金與開圳技術，原住民則以土地換取部分水權」的方式合作修築？(A)八堡圳(B)瑠公圳 (C)曹公圳 (D)貓霧揀圳。
- 10、所謂「一府、二鹿、三艋舺」，是約三百年前在台灣所流傳的俗諺，意指當時的三大都市，這句話表示臺灣的開發方向為何？(A)由南而北 (B)由西而東 (C)由東而西 (D)由北而南
- 11、清代來台的劉寶貝與同姓友人共同加入一個祭祀公會，祭祀大陸的劉姓先祖如劉邦等人，大家每年繳交祭祀費用，萬一遇到有人發生急難需要幫助也可從這筆經費中支出。請問：他加入的組織應是下列何者？(A)唐山祖 (B)開臺祖 (C)互助會 (D)天地會。
- 12、英商「怡和洋行」自清朝以來即已在臺灣成立據點，至今仍擁有「頂好超市」、「Pizza Hut」等股份，請問其最早可在臺灣設立洋行，是因為何事？(A)劉銘傳在臺進行自強運動(B)臺灣建省，鼓勵外商投資(C)英法聯軍後，台灣開港通商 (D)清廷將臺灣割讓給日本
- 13、不同祖籍的移民，供奉不同的原鄉神明，苗栗、新竹地區有許多供奉三山國王的廟宇，可見當地人們大多屬於哪一族群？(A)泉州人(B)潮州人(C)平埔族 (D)漳州人。
- 14、從荷治時代到清帝國統治期間，臺灣曾經發生很多大規模的民變，請依據民變發起人的族群，下列哪一民變的群群與其他三者不同？(甲)林爽文事件、(乙)朱一貴事件、(丙)郭懷一事件(丁)大甲西社事件(A)甲 (B)乙 (C)丙 (D)丁
- 15、福建和廣東兩省的人民在清朝移民台灣，因為生存競爭，常常發生械鬥，但下列哪一歷史古蹟卻代表兩省人士合資建立的共存象徵？(A)文開書院 (B)台南孔廟 (C)金廣福公館 (D)赤崁樓
- 16、下圖顯示清代台灣的何種現象？(A)文風逐漸興盛(B)拓展順序由南向北 (C)國際貿易興盛 (D)西方勢力的進入



- 17、根據歷史記載：「1869 年艋舺是北臺灣最大的商業中心，但到了 1898 年淡水海關報告中登記著——大稻埕人口 31,533 人，艋舺 23,767 人。」請問：此時大稻埕人口劇增的主要原因為何(A)淡水河改道 (B)開港之後大稻埕為通商口岸之一 (C)艋舺地區樟腦輸出量減少 (D)茶在大稻埕加工，再由淡水出口。

- 18、清領時期臺灣行政區域的演變有：(甲)三府（臺北府、臺灣府、臺南府）(乙)一府三縣（臺灣府、臺灣縣、鳳山縣、諸羅縣）(丙)一府四縣二廳（臺灣府、臺灣縣、鳳山縣、諸羅縣、彰化縣、淡水廳、澎湖廳）(丁)二府（臺灣府、臺北府）。請問上述何時的行政區域，台灣才開始地位提升，成為獨立的一省，有首任的巡撫來台建設？(A)甲 (B)乙 (C)丙 (D)丁。

下圖是某一時期臺灣茶、糖、樟腦出口總值比較圖，請看圖回答下列問題：




- 19、圖中的甲、乙、丙分別是代表什麼商品？(A)甲：樟腦，乙：糖，丙：茶 (B)甲：糖，乙：樟腦，丙：茶 (C)甲：茶，乙：樟腦，丙：糖 (D)甲：茶，乙：糖，丙：樟腦
- 20、圖中哪一產品的出口港，與其他產品出口港不同？(A)甲 (B)乙 (C)丙
- 21、清領時期，臺灣民間分類械鬥情況普遍，曾有一次發生在北部，情況如下：「一座寺廟正舉辦祭祀神明的活動，泉州人準備豬、羊等牲禮，漳州人看到時故意大聲說：『牲禮全(泉)豬、全(泉)羊，真是熱鬧。』泉州人聽了很不高興，也大聲予以回擊說：『將(漳)豬移過來，將(漳)羊移過來。』結果雙方一言不合，引發大規模械鬥。」請問：上述情況，是屬於哪種類別的械鬥？(A)祖籍(B)職業(C)姓氏(D)信仰
- 22、關於清領時期的「郊」與「洋行」的敘述，下列何者正確？(A)開港通商前，貿易透過洋行進行(B)郊由外國官員和臺灣商人共同組成(C)洋行在清領後期慢慢沒落(D)洋行設立於臺灣各通商口岸。
- 23、牡丹社事件發生時，日本某報刊登了一幅臺灣地圖，如附圖所示。這一幅地圖應如何解讀，最為合理？



- (A)橫畫臺灣地圖，顯示明治維新初期，日人地理知識不足 (B)日人畫出漢、番疆界，刻意挑動兩者矛盾，從中謀利 (C)強調清朝主權不及於臺灣東部，意圖合理化其侵臺行動 (D)日軍刻意披露對臺軍事計畫，以爭取日人支持政府決策。
- 24、澎湖馬公天后宮是臺灣地區最古老的寺廟之一，該廟主祀的神祇在今天已經是臺灣社會最普遍且受重視的信仰對象之一。探究其中的背景，臺灣社會所以盛行該神祇的信仰，主要是該神祇的屬性，與臺灣早年社會的哪項特性最有關聯？(A)航海活動盛行 (B)農業是主要經濟活動 (C)醫療落後，瘟疫不斷 (D)遊民眾多，械鬥頻繁。
- 25、在「鹿港懷舊之旅」中，文史工作者指出：「早期鹿港約有 60 個隘門，現僅存的一座隘門在後車巷，上方寫著『門迎後車』，建於 1830 年，為縣定古蹟。」早期鹿港隘門的遺蹟，見證了下列何項史實？(A)漢番衝突 (B)械鬥頻繁 (C)外患頻傳 (D)倭寇出沒。
- 26、清領時期，許多閩南人移民臺灣，他們主要是由何處移入？(A)泉州、漳州 (B)貴州、惠州 (C)閩西、粵東 (D)潮州、福州。
- 27、清朝廢除劃界封山，推行「開山撫番」的政策，主要是為了建設臺灣後山。請問下列哪一理由為清朝廢除劃界封山，推行「開山撫番」的政策政策的背景和原因？(A)因為想證明清朝能在番地行使主權以斷外國侵略的野心 (B)因為樟腦、蔗糖的產地鄰近內山 (C)因為清朝想開發東部觀光資源(D)因為清朝對原住民的教化和安撫非常成功，故主動廢除劃界封山政策，想讓西部的平埔族大量移入東部開發
- 28、清代臺灣社會有一句俗語說：「有唐山公，無唐山媽。」這句話是因為清代台灣漢人男子多漢人女子少，此背景的原因是因為清實施○○政策，而這些漢人多娶◎◎族群的女子為妻。其中○○與◎◎的答案各為(A)海禁；阿美族(B)渡台禁令；平埔族(C)鎖國；泰雅族(D)海禁；平埔族
- 29、清代台灣械鬥頻繁，形成的背景或原因並非下列何者？(A)因來台移民語言或祖及不同而產生隔閡 (B)因西方的宗教來台與民眾生活文化產生不合，產生摩擦(C)因羅漢腳人數多，易有好勇鬥狠風氣 (D)因生存關係例如爭奪土地、水源或商業利益出現衝突
- 30、小幅在書上看到一則與臺灣歷史有關的插畫，如下圖。插畫中描述清領時代前期，在臺灣實施的哪些政策？

- (A) 遷地令、劃界封山 (B) 遷地令、海禁政策 (C) 海禁政策、劃界封山 (D) 渡臺禁令、劃界封山



三、題組題(40分)

丁壽泉(1846年—1886年)，原名生添，字子浚，號禮澄，榜名壽泉，彰化縣鹿仔港保鹿仔港街人，鹿港丁協源家族始祖丁克家的第六子。他於同治十二年考取舉人，之後在光緒六年庚辰科殿試中式三甲第四十八名同進士出身，同年五月，著交吏部掣籤，分發各省以知縣即用。後授廣東即用知縣，加同知銜，但因為家中因素，未前往廣東就任……

- 31、請問，丁壽泉為清代鹿港地區的進士之一，關於清代文教的敘述，何者有誤？(A)開台進士為鄭用錫 (B)官方為了要推廣漢文化，在平埔族地區設立書院，教導平埔族幼童書寫漢文(C)丁壽泉於同治十二年考取舉人，他是往福州參加鄉試(D)台南孔廟在清代改建為台灣府學，被稱為全台首學。
- 32、丁協源為典型的泉郊組織，可知丁協源商號，主要貿易地區為何處？(A)泉州 (B)廈門 (C)杭州 (D)惠州
- 33、文中鹿港丁協源家族始祖丁克家的第六子，其中祭祀丁克家應為哪一類型(A)唐山祖 (B)開臺祖 (C)互助會 (D)天地會。
- 34、丁壽泉一家定居的地方，在乾隆年間隸屬於下列哪一個行政區？(A)臺灣府(B)臺北府(C)臺南府(D)承天府。

附表是丁丁在閱讀臺灣歷史時所做的資料表格整理，根據表中資料所示，以及課堂所學的歷史知識，回答下列相關問題：

項目	早期	晚期
貿易對象	甲	中國、日本、東南亞、歐美
主要出口商品	乙	丙
主要進口商品	紡織品、藥材、日用品	鴉片、紡織品
商業組織	丁	戊
重要港口	己	庚

- 35、此張表格的主題應為下列何者？(A)大航海時代各方勢力的競逐 (B)清代實施渡台禁令前後的臺灣貿易 (C)臺灣開港前後的對外貿易 (D)明鄭時期臺灣的貿易概況。
- 36、表格中的「乙」「丙」的出口商品中，哪一項商品是相同的，皆為出口的主力？(A)茶葉(B)鹿皮(C)蔗糖 (D)稻米。
- 37、己或庚皆為清代重要的港口，下列哪一港口，並非名列在己或庚的港口之內？(A)鹿港(B)雞籠(C)安平 (D)台北
- 38、表格中的「丙」為清代後期台灣三寶，那些作物的外銷，使北部的客家人累積財富，地位提昇？(A)糖、茶 (B)樟腦、鹿皮 (C)茶、樟腦 (D)稻米、茶
- 39、下列關於丁的敘述，何者有誤？(A)這些商業組織可以配運商品和控制商品價格的功能 (B)這些商業組織幾乎只出現在台灣東部 (C)這些商業組織對外貿易的地區主要以中國大陸為主 (D)這些商業組織出口港口為清代官方指定的合法通商口岸，又稱為正口

雲門舞集的著名舞劇《薪傳》描寫先民渡海來臺的冒險艱辛，其中的〈渡海〉橋段，充分表現出先民「柴船過烏水，唐山過臺灣」的驚險景象。請問：

- 40、清帝國早期，來臺的先民原鄉大多位於哪些省區？(A)閩、粵(B)粵、浙(C)閩、浙 (D)粵、黔
- 41、上文提及「柴船過烏水，唐山過臺灣」，其中的「烏水」指的是下列何者？(A)太平洋(B)臺灣海峽 (C)濁水溪 (D)大西洋
- 42、清代早期先民渡海來臺的移墾社會，下列哪些並非其特色？(A)移民比例懸殊(B)分類械鬥頻繁(C)移民忙於拓墾，文教事業不發達 (D)買辦因行郊盛行，使其地位崛起

吳沙，福建漳州人，曾至三貂社，看見一大片肥沃的田野，卻沒有被開發成田地，覺得非常可惜；於是，招募漳、泉、粵的人民，每人給米一斗，斧一把，開始進行拓墾。嘉慶元年，漢人移民已到烏石港，建築土圍為根據地，此即是頭圍，後陸續拓展到四圍，因此後人尊稱吳沙為『開蘭第一人』。

- 43、吳沙招募數千漢人到宜蘭開墾，使得移民大量增加，而且因海盜盛行，故清廷因而設官管理，也追認吳沙開墾是合法的。下列哪一行政區是當時設立的？(A)淡水廳 (B)彰化廳 (C)諸羅縣 (D)噶瑪蘭廳。
- 44、吳沙帶著漢人開墾宜蘭平原之前，○○○族農耕範圍已遍及各地，吳沙所率領的羅漢腳只能找較為偏僻的地方墾拓。故漢人以許多手法，侵占○○○族的土地。例如將死貓、死狗丟入○○○族的田地，使○○○族因覺得不吉利而放棄田地。漢人種種欺壓行為，終於迫使○○○族往花蓮與台東遷移，請問文中○○○指何族 (A)西拉雅族 (B)凱達格蘭族 (C)噶瑪蘭族 (D)賽夏族
- 45、在此處落地生根的閩、粵等地移民，其各有不同的原鄉信仰，但也有哪一共同信奉的神明？(A)清水祖師 (B)土地公 (C)三山國王 (D)開漳聖王。
- 46、吳沙，福建漳州人，請問吳沙信仰的原鄉神明為何？(A)清水祖師(B)土地公(C)媽祖 (D)開漳聖王。

台灣開港通商之後，臺灣社會增添不少西方色彩，傳教士來臺傳教，也積極設立醫院、創辦學校，西方文化的再傳入，使台灣文化多姿多采。

- 47、下列何者不是當時傳教士在臺灣傳教的方式？(A)向人民施壓，強迫人民信教(B)創建醫院(C)在教堂講道(D)創建西式學校。
- 48、而台灣開港後，西方傳教士藉醫療傳教，而此人在台灣北部傳教，被形容是「一手聖經，一手鉗(夾持東西的用具)」的哪一位(A)馬雅各(B)蘭大衛(C)巴克禮(D)馬偕。
- 49、1865年英國基督教長老教會宣教師「馬雅各」醫師在臺南西門外看西街(今仁愛街)傳道兼行醫。至1867年馬雅各又於二老口街許厝，建立當時全台第一所西醫，此為當今臺南市哪一所醫院的前身？(A)成大醫院(B)臺南醫院(C)臺大醫院(D)新樓醫院。
- 50、為何文中有說西方文化的再傳入，你如何解釋 (A) 因明鄭時期已經有文教事業 (B) 因大航海時代荷西曾經將西方文化傳入 (C) 因清初允許西方傳教士進入台灣傳教 (D) 因沈光文等人將漢人文化傳入台灣

一年級歷史答案

B B A B B, C B D D A (1~10)

A C B D C, A D A D B (1~20)

A D C A B, A A B B D (21~30)

B A B A C, C D C B A (31~40)

B D D C B, D A D D B (4~50)