

選擇題 (1-50 題, 每題 2 分)

1. 快樂國的產業結構是以對外貿易為主, 附表為某四個國家與快樂國之間的國際貿易情況。請問: 其中以哪一個國家和快樂國之間的貿易總值最大, 成為重要的貿易夥伴?

(A)甲國 (B)乙國 (C)丙國 (D)丁國。

國家	甲	乙	丙	丁
快樂國進口總值 (百萬美元)	500	150	600	350
快樂國出口總值 (百萬美元)	700	400	500	550

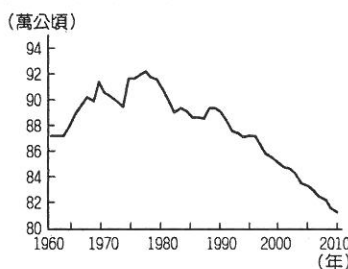
2. 彰化、雲林為臺灣重要的蔬菜、花卉等作物生產重鎮。請問: 當地有利發展的條件為何?

(甲)平原廣大(乙)終年有雨(丙)人口眾多(丁)交通便利

(A)甲乙 (B)乙丙 (C)甲丁 (D)丙丁。

3. 臺灣的產業活動由第一級產業轉變為以二、三級產業活動為主, 附圖為歷年臺灣耕地面積統計圖, 造成變化的主要原因為何?

(A)氣候變遷 (B)人口老化 (C)產業轉型 (D)地層下陷。



4. 臺灣在民國 50 年代時, 主要以輕工業為主。當時主要利用臺灣何項較為優越的區位條件來加以發展?

(A)技術進步 (B)原料充足 (C)工資低廉 (D)市場廣大。

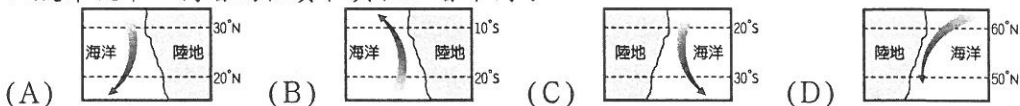
5. 承上題, 當時於沿海地區發展加工出口區, 主要為吸引國外哪些條件的投入?

(A)資金、動力 (B)技術、原料 (C)資金、技術 (D)勞工、市場。

6. 阿明每週都會在經濟海域附近捕魚, 請問: 這是哪一種漁業型態?

(A)養殖漁業 (B)遠洋漁業 (C)沿岸漁業 (D)近海漁業。

7. 依據洋流水溫與流經海域水溫的差異, 可區分為暖流和寒(涼)流二種性質不同的洋流。根據上述定義, 下列四股洋流中, 何者的性質和其他三者不同?



8. 胖虎從美國學成歸國後, 希望創業並從事科技工業。請問: 該類型產業何種條件需求較高?

(A)勞工、技術 (B)交通、市場 (C)技術、資金 (D)原料、資金。

9. 2016 年國際蘭展在臺南後壁舉行, 臺灣儼然已經是全球蝴蝶蘭最大的輸出國。請問: 高級花卉的栽培正符合臺灣何種農業振興措施?

(A)使用機械耕作 (B)犧牲工業成就農業 (C)拒絕外國農產品進口 (D)推展精緻農業。

10. 臺灣早期工業以輕工業為主, 揭開了臺灣經濟發展的序幕, 而這些早期工業活動多具有哪一種特色?

(A)技術密集 (B)資本密集 (C)能源密集 (D)勞力密集。

11. 臺灣山多平原少且人口密集, 此種條件符合哪種農業經營的特徵?

(A)產品多樣化 (B)集約農業 (C)品牌經營 (D)產品商品化。

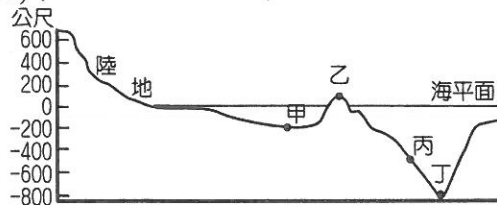
12. 臺灣土地面積有限, 農地也日漸減少, 但農產量卻反而大增。造成這樣的情形與下列哪一項因素最有密切的關係?

(A)土壤肥沃 (B)觀光農業興起 (C)農村勞力充足 (D)農業技術進步。

13. 國家經濟發展程度通常可由人口、產業等條件來加以判斷，經濟較為發達的國家，最可能出現下列哪一特徵？
 (A)出生率低、扶養比低 (B)出生率低、扶養比高 (C)出生率高、扶養比低 (D)出生率高、低扶養比高。
14. 臺塑、中油等石化工業近年來由於石油價格高漲而獲利可觀。請問：臺灣石化工業最早在什麼時候開始發展？
 (A)民國 50 年代 (B)民國 60 年代 (C)民國 70 年代 (D)民國 80 年代。
15. 早期嘉南平原分布許多蔗糖工廠，以臺糖公司的規模最大，這項工業設廠考慮的首要區位條件為何？
 (A)市場 (B)原料 (C)交通 (D)勞工。
16. 臺灣曾爆發的「口蹄疫」事件，造成大量豬隻死亡。請問：這在哪個縣市可能較為嚴重？
 (A)雲林 (B)南投 (C)新北 (D)桃園。
17. 臺灣的水果不但種類多且品質優良，在國際市場上大受歡迎。請問：臺灣水果種類多的原因為何？
 (A)集約度高 (B)市場廣大 (C)生產成本低 (D)地形氣候多樣。
18. 地理老師解釋臺灣早期加工出口區與重工業的發展，這會在附圖中何處？
 (A)甲 (B)乙 (C)丙 (D)丁。



19. 臺灣勞工的法定工作時數，自民國 90 年元旦開始，已從每週工作 48 小時縮減為 42 小時。在其他條件不變下，這項改變對下列哪一種產業原先的生產成本影響最大？
 (A)紡織 (B)石化 (C)資訊 (D)生物科技工業。
20. 嘉義沿海的漁民多在凌晨時出海前往鄰近海域捕魚，清晨時返回漁獲市場進行新鮮漁獲拍賣。請問：當地漁民作業的地點最可能為哪一個海域？
 (A)臺灣海峽 (B)太平洋 (C)巴士海峽 (D)東海。
21. 在理論上，工廠應設立於成本最低處，若某種工業使用的原料體積大而且重，但製成成品後，體積和重量大為減少，則此種工業的最佳設置區位應在何種地點？
 (A)原料產地 (B)市場所在 (C)勞工眾多處 (D)能源充足處。
22. 各種工業類型的發展條件皆不相同，其中何種工業活動最符合下列特性？
 (甲)技術密集度高(乙)附加價值高(丙)資本密集度高
 (A)輕工業 (B)重工業 (C)高科技工業 (D)加工出口業。
23. 附圖為海底地形剖面示意圖，圖中哪一點位於大陸棚區？
 (A)甲 (B)乙 (C)丙 (D)丁。

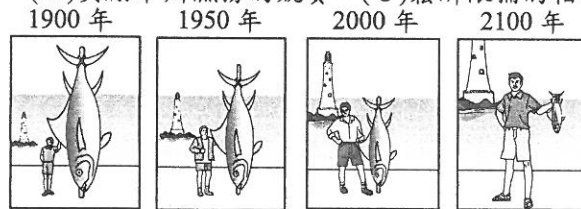


24. 附表為 2006 年世界進口與出口貿易額排名前五名的國家，由表中數據可以推論，下列何者為貿易入超國？
 (A)德國 (B)日本 (C)英國 (D)中國。

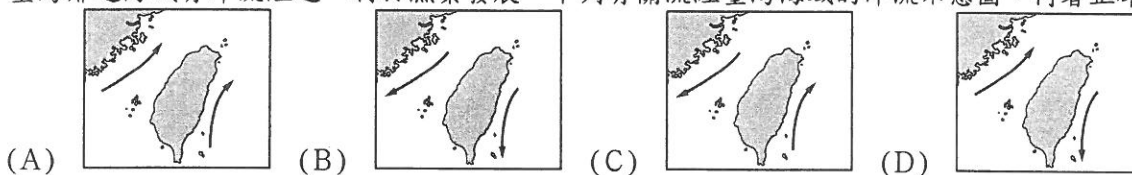
單元：億美元

排名	出口額		進口額	
	國家	金額	國家	金額
1	德國	11,123	美國	19,196
2	美國	10,373	德國	9,102
3	中國	9,691	中國	7,916
4	日本	6,471	英國	6,008
5	英國	4,901	日本	5,775

25. 苗栗丘陵的農業活動以柑橘及茶葉的生產為主，稻米的生產量並不多。請問：最主要的原因為下列何者？
 (A)山丘坡陡 (B)降水不足 (C)勞力不足 (D)面積狹小。
26. 臺灣未來發展的產業必須符合「三高四低」，亦即高附加價值、高資本、高技術密集及低勞力密集、低污染、低土地利用、低耗能。以下哪一項產業最能符合上述特性而成為臺灣未來的明星產業？
 (A)資訊 (B)化學 (C)鋼鐵 (D)玩具。
27. 在臺灣，有毛巾業者為了增加競爭力，把毛巾摺成蛋糕形狀，成為廣受歡迎的禮盒；也有部分果農將水果製成果醬、果酒、果醋等產品銷售，以因應外國農產品的低價競爭。上述這些作法，主要是要達到下列何項目的？
 (A)提高附加價值 (B)降低生產成本 (C)縮小城鄉差距 (D)減少運輸里程。
28. 宜蘭縣南方澳漁港附近，有許多魚罐頭工廠，其工業區位條件為何？
 (A)市場區位 (B)原料區位 (C)勞工區位 (D)動力區位。
29. 下列各行業中，何者不屬於第三級產業活動？
 (A)貨車司機 (B)銀行經理 (C)美髮小姐 (D)工廠工人。
30. 臺灣的畜牧業以欄牧為主，其主要影響因素為何？
 (A)土地狹小 (B)人口太多 (C)氣候溫和 (D)政府政策。
31. 臺灣北部區域為酪農業的主要市場，然而目前臺灣重要的畜牧區多位於中、南部地區。請問：有利於中、南部牧場將相關商品運往北部都市的因素為下列何者？
 (A)產品品質優良 (B)交通運輸改進 (C)地狹人口稠密 (D)開闢海運運輸。
32. 附圖是阿乖以圖畫方式，表示他對漁業資源枯竭的看法。根據圖中內容判斷，下列哪一項做法最有助於解決他所提出的問題？
 (A)限制魚類品種的培育 (B)獎勵舉辦漁撈的競賽 (C)鬆綁限捕的相關規定 (D)規範捕魚範圍及數量。



33. 臺灣的自創品牌產業近年來在國際上廣為人知，但下列何者並非臺灣自創品牌？
 (A)捷安特 (B)趨勢科技 (C)蘋果 (D)華碩。
34. 國際貿易為臺灣經濟發展的重要命脈，請問：下列四種產業活動中，何者不屬於國際貿易的範圍？
 (A)購買西亞石油 (B)開設義大利餐廳 (C)電腦出口至歐洲 (D)引進美國牛銷售。
35. 臺灣的輕工業比重逐年下降，主要原因是工業發展的哪一項優勢已逐漸消失？
 (A)充足的動力 (B)廉價的勞工 (C)豐富的原料 (D)廣大的市場。
36. 美國的矽谷原為一座果園，卻在政府的規畫下點石成金，成為今日世界產值最高的工業區。請問：該區域發展最主要的區位條件為下列何者？
 (A)原料 (B)市場 (C)政策 (D)動力。
37. 電腦的發明造成工業生產自動化，產量大幅提高。請問：這種科技的發展，主要會降低哪一項生產因素的成本？
 (A)原料 (B)動力 (C)市場 (D)勞工。
38. 為了降低生產成本，以提高產品競爭力，煉鋁工廠的設置區位條件應先考慮下列哪一個因素？
 (A)原料產地 (B)市場需求 (C)技術設備 (D)動力充足。
39. 臺灣鄰近海域有洋流經過，利於漁業發展。下列有關流經臺灣海域的洋流示意圖，何者正確？

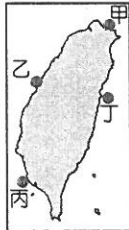


40. 臺灣的工業分布有明顯集中的現象。請問：下列何種工業活動多集中在北部地區？
 (A)電子資訊業 (B)石化工業 (C)鋼鐵工業 (D)農產加工業。
41. 台灣東部以石材工業為主，這是受哪一工業區位因素的影響？
 (A)原料 (B)市場 (C)勞工 (D)動力

42. 產業活動在進行時，交通運費占了極大的比例，如具時效性的精密產業及快速運輸的時鮮業等，運費成本漸高。請問：在趨向全球化貿易活動的同時，這種現象將有利於哪一級產業活動的發展？
 (A)第一級產業 (B)第二級產業 (C)第三級產業 (D)第四級產業。
43. 每年冬季，臺灣漁民在臺灣海峽捕獲烏魚。請問：這是哪種類型的漁業？
 (A)遠洋漁業 (B)近海漁業 (C)養殖漁業 (D)淡水漁業。
44. 住在高雄的奶奶年輕時在當地的加工出口區工作。請問：當時她最不可能從事哪一種產業？
 (A)鋼鐵業 (B)紡織業 (C)石化業 (D)資訊業。
45. 附表是四種不同產品的特性說明。若僅考慮表中的產品特性，何者的設廠地點應盡量接近原料產地？
 (A)甲 (B)乙 (C)丙 (D)丁。

產品	特性
甲	100 公斤原料可製成 10 公斤產品。
乙	1 立方公尺原料可製成 100 立方公尺產品。
丙	原料加工成產品後易破碎。
丁	原料加工成產品後易腐敗。

46. 承上題，那些產品的設廠地點應盡量接近市場？
 (A)甲乙 (B)乙丙丁 (C)甲乙丁 (D)甲丙丁。
47. 第二級產業活動依其類型可分為輕工業及重工業，其所需要的發展條件各不相同。請依下列各項產業活動的特性判斷，何者屬於輕工業？
 (A)工廠規模大，如新竹科學園區 (B)員工的數量相當多，且以廉價勞力為主 (C)資金需求量大，多為該國的策略工業 (D)鄰近大學及研究機構，研發成本的比重高。
48. 小玲是小學五年級的學生，其居住的家庭型態屬於大家庭，家中成員有已退休的 72 歲爺爺和 68 歲的奶奶、開工廠的叔叔、在電子公司當作業員的姑姑、當律師的堂哥、從事教職的堂妹、開餐廳的爸爸和媽媽、一個念高二的姐姐、經營果園的哥哥。請問：根據上述，小玲家中成員中，從事第三級產業活動的共有幾人？
 (A)八人 (B)四人 (C)二人 (D)六人。
49. 臺灣的鋼鐵及石化等工業受限自然條件的影響，多分布於附圖中哪一個港口地區，以就近取得原料進口？
 (A)甲 (B)乙 (C)丙 (D)丁。



50. 承上題，該港口附近有許多鋼鐵工業、石化工業，其最主要的工業區位條件為下列何者？
 (A)原料 (B)市場 (C)政策 (D)交通。

一年級地理、每題2分

1~10 ACCCC, DCCDD

11~20 BDBBB, ADDAA

21~30 ACACA, AABDA

31~40 BDCBB, CDDCA

41~50 ACBDA, BBBBCD