

※注意：答案卡班級、座號請正確書記，違者扣分。

範圍：台灣史前文化到鄭氏政權

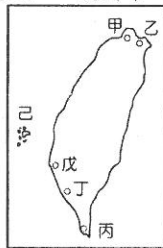
※配分：1-32 每題 3 分，第 33 題 4 分。

1. 某間史前文化博物館對其遺址有如下的介紹：「民國 44 年秋天，一位空軍飛行員由空中飛越淡水上空時，驚見飛機的羅盤出現了磁力異常的反應，於是少校協同地質學家前來探勘，才發現到處可見的鐵塊與鐵渣，其實是史前人類煉鐵的遺留物，之後此地陸續出土陶器、鐵器、漢人錢幣、琉璃珠、墓葬等各類豐富的遺物，從一些證據判斷，這一型的文化人很有可能是平埔族的祖先。

請根據資料，從下列推測中選出最接近事實者。(A)上文所述很有可能是大坌坑文化 (B)這一類型的文化人很有可能是噶瑪蘭族的祖先 (C)這一文化人很有可能是來自中國東南沿海的移民 (D)此一文化人和臺灣四周的民族應有相當密切的往來。

2. 台灣的史前文化豐富且多元，根據目前考古出土資料，最早出現「熟食」的是？(A)卑南文化 (B)大坌坑文化 (C)長濱文化 (D)十三行文化。

3. 西元 1597 年，有一封呈報給國王的信中寫到：「我們希望占領福爾摩沙的這個港口，最迫切的理由是為了確保菲律賓的安全。我們要確保菲律賓、馬尼拉的安全就必須擁有這個港口。」由上述背景判斷，寫信的主人佔領右圖中的哪裡？(A)甲乙 (B)乙 (C)戊丁 (D)丁丙。



4. 西元 1650 年左右，幾乎控有全臺，獨霸臺灣的歐洲國家為何？(A)日本 (B)荷蘭 (C)西班牙 (D)葡萄牙。

5. 荷蘭佔領台灣的「主要目的」為何？(A)荷蘭以台灣支援菲律賓總部的貿易 (B)因為中國實施海禁，荷蘭只好跟台灣貿易 (C)荷蘭為了跟日本競爭對中國的貿易，只好佔領台灣 (D)荷蘭以台灣作為國際貿易的轉運站。

6. 荷蘭東印度公司總督曾說：「臺灣真是一頭好乳牛。」這句話表示臺灣為他們公司帶來相當大的利益。請問：下列哪些商品是荷蘭人從臺灣出口的特產？甲. 絲綢 乙. 蔗糖 丙. 稻米 丁. 鹿皮 戊. 茶葉 己. 香料；(A)甲乙丙 (B)乙丙丁 (C)丙丁戊 (D)甲乙己。

7. 鄭氏時期採取「寓兵於農」的方式，把軍隊派駐各地，就地開墾從事農耕，一方面自耕自食，一方面勞作健體。今日台灣仍保有不少屯田留下的地名，請問哪一個地名與屯田有關？(A)高雄市左營區 (B)彰化縣鹿港鎮 (C)台南市官田區 (D)屏東縣車城鄉。

8. 鄭成功在台灣設立「承天府」作為行政中心，承天府是今日的赤崁樓，請問赤崁樓是荷蘭統治時代的哪一座城堡？(A)熱蘭遮城 (B)普羅民遮城 (C)紅毛城 (D)巴達維亞城。

9. 台灣史上原住民被劃分為「熟番」與「生番」的判斷依據是？(A)族人居住於高山或平原？(B)族人有無發明出文字？(C)族人有無發展出農業？(D)族人與漢人接觸時間的早晚？

10. 明清兩代都曾實施海禁政策，相關史實，何者需要修正？(A)明代實施海禁是為了防範倭寇 (B)清代實施海禁是為了打擊台灣的鄭氏政權 (C)日本也曾實施海禁政策 (D)海禁是禁止沿海居民出海，包含禁止捕魚、貿易等活動。

11. 附表是某一組織的重要事件整理，根據內容判斷，下列何者最適合放入表中的「？」處？【105 會考】

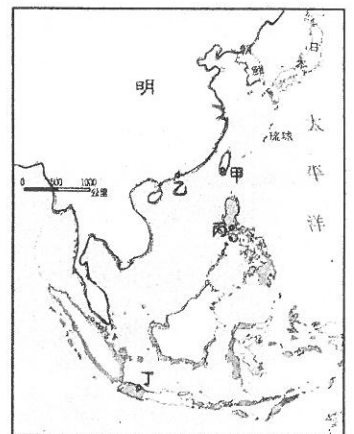
重要事件
★ 成立於十七世紀初
★ ?
★ 曾在臺灣、南非好望角等地建立殖民地
★ 在日本鎖國時期，獲准與日本貿易

- (A)從印度輸出大量瓷器販賣至中國
(B)以白銀吸引中國商人至馬尼拉交易
(C)以澳門為據點，推動亞洲貿易事業
(D)設亞洲總部於巴達維亞城，統籌經營。

12. 歷史上哪一時期將臺灣原住民區分成平埔族與高砂族？(A)史前時期 (B)清帝國時期 (C)日治時期 (D)中華民國時期。

13. 十七世紀，最早佔領並統治臺灣的歐洲國家是？(A)葡萄牙 (B)荷蘭 (C)西班牙 (D)英國。

14. 參考右方地圖，「乙」區是哪一國的亞洲貿易據點？(A)葡萄牙 (B)荷蘭 (C)西班牙 (D)英國。



15. 大航海時代，歐洲國家陸續來到亞洲的原因為何？(A)歐洲人喜歡探險 (B)歐洲人為了傳播基督教福音 (C)歐洲人想佔領亞洲土地 (D)歐洲對亞洲的香料、絲綢等物品需求日增。

16. 關於台灣的史前時代敘述，何者錯誤？(A) 冰河時期，台灣與中國大陸相連 (B) 冰河時期也是畫分舊石器與新石器的大致時間界線 (C) 新石器時期，人類會磨製石器，並可以自主生產糧食 (D) 圓山文化發現台灣最早的稻米化石。

17. 姐姐看到電視介紹臺南市將軍區地名的由來，是因為某人協助清廷結束臺灣鄭氏政權，康熙皇帝准許立「將軍祠」來表揚他的功績。請問「某人」是誰？(A) 施琅 (B) 鄭克塽 (C) 沈有容 (D) 鄭成功。

18. 台灣位於南島語群分布範圍的哪一方位？(A) 北 (B) 南 (C) 東 (D) 西。

19. 在年代的界定上，劃分「史前時代」與「歷史時代」的依據是？(A) 石器 (B) 農業 (C) 用火 (D) 文字。

20. 臺灣的史前文化各有其時代特色，關於史前文化敘述，何者正確？
(A) 長濱文化過著農耕的生活 (B) 大坌坑文化會煉鐵 (C) 圓山文化會燒製陶器 (D) 十三行文化的石器以打製為主。

21. 古今地名對照，下列配對何者錯誤？(A) 蛤仔難，今宜蘭 (B) 半線，今彰化 (C) 大員，今雲林 (D) 雞籠，今基隆。

22. 16 世紀後期，為何原以澎湖為據點的漢人海商(海盜)，逐漸轉移到臺灣活動？(A) 中國海禁政策包含澎湖 (B) 明朝政府派軍駐兵澎湖 (C) 日本實施鎖國政策 (D) 澎湖風浪太大，海商無法克服，因此選擇到台灣。

23. 「逐鹿傳說」的相關史實，何者有誤？(A) 食物來源不易，傳達珍惜物資的訊息 (B) 邵族定居日月潭的傳說 (C) 原住民利用口語傳說，傳承歷史和文化的記憶 (D) 描述先民遭遇大洪水，傳達敬畏且尊敬大自然的訊息。

24. 俊凱到雲林北港遊玩，除了看到聞名全臺的朝天宮媽祖廟外，還看到一位歷史人物的開臺(登臺)紀念碑，他曾招募漢人開墾今日雲林、嘉義一帶。請問他是？(A) 施琅 (B) 顏思齊 (C) 沈有容 (D) 鄭成功。

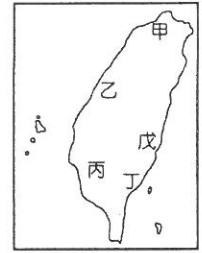
25. 附圖中的路線與商品，可推測這應為臺灣在哪一個時期的對外貿易網絡？

- (A) 荷治時期
(B) 清帝國時期
(C) 鄭氏時期
(D) 史前時代。



26. 凱達格蘭族人使用一種叫「Manka」的獨木舟作為交通工具，經常聚集於港口，漢人因此稱呼港口「艋舺」(今台北萬華)。依據清領時期的原住民分類而言，凱達格蘭族是屬於哪一族？(A) 高砂族 (B) 平埔族 (C) 熟番 (D) 生番。

27. 距今 5200 年前至 2300 年前，某史前遺址中，曾出土珍貴的石板棺墓群，均朝同一方向埋葬，殉葬品中出現陶器、玉器飾品，可見當時人已有靈魂的觀念。此遺址位於右圖中的何處？(A) 甲 (B) 戊 (C) 丁 (D) 丙。



28. 承上題，此文化屬於哪一個史前時期？(A) 新石器時代 (B) 金屬器時代 (C) 舊石器時代 (D) 歷史時代。

29. 舊石器時代、新石器時代與金屬器時代的年代畫分依據為何？(A) 製作器物的技術 (B) 文字發展的程度 (C) 居住區域的位置 (D) 使用貨幣的類型。【仿 107 會考】

30. 我們身為彰化人應該要知道彰化的歷史。三百年前，彰化平原住著某一南島語族，他們又名巴布薩族，族裡的馬芝遊社 (Taurinap 或 Betgijlem) 位於今日彰化縣福興鄉番社村。菜園角遺址群即為馬芝遊社舊址所在。範圍包含今日鹿港鎮、福興鄉、埔鹽鄉全境和秀水鄉西部。馬芝遊社首次出現在文獻上是荷治時期，記載當時有鹿皮交易，人口約 200 多人。馬芝遊社婦女頭上會插雞毛，以為美觀。清朝雍正年間，大量漢人開墾彰化地區，馬芝遊社一部分把土地賣給漢人，一部分自行招租漢人收取番租，與漢人互動加深，逐漸漢化。1850 年後，一部分馬芝遊社人因土地流失，生活困苦，遷移至埔里鎮大城裡。留下的馬芝遊社人與漢人互通婚漢化嚴重，在日本統治時期於 1909 年人口統計時已分不清漢人和巴布薩族之別。請問：巴布薩族又稱哪一個族名？(A) 西拉雅族 (B) 貓霧揀族 (C) 凱達格蘭族 (D) 噶瑪蘭族。

31. 台灣史上哪個時期從國外進口「軍火」等物資，已儲備戰爭物資之用？(A) 荷治時期 (B) 鄭氏時期 (C) 清領前期 (D) 清領後期。

32. 關於日本頒布的「鎖國政策」，何者需要修正？(A) 鎖國讓日本退出東亞貿易競爭，荷、日不再有衝突 (B) 鎖國讓荷蘭對日貿易受挫，減少駐臺守軍 (C) 鎖國期間，日本仍有跟中國人貿易 (D) 十七世紀，日本頒布鎖國政策，禁止日本人出國，在國外的日本人也不可回國。

33. 在新北市八里區某地層往下挖出三個文化遺層：甲層出土繩紋陶片；乙層出現鐵器；丙層發現打製石器，並有用火的痕跡。若從地面向下挖掘，請問地層由淺到深，依序會挖出的地層順序是？

- (A) 乙甲丙 (B) 甲乙丙 (C) 甲丙乙 (D) 乙丙甲。

彰化縣福興國中 109 學年度 第 1
學期 第一次段考 歷史科 一
年級試題

1~32 每題 3 分，第 33 題 4 分

1. D C A B D

6. B A B D C

11. D C B A D

16. D A A D C

21. C B D B C

26. C C A A B

31. B B A

彰化縣福興國中 109 學年度 第 1
學期 第一次段考 歷史科 一
年級試題

1~32 每題 3 分，第 33 題 4 分

1. D C A B D

6. B A B D C

11. D C B A D

16. D A A D C

21. C B D B C

26. C C A A B

31. B B A