

彰化縣福興國中一〇九學年度上學期第二次段考地理科一年級試題

命題老師：陳雅萍 配分：第1題4分；2-33題3分

班 座 號 _____ 姓 名 _____

【請依學校規定用 2B 鉛筆在答案卡上作答】

壹、單選題：

1. 下列是有關「沙岸」的敘述：(甲)沿岸平原較廣(乙)海岸線平直少曲折(丙)岸外海水較深(丁)多海灣。請問：哪一組是完全正確的？

(A)甲乙 (B)甲丙 (C)乙丙 (D)丙丁。

2. 師大地理系的師生想要進行岬灣海岸專題的實地考察，希望能藉此了解岬灣海岸特性。請問：下列哪一個縣市最適合做為他們考察的地點？

(A)高雄市 (B)屏東縣 (C)花蓮縣 (D)新北市。

3. 「佩宜暑假與家人到臺灣某一處海岸遊玩，發現此地的海岸由珊瑚礁組成，海水清澈，岸邊的椰子樹葉隨風搖曳，太陽西落海平面的美景更是令人難忘。」請問：佩宜所到的海岸最可能位於右圖中何處？〔94. 第一次基測〕

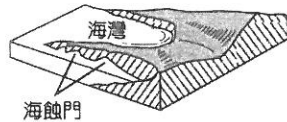


(A)甲 (B)乙 (C)丙 (D)丁。

4. 臺灣沿海有各種不同的海岸地形，若是從彰化縣福寶濕地出發，沿著海岸線，順時針環島一周，沿途可見的海岸有：(甲)珊瑚礁海岸(乙)岬灣海岸(丙)斷層海岸(丁)沙岸，若依序排列應為下列何者？

(A)丁甲乙丙丁 (B)丙丁乙甲丙 (C)丁乙丙甲丁 (D)丙乙甲丁丙。

5. 若將臺灣的海岸分成下列四區：(甲)東部(乙)南部(丙)西部(丁)北部，則右圖的海岸地形主要分布於哪一區？

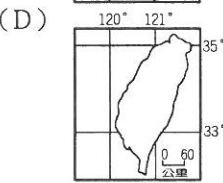
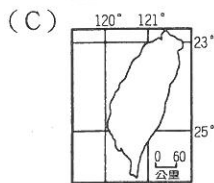
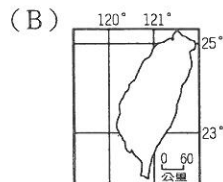
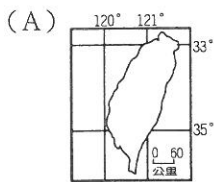


(A)甲 (B)乙 (C)丙 (D)丁。

6. 臺灣周圍有許多離島：(甲)澎湖群島(乙)琉球嶼(丙)蘭嶼(丁)綠島(戊)東沙島(己)太平島(庚)釣魚臺列嶼。下列選項中全屬於火山島的是？

(A)甲丙庚 (B)乙戊己 (C)乙丁庚 (D)甲丙己。

7. 臺灣島正確的經緯度位置是下列何者？



8. 下列敘述中，哪些是「相對位置」的描述？(甲)美國位於西半球及北半球(乙)福興鄉位於彰化縣的西部沿海(丙)小華坐在教室第3行、第2列(丁)小明坐在小美的東南方

(A)(甲)(丁) (B)(乙)(丙) (C)(乙)(丁) (D)(甲)(丙)。

9. 來自英國的Jason到彰化縣旅遊，想去鹿港鎮參觀龍山寺一級古蹟，他身上有下列四張圖幅大小一樣的地圖。哪張地圖的比例尺會最小？

(A)甲 (B)乙 (C)丙 (D)丁。

(甲)彰化縣行政區圖 (乙)臺灣島全圖
(丙)龍山寺參觀路線圖 (丁)鹿港鎮街道圖

10. 住在花蓮的小志一家人利用假期開車南下到臺東探視奶奶，當車子行駛於花東縱谷平原時，右側可以見到哪一座山脈？

(A)中央山脈(B)玉山山脈(C)雪山山脈(D)海岸山脈。

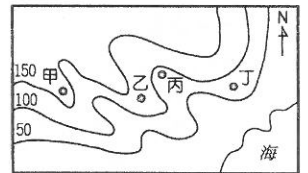
11. 「臺灣某平原為數條河川共同沖積而成，雪山山脈呈東北—西南走向越過平原西北方，平原南方為中央山脈的北端起點，平原東部則有縱向海岸沙丘分布。」上述平原應為下列何者？

(A)花東縱谷平原(B)屏東平原(C)宜蘭平原(D)嘉南平原

12. 分層設色圖中，顏色可以代表不同高度的地形，請問一般深綠色代表何種地形？

(A)丘陵 (B)平原 (C)山地 (D)高原

13. 右圖為某地區的等高線地形圖。中秋節林老師全家計畫到該地區的河邊戲水、烤肉。依據等高線的特色判斷，下列哪一個地點最可能是他們烤肉、戲水之處？



(A)甲(B)乙(C)丙(D)丁。

14. 暑假期間，小丸子和家人開車行駛高速公路從彰化北上環島半圈一路玩到台東參加熱氣球嘉年華。請問：沿途他最不可能經過哪一個地區？

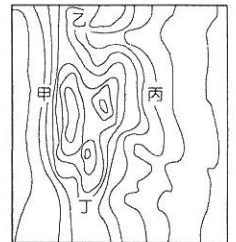
(A)宜蘭平原(B)新竹丘陵(C)嘉南平原(D)臺中盆地。

15. 地形作用力包括外營力及內營力，請問：下列哪一種作用形式屬於內營力？

(A)南投縣信義鄉羅娜沖積扇(B)風化、海水侵蝕的野柳女王頭(C)外傘頂洲(沙洲)(D)陽明山大油坑火山活動

16. 右圖等高線地形圖中，坡面最陡之處是

(A)甲(B)乙(C)丙(D)丁。



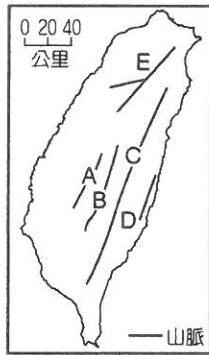
17. 1868年，有外國人在臺灣旅行時發現：「這裡泉水溫度很高，可能被蒸氣燙傷，空氣中瀰漫著濃烈的硫磺味，惡劣的環境不利植物生長。周圍泉水沸騰的聲響很大，就好像地下有一個24小時運作的工作室一樣。」下列哪一離島，具有類似上述旅遊地點的地質環境？

(A)東沙島(B)琉球嶼(C)龜山島(D)金門列嶼

※第一頁，請翻頁作答※

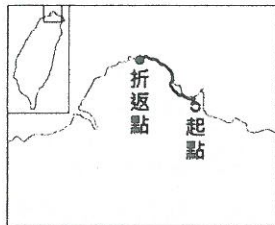
18. 新聞報導：「1999年9月21日凌晨1點47分，芮氏規模7.3的世紀大震從台灣心臟的南投集集刺穿、擴及全台，逾10萬房子震塌、2,454條生命罹難、損失超過3千億元。災難，激發台灣最強大的向心力。20年來，921為台灣留下最深的傷痕、也為台灣社會全面改造奠下根基：催生出完整的《災害防救法》、建築防震法規升級；921，更刺激台灣醫學和科學的躍進。不希望台灣只是被救援的國度，災難醫學科、災難醫療隊從急診專科中孕育而生。」。報導中對臺灣影響深遠的921地震是因哪兩個板塊的作用？(甲)歐亞板塊 (乙)印澳板塊 (丙)非洲板塊 (丁)菲律賓海板塊
(A)甲、乙 (B)乙、丙 (C)乙、丁 (D)甲、丁。

19. 蔣渭水高速公路自通車後成為台北與宜蘭地區的交通要道，全台最長的隧道也在此路線上。請問，蔣渭水高速公路穿越右圖中的哪一座山脈？
(A)A (B)C (C)E (D)D。

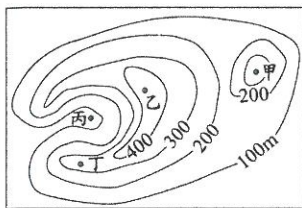


20. 下列哪一種地形的特徵是「頂部平坦起伏不大，面積廣大，邊緣坡度顯著，高度與丘陵相當」？
(A)臺地(B)高原(C)盆地(D)山地。

21. 右圖為臺灣某次馬拉松比賽路線圖，參賽者在路跑過程中，最可能看到下列何種景觀？
(A)岬角與海灣相間(B)潟湖、沙洲遍布(C)大規模的隆起珊瑚礁(D)陡直的峭壁、深切的峽谷

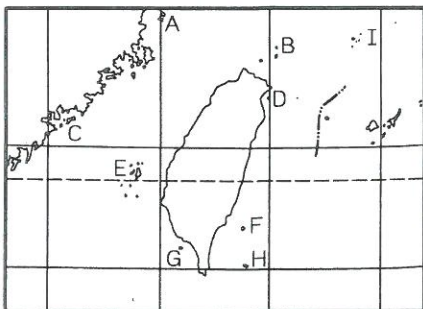


22. 在古代，由於沒有電話和無線電等通訊設備，烽火臺成為傳遞軍情的最好設施之一，傳遞的方法是白天燃煙，夜間舉火。為使軍情能快速傳遞，烽火臺通常設置在視野極佳的位置。右圖中甲、乙、丙、丁哪一地點最適合設置烽火臺？(A)甲(B)乙(C)丙(D)丁



貳、題組：

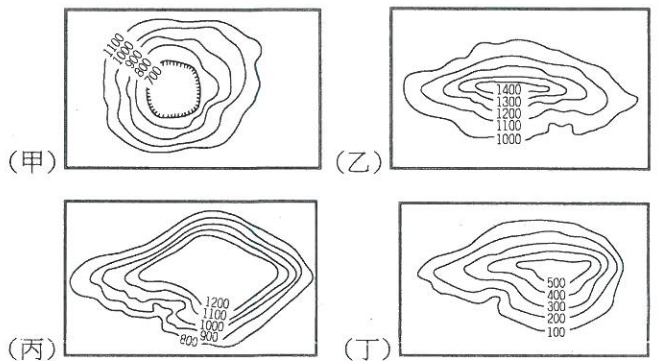
- (一)、附圖為臺灣離島簡圖。請依圖回答下列問題：



23. 哪兩個離島是屬於大陸島？
(A)A、C (B)G、E (C)F、H (D)B、I。

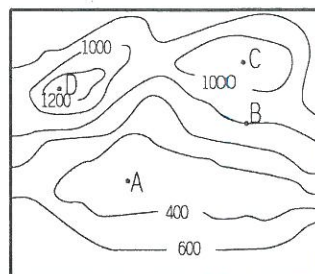
24. D島嶼的成因為下列何者？
(A)火山島 (B)沙洲島 (C)珊瑚礁島 (D)大陸島
25. 小美的遊記寫著：『O是火山爆發形成的島嶼，當熔岩爆發之後，遇到海水迅速冷卻，便凝固成六角形的玄武岩，這種地形在當地很常見。「大果葉柱狀玄武岩」因長年覆蓋於表土下，所以節理保持得相當完整，也因土質與出土時間較晚的關係，大果葉的玄武岩色澤偏黃，和當地其他黝黑玄武岩不同。』請問：根據遊記內容，小美是到哪一處旅遊？
(A)C (B)E (C)F (D)I。
26. 琉球嶼以珊瑚礁景觀的各式岩石著名，代表性的有花瓶岩、觀音岩、老鼠石、美人洞、烏鬼洞...等。而島嶼的海洋、沙灘、水上活動更是小琉球的熱門觀光特色，每至夏季更是人潮擁入。請問：琉球嶼是圖中哪一島嶼？
(A)A (B)E (C)G (D)F。

- (二)以下四圖為等高線地形圖，分別代表不同地形類型。請依圖回答問題。



27. 台灣地形種類多樣，唯獨看不到哪種地形？
(A)甲(B)乙(C)丙(D)丁。
28. 台中市是中部人口稠密、經濟發達的精華區，近日第一條捷運已開始試營運。請問：台中市是位於哪一種地形？
(A)甲(B)乙(C)丙(D)丁。
29. 受板塊位置影響，台灣的山地面積廣大。哪張圖代表山地地形？
(A)甲(B)乙(C)丙(D)丁。

- (三)下圖是為某地的等高線地形圖，請依圖回答問題。



30. 這張地圖等高線間的間距值是多少公尺？
(A)50公尺(B)100公尺(C)200公尺(D)300公尺。
31. B點的高度是幾公尺？
(A)900公尺(B)1000公尺(C)1050公尺(D)800公尺。
32. C點的高度最有可能是
(A)1500公尺(B)1000公尺(C)1150公尺(D)1350公尺。
33. 圖中哪一個地點的高度最高？
(A)A(B)B(C)C(D)D。

※作答完畢，再檢查一次※

福興國中一〇九學年度第一學期第二次段考地理科一年級答案

配分：第 1 題 4 分；2-33 題 3 分

1	2	3	4	5	6	7	8	9	10
A	D	C	C	D	A	B	C	B	A
11	12	13	14	15	16	17	18	19	20
C	B	C	C	D	A	C	D	C	A
21	22	23	24	25	26	27	28	29	30
A	B	A	A	B	C	C	A	B	C
31	32	33							
D	C	D							

福興國中一〇九學年度第一學期第二次段考地理科一年級答案

配分：第 1 題 4 分；2-33 題 3 分

1	2	3	4	5	6	7	8	9	10
A	D	C	C	D	A	B	C	B	A
11	12	13	14	15	16	17	18	19	20
C	B	C	C	D	A	C	D	C	A
21	22	23	24	25	26	27	28	29	30
A	B	A	A	B	C	C	A	B	C
31	32	33							
D	C	D							

福興國中一〇九學年度第一學期第二次段考地理科一年級答案

配分：第 1 題 4 分；2-33 題 3 分

1	2	3	4	5	6	7	8	9	10
A	D	C	C	D	A	B	C	B	A
11	12	13	14	15	16	17	18	19	20
C	B	C	C	D	A	C	D	C	A
21	22	23	24	25	26	27	28	29	30
A	B	A	A	B	C	C	A	B	C
31	32	33							
D	C	D							