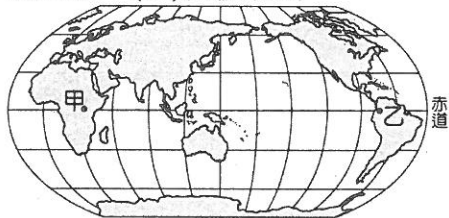


單一選擇題(1-35 每題 2 分；其餘每題 3 分)

- () 1. 郭董駕著私人飛機從臺灣嘉義出發，沿著緯線一路向西飛行，最後他將會到達非洲的哪一個地形區？ (A) 衣索比亞高原 (B) 剛果盆地 (C) 撒哈拉盆地 (D) 喀拉哈里盆地。
- () 2. 非洲內陸地區因為開發較晚而被稱為「黑暗大陸」。若就該洲的地理位置判斷，造成外來文化難以進入的原因為何？ (A) 平直陡峭的海岸 (B) 北有廣大的喀拉哈里沙漠 (C) 地勢高聳崎嶇 (D) 民族主義抬頭。
- () 3. 北極地區在冬季時會出現永夜的天文奇景，下列哪一個地點在當時的永夜時間歷時最長？ (A) 23.5°N (B) 66.5°N (C) 80°N (D) 90°S。
- () 4. 澳洲的地形主體為古老陸塊所形成，這種地質通常造成下列何種特色？ (A) 面積狹小 (B) 河短流急 (C) 溶蝕發達 (D) 地表起伏小。
- () 5. 在全球氣候變遷下，大洋洲中有許多國家面臨被淹沒的威脅。但此威脅對哪一個國家較小？ (A) 夏威夷 (B) 諾魯 (C) 吉里巴斯 (D) 吐瓦魯。
- () 6. 參考附圖，赤道通過的地區幾乎均為熱帶雨林氣候，但圖中的甲、乙兩區卻不是此種氣候類型，其主要的影響因素為下列何者？ (A) 地勢高低 (B) 海陸分布 (C) 洋流差異 (D) 植被疏密。



- () 7. 附圖為澳洲的氣候類型分布圖，圖中哪一個地區的氣候特色終年皆受到副熱帶高氣壓的影響？ (A) 甲 (B) 乙 (C) 丙 (D) 丁。

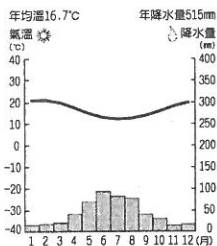


- () 8. 孝維一家人正在討論 8 月 5 日前往澳洲遊覽。請問：下列哪一位的想法最為正確？ (A) 爸爸：「當地氣候春暖花開，景色漂亮。」 (B) 媽媽：「要擦防曬油，否則太陽很大肯定會晒黑。」 (C) 姐姐：「秋高氣爽的天氣，楓葉一定很漂亮。」 (D) 孝維：「慎防低溫，要帶件大衣才行。」
- () 9. 柯市長欲前往大洋洲參訪，該地區的時差和臺灣不大，而季節正好相反。請問：柯市長最可能是到下列哪一個地區？ (A) 玻里尼西亞 (B) 美拉尼西亞 (C) 密克羅尼西亞。
- () 10. 北極地區的降水量相當少，不利於植物生長，故當地多為肉食性動物。請問：造成該地區氣候乾燥的成因為何？ (A) 高壓籠罩 (B) 山脈阻擋 (C) 位居內陸 (D) 氣候嚴寒。
- () 11. 澳洲境內的氣候類型相當多樣化，但缺少哪一種氣候類型？ (A) 溫帶地中海型氣候 (B) 熱帶莽原氣候 (C) 熱帶雨林氣候 (D) 夏雨型暖溼氣候。
- () 12. 某位旅行家從北非乾燥地區出發，向北經地中海到達北歐，在他的旅途中較不可能造訪哪一個國家？ (A) 澳大利亞 (B) 奧地利 (C) 瑞士 (D) 瑞典。
- () 13. 非洲的人口問題，何者敘述最為正確？ (A) 社會增加率最高 (B) 人口總數最多 (C) 死亡率最低 (D) 自然增加率最高。
- () 14. 河川帶來水源成為聚落主要的分布地帶，下列為全球前五大流域面積的河川，其中甲河可能為何者？ (A) 尼羅河 (B) 多瑙河 (C) 萊茵河 (D) 亞馬孫河。

排名	河川名稱	流域面積 (平方公里)
1	甲河	6,112,000
2	乙河	3,730,474
3	丙河	3,254,853
4	丁河	2,981,076
5	鄂畢河	2,972,497

() 15. 北極海的航空交通相當發達，但海運卻極為不便。請問：該地區不利海運發展的原因主要為何？(A)距離較長 (B)海域狹窄 (C)水位低淺 (D)海冰漂浮。

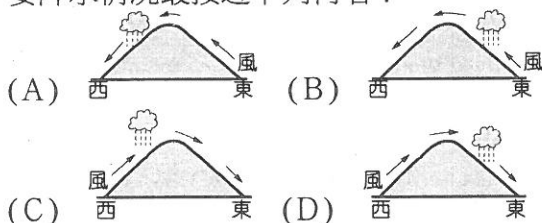
() 16. 附圖為非洲某城市的氣溫及降水量圖，由圖中資料加以判斷，該氣候類型應該為下列何者？(A)溫帶地中海型氣候 (B)熱帶莽原氣候 (C)熱帶雨林氣候 (D)高地氣候。



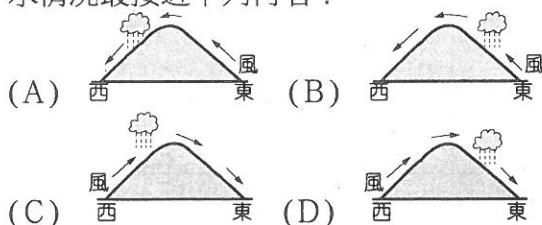
() 17. 承上題，該城市可能為何者？(A)開羅 (B)開普敦 (C)阿爾及爾 (D)約翰尼斯堡。

() 18. 非洲的經濟活動以農礦居多，為世界各大洲中發展較慢的地區。請問：下列哪一個國家的石油產量可能相對較少？(A)摩洛哥 (B)利比亞 (C)奈及利亞 (D)阿爾及利亞。

() 19. 澳洲面積廣大，各地的降水特色大不相同。請問：澳洲西南隅在 7 月分時的主要降水情況最接近下列何者？



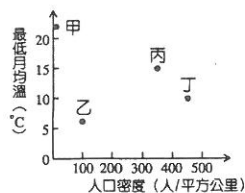
() 20. 承上題，澳洲東南沿海在 1 月的主要降水情況最接近下列何者？



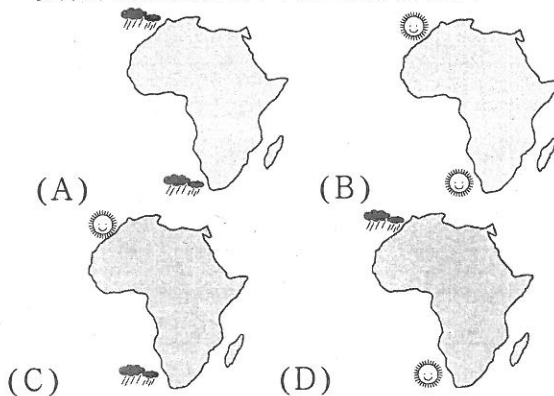
() 21. 大洋洲以熱帶氣候為主，這和下列何種地理條件的關係最為直接？(A)位於國際換日線兩側 (B)位於世界最大海洋上 (C)位於南、北回歸線之間 (D)位於亞洲大陸東側地區。

() 22. 非洲的農業產品多樣，也是多國經濟發展的主力。請問：這些農產品可能不包含下列何者？(A)棉花 (B)可可 (C)甜菜 (D)葡萄。

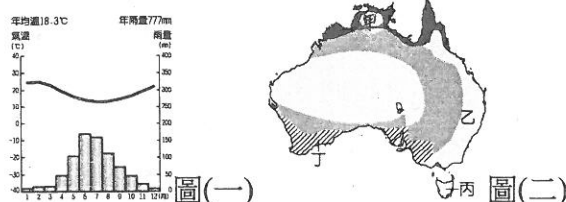
() 23. 「……土著在乾季末期會燒山墾地，用木棒挖洞來種植甘藷，任其生長等待收穫，一段時間後，就另闢新地耕種……。」請問：附圖中哪一種環境條件會出現這種農耕方式？(A)甲 (B)乙 (C)丙 (D)丁。



() 24. 下列哪一張圖能正確呈現非洲在七月時，其境內的溫帶地中海型氣候狀況？



() 25. 圖(一)為澳洲某地區的氣溫及降水量圖，若依其特色判斷，該地區應位於圖(二)中何處？(A)甲 (B)乙 (C)丙 (D)丁。



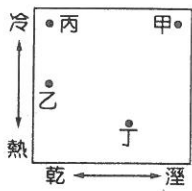
() 26. 承上題，下列哪一個城市的氣候狀況與它極為相似？(A)加拿大溫哥華 (B)美國華盛頓 (C)巴西里約 (D)智利聖地牙哥。

() 27. 大飲葡萄酒公司由世界各地進口盛產期的優質葡萄，集中至工廠再加以釀造。為了全年原料供應無虞，則其進口的地方以下列何組最為適合？(A)法國、美國 (B)智利、澳洲 (C)南非、義大利 (D)日本、西班牙。

() 28. 附表為某四個國家對外主要的出口品清單，請由表中資料判斷，何者最可能為非洲國家？(A)甲 (B)乙 (C)丙 (D)丁。

甲	電腦、汽車、軟體
乙	鋼鐵、汽車、電子產品
丙	咖啡、可可、石油、鐵礦
丁	牛乳、小麥、鐵礦

- () 29. 非洲撒哈拉沙漠以北地區的特色，下列何者敘述較不正確？(A)白人較多 (B)盛行伊斯蘭教 (C)通行拉丁語 (D)阿拉伯人為主。
- () 30. 動植物的分布與氣候環境的關係相當密切，根據圖(一)中甲~丁四個地點的氣候特徵判斷，何者最有可能為圖(二)這種動物的棲息地？(A)甲 (B)乙 (C)丙 (D)丁。

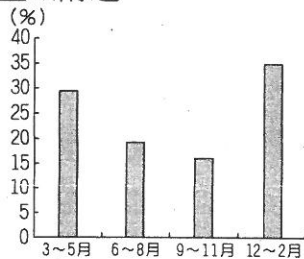


▲圖(一)

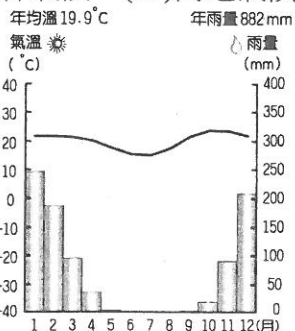


▲圖(二)

- () 31. 附圖是某地各季的國際遊客比例。已知當地乾季的遊客最多，該地最可能位於下列何處？(A)澳洲西南部地區 (B)非洲的阿爾及爾 (C)法國地中海沿岸 (D)美國舊金山附近。



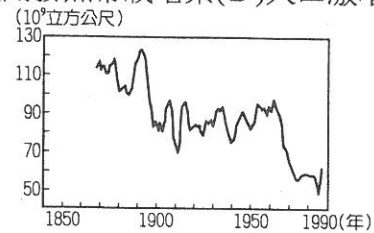
- () 32. 大洋洲的面積廣闊，但卻是地球上人口分布較為稀疏的地區之一，其最主要的原因為何？(A)氣候炎熱 (B)陸地狹小 (C)降水量少 (D)動亂不斷。
- () 33. 非洲的天然植物以赤道為中心，大致呈現南北對稱的特色。請問：若由赤道向北移動，所見到的天然植物依序分別為何？(A)雨林—沙漠—莽原 (B)雨林—莽原—沙漠 (C)沙漠—雨林—莽原 (D)沙漠—莽原—雨林。
- () 34. 下圖為尚比亞的路沙卡氣候圖。請問：該地區的氣候類型應該為下列何者？(A)溫帶地中海型氣候 (B)熱帶莽原氣候 (C)熱帶雨林氣候 (D)高地氣候。



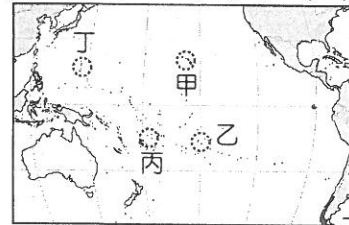
- () 35. 住在臺灣的阿明想利用農曆新年前往澳洲旅遊，他應選擇哪一個地區，其天氣會晴朗少雨較適合戶外活動？(A)甲 (B)乙 (C)己 (D)戊。



- () 36. 附圖為尼羅河的水位測量圖。請問：在1960年代後，該河川水位明顯出現變化，最可能和下列哪一個因素有關？(A)興建亞斯文高壩 (B)闢建蘇伊士運河 (C)大規模開發熱帶栽培業 (D)人口激增用水過度。



- () 37. 阿勇參加開普敦於 6 月分在當地進行世界風箏大賽，當時受到盛行風向的影響，阿勇的風箏多飛往何方？(A)東方 (B)西方 (C)南方 (D)北方。
- () 38. 尼羅河為世界最長的河川，下列有關該河川的敘述，何者正確？(A)位於非洲西北部 (B)河口侵蝕成三角洲 (C)肥沃淤泥孕育古代埃及文明 (D)以往 12 月時定期氾濫。
- () 39. 夏威夷是美國在太平洋上的一個州，戰略交通地位都很重要。根據附圖的位置判斷，夏威夷位於何處？(A)甲 (B)乙 (C)丙 (D)丁。



- () 40. 寶可夢從地球上某一點出發，沿著經緯線前進。他先往南移動 10 公里、向西移動 5 公里，再往北移動 10 公里，結果回到了原點。請問：由上述研判，寶可夢是從下列哪一個地點出發？(A)經度 0 度、緯度 0 度 (B)東經 90 度、北緯 90 度 (C)東經 180 度、緯度 0 度 (D)西經 90 度、南緯 90 度。

()41. 由於自然環境的差異，非洲各地的產業活動皆不相同。請問：下列的配對中，何者正確？
(A)熱帶雨林區—游牧 (B)熱帶沙漠區—游耕 (C)河谷兩岸—灌溉農業 (D)溫帶沙漠區—種植咖啡。

()42. 關於玻里尼西亞敘述，何者最為正確？
(A)位於東半球 (B)位於西半球 (C)位於南半球 (D)位於北半球。

()43. 紐西蘭的南島及北島為該國面積較大的島嶼，下列有關這兩個地區的比較，何者最為正確？
(A)地形 (B)緯度 (C)氣候 (D)風向。

	地形	緯度	氣候	風向
北島	冰河	較高	溫帶	西風
南島	火山	較低	熱帶	西風

()44. 根據氣候特性加以判斷，澳洲的伯斯生產哪一種農作物最為適合？
(A)小麥 (B)咖啡 (C)葡萄 (D)奇異果。

()45. 下列哪一個觀光景點不是在澳洲境內？
(A)波浪岩 (B)哈比村 (C)烏魯汝 (D)大堡礁。

地理三年級解答 1~35題 2分, 其餘每題3分

1~10 CACDA, ADDBD

11~20 CADDD, ABACB

21~30 CCACD, DCCCC

31~40 ABBBD, AACAB

41~45 CBD CB