

彰化縣立福興國民中學 111 學年度第一學期第二次定期評量三年級歷史科試題

共 33 題，第 1 題 4 分，其餘 3 分

一、題組題

一、下圖塗黑部分是西元八世紀時，一個橫跨歐、亞、非三洲帝國的疆域圖，請問：



1、關於這個帝國的敘述，下列何者正確？

- (A) 這帝國曾經建築聖索菲亞教堂
- (B) 這帝國的創立者是阿拉伯人
- (C) 這帝國曾發動西征，擴大疆域
- (D) 這帝國的首都是君士坦丁堡

2、而此時的中國是由哪一個朝代所統治？

- (A) 漢朝 (B) 隋朝 (C) 唐朝 (D) 宋朝

3、而哪一宗教因此帝國的擴張，傳播到各地？

- (A) 基督教 (B) 猶太教 (C) 伊斯蘭教 (D) 道教

4、而圖中的都市巴格達，在上古時代，是位於西亞文明的哪一地區？

- (A) 地中海東岸 (B) 伊朗高原
- (C) 兩河流域 (D) 小亞細亞

5、此帝國是一個重視文化的國家甚至保存世界各地輝煌的文化與知識，下列哪一事件生，與其重視保存文化有間接或直接關係？

- (A) 歐洲的文藝復興運動
- (B) 歐洲第一次基督教的分裂
- (C) 歐洲希臘化的誕生
- (D) 歐洲羅馬帝國的誕生

二、十五世紀中葉，▲國軍事強大。到處擴張領地，在打敗○國後，將其首都改為▲國新首都，

而且版圖也橫跨歐亞非三洲，將佔領區的許多教堂改為清真寺，後來▲國越來越衰敗，十九世紀末被西方列強侵略，請問：

6、文中所說○國為下列哪一國家？

- (A) 塞爾柱土耳其帝國 (B) 拜占庭帝國
- (C) 阿拉伯帝國 (D) 亞歷山大帝國

7、而○國首都最早的建立者，對基督教世界來說是一位重要的關鍵人物，因為此人曾經哪一做法對基督教影響很大？

- (A) 定基督教為合法 (B) 改基督教為英國國教
- (C) 定基督教為國教 (D) 允許基督教向海外傳教

8、將佔領區的許多教堂改為清真寺，下列哪一建築有此經歷？

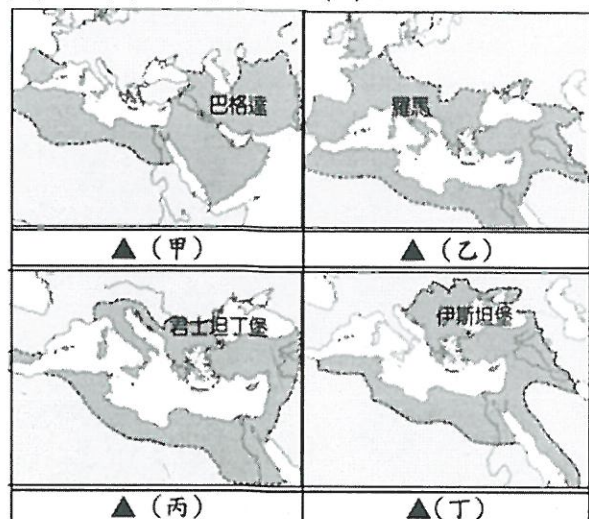
- (A) 聖索菲亞教堂 (B) 帕德嫩神殿
- (C) 萬神殿 (D) 圓頂清真寺

9、▲國應為哪一國家？

- (A) 塞爾柱土耳其帝國 (B) 拜占庭帝國
- (C) 鄂圖曼土耳其帝國 (D) 亞歷山大帝國

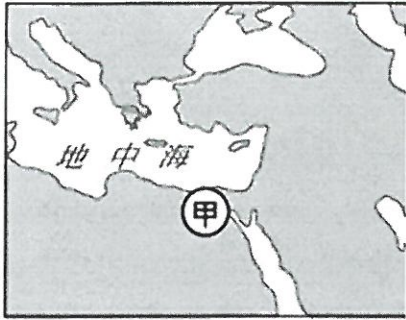
10、下列那一帝國的版圖為▲圖的地圖

- (A) 甲 (B) 乙 (C) 丙 (D) 丁



(背面尚有試題) 1/4

三、下圖甲處自西元前四世紀至西元八世紀，官方使用的文字因外來統治者改變而有所不同，請問：



11、請問這些官方文字使用時間的先後順序最可能是下列何者？

- (A)希臘文→拉丁文→阿拉伯文
- (B)拉丁文→阿拉伯文→拉丁文
- (C)阿拉伯文→拉丁文→希臘文
- (D)阿拉伯文→希臘文→拉丁文

12、而上題出現的三種文字來看，其中甲地使用官方希臘文是代表甲地曾經被哪一國家統治過？

- (A)波斯帝國(B)亞歷山大帝國
- (C)蒙古帝國(D)塞爾柱土耳其其帝國

13、若有人要去甲地旅行，下列哪一是著名古蹟或建築物是他必參觀的景點之一？

- (A)金字塔(B)長城(C)敦煌莫高窟(D)帕德嫩神殿

14、就你學過的歷史知識判斷，甲地曾被多個帝國依序統治過，而下列哪帝國不曾統治過該地？

- (A)亞歷山大 (B)蒙古帝國
- (C)羅馬帝國 (D)波斯帝國

四、「行萬里路」可以增進知識，圖一為歐亞一部分的地圖，請問：



15、地圖中的甲與己為歐洲文明的一部分，但為何兩地會有伊斯蘭教的文明呢？因為甲己分別被那些帝國統治過而留下的文明？

- (A)塞爾柱土耳其帝國；鄂圖曼土耳其帝國
- (B)蒙古帝國；阿拉伯帝國
- (C)鄂圖曼土耳其帝國；阿拉伯帝國
- (D)拜占庭帝國，羅馬帝國

16、其中戊地區，產生世界性的普世宗教，其宗教創辦人是參考那兩大宗教而誕生？

- (A)基督教、祆教 (B)印度教、基督教
- (C)基督教、猶太教 (D)猶太教、佛教

17、曠世名畫-蒙娜麗莎為文藝復興時代的代表性作品，其作者應為圖一哪一地區的人物？

- (A)乙 (B)丁 (C)辛 (D)庚

18、雖甲地也屬於歐洲，但其地的教堂與教義與西歐明顯不同，下列解釋是符合歷史脈絡的？

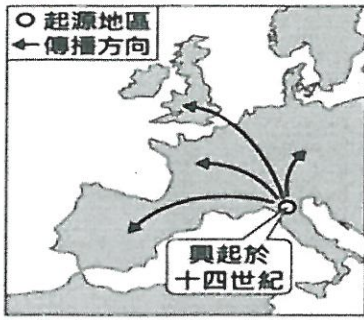
- (A)因甲地曾經是亞歷山大帝國一部分，而西歐卻分屬於羅馬帝國
- (B)因甲地在中世紀時期經濟比西歐落後，故開始信仰伊斯蘭教
- (C)因甲地的教會與西歐的教會，爭領導權，使基督教第一次分裂
- (D)因甲地的神職人員不滿西歐天主教的腐敗，決定創立新的宗教

19、莎士比亞，是○地區文學史上最傑出的戲劇家，也是歐洲文藝復興時期最重要、最偉大的作家，全世界最卓越的文學家之一。文中○為圖一哪一地區？

- (A)甲 (B)丙 (C)辛 (D)戊

(背面尚有試題)2/4

五、下圖是某史事的起源地與傳播方向示意圖，請問：



20、某史事是指哪一歷史事件？

- (A)蒙古西征 (B)文藝復興
(C)宗教改革 (D)基督教傳播

21、下列何者最足以呈現該史事的內涵？

- (A)研究古典文獻，重視人文主義
(B)路德教派改革，主張因信得救
(C)民主政治興起，主張主權在民
(D)機器取代人力，出現工廠制度

22、此歷史事件會發源於此，是因此地商業興盛，是甚麼原因促成經濟繁榮？

- (A)此地為腓尼基人的貿易範圍，帶來文化交流
(B)此地為蒙古西征後，廣設驛站重商旅聚集地
(C)此地為天主教的重心，帶來廣大教徒來朝聖
(D)此地掌控東西方的貿易，促使商業繁榮興盛

23、有關此歷史事件產生的背景，與下列哪些人物最沒關係？

- (A)阿拉伯人 (B)西歐中世紀教士
(C)東羅馬帝國學者 (D)耶穌會傳教士

24、想一想？同時期---十四世紀的巴爾幹半島，是被哪一國統治？

- (A)阿拉伯帝國 (B)拜占庭(東羅馬)帝國
(C)塞爾柱土耳其帝國 (D)鄂圖曼土耳其帝國

25、下列哪一歷史人物的作品不會在此歷史事件會介紹的？

- (A)但丁 (B)達文西 (C)拉斐爾 (D)狄奧多西

六、大仁將某一宗教的分裂情形整理成表。請問：

教派	性質	特色
(甲)	新教	十六世紀宗教改革分出的新教派
(乙)	舊教	以(丙)為首的教派

26、表中的(甲)格與(丙)格應填入何者？

- (A)基督教、羅馬教宗
(B)天主教、馬丁路德
(C)羅馬公教、喀爾文
(D)希臘正教、亨利八世。

27、十六世紀宗教改革分出新的宗教，其中哪一位揭開宗教改革序幕？

- (A)羅耀拉
(B)馬丁路德
(C)喀爾文
(D)亨利八世。

28、十六世紀歐洲的宗教改革下列敘述何者正確？

- (A)是基督教世界第一次分裂
(B)為爭奪基督教世界的領導權而發起的
(C)天主教在改革的浪潮下從此一蹶不振
(D)引發多次宗教戰爭，也漸漸確立宗教寬容

29、提出「預選說」、主張藉由努力工作來榮耀上帝的教派是何人創立的？

- (A)羅耀拉
(B)馬丁路德
(C)喀爾文
(D)亨利八世。

(背面尚有試題)3/4

二、單選題

30、某人在宗教上自立門戶的原因是教宗反對他離婚，加上他可藉機接收羅馬教廷在其國內的財產，並取得教會領袖的權力。上述這個人是誰？

- (A)羅耀拉 (B)馬丁路德
- (C)亨利八世 (D)喀爾文。

31、基督教創立時，由於被誤解為猶太教的分支，以及與羅馬社會多神信仰格格不入，飽受羅馬人的異樣眼光對待，然而羅馬政府並不加以干涉，而導致後來羅馬政府的打壓，主要是因基督徒的哪一項行為所致？

- (A)意圖顛覆羅馬帝國
- (B)大肆破壞羅馬神殿
- (C)拒絕膜拜羅馬皇帝的肖像
- (D)縱火破壞社會秩序

32、有一本世界名著，書中內容有：「阿拉伯國王、波斯公主、勇敢的蘇丹王子、狡猾的強盜、邪惡的魔術師，以及巴格達富麗堂皇的宮殿等。」

請問：這是哪一本文學名著？

- (A)《幾何原本》 (B)《希臘神話故事》
- (C)《天方夜譚》 (D)《荷馬史詩》

33、有歷史學家說某個帝國在 5 世紀被○○人滅亡代表歐洲中世紀的開始，而某帝國在 15 世紀被▲▲人滅亡代表中世紀的結束，若你認真上歷史課，下列哪一答案有誤？

- (A)○○指猶太人
- (B)▲▲鄂圖曼土耳其人
- (C)歐洲中世紀的開始指的是西羅馬帝國亡
- (D)歐洲中世紀的結束指的是東羅馬帝國亡

恭喜!終於寫完了!

九年级历史解答

第1题4分, 其餘3分

B.C.C.C.A; B.A.A.C.D (1-10)

A.B.A.B.C; C.D.C.C.B (11-20)

A.D.D.B.D; A.B.D.C.C (21-30)

C.C.A.A (31-34)