

# 彰化縣福興國中一一二學年度第一學期第三次段考地理科八年級試題

配分：第 1-5 題 2 分；6-35 題 3 分

班 座 號 \_\_\_\_\_ 姓 名 \_\_\_\_\_

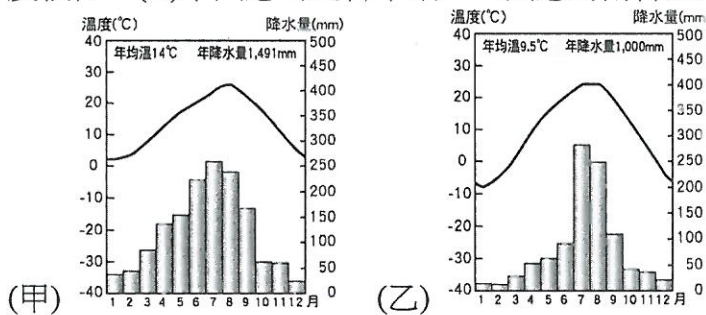
【請依學校規定用2B鉛筆在答案卡上作答】

## 一、單一選擇題

1. 青函海底隧道是日本本州青森地區和北海道函館地區之間，為穿越津輕海峽所開通的一條海底隧道。青函隧道的工期長達24年，隧道海底段長23.3公里，是目前世界上最長的海底隧道。依據上述判斷，該隧道的位置在附圖中何處？  
(A)甲 (B)乙 (C)丙 (D)丁。



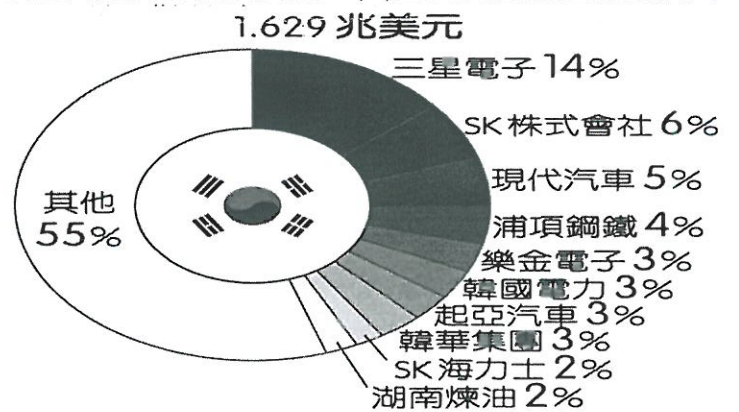
2. 西元2013年聯合國正式將南韓醃漬泡菜列入文化遺產，醃漬泡菜的文化因代代相傳，更強化了南韓人對於自身的認同感。南韓人最初醃漬泡菜是為了因應哪一項自然環境的限制？  
(A)土壤貧瘠 (B)冬季寒冷 (C)平原狹小 (D)氣候乾燥。
3. 附圖(甲)、(乙)為朝鮮半島上北韓平壤、南韓釜山兩地的氣候圖。關於兩地氣候圖的解釋，何者正確？  
(A)乙圖年溫差較大，代表緯度較高 (B)乙圖乾溼季較甲圖明顯，雨季集中在冬季 (C)乙圖冬溫較低，代表緯度較低 (D)甲圖應為北韓平壤、乙圖應為南韓釜山。



4. 近年來，日本致力將高科技引入農業生產過程，如將智慧型機器人引入農場，用機械手臂協助農民採收，減輕工作負擔及對勞動力的依賴。請問：導致上述現象的主因為何？  
(A)失婚人口多 (B)出生率偏高 (C)勞力不足 (D)失業率攀升。
5. 附表是小云整理的南、北韓比較，表格內容中何者有正確？  
(A)主要地形 (B)氣候 (C)天然資源 (D)產業發展。

國家	主要地形	氣候	天然資源	產業發展
北韓	平原 山地	溫帶 季風	礦產資 源少	國防工 業
南韓	山地 高原	副熱帶 帶	礦產資 源多	高科技 工業

6. 「溫突」為朝鮮半島常見的取暖設施，其為傳統韓屋利用廚房爐灶的熱氣引入室內取暖，類似的設施在中國北部區域也極為常見。兩地發展出類似設施的原因為何？  
(甲)地勢低平 (乙)親潮寒流流經 (丙)地處高緯(丁)冷氣團南下  
(A)甲乙 (B)乙丙 (C)丙丁 (D)甲丁。
7. 媒體發達的時代，人們對於資訊的判讀必須更加謹慎！毛毛今年收到四則長輩傳來的日本基金投資資訊，下列哪一則報導較符合實際情形？  
(A)《產經新聞》：日本富士山爆發，大量石油及天然氣湧出，估計可使用20年！ (B)《時報周刊》：智慧立國！日本工業產品國際專利申請數量高居世界第三。 (C)《天下雜誌》：霸氣扶植大型財團！日本前十大企業銷售額占全國45%！ (D)《經濟日報》：擁有優質廉價的人力！日本成為美國福特汽車海外最大零件代工廠！數量高居世界第三。
8. 附圖是 2019 年南韓前十大企業營收占南韓GDP 比例圖。新聞報導：「南韓最大的高科技品牌三星今年獲利大減99%，南韓政府因此下修全國GDP成長率。」由圖中資訊和報導內容判斷，請問：南韓的經濟發展有何特色？  
(A)以加工出口業為主 (B)經濟過度集中大型財團 (C)缺乏自然資源發展受限 (D)國內貧富差距持續擴大。




9. 在1995年底被聯合國教科文組織登錄為世界文化遺產的日本北陸「白川鄉合掌村」，村落中的有著茅草屋頂的傳統木造小屋建築，以雙手合掌的人字型屋頂為其外觀最大特色，而這個屋頂的角度設計主要是為了擋風抗雪、讓積雪滑落。請問：當地冬季凝結降雪的水氣主要源於哪一個海域？  
(A)黃海 (B)南海 (C)太平洋 (D)日本海。
10. 韓聯社報導：「南韓總統文在寅和北韓領導人金正恩於西元2018年4月在南北韓陸上分界板門店會面，正式開啟南北韓領導人會談日程。雙方領導人在軍事分界線會面尚屬首次，兩人在越過軍事分界線後並合影留念。金正恩在會談開始前，於板門店的和平之家留言簿中題詞，表示『新的歷史從現在開始，和平時代站在新的起點』。」上文中的板門店最接近下列哪條緯線？  
(A)北緯23.5度 (B)北緯38度 (C)南緯3.8度 (D)北緯45度

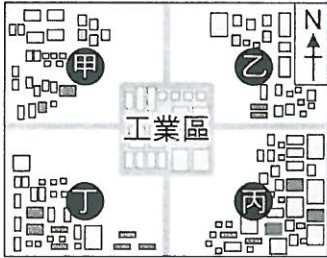
※第一頁，請翻頁作答※



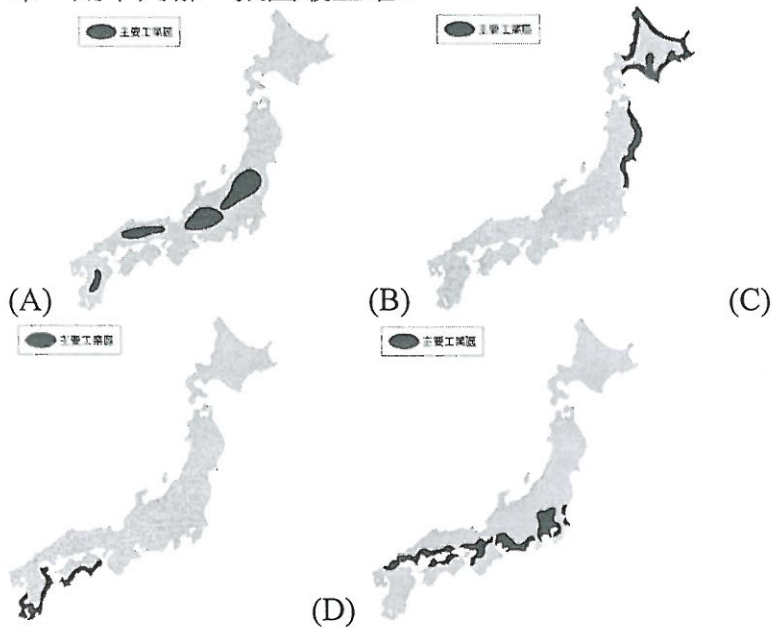
11. 附圖是日本的蛋包飯及日文發音，由圖可見日本文化具有何種特色？  
(A)單一性(B)多元性 (C)傳統性 (D)漢化。



12. 附圖為位在南韓的某工業區及其鄰近社區的分布圖，工業區排放廢氣會影響鄰近社區的空氣品質。若僅根據南韓不同季節的盛行風向判斷，夏季時圖中哪一社區受該工業區廢氣的影響最大？  
(A)甲 (B)乙 (C)丙 (D)丁



13. 日本本州島長野縣北部的地獄谷野猿公苑，一年之中有將近4個月都覆蓋著白雪，冬季低溫經常低於零下10度，故有不少野生獼猴會泡溫泉取暖，該地自西元1964年開園以來，作為能近距離觀察野生獼猴生態的場所，年年吸引20萬名以上的旅人前來朝聖。請問：在日本可以見到上述獼猴泡溫泉的景象，主要與下列何者的關係最密切？  
(A)沿海有暖流經過 (B)地處低緯度地區 (C)位居板塊交界帶 (D)土地廣大人口少。
14. 國際貿易成為日本的經濟命脈，故其工業區的分布多位於沿海地區，若要利用圖示來呈現該國的主要工業區分布，則下列哪一張圖最正確？

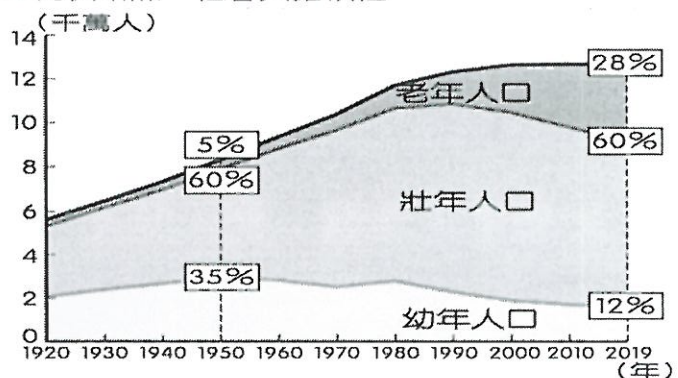


15. 承上題，日本工業區多分布沿海地區，可能與哪個因素無關？  
(A)能源和原料多依賴進口 (B)日本沿海港闊水深，多天然良港 (C)依靠廉價勞力的優勢從事國際代工 (D)依靠輸出賺取外匯。
16. 下列是阿喜理解完南韓的工業發展歷程後，所整理出的重點摘錄，但時間順序亂掉了。如果要幫他整理時間由先而後排列，何者最為正確？(甲)發展汽車、造船等重工業 (乙)發展高科技產業 (丙)以加工出口業為主  
(A)甲乙丙 (B)乙丙甲 (C)丙甲乙 (D)丙乙甲。

17. 311 地震的核能危機造成相當大的威脅，相關單位發現福島核電廠附近的海水被輻射污染，對於漁業資源的影響相當大。世界衛生組織亦提出警告，少量輻射將對海鮮食品安全構成潛在危害，福島核災的位置圖如附圖所示。請問：遭到核災污染的漁場位於哪一個海域？  
(A)大西洋 (B)日本海 (C)黃海 (D)太平洋。



18. 日本的氣候特徵和同緯度的中國北部區域不盡相同，以下對於兩地氣候的描述，何者錯誤？  
(A)中國北部區域的年溫差較大 (B)兩地皆以溫帶季風氣候為主 (C)日本冬季降水量較少 (D)日本受海洋影響較明顯。
19. 日本工業生產自動化的程度高，在機器人研究上更是位於領先地位。下列哪一項為日本研發機器人的主因？  
(A)日本的工作危險性較高 (B)日本勞動力已有老化問題 (C)勞力素質差 (D)為改善環境汙染問題。
20. 日本的壽司其漢字寫作「鮓」或「鮓」，可知其所用的食材與漁業發達有關。請問：日本漁業發達的因素，下列敘述何者有誤？  
(A)四面環海 (B)海岸線平直 (C)寒暖流交會 (D)鄰近西北太平洋漁場。
21. 朝鮮半島以長白山與中國相隔，其地形的樣貌看起來就像一個「豸」字一樣，請問：下列關於朝鮮半島地形的敘述，何者正確？  
(A)太白山脈位於西側 (B)河流多向西注入日本海 (C)蓋馬高原位於南方 (D)平原分布於西南方。
22. 附圖是日本人口結構統計圖。依照圖中人口結構發展趨勢判斷，日本未來將面臨的人口問題最可能為何？  
(A)出生率提高，社會負擔加重 (B)扶養比減少，勞動力不足 (C)老年人口比例增加，人口老化 (D)壯年人口比例增加，社會負擔減輕。



23. 承上題，由日本人口特色來看，下列哪一種創新產業會越來越夯，需求量日增？  
(A)影視產業 (B)日立冷氣 (C)健身房產業 (D)電動代步車。

※第二頁，請翻頁作答※



24. 「這個國家施行高壓獨裁統治，首都平壤是該國的第一大城。該國有煤、鐵等礦產，再加上鴨綠江豐沛的水力，奠定了工業發展的基礎。」請問：上文所描述的是下列哪一個國家？  
(A)南韓 (B)北韓 (C)中國 (D)日本。
25. 每年9月下旬至12月上旬是日本楓紅的時節，且愈冷的地區，愈早見到楓紅。請問：日本哪個島的楓葉最早轉紅？ (A)四國 (B)本州 (C)九州 (D)北海道。
26. 新聞報導：『2009年經歷八八風災後，隨山區土石流大量沖刷下來的漂流木，滿布台灣東海岸海域，更順著洋流向北流動，漂到日本鹿兒島附近的東海海域，南北綿延甚至長達近120公里。』請問：上文中的洋流指的是下列何者？  
(A)黑潮 (B)親潮 (C)中國沿岸流 (D)北大西洋暖流。
27. 哪一港口是東京地區主要貨物的進出門戶？  
(A)神戶 (B)名古屋 (C)橫濱 (D)福岡。
28. 1990到2008年期間，北韓在「全球飢餓指數」惡化的排名中位居第二。造成北韓糧產不足，常有饑荒的問題，除了政治制度的影響外，與下列何項自然因素關係最密切？  
(A)颱風侵襲次數多(B)生長季短、平原少(C)火山活動與地震頻繁(D)年降水量少於500毫米。

## 二、題組

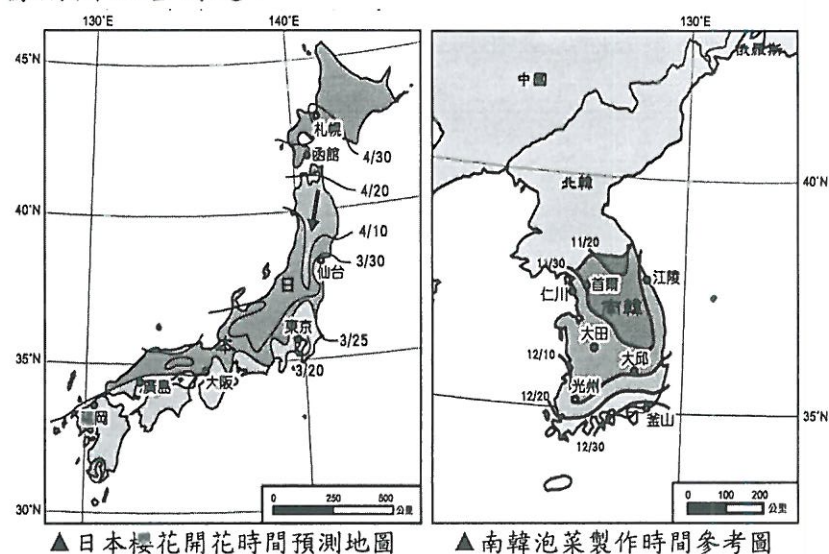
(一) 2016年4月，臺灣的鴻海集團正式宣布入主日本企業夏普，這使得鴻海可整合面板事業。外界分析師認為，鴻海此舉利用日本企業的優點可以加強競爭力，並從代工生產跨入品牌銷售。請問：

29. 鴻海為世界著名的電子廠，大力投資入主日本企業夏普，可以獲得的生產條件最可能為下列何者？  
(A)廉價勞工 (B)進步技術 (C)工廠廣大土地 (D)豐富礦產。
30. 夏普為日本百年企業，屬於該國八大電子產品工業公司之一，總部設立於大阪。若鴻海總裁要前往大阪視察，則應該到附圖中何處？  
(A)甲 (B)乙 (C)丙 (D)丁。



31. 日本企業正面臨其他國家的挑戰，因此該國企業紛紛轉向以何種項目來獲利，維持其市場競爭力？  
(A)工業原料 (B)產品專利 (C)工業生產 (D)組裝代工。

(二) 日本及南韓因國土南北狹長，許多自然現象及人文景觀會依照各地的氣溫差異呈現規律的空間變化。左下圖是日本櫻花開花時間預測地圖，右下圖是南韓泡菜製作時間參考圖：以下有四張臺灣的氣候圖，請依據附圖回答問題：



32. 下列日本哪個都市，可以看到最晚綻放櫻花？  
(A)仙台 (B)東京 (C)廣島 (D)函館。
33. 由日本圖中，可以看見「箭頭」所指的預測線，受到何種因素影響而呈現向下彎曲的特徵？  
(A)地形 (B)緯度 (C)人口 (D)季風風向
34. 傳統上，南韓人民在入冬前須製作大量泡菜以儲備食物，愈早入冬的地區須愈早製作泡菜。請問：附圖何地須最早製作泡菜？  
(A)釜山 (B)大邱 (C)首爾 (D)光州
35. 觀察附圖，日本櫻花開花時間的預測線及南韓泡菜製作時間的參考線，日期變化大致呈現南北向分布。請問：該現象與哪項因素最為相關？  
(A)地形 (B)緯度 (C)人口 (D)季風風向

※作答完畢，再檢查一次※



福興國中一一二學年度第一學期第三次段考地理科八年級答案

配分：第 1-5 題 2 分；6-35 題 3 分

1	2	3	4	5	6	7	8	9	10
A	B	A	C	D	C	B	B	D	B
11	12	13	14	15	16	17	18	19	20
B	A	C	D	C	C	D	C	B	B
21	22	23	24	25	26	27	28	29	30
D	C	D	B	D	A	C	B	B	C
31	32	33	34	35					
B	D	A	C	B					

福興國中一一二學年度第一學期第三次段考地理科八年級答案

配分：第 1-5 題 2 分；6-35 題 3 分

1	2	3	4	5	6	7	8	9	10
A	B	A	C	D	C	B	B	D	B
11	12	13	14	15	16	17	18	19	20
B	A	C	D	C	C	D	C	B	B
21	22	23	24	25	26	27	28	29	30
D	C	D	B	D	A	C	B	B	C
31	32	33	34	35					
B	D	A	C	B					