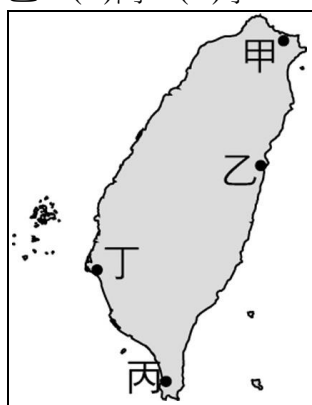


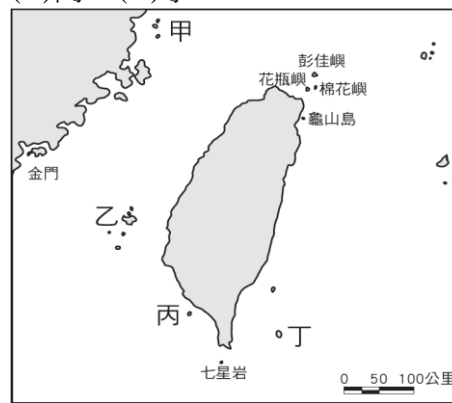
選擇：1~25 題，每題 3 分；26~35 題，每題 2.5 分

1. () 關於沙岸的海岸特色說明，下列何者正確？ (A) 海岸平直，海底平淺 (B) 凸出的岬角，可分隔出瀉湖 (C) 多岬角、灣澳 (D) 海岸線曲折，多良港。
2. () 海岸常見的地形中，位於沙洲與陸地之間的半封閉海域稱為？ (A) 堰塞湖 (B) 灣澳 (C) 岬角 (D) 瀉湖。
3. () 請問：海岸劃分為「岩岸」與「沙岸」兩種類型的分類依據主要是下列何者？ (A) 海岸緯度差異 (B) 海岸構成物質 (C) 海洋鹽分高低 (D) 海岸利用形態。
4. () 下列哪幾項為岩岸的海岸特色？ (甲) 海岸線曲折 (乙) 海水較深 (丙) 沿岸平原寬廣 (丁) 多港灣 (戊) 適合發展農業和晒鹽業 (A) 甲乙丁 (B) 乙戊 (C) 乙丁戊 (D) 甲丙丁戊。
5. () 臺灣地名中富貴角、三貂角等，這些地名即是顯現出某種海岸地形景觀。上述地名最可能位於下列何種的海岸地形上？ (A) 沙洲 (B) 岬角 (C) 瀉湖 (D) 灣澳。
6. () 臺灣的哪個港口，最可能是利用「瀉湖」的地形興建而成的？ (A) 基隆港 (B) 蘇澳港 (C) 台中港 (D) 高雄港。
7. () 附圖中何處的海岸最常見岬角、灣澳？ (A) 甲 (B) 乙 (C) 丙 (D) 丁。

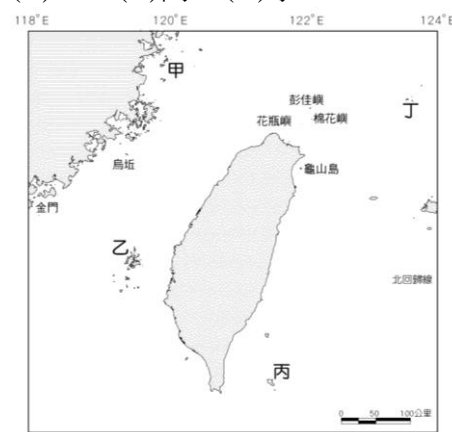


8. () 承上題，何處海岸呈現鹽田處處與牡蠣養殖的景象？ (A) 甲 (B) 乙 (C) 丙 (D) 丁。
 9. () 附圖為海域範圍示意，圖中何處為領海範圍？ (A) 甲 (B) 乙 (C) 丙 (D) 丁。
- 12 20 100 200 (哩)
-
10. () 下列哪個島嶼的成因和蘭嶼不同？ (A) 綠島 (B) 龜山島 (C) 琉球嶼 (D) 澎湖群島。
 11. () 下列為臺灣的離島：(甲) 金門列嶼 (乙) 馬祖列嶼 (丙) 太平島 (丁) 澎湖群島。若由高緯到低緯依序排列，何者正確？ (A) 乙甲丁丙 (B) 乙甲丙丁 (C) 丙丁乙甲 (D) 丁甲丙乙。

12. () 附圖中哪一島嶼是屬於大陸島？ (A) 甲 (B) 乙 (C) 丙 (D) 丁。



13. () 承上題，何處有柱狀玄武岩與「雙心石滬」景觀？ (A) 甲 (B) 乙 (C) 丙 (D) 丁。
14. () 臺灣離島中的哪座島群，有設立國家公園？ (A) 琉球嶼 (B) 馬祖列嶼 (C) 綠島 (D) 金門列嶼。
15. () 臺灣擁有許多離島，以其形成的原因可分為火山島、珊瑚礁島及大陸島，請問下列離島及其分類配對，正確的有哪些？ (甲) 澎湖群島—火山島 (乙) 東沙島—珊瑚礁島 (丙) 琉球嶼—火山島 (丁) 金門列嶼—大陸島 (A) 甲乙丙 (B) 乙丙丁 (C) 甲丙丁 (D) 甲乙丁。
16. () 由國家領海基線向外延伸多少哩的範圍海域，該國擁有漁、礦等開發利用與管理的權利？ (A) 100 公里 (B) 200 公里 (C) 12 哩 (D) 200 哩。
17. () 附圖中哪座島嶼的主權劃分，始終爭議不斷，常造成臺灣、中國、日本三方間的緊張情勢？ (A) 甲 (B) 乙 (C) 丙 (D) 丁。



18. () 臺灣因為位於哪兩個板塊交界處，因此地震活動頻繁？ (A) 歐亞板塊、大西洋板塊 (B) 菲律賓海板塊、太平洋板塊 (C) 歐亞板塊、印澳板塊 (D) 菲律賓海板塊、歐亞板塊。
19. () 臺灣高山大多呈現南北走向。請問：造成此現象最可能的原因是什麼？ (A) 河流的沖積作用 (B) 板塊擠壓的方向 (C) 位於大陸邊緣的位置 (D) 火山活動形成。
20. () 請問：下列地表上形塑地形的作用力中，哪些是屬於地球外部的營力作用？ (甲) 風力 (乙) 地殼變動 (丙) 河流 (丁) 火山活動 (A) 甲乙 (B) 甲丙 (C) 乙丁 (D) 丙丁。

21. () 從新竹出發往南到屏東墾丁，沿途不會經過下列哪個地形區？ (A)嘉南平原 (B)苗栗丘陵 (C)蘭陽平原 (D)濁水溪沖積平原。

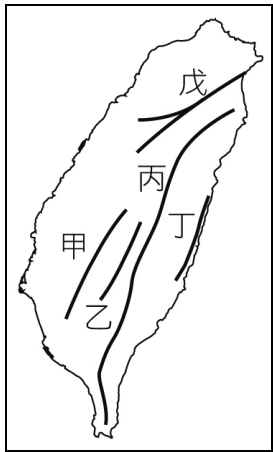
22. () 臺灣島的地形主體，不包括下列何種地形？ (A)山地 (B)台地 (C)盆地 (D)高原。

23. () 臺灣五大類地形中，面積分布最廣的是哪一種地形？ (A)平原 (B)山地 (C)丘陵 (D)台地。

24. () 臺灣西部主要的台地有：(甲)桃園台地 (乙)林口台地 (丙)八卦台地 (丁)大肚台地。請問：由北到南，依順序排列，何者正確？ (A)甲乙丙丁 (B)乙甲丁丙 (C)丙丁甲乙 (D)丁丙乙甲。

25. () 台灣最大的平原應是下列何者？ (A)蘭陽平原 (B)濁水溪沖積平原 (C)嘉南平原 (D)屏東平原。

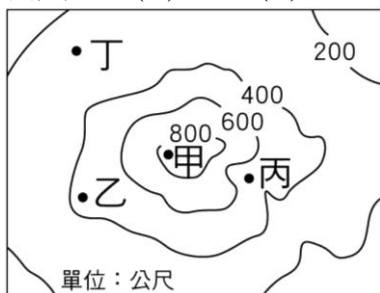
26. () 附圖為台灣中央山地的五座山脈，請問：蘇花公路會經過下列哪座山脈？ (A)甲 (B)戊 (C)丙 (D)丁。



27. () 承上題，臺灣最高峰，位處於哪一座山脈？ (A)乙 (B)戊 (C)丙 (D)丁。

28. () 由花蓮開車南下台東，可以見到兩旁盡是綿延的山脈。從右方的車窗望出，可以看見下列哪座山脈？ (A)玉山山脈 (B)雪山山脈 (C)海岸山脈 (D)中央山脈。

29. () 附圖中相鄰兩條等高線間的高度差(間距)為多少公尺？ (A)100 (B)200 (C)300 (D)400。

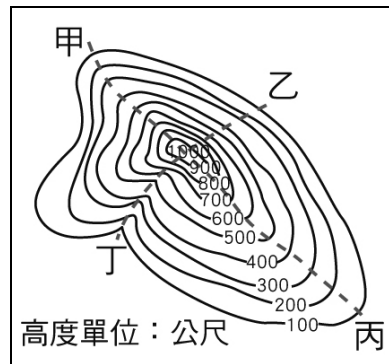


30. () 承上題。圖中「甲」地的高度最有可能是多少公尺？ (A)1,036 (B)742 (C)957 (D)1,520。

31. () 若以分層設色圖來表現地形的起伏，則下列哪種地形區所使用的顏色通常是綠色？ (A)山地 (B)平原 (C)高原 (D)丘陵。

32. () 下列關於各種地形表示方法的敘述，何者錯誤？ (A)在地圖上將地表高度相同的各點，連成一條閉合曲線，稱為等高線 (B)衛星影像能快速取得地面影像，能即時觀察地表的變化 (C)分層設色圖是以不同顏色來表示地表上不同的高度範圍 (D)等高線的分布愈稀疏，代表坡度愈陡峭。

33. () 附圖中哪條登山路線最有可能出現溪谷而最適合舉辦溯溪活動？ (A)甲 (B)乙 (C)丙 (D)丁。



34. () 臺灣的山坡地常被用來種植檳榔樹。請問：此種耕種方式可能導致下列哪種嚴重的災害？ (A)造成森林植被複雜 (B)導致海水倒灌 (C)增加土石流發生的頻率 (D)造成地層下陷。

35. () 台灣四面環海四周海岸類型分別是：(甲)沙岸(乙)岬灣海岸(丙)斷層海岸(丁)珊瑚礁海岸，若從彰化出發北上，順時針沿海岸線環島一圈，終點又回到彰化，沿途行經海岸類型依序為何？ (A)甲乙丙丁甲 (B)丙丁甲乙丙 (C)乙甲丙丁乙 (D)丁丙甲乙丁。