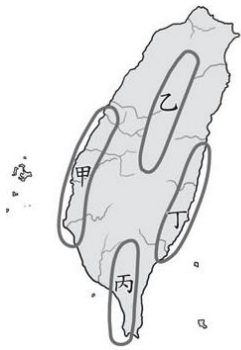


彰化縣立二水國民中學 106 學年度 第一學期 第二次段考 歷史科 試卷
一年 班 座號： 姓名：

一、選擇題(每題 2 分，答案以劃卡方式呈現)

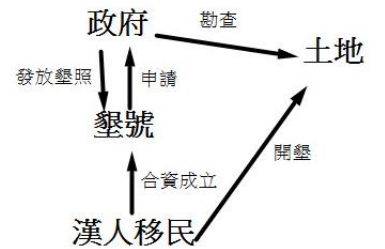
- 鄭成功決定攻取臺灣，其主要目的是要將臺灣當作什麼用途？(A)作為反清復明的基地 (B)自行即位稱帝 (C)趕走荷蘭人，解救受荷蘭人壓迫的漢人 (D)將臺灣納入清朝版圖。
- 鄭氏對臺灣的建設，大多於何人在位期間完成的？(A)鄭芝龍 (B)鄭成功 (C)鄭經 (D)鄭克塽。
- 下列何人在明鄭統治台灣時期，從中國大陸來到臺灣，在民間從事文教活動？(A)陳永華 (B)沈光文 (C)施琅 (D)鄭克塽。
- 清朝為了打擊鄭氏政權的經濟，實施了什麼政策？(A)渡台禁令 (B)劃界封山 (C)鎖國政策 (D)海禁政策。
- 鄭氏政權來台後，基於什麼原因，非常重視土地的拓墾？(A)透過拓墾，累積貿易的貨物 (B)解決在臺軍民糧食不足的問題 (C)為了重新分配土地，以解決貧富不均的問題 (D)使來台漢人都有土地可以耕作，避免出現過多的羅漢腳。
- 鄭成功在轉攻台灣之前，主要是以哪兩個地方作為反清復明的基地？(A)金門、廈門(B)金門、鹿耳門(C)泉州、福州(D)廈門、鹿耳門。
- 鄭克塽投降清朝後，清朝最初打算放棄臺灣，將在臺漢人遷回中國，但是何人持反對對意見，認為臺灣不但不能放棄，更要設官治理、派兵駐守？(A)施世榜 (B)曹瑾 (C)施琅 (D)吳沙。
- 清朝將臺灣納入版圖後，將臺灣隸屬於何省管轄？(A)江蘇省 (B)廣東省 (C)臺灣省 (D)福建省。
- 清領前期，臺灣與中國大陸之間的貿易，最初只有何地是唯一的合法對渡港口？(A)鹿耳門 (B)鹿港 (C)八里坌 (D)艋舺。
- 由於開墾土地需要大筆資金，因此清領前期來台開墾的漢人大多採取何種方式籌措開墾資金？(A)向政府貸款 (B)向親友借錢 (C)錢莊貸款 (D)合資。
- 《臺灣府志》中，節錄一段由某位歷史記載的文章：「臺灣遠在海表……未有所屬。……後鄭成功攻占，襲踞四世。歲癸亥，余躬承天討。澎湖一戰，偽軍全沒，勢逼請降。」請問：文中「余躬承天討」的「余」所指為下列何者？(A)沈光文 (B)施琅 (C)施世榜 (D)陳永華。
- 《諸羅縣志》民俗篇記載：「男多於女，有村莊數百人無一眷口者，蓋內地各津渡婦女之禁既嚴，娶一婦動費百金。」請問：當時形成這種人口結構最可能的原因為何？(A)實施渡台禁令 (B)全面禁止漢人來台 (C)劃界封山 (D)實施海禁政策。
- 康熙 23 年，清朝將臺灣納入版圖，開廈門、鹿耳門為兩岸通商的對渡港口，臺灣府城成為康熙、雍正年間商業貿易中心。至 18 世紀前半，隨著商業興盛，當時臺灣進出口商為滿足商業需求，乃聯合組成類似行會的組織，以解決彼此貨物運銷事宜，並避免同行間的惡性競爭。請問：下列何者的性質，不符合上述組織之特質？(A)泉郊 (B)米郊 (C)糖郊 (D)會社。
- 明鄭治台時期，在各社設立小學，規定兒童 8 歲入小學，主要學習經、史文章。並且在天興、萬年，兩個州舉行考試，三年考兩次，考試成績優異者，送到府學，參加府試取中者送到學院；參加學院考試取中則進入太學；三年一考，考取者補任官吏。上述措施對臺灣社會有何影響？(A)促進對外貿易的發展 (B)加速與滿清政權的融合 (C)提升原住民文化發展 (D)使漢人的制度在台奠定與發展。
- 下列何人首先率領漢人移民進入蘭陽平原，號稱「開蘭第一人」？(A)沈光文 (B)曹瑾 (C)施世榜 (D)吳沙。
- 清朝攻佔臺灣後，朝臣大多主張「臺灣僅彈丸之地，得之無所加，不得無所損。」但施琅強調臺灣的哪一項價值，最後使清朝政府決定將臺灣納入版圖？(A)文化價值 (B)戰略國防價值 (C)土地面積 (D)物產豐富。
- 文獻記載：「社番不知鑿水圳灌溉旱埔，致使所種五穀，歷年歉收。眾番乃議定：『能出工錢，募丁鑿圳，引水灌溉者，番族願以埔地換取十取其二之圳水。其餘十之八則流漢田灌溉。』」請問：上述文獻記載最有可能是在敘述哪一條水圳的開鑿過程？(A)八堡圳 (B)瑠公圳 (C)曹公圳 (D)貓霧揀圳。

18. 清朝統治台灣期間，臺灣曾出現一種稱為「郊」的組織，依其性質推斷，這種組織主要分布在右圖的何處？(A)甲 (B)乙 (C)丙 (D)丁。



19. 清道光年間，曹謹出任縣令，見水路不佳，以至逢旱災，農作物歉收，地方百姓民不聊生，於是遊說地方仕紳出錢，召集年輕壯丁掘地挖溝，開渠引水，四年共修築 90 條圳道，大幅改善農民生計。為感念曹謹的貢獻，故將水圳命名為「曹公圳」。請問：曹公圳的修築有助於那個地區開墾面積的擴大與農業產量的增加？(A)淡水廳 (B)諸羅縣 (C)鳳山縣 (D)彰化縣。
20. 陳小兔是清領前期的來往廈門與鹿耳門間，從是稻米買賣的商人。請問，陳小兔可以加入下列哪些行郊？(甲)泉郊 (乙)廈郊 (丙)米郊 (丁)糖郊。(A)甲丁 (B)甲丙 (C)乙丁 (D)乙丙。
21. 鄭成功攻取臺灣不久後，認為當時興邦固國的主要難題在於需要大量的糧食，但是投入收產的人卻不夠多，因而採取某種變通的生產方式，而這種變通的生產方式，也使得下列哪一地名的出現？(A)左營 (B)承天府 (C)臺灣府 (D)天興縣。
22. 臺廈兵備道王毓政：「凡墾荒地者需先得官府批准。因此規定不准人民私人番境，禁止在近番處所抽藤、釣鹿、採伐。」請問：上述資料說明何種政策？(A)劃界封山 (B)渡台禁令 (C)海禁政策 (D)走私貿易。
23. 前中央研究院近史所所長郭廷以評論一位與台灣有密切關係的歷史人物，他說：「從民族革命的觀點來論，他是一位罪人；從國家統一的觀點來講，則是一位功臣。而其力爭臺灣之斷不可棄，則於民族國家有功。」請問郭廷以評論的人當為何人？(A)沈光文(B)沈有容(C)施琅 (D)康熙皇帝。
24. 清領前期臺灣與中國貿易頻繁，港口相繼開放，發展成府城、鹿港、艋舺三大貿易港口，因此有「一府二鹿三艋舺」之稱，由此可推測臺灣的發展方向為何？(A)由南到北 (B)由東到西 (C)由西到東 (D)由北到南。

25. 右圖為臺灣某一時期經濟活動示意圖。請問：下列何者最有可能是右圖所欲呈現的經濟活動？(A)明鄭時期—軍屯措施 (B)明鄭時期—民墾 (C)清領前期—土地開墾 (D)清領前期—水圳開墾。



26. 右圖是石小喵在《漫畫臺灣史》中看到的部分內容，請問：下列哪一個選項最符合漫畫的內容？(A)劃界封山 (B)海禁政策 (C)渡臺禁令 (D)走私貿易。




*荷蘭人離開臺灣後，1670 年 6 月首次有歐洲國家的船隻抵達臺灣，他們根據統治者對臺灣的稱呼，將該政權稱為「東寧王國」。臺灣當局與其簽訂通商協議，保護該國人民的安全，允許該國船隻航行，在臺灣自由貿易。該國船隻來台時，必須戴有軍火和棉布等輸入的商品，並且必須留鐵匠在臺灣製造軍火。這個歐洲國家進而在「東寧王國」的政府所在地設置商館，總理該歐洲國家在台之貿易。請根據上述引文，回答下列三題：

27. 此時 1670 年臺灣的最高統治者最有可能為下列何人？(A)鄭成功 (B)鄭經 (C)鄭克塽 (D)鄭芝龍。
28. 根據上述引文，那個與臺灣當局簽訂通商協議的歐洲國家最有可能為下列何者？(A)英國 (B)西班牙 (C)荷蘭 (D)葡萄牙。
29. 這個歐洲國家於 1670 年在臺灣所設置的商館，最有可能位在今日的那個縣市？(A)新北市 (B)彰化縣 (C)台南市 (D)高雄市。

*右圖改繪自乾隆 12 年(西元 1747 年)《重修臺灣府志》中的「總圖」，其採用的地圖繪製方式是清代常見的山水畫



法。由於當時各地的開發程度不同，所以對地理環境的掌握程度不夠完整，再加上繪製方式限制，本圖範圍並未涵蓋臺灣全島，描繪也不如現今實測地圖來的精確，但圖中所傳達的部分地理資訊，能可提供後人參考。請根據右圖，回答下列三題：

30. 上圖中的「」代表各級行政中心，當時臺灣最高的行政單位—臺灣府應在何處？(A)甲 (B)乙 (C)丙 (D)丁。
31. 依據地圖的資訊判斷，丙最有可能為下列哪一行政區？(A)澎湖廳 (B)噶瑪蘭廳 (C)淡水廳 (D)彰化縣
32. 丙、丁兩個行政區的出現，與下列哪一事件息息相關？(A)臺灣納入清朝版圖 (B)吳沙進入宜蘭開墾 (C)朱一貴事件 (D)渡台禁令的頒佈。

*下表為臺灣歷史上重要的政權轉移的過程，隨著政權的轉移，許多制度與生活方式也紛紛改變。請依據下表回答下列問題：

	甲政權	➔	乙政權
髮型	束髮		剃髮留辮
行政中心	承天府		臺灣府
主要土地開墾方式	?		合資開墾
與中國的貿易方式			
出口商品	鹿皮、蔗糖		稻米、蔗糖

33. 若從「行政中心」的改變來觀察，甲、乙政權的組合最有可能為下列何者？(A)荷蘭、西班牙 (B)荷蘭、明鄭 (C)明鄭、清朝 (D)清朝、日本。
34. 上表中的「？」所代表者為一種土地拓墾方式，請問：

這種方式所開墾出來的土地，在當時稱為什麼？(A)營盤田 (B)官田 (C)王田 (D)私田。

35. 由於甲、乙政權的轉移，使得臺灣與中國的貿易方式也有所改變。請問：這種改變最有可能為下列何者？(A)對渡→走私 (B)走私→對渡 (C)國際貿易→對渡 (D)國際貿易→走私。

*請閱讀下列報導，回答下列二題：

明永曆十五年(1661年)，某人率領著軍隊從金門料羅灣出發，先取得澎湖，加以補給後，然後在擔任臺灣殖民者的通事何斌引導下，航向廢棄已久的鹿耳門水道，趁著漲潮之際，進入台江內海。

36. 根據上文所述，建立臺灣第一個漢人政權的人物為下列何者？(A)鄭芝龍 (B)顏思齊 (C)鄭成功 (D)鄭經。
37. 文中的「何斌」，當時是擔任哪一個國家的通事？(A)荷蘭 (B)日本 (C)葡萄牙 (D)西班牙。

彰化縣立二水國民中學 106 學年度 第一學期 第二次段考 歷史科 試卷 一年 班 座號： 姓名：

二、填充題(每格1分，答案寫在考卷上，共計10分)

- 康熙二十三年，臺灣正式納入清朝統治版圖。當時臺灣設有一府三縣，請問當時的三縣別是：(**諸羅**)、(**臺灣**)、(**鳳山**)。
- 清領時期臺灣最大的水利灌溉設施 (**施世榜**) 在彰化修築的八堡圳。
- (**會館**) 是清領時期商人組織辦公、互相聯絡的場所。
- 灌溉台北地區的瑠公圳為 (**郭錫瑠**) 所開鑿。
- 鄭成功時期，在承天府以北設立了 (**天興縣**)，承天府以南設立 (**萬年縣**)。
- 西元1683年，清朝派遣 (**施琅**) 率兵攻打臺灣，在澎湖擊潰明鄭軍隊。
- 明鄭統治臺灣期間，臺灣主要輸出的商品為 (**鹿皮**)、蔗糖。

三、問答題（每題 3 分，關鍵字 2 分，答案 1 分，共計 3 分，答案寫在考卷上）

	題 目	關 鍵 字	答 案
1	丘逢甲曾題詩云：「誰能赤手斬長鯨，不愧英雄傳里名；撐起東南半天壁，人間還有鄭延平。」請問丘逢甲的詩是為了紀念誰而作？(A)鄭成功(B)鄭芝龍(C)鄭經(D)陳永華。		
2	右圖是某本台灣史漫畫書中的圖片，在「A」這個統治者的主導下，展開如右圖的各項行政措施。請問：下列哪一作為也與圖中的「A」有關？(A)打敗荷蘭人，攻取臺灣 (B)利用三藩之亂，率軍反攻中國 (C)率軍攻台，與明鄭軍隊戰於澎湖 (D)渡海來台的文人，在民間教導民眾。		

四、引導式問答題（每小題 1 分，共計 10 分，答案寫在考卷上）

<p>(一) 以下是某書對於台灣的描述：「此時期台灣居民不得與外國往來，而統治者為了管制移民、稽查海盜，還限定臺灣與中國大陸的對渡港口。當時臺灣所輸出的稻米幾乎全部銷往福建與其他地區，蔗糖則運銷華中、華北和東北。」請依據上述引文，依序回答下列題目：</p> <ol style="list-style-type: none"> 請問「此時期」臺灣的居民是否可以和外國往來？ 答案：<input type="checkbox"/>可以；<input type="checkbox"/>不可以。(請在框框中打勾) 請問：「此時期」臺灣的貿易對象為何地？ 答案： 請問，「此時期」臺灣貿易的主要輸出品有幾項？ 答案： 請問：「此時期」臺灣貿易的主要輸出品為何？。 答案： 根據上述 1~4 題的線索，配合自己的所學的歷史知識，請問：引文中的「此時期」最有可能為臺灣史中的哪一個階段？(A)臺灣的史前時代 (B)臺灣的國際競爭時期 (C)明鄭時期 (D)清朝統治前期。 答案： 經過上述 1~5 題的脈絡練習，接著我們直接面對會考題目。請問：此時期由負責上述貨物運銷的商人所自行組成的組織，最可能為下列何者？(A)郊（行郊） (B)臺灣府 (C)巡檢司 (D)承天府。 答案： 	<p>(二) 右圖中的句子，是學生為某政權所做的段落標題。請依據右圖依序回答下列問題：</p> <ol style="list-style-type: none"> 這個「政權」盤據在東南方的主要目的為何？(A)復明 (B)驅紅毛 (C)紮根漢人社會府 (D)降清。 答案： 這個政權向那個方向進軍驅除「紅毛」？(A)由西向東 (B)由東向西 (C)從南向北 (D)由北往南。 答案： 若這篇報告的段落順序是依據這個政權的興起與滅亡的時間順序書寫，請問：這個政權最後的結局為何？ 答案： 經過上述 1~3 題的脈絡練習，接著我們直接面對會考題目。請問：此份報告的題目，最可能為下列何者？(A)荷西爭奪臺灣的紛擾 (B)鄭氏三代的臺灣經營 (C)清領前期臺灣的土地開墾 (D)臺灣史前時代的農業出現。 答案： <div data-bbox="1406 1668 1773 1843" style="border: 1px solid black; padding: 5px; margin-top: 10px;"> <p>一、盤據東南謀復明 二、東征攻臺驅紅毛 三、漢人社會始紮根 四、兵敗薙髮終降清</p> </div>
--	--