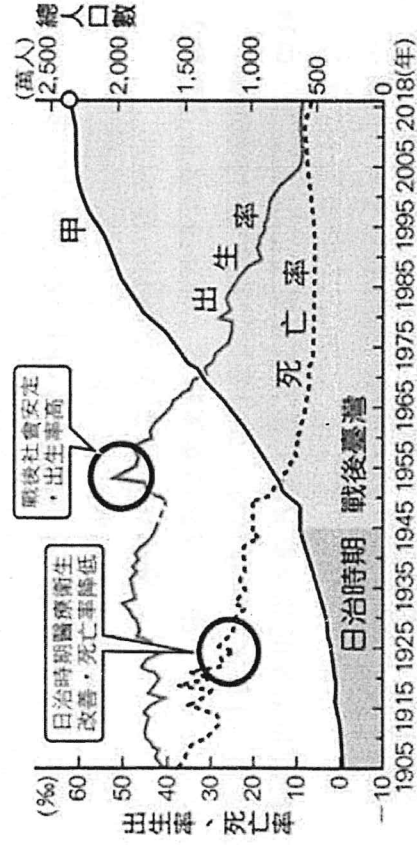


◎ 作答須使用 2B 黑色鉛筆，將正確答案畫記在規定答案卡上，否則不予計分。答案卡請寫清楚班級、座號、姓名。

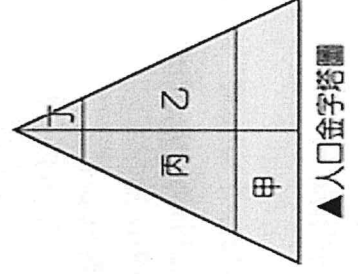
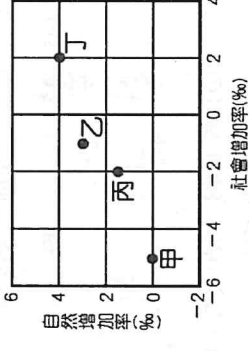
◎ 考卷也請寫上答案，並確實填寫班級、座號、姓名。交卷時，考卷及答案卡都要收回。共 3 頁

一、單選題(共38題，1-24題，每題3分；25-38題，每題2分)

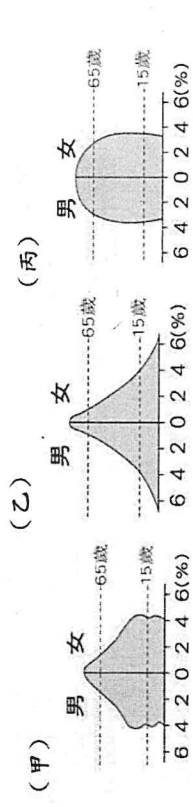
- () 1. $[(出生) - (死亡)] + [(移入) - (移出)]$ = □。請問，上述公式是要記錄哪個地理概念？
 (A) 自然增加 (B) 社會增加
 (C) 人口成長 (D) 人口密度。
- () 2. 民國111年，臺灣的出生率約為 6 %，這個數所代表的意義為何？
 (A) 每10人有6個人出生 (B) 每100人有6個人出生
 (C) 每1000人有6個人出生 (D) 每10000人有6個人出生。
- () 3. 某地某年的人口統計資料，顯示其出生率為13%，死亡率為5%，移入率8%，移出率2%則該年該地的自然增加率變化為何？
 (A) 5 % (B) 8 % (C) 10 % (D) 18 %。
- () 4. 下圖為近百年來臺灣人口成長變化圖，請問哪一時期的臺灣人口成長最少？
 (A) 1955-1965 年 (B) 1975-1985 年
 (C) 1995-2005 年 (D) 2005 年之後。



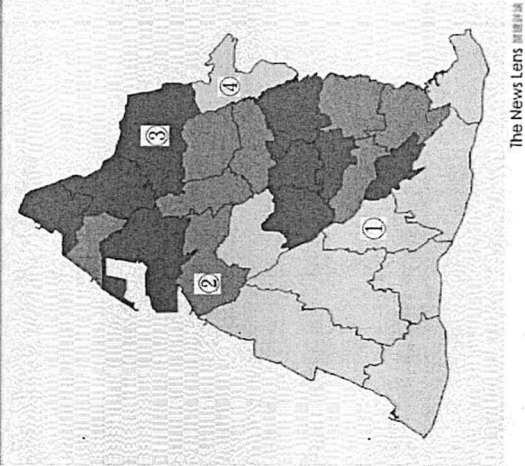
- () 5. 埤頭國中七年二班1號~13號為男生，14號~26號為女生，請問該班性別比為何？
 (A) 0 (B) 50 (C) 100 (D) 200。
- () 6. 尚選想要了解埤頭國中的人口密度情況，請問他必須要找出下列哪些資料？
 (A) 男生人數、女生人數 (B) 教育程度、職業結構
 (C) 學校人數、學校面積 (D) 年齡結構、性別比例。
- () 7. 右圖中的甲、乙、丙、丁為四個區域人口的自然增加率與社會增加率。請問哪個區域的人口呈現負成長，且人口外移最嚴重？
 (A) 甲 (B) 乙 (C) 丙 (D) 丁。
- () 8. 2024中職進入6隊時代，啦啦隊則是進入「洋將時代」。富邦悍將、富邦勇士找來李皓禎；台鋼雄鷹找來安芝懷、朴旻曙；中信兄弟則是找來邊荷律、李丹妃；統一獅則是找來日籍啦啦隊千紘、希美2位成員。請問這些洋籍女將屬於人口金字塔的哪個位置？
 (A) 甲 (B) 乙 (C) 丙 (D) 丁。



- () 9. 若將附圖中甲、乙、丙三種人口金字塔類型，依國家經濟發展程度由低到高排列，順序應為下列何者？
 (A) 甲乙丙 (B) 甲丙乙 (C) 乙甲丙 (D) 丙乙甲。



- () 10. 右圖，依照人口密度高低將彰化縣的行政區分成三等分，「人口密度高」、「人口密度中」和「人口密度低」，密度越高顏色越深，請影響彰化縣人口分布的原因，與下列何者最相關？
 (A) 距海遠近
 (B) 氣候乾溼
 (C) 產業發展
 (D) 地形起伏。

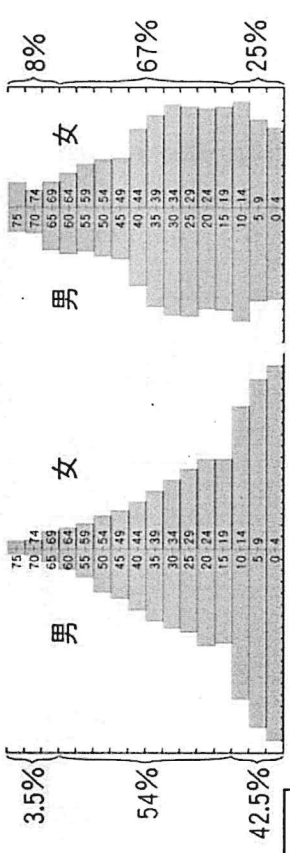


- () 11. 承上題，假設彰化縣各鄉鎮市的房價與人口稠密度呈正比，請問彰化哪個鄉鎮的人均居住空間最狹小，平均房價可能最高？
 (A) ① (B) ② (C) ③ (D) ④。
- () 12. 根據內政部最新統計，台灣性別比例「女多於男」持續擴大，且六都皆是如此，台北市更是差距最大的縣市，右表為台灣四個縣市的性別比，請問何者最有可能為台北市？
 (A) 甲 (B) 乙 (C) 丙 (D) 丁。

縣市	性別比
甲	89.6
乙	100
丙	106
丁	135.5

- () 13. 2024年1月的新生兒共有1萬1023人，但死亡人數卻有1萬9464人，死亡率比出生數多出8441人，「生不如死」的狀況仍加劇。請問根據上文敘述，可以推論台灣的人口問題最有可能為何者？
 (A) 人口自然增加呈現負成長趨勢
 (B) 人口社會增加呈現負成長趨勢
 (C) 人口總數呈現負成長趨勢
 (D) 人口密度呈現負成長趨勢。

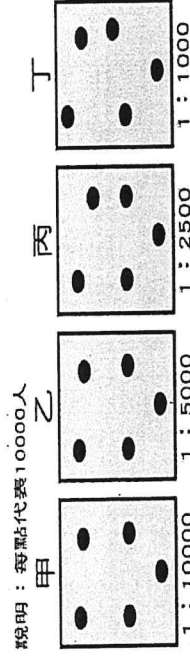
- () 14. 下圖是太陽國人口金字塔圖以前到現在的變化。由圖中太陽國的人口結構變化判斷，現在該國最可能面對的問題為何？
 (A) 教育資源不足 (B) 人力資源下降
 (C) 長照需求提升 (D) 扶養負擔加劇。



- () 15. 下圖為四個國家的人口組成資料。由圖研判，哪一國的壯年人口最充足？
- (A) 甲 (B) 乙 (C) 丙 (D) 丁。
- | | | | |
|---|----|----|-------|
| 甲 | 38 | 7 | 65歲以上 |
| 乙 | 25 | 9 | 15歲以下 |
| 丙 | 22 | 12 | |
| 丁 | 21 | 11 | |
- 單位：%

- () 16. 下圖為四個地區的假想人口分布圖。哪個地區最可能出現人口過度擁擠，生活空間不足的問題？

- (A) 甲 (B) 乙 (C) 丙 (D) 丁。



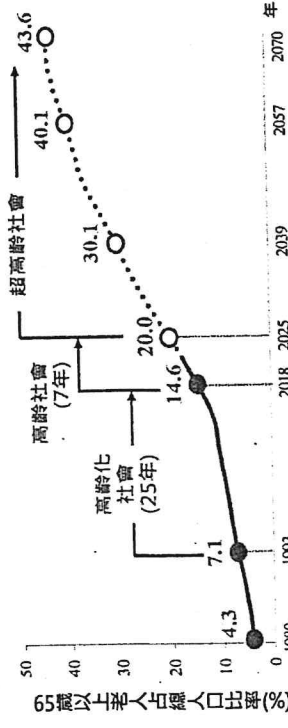
- () 17. 右圖為民國109年臺灣地區人口分布點圖，由圖中可判讀出下列何項訊息？
- (A) 人口分布平均
(B) 人力資源豐富
(C) 山地人口多於平地
(D) 西部人口多於東部。
-

- () 18. 釜爐出門旅遊時，發現當地庄頭、庄尾都有「伯公廟」，是居民信仰的土地公或福德正神，和地方村民及土地有密切關係，庇護著台境平安、五穀豐收，保佑生活大小事。請問：這是屬於何種人的宗教信仰？
- (A) 閩南人 (B) 客家人 (C) 原住民族 (D) 穆斯林。
- () 19. 原住民族電視臺是國內第七家無線電視臺，也是目前唯一全天候以原住民族為主題的電視頻道，節目多以各族族語發音，並附有中文翻譯的字幕。若以「原住民族人口與收視人口呈正比」來推論，下列哪一縣市的收視人數可能最多？
- (A) 台北市 (B) 台中市 (C) 台南市 (D) 台東縣。

- () 20. 座落於屏東泰武的「法蒂瑪聖母堂」，是間融合當地文化特色的天主教堂，不僅教堂門前台階左側復刻金果祿頭目四面祖靈柱、右側為金果祿家屋祖靈柱，內部四周以馬克玻璃描繪天主教7件聖事的炫麗祭壇。請問：該座教堂主要融入了下列哪一個族群的文化特色？
- (A) 原住民族 (B) 新住民 (C) 閩南人 (D) 客家人。

- () 21. 下圖為臺灣1980年~2070年 65歲以上老年人口占總人口比率的趨勢，請問在這樣的趨勢下，何者是台灣政府最應該努力的方向？

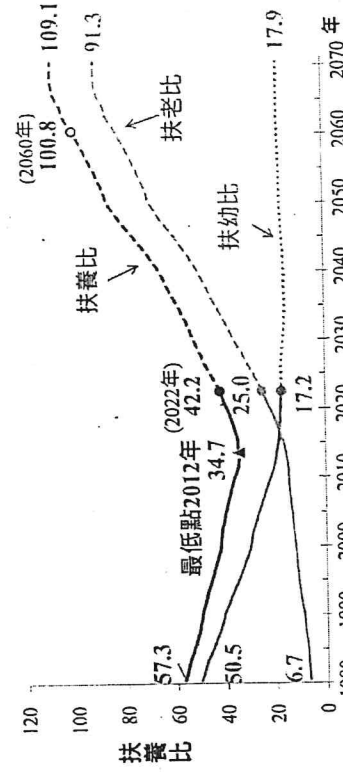
- (A) 鼓勵提早退休，享受好山好水
(B) 廣設公立小學，就學更加方便
(C) 推動生育津貼，父母享有嬰假
(D) 整合醫療資源，協助長者安養。



- () 22. 承上題，臺灣將在 2033 年超越日本，老化指數將居全球之首，成為全世界最老的國家。請問：臺灣老年人口比例快速攀升，和下列何者關係最大？
- (A) 總人口數大量增加 (B) 壯年人口大量移居海外
(C) 人口死亡率急劇降低 (D) 新生兒出生率下降。

- () 23. 下圖為台灣1980~2070年的扶養比資料，請根據圖片判斷2022年後，臺灣社會將面臨哪項人口問題？

- (A) 晚婚、不婚普遍，少子化成趨勢
(B) 扶養比漸高，壯年人口負擔減輕
(C) 男女比例不均，性別比失衡嚴重
(D) 人口過度膨脹，人口密度壓力大。



- () 24. 臺灣原住民族各族群所使用的語言，不僅自己相互之間有很深的關係，而且跟太平洋、印度洋島嶼上的許多種語言都有親屬關係，形成學術界所稱的「語族」。請問：「語族」的正確名稱為何？
- (A) 印歐 (B) 南島 (C) 蒙古 (D) 北島。


- 【題組】閱讀新聞報導，根據文章回答25~28題

彰化縣111年申請改制直轄市，但因為人口未達125萬遭到駁回，而截至2023年11月底統計，當月遷入2250人遷出2746人，人口數首度跌破124萬大關，若未能產業轉型、吸引青年回流，恐怕人口成長下降趨勢，難以反轉。

彰化縣議員：「彰化和台中距離太近，台中市工作機會多、平均薪資高、交通方便及消費便利性，都市磁吸效應更加明顯，就學就業等環境，給予較多的發展空間，彰化的薪資結構沒辦法有效提升，導致年輕人在彰化是留不住的。」

彰化創業者：「家在彰化，畢業之後待在彰化，除了考量到和家人住就近照顧，也喜歡這裡的生活步調，剛好也要縣府推的創業獎勵金，逐漸讓咖啡廳經營步上軌道。」

- () 25. 下列哪張圖最能說明上文中彰化縣人口的發展趨勢？



- () 26. 承上題，造成此發展趨勢的原因為何？

- (A) 扶養比下降 (B) 性別比上升
(C) 移入率下降 (D) 移出率上升。

- () 27. 許多彰化人選擇到台中市謀求生活，對這些彰化人而言，他們的遷移較符合下列何種人口現象？

- (A) 國內遷移、都市拉力 (B) 國內遷移、都市推力
(C) 國外遷移、都市拉力 (D) 國外遷移、都市推力。

- () 28. 關於上文對於留在彰化的創業者來說，下列何者為彰化的拉力？

- (A) 平均薪資高 (B) 創業獎勵金
(C) 消費便利性 (D) 工作機會多。

【題組】附圖為台灣113年人口政策宣導，請依據宣導內容，回答29-33題：

113年人口政策宣導



把握時機 適齡婚育 租補加碼

- 擴大辦理單身聯誼活動，營造樂婚氛圍，鼓勵適齡婚育，攜手邁向幸福。
- 性別平等沒煩惱，生男生女一樣好；友善家庭兵役制度，育兒服役兼顧雙贏。
- 幸福來臨別擔心，新婚育兒租金補貼再加碼，貸款利息補貼享低利率優惠。

數位平權 培育新實力 延攬人才 友善國際新環境

- 培育新住民數位應用力，建構數位永續共融願景。
- 培力新住民及子女，奠基培育國家人才。
- 優化外國人數位申請措施，放寬外國人才停留留規，健全友善國際環境。

() 29. 依據海報中的人口政策，顯示臺灣人口出現何種變化？

- (A) 幼年人口出生率過低 (B) 老年人口死亡率過低
(C) 壯年人口移出嚴重 (D) 人口成長率急速下降。

() 30. 新住民定義為：台灣地區人民之配偶為「外國人、無國籍人、大陸地區人民及香港、澳門居民」。更廣義的說，也就是1990年代後從國外來到臺灣結婚或移民定居，並取得中華民國國籍的人稱為新住民。請問根據新住民的定義，他們的遷移型態應屬於下列哪一類？

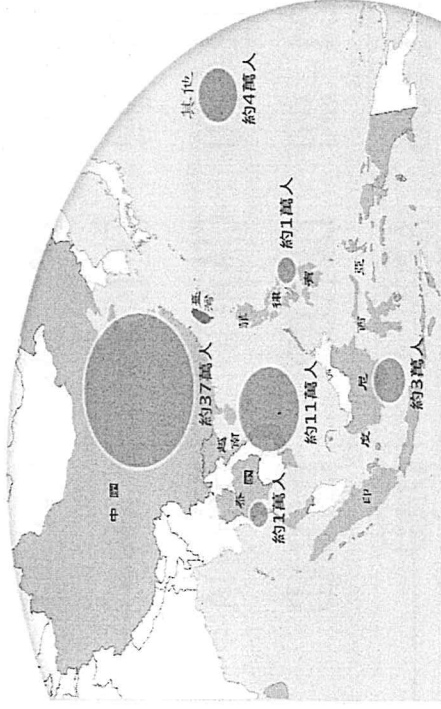
- (A) 暫時性國內遷移 (B) 永久性國內遷移
(C) 暫時性國際遷移 (D) 永久性國際遷移。

() 31. 下列何種情況屬於臺灣人口的社會增加？

- (A) 雲林老陳娶了越南配偶回臺灣
(B) 越南新住民小蘭生下一對雙胞胎
(C) 澎湖小花在單身聯誼找到對象嫁到嘉義
(D) 原住民阿泰畢業後從花蓮到台北找工作

() 32. 下圖為台灣新住民主要來源地分布圖，近30多年間，新住民來自世界各地，不同國家的新住民在臺灣組成家庭，帶來家鄉的文化、美食也讓我們們的社會有了更多元的風貌。請根據圖判斷台灣的新住民主要來自哪裡？

- (A) 菲律賓、泰國 (B) 中國、越南
(C) 越南、菲律賓 (D) 中國、印度尼西亞。



() 33. 2023/5/30 為了吸引外籍優秀人才來台及留台，立法院三讀通過條文新增對我國有特殊貢獻、高級專業人才、各專業領域得首獎者及投資移民申請人的配偶、未滿18歲子女及身障子女，得隨同申請永久居留。請問台灣需要通過這條文的原因，主要與下列何者有關？

- (A) 臺灣勞工薪資成本提高
(B) 臺灣的少子化日益嚴重
(C) 外籍配偶人數持續增加
(D) 臺灣產業技術水準降低。


() 34. 下表為大一男生阿凱家的成員組成，以下關於阿凱家成員的敘述，何者為正確？

- (A) 老年人口有一人 (B) 幼年人口有一人
(C) 壯年人口有四人 (D) 性別比為100。

阿凱	阿凱	阿凱	阿凱	阿凱	阿凱	阿凱
爺爺	伯伯	爸爸	媽媽	堂姊	弟弟	阿凱
種茶	已退休	警察	紡織廠女工	服飾店員	國二學生	林林
70	65	43	40	21	14	12
職業	年紀					
						阿凱
						大一學生
						18

() 35. 右圖為國外某漫畫家針對社會現象所繪製的政治漫畫，請問漫畫中呈現的現象與下列何項議題有關？

- (A) 扶養比上升負擔將加重
(B) 失業率提高工作難尋覓
(C) 人口快速擴張生活空間變小
(D) 高房價時代都市生活壓力大。

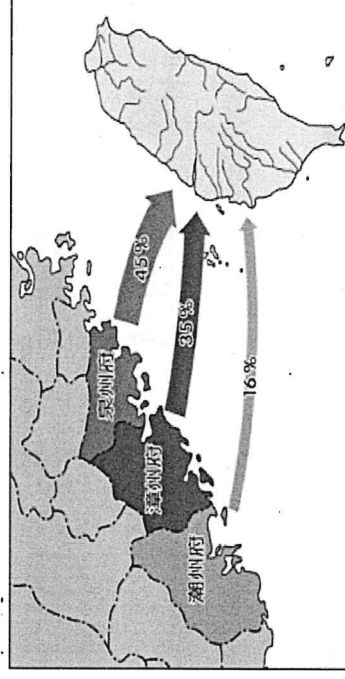


() 36. 高鐵台中站104年起設置「穆斯林祈禱室」，提供可蘭經、禮拜毯，並在祈禱室旁的無障礙廁所設置「淨下」設施，2023年1月至今平均每月有10多人次申請使用，營造友善旅遊環境。請問高鐵這項措施是因應何種宗教信仰的工作者、學生及觀光客在台人數日漸增加而設置的？

- (A) 佛教 (B) 基督教 (C) 印度教 (D) 伊斯蘭教。

() 37. 下圖為臺灣某時期的人口移動示意圖，請問：當時主要是哪些族群移入臺灣？

- (A) 漢人 (B) 原住民 (C) 新住民 (D) 戰後移民。



() 38. 關於臺灣的多元族群文化特色，下列何者正確？

- (A) 目前經行政院核定的原住民族共 9 族
(B) 新住民來臺居住的主因為求學
(C) 吉納福是戰後西方飲食進入台灣的品項
(D) 珍珠奶茶是融合不同文化的新創美食。

【完成作答！答案卡及兩張考卷記得都要填寫答案，並寫上姓名，別忘了再檢查一次！】