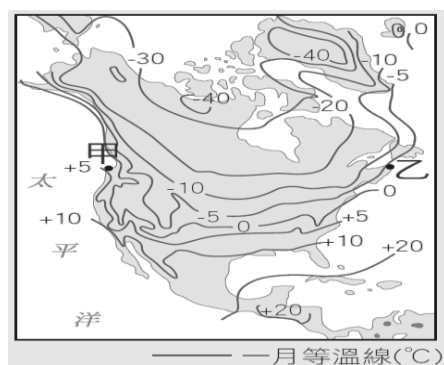


一、選擇：每題 2 分

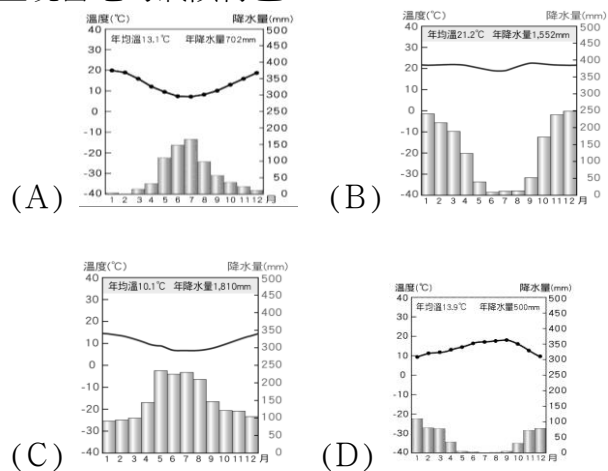
- () 加拿大與美國同為政治穩定、經濟發達區，而加拿大總人口數約為 3671 萬人，美國約 3.257 億人；請問：為何加拿大的人口數遠比美國少？(A)面積比美國較小(B)自然資源較少(C)距海遠近差異(D)緯度較高，氣候較寒冷。
- () 美國社會被形容為民族的熔爐，匯聚各種文化形成其多元特色。這種多元文化的起源與下列何項關係最為密切？(A)出生率高(B)死亡率高(C)移入率高(D)移出率高。
- () 巴拿馬運河為美洲相當重要的航行要道，下列哪兩個地區之間的最短船運不須經過巴拿馬運河？(A)美國紐約~日本東京(B)美國新奧爾良~中國上海(C)巴西里約~英國倫敦(D)美國舊金山~荷蘭鹿特丹。
- () 邁阿密熱火隊名稱的由來，是因為所在城市氣候潮濕炎熱而名，陽光、沙灘、海上活動正是這個城市的特色。熱火隊所在城市的氣候類型為下列何者？(A)溫帶沙漠氣候 (B)溫帶地中海型氣候 (C)溫帶海洋性氣候 (D)夏雨型暖溫帶氣候。
- () 附圖是北美洲一月的等溫線分布圖。從圖中可看出西岸地區(甲地)較同緯度的東岸(乙地)溫度高出許多，造成這種現象的主要原因為何？(A)洋流性質不同(B)地形分布不同(C)人口多寡不同(D)海岸類型不同。



- () 位於荷蘭鹿特丹的貨櫃輪船若想採最短距離航行至北美洲五大湖區，則輪船必須行經下列哪條河川？(A)萊茵河(B)聖羅倫斯河(C)密西西比河(D)科羅拉多河。
- () 西元 2010 年 4 月，密西西比河河口發生鑽油平臺斷裂事件，大量原油外洩，這場漏油事故不但嚴重威脅到當地海岸生態，如未及時封住，這些漂浮的油汙極有可能順著哪個洋流漂流到歐洲？(A)阿拉斯加暖流(B)加利福尼亞涼流(C)拉布拉多寒流(D)墨西哥灣流。
- () 亞太經濟合作會議(APEC)是環太平洋沿岸的 21 個國家，為了促進經濟合作而成立的跨國組織，臺灣、中國、日本等國都有加入。請問：就地緣位置看來，下列哪個國家最不可能加入亞太經濟合作會議？(A)加拿大(B)墨西哥(C)秘魯(D)巴西。
- () 二次大戰後，美國透過大眾傳播媒體與流行市場，將具有快速且大量生產、大量消費特徵的「美式文化」推銷至世界各國。請問下列何者並「不屬於」美式文化？(A)寶萊塢電影(B)星巴克咖啡(C)麥當勞速食(D)可口可樂飲料。
- () 為了因應全球的經濟競爭，北美洲國家成立了 NAFTA 區域性經貿組織(該組織於 2018 年 9 月 30 日重新敲定新的貿易協，由 USMCA 取而代之)，該組織中有一個成員國並非北美洲國家。請問該國為下列哪一個國家？(A)美國 (B)巴西(C)加拿大(D) 墨西哥。
- () 中南美洲受歐洲人殖民式經濟影響，早期的產業發展以下列哪些類別為主？(A)農、漁業(B)農、礦業(C)工、商業(D)工、礦業。
- () 雄大來到位於極圈內的阿拉斯加欣賞極光奇景，同時也可以觀察到哪一個民族的生活特色？(A)維京人(B)毛利人(C)因紐特人(D)印第安人。
- () 聯合國環境署指出全球冰河溶化速度又創紀錄 (2012

年 3 月)，若冰層持續融化、全球海平面上升，屆時多處沿海城市都會受影響。下列那一城市受到的影響程度可能最小？(A)西雅圖(B)溫哥華(C)墨西哥城(D)里約熱內盧。

- () 電影「神鬼奇航」系列電影的拍攝團隊，若要取景當時加勒比海海盜的勢力範圍，應到下列哪個群島進行拍攝？(A)不列顛群島(B)西印度群島(C)東印度群島(D)日本群島。
- () 在中南美洲許多國家皆經歷過強大的地震災害，請問下列國家何者較「不容易」出現此種災害？(A)墨西哥(B)巴拿馬(C)巴西(D)智利。
- () 阿根廷為南美洲重要的肉類及穀物外銷國家，享有「南美穀倉」的美譽。請問其主要農牧產區位於下列哪一個地理區？(A)巴塔哥尼亞高原(B)彭巴草原(C)安地斯山脈(D)巴西高原。
- () 西元 2017 年 3 月正值乾季末期，智利中部驚傳森林大火，火勢從首都聖地牙哥西方約 120 公里處的林區開始延燒，摧毀逾十餘間住宅，迫使 6,000 人撤離當地。請問：下列哪張氣候圖最能呈現當地的氣候特色？



- () 拉丁美洲大部分國家習慣種植單一作物，其主要原因為何？(A)受限於地形、氣候(B)熱帶栽培業，利潤較高(C)採單一作物，利於精緻發展(D)受歐洲殖民影響。
- () 在拉丁美洲，因為某種天然植被遭受過度砍伐與破壞，導致全球最大的生態物種基因庫受到破壞。該天然植被最有可能是指下列何者？(A)莽原(B)雨林(C)混合林(D)針葉林。
- () 印加帝國的舊都—庫斯科高 3,399 公尺，玻利維亞首都拉巴斯、哥倫比亞首都波哥大、墨西哥首都墨西哥城皆位於二千公尺以上的高地。中南美洲許多重要城鎮皆位於高原或山間盆地，主要原因為何？(A)礦產資源豐富(B)牧業較為發達(C)產業較為多元(D)氣候涼爽宜人。
- () 中南美洲受緯度、地形及洋流等因素影響，氣候多樣，但許多沿海地區卻出現沙漠氣候，請問：下列哪一個地理區的沙漠氣候其形成的因素與其他三者有明顯的差異？(A)阿根廷南部巴塔哥尼亞高原(B)秘魯沿海地區(C)智利北部沿海地區(D)墨西哥下加利福尼亞半島。
- () 西元 2017 年 5 月 4 日，南美的第一班豪華臥舖列車首航。這列車將沿著秘魯境內的山脈，穿過印加帝國的舊首都庫斯科(Cusco)，經過世界最大的高山湖泊和阿雷基帕市(Arequipa)，這些地點都已被列入了世界遺產。」請問：上文中提到的「秘魯境內的山脈」和「世界最大的高山湖泊」最可能為何？(A)落磯山脈、的的喀喀湖(B)落磯山脈、馬拉開波湖(C)安地斯山脈、的的喀喀湖(D)安地斯山脈、馬拉開波湖。
- () 西元 1912 年 4 月 15 日號稱「永不沉沒」的豪華郵輪鐵達尼號，因撞擊到冰山，在加拿大紐芬蘭外海 640 公里處沉船。據科學家研究，當年這些冰山主要來自格陵蘭，並順著哪一道洋流南下？(A)親潮(B)黑潮(C)阿拉斯加暖流(D)拉布拉多寒流。
- () 極光是在高緯度(北極和南極)的天空中，帶電的高能粒子和高層大氣(熱層)中的原子，碰撞造成的發光現象。極光旅行是許多人一生都想追尋的目標，請問此奇景最易出現在下列何處？

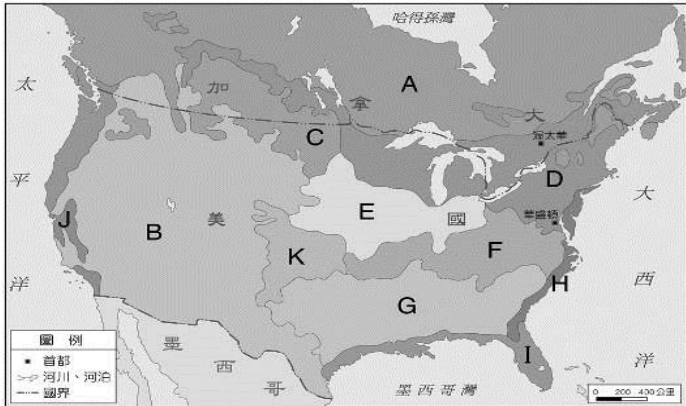
(A)新奧爾良(B)五大湖區(C)阿拉斯加(D)阿帕拉契山。

25.()「這個族群分布的範圍很廣，從北美的加拿大到南美的南部，都是他們傳統的生活領域。他們依照所在的環境，有的打獵，有的游耕，有的種玉米，有的種馬鈴薯，也有依野牛維生。而今，他們的傳統文化，多因白人的入侵而消失。」上文所描述的是下列哪個族群？(A)斯拉夫人(B)貝都因人(C)因紐特人(D)印第安人。

26.()黃石公園是美國第一座國家公園，以溫泉、間歇噴泉聞名於世。這個現象與下列哪個事實關係密切？(A)居板塊交接帶上 (B)四周山地高聳(C)緯度過高(D)西風終年吹拂。

二、題組：每題 2 分

(一) 請依據北美洲的農業分布圖，回答下列問題。



27.()小蝦喜歡穿「美國棉」製成的衣服。請問：這些衣服所使用的棉花，主要生產於圖中何處？(A)B(B)E(C)G(D)I。

28.()北美洲為全球木材主要供應地之一。請問：森林主要分布於圖中何處？(A)A(B)B(C)E(D)G。

29.()美國加州的氣候屬溫帶地中海型氣候，適合葡萄生長，使加州的葡萄和葡萄酒產量居全美第一。請問：加州應是位於圖中何處？(A)E (B)I (C)J (D)K。

30.()威斯康辛州被稱為「奶製品之州」，本州出產的奶酪尤其出名。當地居民還會在體育比賽或其他公共活動中戴著一頂圓餅形瑞士奶酪一角的帽子。威斯康辛州最有可能位在圖中何處？(A)D (B)E (C)F (D)G。

31.()亞洲多為精耕細作的稻作農業，美國、加拿大則多為粗放的商業性農業，造成兩地農業經營方式不同的主要原因為何？(A)氣候條件差 (B)飲食習慣不同 (C)政府政策鼓勵 (D)每人平均耕地大小。

(二) 請依據中南美洲氣候分布圖，回答下列問題。



32.()下列何區受西風影響，呈現終年有雨之溫帶海洋性氣候？(A)丙(B)丁(C)戊(D)己。

33.()下列何區因位於西風背風側，並受到寒流影響呈現溫帶沙漠氣候？(A)丙(B)丁(C)壬(D)辛。

34.()古印加文明位於安地斯山脈中，其氣溫隨高度呈垂直變化。請問：古印加文明位於圖中何區？(A)乙(B)丙(C)丁(D)戊。

35.()下列何區受到祕魯涼流及高壓帶影響，形成乾燥的熱

帶沙漠氣候？(A)甲(B)丙(C)丁(D)戊。

(三)下列是美國部分城市的特色或著名景觀，請在參考選項中選出與其相符的城市代號。

(甲)紐約 (乙)西雅圖 (丙)華盛頓特區 (丁)新奧爾良 (戊)底特律 (己)休士頓 (庚)洛杉磯 (辛)拉斯維加斯

36.()白宮所在地？(A)甲(B)乙(C)丙(D)庚。

37.()沙漠中的賭城？(A)乙(B)戊(C)庚(D)辛。

38.()世界三大金融中心之一？(A)甲(B)乙(C)丙(D)丁。

39.()奧斯卡頒獎典禮舉辦地，為世界電影工業重鎮？(A)乙(B)丙(C)庚(D)辛。

40.()波音飛機、微軟公司及全球最大咖啡連鎖店『星巴克』總部所在？(A)甲(B)乙(C)戊(D)庚。

41.()爵士樂的發源地；夏、秋季節常有颶風侵襲？(A)丁(B)戊(C)己(D)庚。

42.()美國太空總署(NASA)研究及控制中心設置地？(A)丙(B)戊(C)己(D)庚。

43.()曾是美國汽車工業中心；NBA 籃球『活塞隊』所在？(A)丙(B)戊(C)己(D)庚。

(四) 附圖為中南美洲主要國家分布圖。請依據圖回答下列問題。



44.()古代印第安人所建立的馬雅金字塔，不但是馬雅文明的重要精神象徵，同時紀錄著三千年前的神祕傳說。請問：哪個國家可以看到馬雅文明遺跡？(A)甲(B)戊(C)己(D)辛。

45.()距今一百年前，美國耶魯大學的考古人員在祕魯馬丘比丘挖掘印加帝國的遺址，共挖出了 4 萬多件陶器和一百多具遺骨，並帶回美國。經過雙方多年的交涉，終於答應歸還這批古物，並於西元 2011 年 12 月中陸續將古物運回馬丘比丘。請問：上述國家位於圖中何處？(A)甲(B)丙(C)己(D)戊。

46.()「某國嘉年華會的森巴舞可說是南美洲多元文化的結晶，此種舞步也被融入在當地的足球運動，其足球隊員踢球時，節奏明快，猶如踏著熱情的森巴舞。」文中所敘述的國家應該為下列何者？(A)甲(B)戊(C)庚 (D)辛。

47.()承上題。霏霏想到此從事咖啡貿易工作，他應該通曉下列何種語言，最有助於和當地人民的溝通？(A)法語(B)德語(C)西班牙語(D)葡萄牙語。

48.()「這裡發展商業性農業，使用最新技術和設備，生產商業性穀類作物或肉類，每年有大量的小麥、玉米、牛肉和毛皮出口。」以上敘述最可能是中南美洲哪個國家的經濟活動特色？(A)戊(B)己(C)庚(D)辛。

49.()中南美洲的經濟發展以農、礦業為主，在主要的農礦業和產國配對上何項不正確？(A)鐵--戊(B)甘蔗--乙(C)咖啡--戊(D)石油--辛。

50.()附圖為某國家擁有的景觀特色。企鵝表示該國具有較冷溼的氣候、灌木林是溫帶地中海型氣候的特徵、沙漠中的仙人掌則表示為沙漠氣候。請問：這個國家最可能為下列何者？(A)甲(B)己(C)庚 (D)辛。

