

國一康軒版台灣地理 位置地形 107 上第一次段考

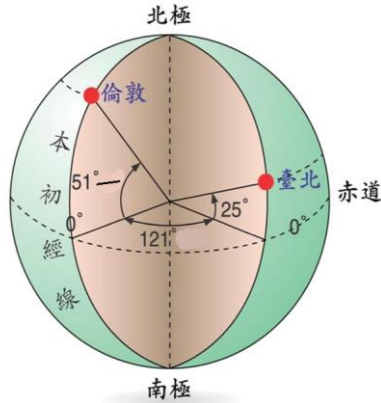
1-50 題，每題 2 分；共 100 分（共 4 頁）

一 單選題

- 下列有關緯線的敘述，哪一項錯誤？ (A) 0° 緯線又稱赤道 (B) 緯線分北緯、南緯，最多 90° (C) 最長的緯線是 0° 緯線 (D) 所有的緯線均交會於南、北極點
- 下列有關經線的敘述，哪一項錯誤？ (A) 0° 經線又稱本初經線 (B) 經線分東經、西經，最多 90° (C) 所有的經線均一樣長 (D) 所有的經線均交會於南、北極點

3. 請問台北的絕對位置是？

- (A) 25°E , 121°S
 (B) 121°E , 25°N
 (C) 51°W , 25°S
 (D) 121°W , 51°N

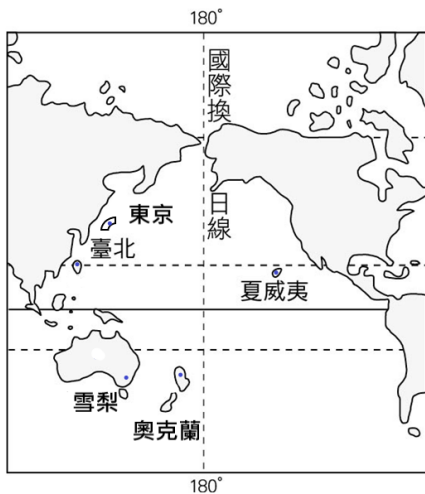


4. 以下關於各地圖要素的解釋，何者是錯誤的？

- (A) 比例尺-表示地圖的圖幅大小 (B) 方向標-表示圖中方位 (C) 圖例-將現實事物簡化成為地圖中的符號 (D) 圖名-表示地圖的主要內容

5. 當臺北剛施放完跨年煙火慶祝新一年到來之時，附圖中的何地日期卻慢台北一天？

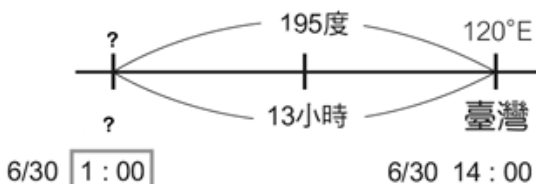
- (A) 東京 (B) 夏威夷 (C) 雪梨 (D) 奧克蘭



6. 能表示地形的圖片和影像有很多種類：(甲) 等高線地形圖 (乙) 分層設色圖 (丙) 地形剖面圖 (丁) 衛星影像 (戊) 航空照片，哪兩種可以讓我們了解地表上土地利用的情形，並容易即時更新資訊？

- (A) 甲、乙 (B) 甲、丙 (C) 乙、丙 (D) 丁、戊

7. 附圖是湯豪用地理課本中教的方法算某地標準時間的計算圖，請問附圖中的？應是以下何地？(A) 75°W 的紐約 (B) 45°W 的巴西 (C) 150°E 的雪梨 (D) 0° 的倫敦



8. 星期天彰興的小翔要去臺中市玩，他選了一張很內容詳盡的臺中市地圖，圖上標明一公分代表實際距離二百公尺。這張圖的比例尺是？

- (A) 1:200 (B) 1:2,000 (C) 1:20,000 (D) 1:200,000

9. 呈上題，小翔的同學浩子跟著一起去台中，他帶了一張圖幅大小一樣但比例尺小很多的臺中市地圖，請問和小翔地圖相較，浩子的地圖一定會有以下哪一種特徵？(A) 內容更詳細 (B) 圖例設計更可愛 (C) 出現 2 個方向標 (D) 涵蓋更大的實際面積

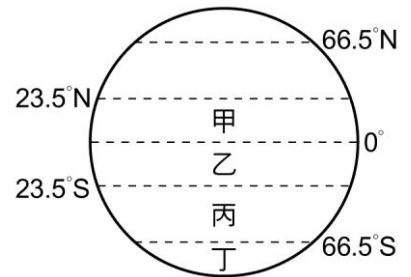
10. 過去人們使用的傳統紙製平面地圖及現今科技時代所使用的電子地圖比較如附表所示。請問其中哪一項是錯誤的？

| | (A)更新 | (B)搜尋 | (C)放大縮小 | (D)例如 |
|------|-------|--------|----------|------------|
| 傳統地圖 | 更新較快 | 讀者自找 | 較不方便放大縮小 | 鄭氏時期台灣古地圖 |
| 電子地圖 | 更新較慢 | 程式幫忙搜尋 | 較方便放大縮小 | Google Map |

11. 以下哪一個位置的描述不是使用絕對位置的方式？

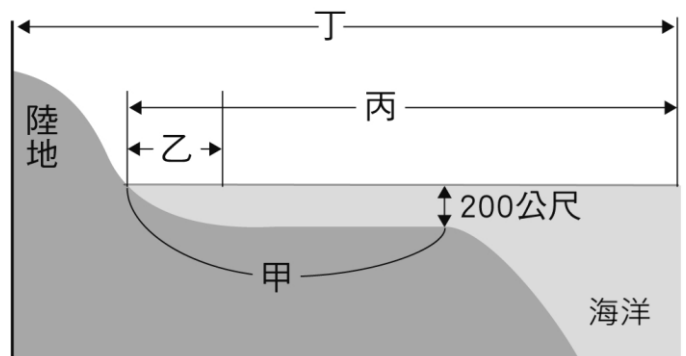
- (A) 彰興國中於東經 120 度，北緯 24 度
 (B) 漢銘醫院東南方約 500 公尺是彰興國中
 (C) 彰興國中位於彰化縣地圖上 (9, H) 的位置
 (D) 彰興國中地址是彰化市埔西街 107 號

12. 附圖是重要緯線示意圖，以下關於甲乙丙丁四區的描述，何者錯誤？



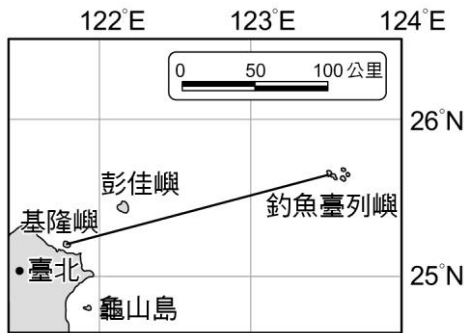
- (A) 太陽會整年直射丙丁區 (B) 甲乙氣候上多屬熱帶 (C) 甲乙區都屬於低緯度帶 (D) 丁氣候上屬寒帶

13. 附圖中「甲」長約 120 哩，則此陸地的經濟海域最可能是何者所代表的範圍？(A) 甲 (B) 乙 (C) 丙 (D) 丁 (還有 3 頁)



14. 相對位置的表示通常用於日常生活中，指示地點及交通往來。在指出相對位置的時候，以下列哪兩項要素最為重要？(A)距離、方位 (B)面積、高度 (C)經度、緯度 (D)網格、座標

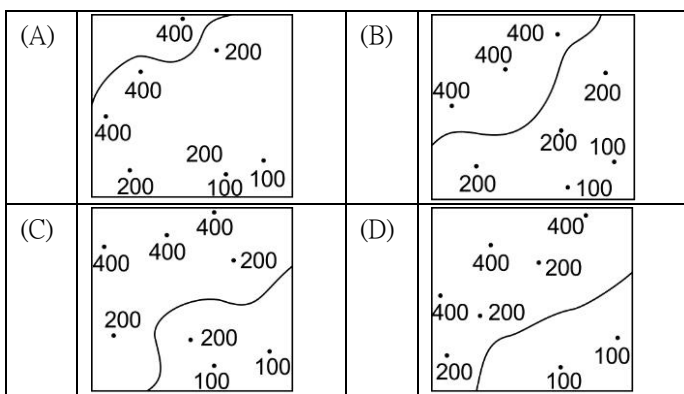
15. 依附圖所示，請問基隆嶼到釣魚臺列嶼的直線實際距離最接近以下何者？(A)50 公里 (B)100 公里 (C)200 公里 (D)250 公里



16. 下列有關台灣位置的描述，何者錯誤？ (A)位於太平洋西側 (B)位於中國東南方海面上 (C)位於 120°-122°E 之間 (D)位於南半球

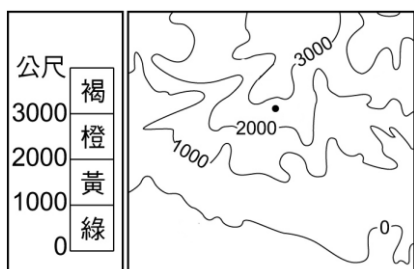
17. 以下是地形形成原因--內外營力的配對，何項有誤？(A)流水的侵蝕、搬運、堆積-內營力 (B)板塊活動-內營力 (C)火山活動-內營力 (D)風的作用力-外營力

18. 下列哪張圖所畫的 300 公尺等高線位置正確？



19. 甲八卦臺地、乙大肚臺地、丙林口臺地、丁桃園臺地，依緯度由高到低排列，則正確的順序是？(A)甲乙丙丁 (B)丙丁乙甲 (C)丙乙甲丁 (D)丁丙乙甲

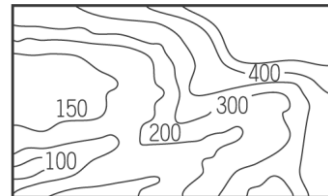
20. 附圖是一張等高線地形圖，依照附圖中的高度表繪製分層設色圖時，黑點區應塗上哪種顏色？(A)綠色 (B)黃色 (C)橙色 (D)褐色



21. 等高線地形圖可以呈現出多種的地形特色。但從附圖的

等高線圖(單位公尺)中得不到以下哪一種資訊？


- (A)土地利用方式
- (B)地勢起伏
- (C)地表海拔高度
- (D)河谷或山脊分布



22. 在花東縱谷平原上放眼望去，兩側都是山，請問分別是哪兩座山脈？(A)中央、海岸 (B)中央、雪山 (C)阿里山、玉山 (D)玉山、中央

23. 根據地質學家調查，受到板塊運動影響，臺灣的地質年代相當年輕，如果以地質常用的時間單位「百萬年」而論，地球年齡已經 4,600 歲了，但臺灣只有 6 歲。請問臺灣的哪一地形特徵和上述現象關係最密切？ (A)中央山脈偏向東部 (B)多高聳的新褶曲脈 (C)西部平原大於東部 (D)山地邊緣常有丘陵

24. 附圖是臺灣山脈形成示意圖(上方為北方)。圖中的箭頭代表下列哪種含義？

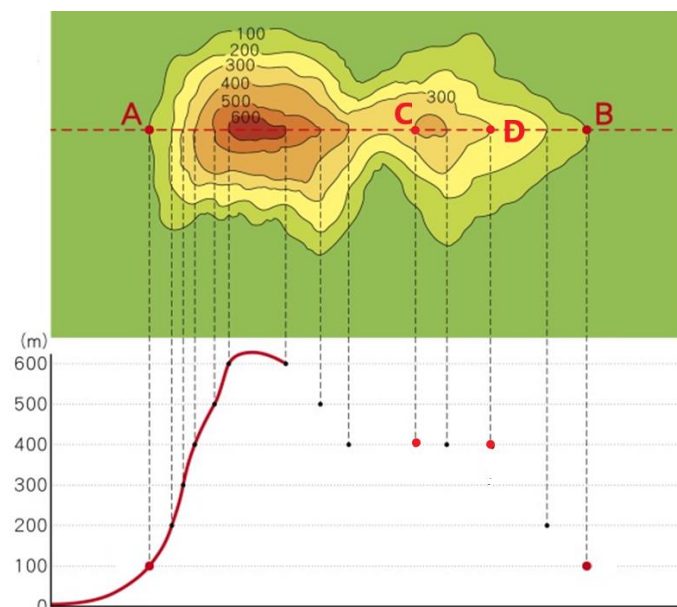


- (A)歐亞板塊的推擠力
- (B)菲律賓海板塊的推擠力
- (C)玉山演化成爲阿里山
- (D)主要河流的流向

25. 下列關於臺灣地形的敘述，何者有誤？ (A)山脈主要呈東西走向 (B)地形複雜多樣 (C)山地多平原少 (D)玉山主峰是全臺第一高峰

二 題組

(一) 附圖為某一種地形的等高線地形圖(上圖)，城武試著畫出 A-B 間的地形剖面圖(下圖)，請問：



26. 城武練習畫的地形剖面圖中，請問哪個點的高度點錯了？(A)A (B)B (C)C (D)D

27. 城武可由圖推測出此地形的最高點海拔最有可能是多少公尺？(A)301 (B)600 (C)650 (D)710

28. 此地形應為？(A)高原 (B)山地 (C)台地 (D)丘陵(還有 2 頁)

(二) 附圖是地球繞太陽公轉示意圖，太陽兩側的實線代表太陽直射之地，N 代表北極。請問：

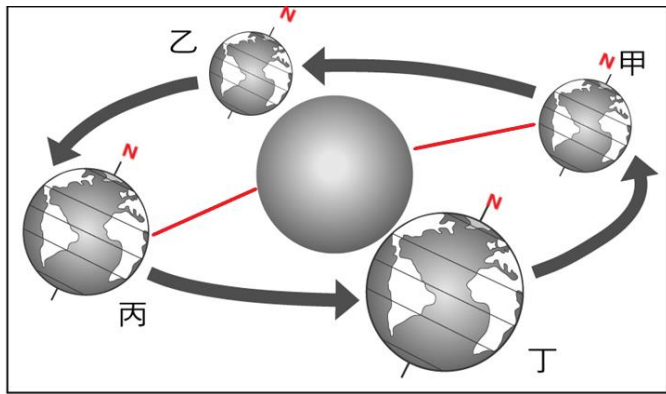
29. 地球運行到哪個位置時北半球是冬季？

(A)甲 (B)乙 (C)丙 (D)丁

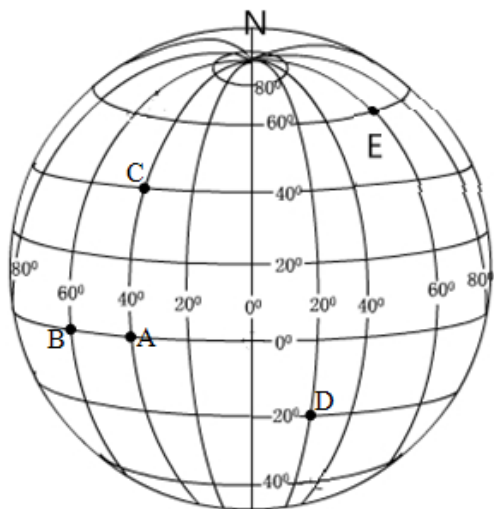
30. 地球運行到哪個位置時南半球是冬季？

(A)甲 (B)乙 (C)丙 (D)丁

31. 地球運行到哪個位置時，台灣會出現晝最長夜最短，而北極圈會出現永晝現象？(A)甲 (B)乙 (C)丙 (D)丁



(三) 附圖為地球經緯線簡圖。請問：

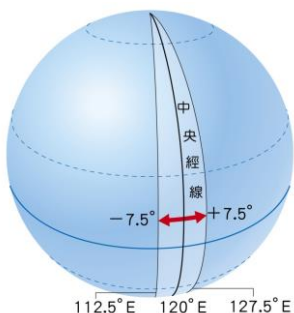


32. 以下關於 A 點位置的描述，何者錯誤？(A)位於 C 的南方 (B)位於 B 的東方 (C)40°W, 0° (D)40°E, 0°

33. 哪兩個點在理論上時間相同？(A)A和B (B)A和C (C)A和D (D)B和D

34. A、B、D、E 四個地點每天見到日出的順序，最先到最後依序是 (A)BADE (B)DBAE (C)EABD (D)EDAB

(四) 附圖為 120°E 所在時區示意圖。請問：

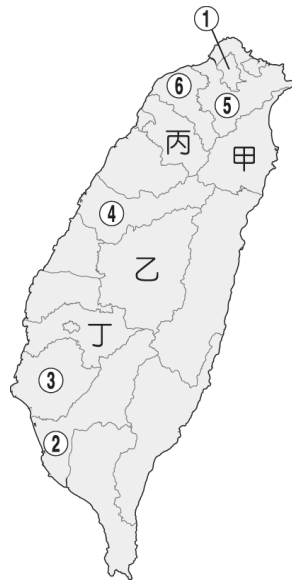


35. 全球一共有多少個時區？(A)無限 (B)36 (C)24 (D)1

36. 台灣的時間比國際標準時間快或慢多久？(A)快 10 小時 (B)快 8 小時 (C)慢 6 小時 (D)一樣

37. 理論上，在同一時區內的所有地區有何共同特徵？(A)時間相同 (B)氣候帶相同 (C)季節相同 (D)屬同一國家

(五) 附圖為臺灣行政區簡圖，請回答下列問題：

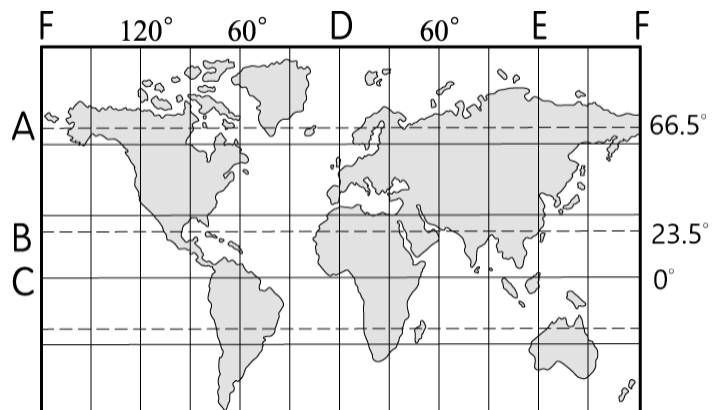


38. 107 年年底，①-⑥地區舉行地方自治選舉，這 6 地民眾都將選出以下何種行政首長？(A)直轄市市長 (B)縣轄市市長 (C)縣長 (D)鄉長

39. 以下關於甲-丁行政區名稱配對，何者錯誤？(A)甲-宜蘭縣 (B)乙-南投縣 (C)丙-新竹縣 (D)丁-台南市

40. 圖中並未列出台灣離島的行政區規劃，請問台灣哪個離島在行政上屬於連江縣？(A)金門列嶼 (B)馬祖列嶼 (C)澎湖群島 (D)釣魚臺列嶼

(六) 附圖上代號為地球上重要的經緯線(AB 是最近的橫虛線、C 是橫實線、DEF 是直線)，請問



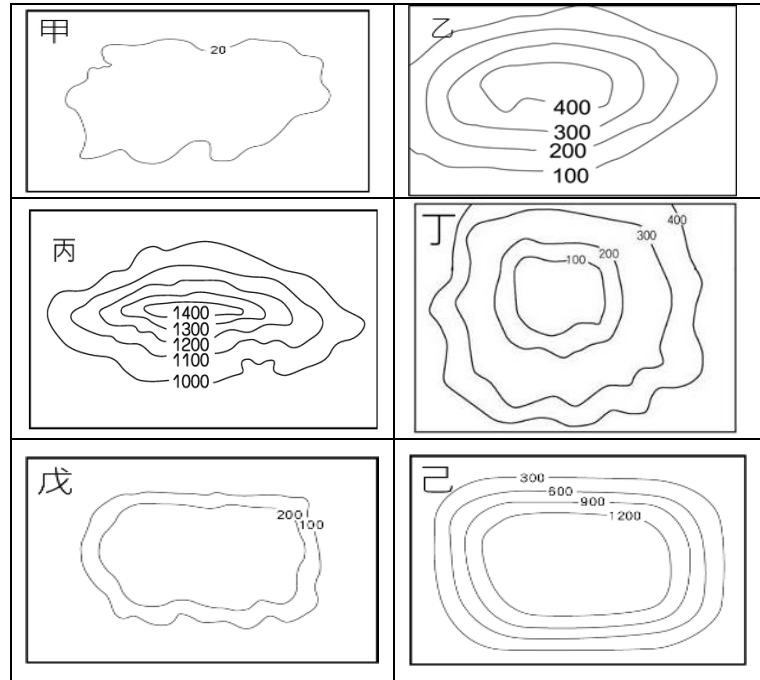
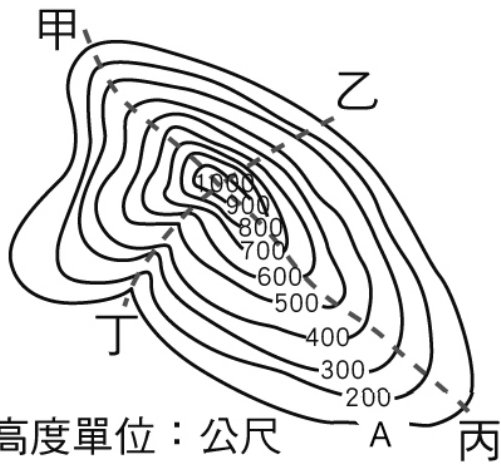
41. 「將地球上與地球南、北極距離相等的點連成一圈」，請問這條經緯線是附圖中的何者？(A)A (B)B (C)C (D)D

42. 附圖中哪兩條線將地球分為東、西半球？

(A)AB (B)BC (C)DE (D)DF (還有一頁)

(七) 附圖為忘憂山的等高線地形圖，甲、乙、丙、丁四條路線是登山小徑，請問

(九)附圖是六種地形類型的等高線地形圖，請問

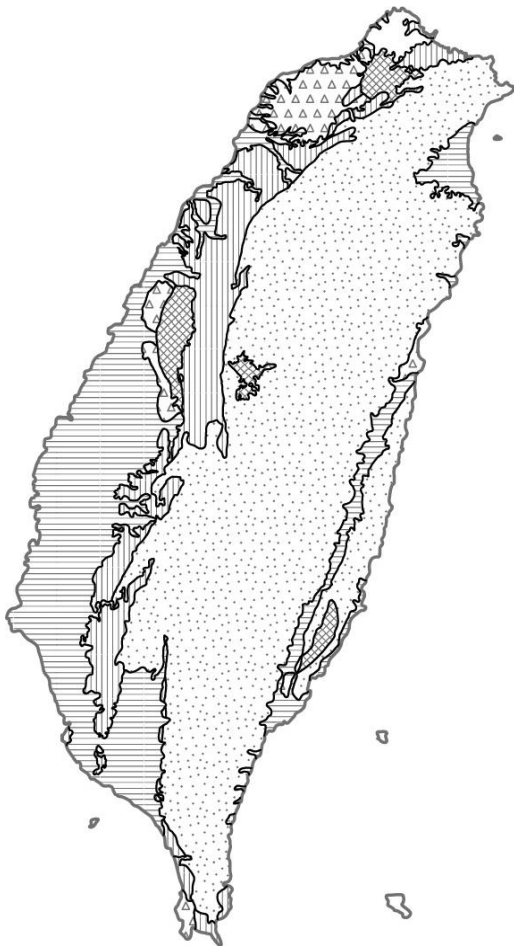


43. 哪一條小徑平均坡度最平緩?(A)甲(B)乙 (C)丙 (D)丁
 44. 哪一條小徑是順著河谷興建?(A)甲 (B)乙 (C)丙 (D)丁
 45. A 代表多少公尺高的等高線?(A)0 (B)100 (C)150 (D)200

48. 台灣哪一種地形占總面積的比例最高?(A)甲 (B)乙 (C)丙 (D)戊
 49. 柏融全家旅遊，旅遊過程是：彰化平原出發→苗栗丘陵→林口臺地，請問這些地形的代表等高線圖依序是 (A) 甲乙戊 (B)甲戊己 (C)乙丙甲 (D)戊丙乙
 50. 哪兩種地形較適合人類居住及發展，在台灣也是人口分布最密集的精華區?(A)甲乙 (B)甲丁 (C)丁戊 (D)戊己
 (給自己一個讚！你完成囉)

檢查畫卡卡片上是否有寫上班級座號姓名、每一題答案是否都畫到

(八)附圖是台灣地形分布簡圖，不同的圖層代表不同的地



形，請問

46. 代表哪一種地形?(A)平原(B)高原(C)台地(D)盆地
 47. 因台灣土地資源不足，丘陵也常開闢為果園或茶園，哪一種圖層是丘陵?

- (A) (B) (C) (D)

國一康軒版台灣地理 位置地形 107 上第一次段考

42. D

43. C

44. D

45. B

46. D

47. C

48. C

49. A

50. B

解答

1. D
2. B
3. B
4. A
5. B
6. D
7. A
8. C
9. D
10. A
11. B
12. A
13. C
14. A
15. C
16. D
17. A
18. B
19. B
20. C
21. A
22. A
23. B
24. B
25. A
26. D
27. C
28. D
29. A
30. C
31. C
32. D
33. B
34. D
35. C
36. B
37. A
38. A
39. D
40. B
41. C