

彰化縣立彰興國民中學 107 學年度第一學期第二次段考三年級歷史科試題

三年 \_\_\_\_\_ 班 座號 \_\_\_\_\_ 姓名 \_\_\_\_\_

1. 歷史課老師介紹某位歷史人物時提到：「他主張擺脫宗教神學的束縛，重新檢視並重視人的地位與價值，尊重個人與世俗生活。他們熱衷古典文學，致力恢復古希臘羅馬的文化，更相信人可以憑著自己的能力，追求成功與榮耀。」請問，老師介紹的人物應是誰？(A)牛頓 (B)狄亞士 (C)佩脫拉克 (D)阿基米德。

2. 西元 1517 年，馬丁路德貼出了「九十五條論綱」，打響了宗教改革的第一槍。請問，他公開批評的是哪個教會的腐敗？(A)天主教耶穌會 (B)基督教長老教會 (C)希臘正教 (D)羅馬公教。

3. 承上題，下列何者是促使馬丁路德採取上述行動的主要背景？(A)教會內部腐化，信仰流於形式 (B)各國放任信仰，教派糾紛日烈 (C)修道人數銳減，傳教事業受阻 (D)教義深澀難懂，民眾拒絕閱讀。

4. 中古時期，基督教會認為放貸是「一個在上帝看來是可惡可厭的罪惡」。但是到哪一教派時，卻允許放貸行為，並被認為有助於經濟蓬勃發展？(A)英國國教派 (B)喀爾文教派 (C)耶穌會 (D)路德教派。

5. 近代歐洲政治學家馬基維利主張，君主治國應該比獅子更威猛，比狐狸更狡猾，為達目的可不擇手段。請問這種用權術治國的理念，類似於中國春秋戰國時代哪一學派論點？(A)儒家 (B)道家 (C)墨家 (D)法家。

6. 喬治想成為一名工匠，但在當時必須從學徒開始學習，而後升格為職工，最後須通過「行會」考核，才能成為獨當一面的「師傅」。這種情形最早出現在歐洲史上哪一個時期？(A)希臘化時期 (B)羅馬帝國時期 (C)中古時代後期 (D)文藝復興時期。

7. 歷史課文某段內容：「身穿重裝盔甲、手持長劍長槍的騎士特徵，將宣告結束。繼之而起的是軍事組織日益複雜化，而支付軍隊的費用也非地方所能負擔的現象。」請問：下列哪段文字適合作為這一課的標題？(A)日耳曼民族的遷徙 (B)封建與莊園的興起 (C)王權國家的形成 (D)宗教改革的出現。

8. 十五世紀某地區的兩位老人討論著：「他們來了之後，還不到五十年的時間，我們的城市名稱被改變了，教堂外面多了四根醜陋的尖塔，內部則用花草與幾何圖案作為裝飾壁畫。」請問：這兩位老人最有可能位於何處？(A)雅典的帕德嫩神廟 (B)羅馬的格鬥競技場 (C)參加的大清真寺 (D)伊斯坦堡的聖索菲亞大教堂。

9. 承上題，文中的「他們」是指哪個民族？(A)日耳曼人 (B)阿拉伯人 (C)塞爾柱土耳其人 (D)鄂圖曼土耳其人。

10. 「某時期的一座城市，人口約五萬人上下，全世界最上等的羊毛在此加工，織成布料後，行銷各地。熱絡的高船帶回了印度香料外，也帶回亞洲的黑鼠，造成全城五分之一的人在一年中相繼死亡，勞工短缺到必須緊急進口奴隸才能應急。」請問：這座城市最可能是？(A)西元前 8 世紀的雅典 (B)8 世紀的君士坦丁堡 (C)十二世紀的巴格達 (D)十四世紀的佛羅倫斯。

11. 《槍炮、病菌與鋼鐵》一書描述阿茲提克帝國的敗亡：「人憑什麼本事獲勝，答案就是傳染病。當時墨西哥人口本來有一千一百萬人，到了 1618 年人口卻陡降到一百六十萬人。」請問：文中的應該填入何者較適當？(A)葡萄牙 (B)西班牙 (C)英格蘭 (D)法國。

12. 米妮想整理十二世紀中古西歐及拜占庭帝國的發展情形，請問下表哪一個項目正確無誤？

項目	(A) 政治	(B) 經濟	(C) 宗教	(D) 語言
中古西歐	封建制度	工商業發達	政教合一	拉丁文
拜占庭帝國	中央集權	莊園經濟	政教分離	拉丁文

13. 十四到十七世紀的歐洲，各國在每個領域皆積極培育優秀的人才，請問下列哪一個領域的代表與西班牙無關？(A)宗教家：羅耀拉 (B)文學家：薄伽丘 (C)航海家：麥哲倫 (D)文學家：塞凡提斯。

14. 西元 1095 年，東方皇帝阿列克修一世向西方求救，教皇烏爾班二世認為這是提高權力的大好時機，因此提出收復聖地的口號，宣布參加聖戰者一概赦免其罪，若在反異教徒的戰爭中喪命，他們的罪過將在那一瞬間獲得赦免，戰死者靈魂將進入天堂。請問：下列相關敘述何者正確？(A)東方皇帝是指神聖羅馬帝國皇帝 (B)收復的聖地是指麥加城 (C)文中異教徒指的是蒙古人 (D)結果造成東西貿易交流。

15. 中世紀後期西歐商業日漸復甦，主要原因為何？(A)基督教信仰鼓勵發展工商業 (B)十字軍東征使東方對西方商品產生需求 (C)查士丁尼西征打通東、西方的遠程貿易路線 (D)農業技術與工具改良，帶動人口成長與商業的發展。

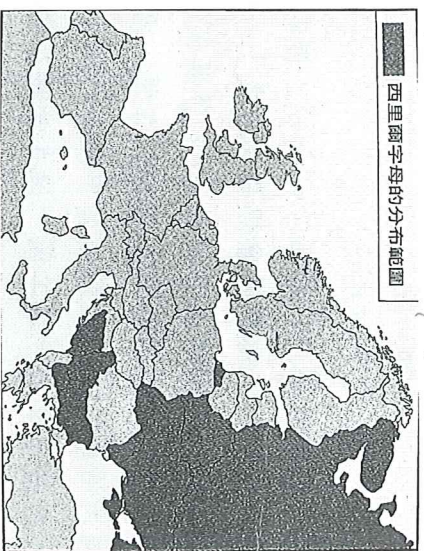
16. 十八世紀歷史學家吉朋，在其著作《羅馬帝國衰亡史》，探討西羅馬帝國衰亡的原因，他指出：「西羅馬帝國的衰亡，乃是『野蠻與宗教的勝利』的結果」。請問：這位史家所說的「野蠻」與「宗教」，可在哪位君王的身上獲得印證？(A)狄奧多西 (B)查理曼 (C)查士丁尼 (D)鄂圖一世。



A 17. 有一本書上寫著：有一個城市在1503年曾設有「美洲交易之家」，美洲的白銀、黃金皆由此城市流入歐洲，成為當時歐洲最富有的國際城市。請問這是指哪一個城市？(A)西班牙的塞維爾 (B)義大利的威尼斯 (C)荷蘭的阿姆斯特丹 (D)英國的倫敦。

D 18. 一個熱愛歷史的中學老師，為了讓學生更了解課程內容的時代背景，特別編寫一齣劇本讓學生表演。劇中有國王、伯爵、騎士和農民等人物，其中大部分是可憐的農民，一年到頭辛苦地為貴族地主耕種，卻永遠填不飽自己的肚子。依你學過的世界歷史判斷，這齣戲的背景應該是何時何地？(A)西元前八世紀、雅典 (B)西元一世紀、羅馬 (C)西元六世紀、君士坦丁堡 (D)西元十世紀、倫敦。

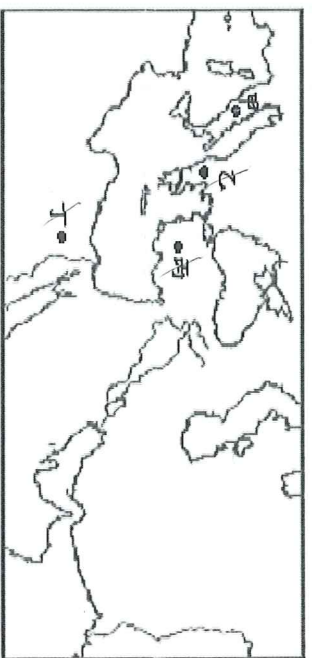
C 19. 右圖深灰色的部分，為西里爾字母在歐洲的分布範圍，它是大多數當地民族通用的字母書寫系統，其源頭可追溯自古希臘文。九世紀時，兩名希臘的基督教傳教士，為了方便對當地人民傳教，因而創立此文字系統。請問：九世紀時，這兩位傳教士應是來自於哪一個國家？(A)查理曼帝國 (B)阿拉伯帝國 (C)拜占庭帝國 (D)大唐帝國。



B 20. 「西元十世紀，某國家君王要求教宗為其加冕，企圖彰顯帝國傳承的正統性，可是如今教宗所在的羅馬已無昔日光榮，他所統治的疆域範圍更是今非昔比。」請問：下列關於這個國家的敘述，何者錯誤？(A)國家的經濟以莊園為主，農民受到貴族的保護 (B)國家中央集權，國力強大，曾經抵禦東方民族的入侵，確保西歐的安全 (C)統治者並無實權，國家呈現內部分裂的狀態 (D)在教堂裡的教士抄寫古籍，保存西方古典文化。

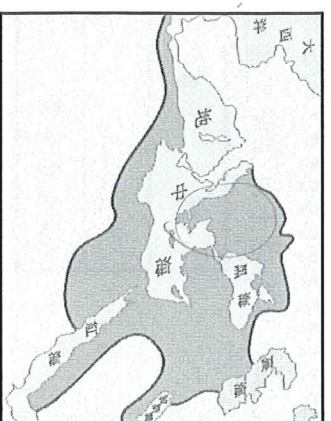
A 21. 有一本根據史實撰寫的歷史小說描述：「主角來到巴爾幹半島，參觀完帕德嫩神廟遺址後，再到君士坦丁堡，參加聖索菲亞大教堂的整建完工儀式。」請問：書中的主角，在當地同時還可能經歷下列何事？(A)與朋友討論《查士丁尼法典》的內容 (B)與崇拜的偶像但丁，探究哲學及人生的意義 (C)參加對付土耳其帝國的戰爭，奮勇殺敵 (D)參加宗教舉行的宗教彌撒，以拉丁文向上帝祈禱。

A 22. 圓圖參觀旅展，拿到了希望旅行社的一張宣傳單，上面的內容如下：「你想感受鄂圖曼土耳其帝國的建立過程嗎？鄂圖曼土耳其帝國的歷史風情等你親自來體驗！」，請問：根據下圖，若圓圖參加這趟行程，右圖哪一個地方的景點，她應該看不到？(A)甲 (B)乙 (C)丙 (D)丁。



C 23. 某一場戰爭中，君士坦丁堡的皇帝向西歐求救，但無回應，因為英國與法國正處於百年戰爭之後，元氣大傷；西班牙王國忙著與南方的穆斯林作戰；神聖羅馬帝國各邦不斷內戰。請問上述所言的戰爭應是指下列何者？(A)西元前5世紀波斯攻打希臘城邦 (B)西元11世紀十字軍攻打拜占庭 (C)西元15世紀土耳其攻打東羅馬 (D)西元17世紀各地發生宗教戰爭。

B 24. 右圖是十六世紀某帝國的疆域圖。請問：右圖的出現，代表下列哪個帝國的衰亡？(A)羅馬帝國 (B)拜占庭帝國 (C)蒙古帝國 (D)鄂圖曼土耳其帝國。



B 25. 一本歷史書中對某帝國有以下描述：「這帝國盛行伊斯蘭教，商人擁有能在逆風中航行的商船，從非洲運來黑奴，從印度輸入米、棉及蔗糖，從唐帝國進口絲綢，首都巴格達因此成為當時重要的大都會。」此帝國最可能為下列何者？(A)拜占庭帝國 (B)阿拉伯帝國 (C)神聖羅馬帝國 (D)鄂圖曼土耳其帝國。

B 26. 歐洲人多信仰基督教，但春嬌在西班牙南部旅遊時，卻發現處處皆有伊斯蘭教的建築樣式。請問：這現象與下列哪項歷史事件有關？(A)日耳曼民族的遷徙 (B)阿拉伯帝國的建立 (C)十字軍東征 (D)鄂圖曼土耳其帝國的擴張。

D 27. 有關基督教的發展，下列敘述何者正確？(甲)西元一世紀，耶穌在巴勒斯坦改革猶太教 (乙)西元四世紀末，鄂圖一世定基督教為國教 (丙)中世紀時，王權強大，造成教會式微衰退 (丁)第一次基督教分裂，歐洲陷入宗教戰爭 (戊)宗教改革後，新教區工商業繁榮、思想解放 (己)宗教改革後，舊教積極向海外傳教，導致文化交流。(A)甲乙戊 (B)乙丙己 (C)丁戊己 (D)甲戊己。

C 28. 國美館正在展出「米開朗基羅特展」，好評不斷，吸引大量民眾前往欣賞，因此館方預計下回可以開個「文藝復興特展」。請問：策展人可在展區內規畫哪些同時期的創作主題呢？(甲)柏拉圖《理想國》 (乙)莫內《印象日出》 (丙)拉斐爾《聖母子》 (丁)達文西《蒙娜麗莎》 (戊)阿基米德《浮體力學》 (己)莎士比亞《哈姆雷特》 (A)甲乙己 (B)乙丙丁 (C)丙丁己 (D)甲丁戊。

19世紀印象派



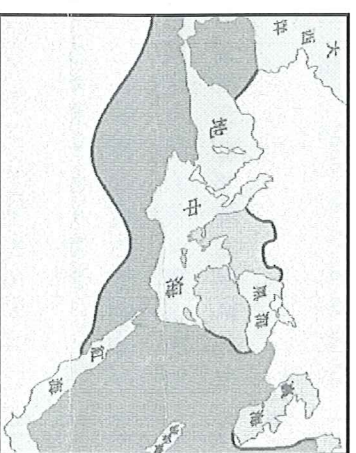
D 29. 下表是某個地區的人口估計數字，這樣的人口變化最可能發生在下列哪個地區？(A) 北非 (B) 西亞 (C) 西歐 (D) 南美洲。

	白人	黑人+混血	原住民
1490	0	0	50,000,000
1570	138,000	共260,000	9,700,000
1650	725,000	815,000+644,000	9,105,000
1825	4,349,000	4,188,000+6,252,000	8,211,300

B 30. 小明計畫暑假出國旅遊，他希望旅途中一方面能看到中國式的廟宇建築，一方面也能參觀葡萄牙留下的巴洛克風格教堂。若要滿足這些期望，他最好去下列哪一個地方？(A) 印尼 (B) 澳門 (C) 泰國 (D) 菲律賓。

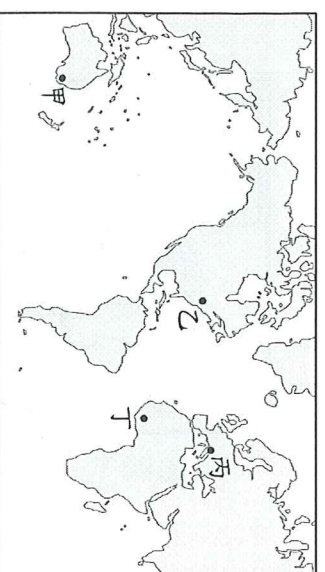
C 31. 縱觀歐洲近代史，我們可以發現：某一群人是推動近代歐洲歷史發展的一股重要力量；請問，有關這群人的敘述，何者正確？(甲)他們為維護權益，成立行會，訂定嚴格行規，壟斷該行業(乙)他們原為封建貴族、莊園領主，棄農從商，追求財富(丙)他們因擁有財富，追求高尚文化生活，因而促進文藝復興(丁)他們希望有安定的商業交易環境，大多支持領主擴張勢力，有助於封建穩固。(A) 甲乙 (B) 乙丁 (C) 甲丙 (D) 丙丁。

A 32. 中古後期，在消失數百年之後，「甲」事件開啟了東西方的國際貿易，使得歐洲商業再度獲得新的生命……。但「乙」帝國強盛後，壟斷了東西方的貿易，因此，歐洲人決定尋找一條新的貿易路線。請問，甲、乙分別是指什麼？(A) 十字軍東征；鄂圖曼土耳其帝國 (B) 地理大發現；鄂圖曼土耳其帝國 (C) 蒙古西征；阿拉伯帝國 (D) 文藝復興；阿拉伯帝國。



A 33. 右圖是某帝國版圖，關於這個帝國的相關敘述，哪一項是正確的？(A) 重視學術研究，對保存古希臘、羅馬文化貢獻很大 (B) 強調社會公平，對於商業時有打壓，鼓勵農業拓墾 (C) 要求被占領區改信基督教，反對其他信仰的存在 (D) 傳遞交流歐、亞的文化，中國的印刷術即由其西傳。

B 34. 旅行社的知名導遊介紹某行程特色：此行程可以看到羅馬引水道、封建城堡、基督教教堂以及清真寺建築，請問這位導遊推薦的旅程應該是？(A) 童話俄羅斯風華八日遊 (B) 伊比利半島熱力十日行 (C) 悠遊歐洲法瑞義十二日 (D) 深度英倫愛丁堡十五天。



C 35. 「哥倫布發現通往東方新航線的消息傳來，某城市的商人極度恐慌，債券暴跌，這些反應來自於其擔心對亞洲貿易的主導地位可能會被取代。一直到確知哥倫布並沒有真的找到抵達亞洲的航線，這裡的商人才驚魂甫定。」請問這座城市最可能位於右圖中何處？(A) 甲 (B) 乙 (C) 丙 (D) 丁。

A 36. 基督教會先後經歷了兩次分裂，衍生出許多不同的教派。下列關於基督教派別的描述，正確的是？(A) 馬丁路德強調因信得救，將聖經翻譯成方言版，有助於識字率的提升 (B) 羅耀拉進行羅馬公教內部改革，成立長老會，並鼓勵海外傳教 (C) 英國國教派強調勤儉累積的財富榮耀上帝 (D) 喀爾文教派主張預選說，其重要分支有耶穌會、清教徒。

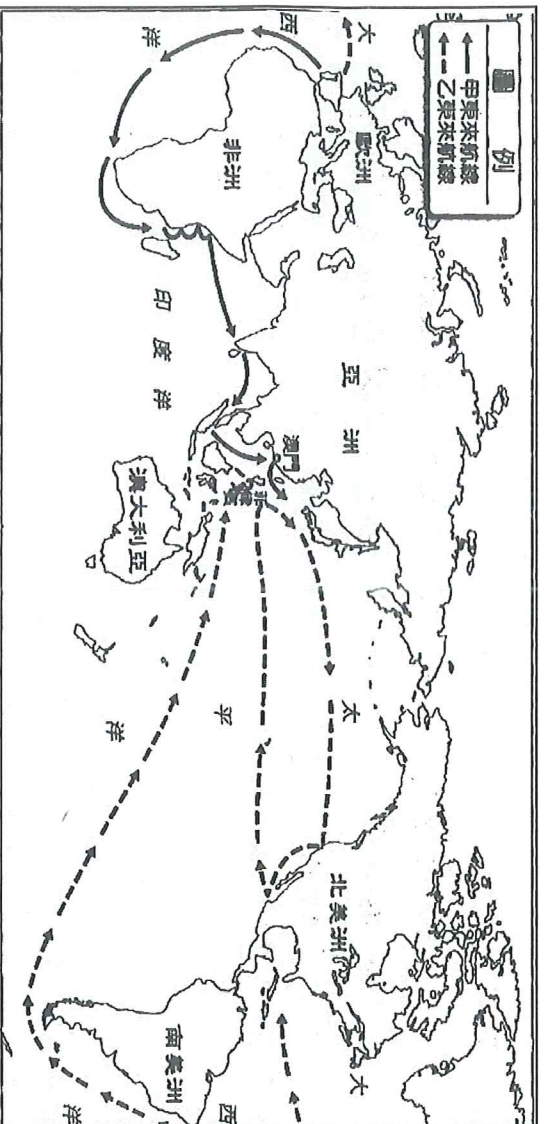
D 37. 約翰是中世紀的羅馬教士，有關他的日常生活或職務，下列敘述何者正確？(A) 他與其他的傳教士努力向外傳教，教化了當時的蠻族斯拉夫人 (B) 他四處傳教，因此抄寫翻譯古籍宣導教義，創造許多方言文學 (C) 他曾見到教宗查理曼加冕，顯示中古西歐是政教合一的地區 (D) 他的生活一直忙著幫教徒舉行禮拜、受洗、婚禮與喪禮等工作。

C 38. 某人可說是西方的花木蘭，由於此人的號召，使得英法百年戰爭得以落幕，她可說是大功臣之一。請問：關於這場戰爭的相關敘述何者正確？(A) 起因於英國王位繼承權之爭 (B) 某人指的是聖女貞德，在她的號召下，法國一直處於優勢 (C) 在百年的爭戰過程中，國王趁機削弱貴族勢力，王權得以上升 (D) 最後女王伊莎貝拉透過聯姻，才解決這場征戰，贏得和平。



39. 一位學者認為：「1519~1522年的這次海上探險，獲得許多重要成果，包括(1)證實向西航行可達東方；(2)證實地球是圓的；(3)證實美洲並非亞洲的一部分，而是獨立存在的大陸。」由上述內容推斷，此一探險行動的船隊領導者最可能下列何者？(A)達伽馬 (B)哥倫布 (C)麥哲倫 (D)狄亞士。

40. 下圖是十六世紀的東西交通路線圖，下列關於採取甲、乙路線國家的敘述，何者正確？(A)乙國是最早發現往亞洲新航道的國家 (B)甲國進入美洲後，導致印地安帝國的滅亡 (C)甲國在亞洲貿易的據點為菲律賓馬尼拉 (D)乙國曾統治北台灣時，並向當地原住民傳播天主教。



**\*根據右圖回答問題**


41. 鄂圖曼土耳其帝國的歐洲領土位於何處？(A)甲 (B)乙 (C)丙 (D)丁。
42. 十字軍東征要收復的聖地位於何處？(A)戊 (B)己 (C)庚 (D)辛。
43. 近代歐洲人海外探險的開始地點？(A)甲 (B)丙 (C)辛 (D)庚。
44. 文藝復興運動發源地？(A)甲 (B)乙 (C)丙 (D)丁。
45. 中古汪達爾王國的所在地？(A)甲 (B)丙 (C)己 (D)辛。
46. 中世紀初期西歐最強大王國位於何處？(A)甲 (B)乙 (C)丙 (D)丁。
47. 查士丁尼西征曾經滅亡那些王國？(A)甲乙 (B)乙庚 (C)丁戊 (D)丙辛。



\*下列的圖一~圖三為中世紀的歐洲與伊斯蘭世界的相關圖片，請根據圖片回答問題：



▲圖(一)



▲圖(二)



▲圖(三)

48. 根據圖一內容，圖片中為那一位歷史人物？(A)查理曼 (B)鄂圖一世 (C)查士丁尼 (D)亨利八世。
49. 創立圖二信仰的民族曾把那些中國技術傳到西方？(甲)造紙術 (乙)印刷術 (丙)指南針 (丁)火藥 (A)甲乙 (B)乙丁 (C)丙丁 (D)甲丙。
50. 根據圖三內容，攻陷君士坦丁堡的是那一個帝國？(A)亞歷山大帝國 (B)鄂圖曼土耳其帝國 (C)神聖羅馬帝國 (D)阿拉伯帝國。