

彰化縣三民國小第一一二學年度第一學期 數學科 期末學業評量

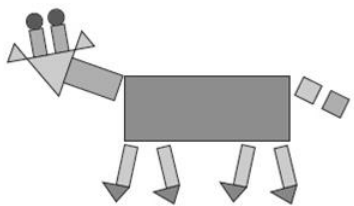
一年甲班 _____ 號 姓名：_____

一、選擇題：共 10 分

() 1. 下面哪一個選項的答案和其他兩個不同？

- ① $7+2$ ② $2+7$ ③ $3+5$

() 2. 下圖有幾個長方形？

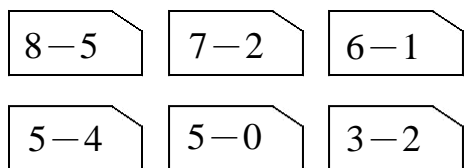


- ① 8 個 ② 7 個 ③ 6 個

() 3. 下列哪一項對正方體的描述正確？

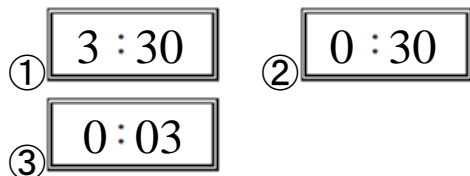
- ① 只有平平的面 ② 容易堆高 ③ 以上都對

() 4. 在下面這幾張心算卡中，有幾張心算卡的答案是 5？



- ① 1 張 ② 2 張 ③ 3 張

() 5. 3 點半在數字鐘上怎麼表示？



二、畫畫看看，做做看看：每題 5 分，共 20 分

1. 亮儀有 6 輛小汽車，依一要有 2 輛小汽車，兩人共有幾輛小汽車？

畫 ○：

算式：

共有 () 輛小汽車

2. 彥辰到夜市玩遊戲，第一次得到 3 顆糖果，第二次得到 1 瓶飲料，彥辰共得到幾顆糖果？

畫 ○：

算式：

共得到 () 顆糖果

3. 楷曄有 10 個漢堡，吃掉 1 個，還有幾個漢堡？

畫 ○：

算式：

還有 () 個漢堡

4. 凱旋有 8 瓶養樂多，送給裕庭 4 瓶，凱旋還剩下幾瓶養樂多？

畫 ○：

算式：

還剩下 () 瓶養樂多

三、把算式的答案填在

() 裡打✓：12分

① 5+2 ()	② 8-1 ()	③ 3+3 ()
④ 1+6 ()	⑤ 10-3 ()	⑥ 9-2 ()

四、連連看：共12分

	5:00		10:30
●	●	●	●

九點半、五點鐘、三點鐘、十點半

五、看圖做做看：共12分


1. 依照圖形的規律性，?會是什麼圖形？圈圈看。

●	■	●	?	●	■	●	■
(● , ■)							

■	■	●	▶	■	■	?	▶
(■ , ■ , ● , ▶)							

2. 看鐘面填填看。

短針指在 () 和 () 之間，長針指在 ()，是 () 點半。



六、算算看：共18分

15+3= ()	27-4= ()
34+5= ()	49-6= ()
52+7= ()	68-3= ()
71+3= ()	86-6= ()

七、應用題：共16分

1. 小菲投籃球，第一次投進3球，第二次投進6球，兩次共投進幾球？

算式：

共投進 () 球

2. 柏言有5枝藍筆，韋頌有0枝，兩人共有幾枝藍筆？

算式：

共有 () 枝藍筆

3. 池塘裡有6隻青蛙，跳走4隻後，池塘裡剩下幾隻青蛙？

算式：

剩下 () 隻青蛙

4. 一串香蕉有4根，琳煊買了兩串香蕉，共有幾根？

算式：有 () 根