

彰化縣彰化市三民國小 112 學年度第 2 學期期中學業評量 數學科

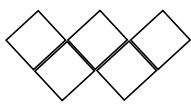
一年甲班 _____ 號 姓名：_____

一、選擇題：每題 2 分，共 12 分

() 1. 彥辰和凱旋排隊測量視力，彥辰排在第 34 個，凱旋排在第 43 個，誰會先測量？

- ① 彥辰 ② 凱旋 ③ 一樣

() 2. 下面圖形是用幾片正方形拼成的？



- ① 4 片 ② 5 片 ③ 6 片

() 3. 「100」讀作什麼？

- ① 一十十 ② 一百 ③ 一零零

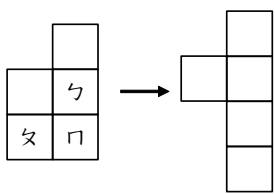
() 4. 在算式「 $9+3=12$ 」中，3 被稱為什麼？

- ① 被加數 ② 加數 ③ 和

() 5. 下面哪一個算式的答案和其他兩個選項不同？

- ① $11-8$ ② $14-7$ ③ $12-9$

() 6. 要移動哪一片正方形圖卡，才能變成右邊的圖形？




- ① ㄅ ② ㄏ ③ ㄇ

二、連連看：共 22 分

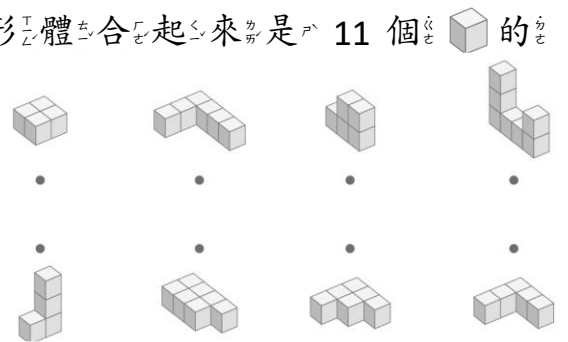
1. 數一數，有多少？連一連。10 分

| | | |
|--|-----|----|
| | • • | 38 |
| | • • | 39 |
| | • • | 70 |
| | • • | 57 |
| | • • | 63 |

2. 從 1 開始，按照順序連連看。4 分

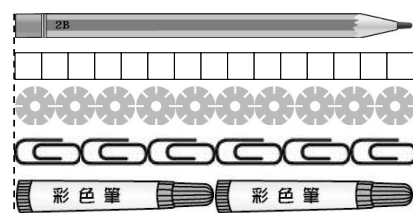


3. 將上、下形體合起來是 11 個的連起來。8 分



三、看看圖做做看：共 18 分

1. 量一量，有多長？



- (1) 鉛筆和 () 個 一樣長。
 (2) 鉛筆和 () 個 一樣長。
 (3) 鉛筆和 () 根 一樣長。
 (4) 鉛筆和 () 枝 一樣長。

2. 看看圖回答問題。






- ① 排在第 個，在 的前面已經有 隻動物進場參觀。
 ② 排在第 個， 排在第 個。
 ③ 和 誰先進去？圈圈看。
 (,)



四、配合題：每題 1 分，共 11 分

1. 下面心算卡答案為 11 的圈起來：

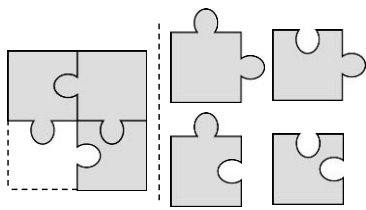
| | | |
|-----|-----|-----|
| 3+8 | 7+4 | 5+6 |
| 6+9 | 8+2 | 2+9 |

2. 哪些圖形是用 8 片  排成的？圈出來看：

(1)  (2) 

(3)  (4) 

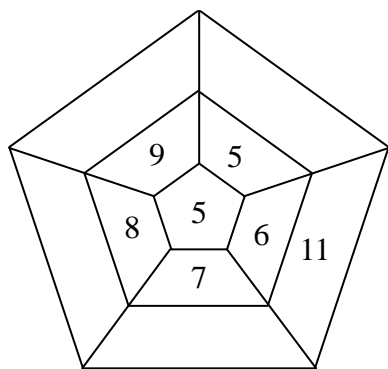
3. 要放入哪一個圖形，才能完成左邊的圖？圈出來看：



五、填填看：19 分

1. 89 的十位數字是 ，表示有 個十，是 ；個位數字是 ，表示有 個一，是 。

2. 填填看：



3. 填入適當的數。

 ...  ...  ...  ... 

4. 算算看：

- (1) $9+2=$ () (5) $18-9=$ ()
 (2) $8+3=$ () (6) $12-8=$ ()
 (3) $6+5=$ () (7) $13-7=$ ()
 (4) $15-6=$ ()

六、應用題：每題 3 分，共 18 分

1. 裕庭買了 8 個蘋果，柏言買了 6 個，兩人共買了幾個蘋果？
算式：
() 個

2. 楷曄有 13 枝冰棒，分給同學 7 枝後，楷曄還剩幾枝冰棒？
算式：
() 枝

3. 琳媗吹了 9 個氣球，休息一下再吹了 9 個氣球，琳媗共吹了幾個氣球？
算式：
() 個

4. 亮儀一星期要上 6 堂才藝課，2 個星期，她共要上幾堂才藝課？
算式：
() 堂

5. 依黎吃了 10 塊餅乾，小菲比依黎少吃了 5 塊，小菲吃了幾塊餅乾？
算式：
吃了 () 塊

6. 韋頹摺了 13 架紙飛機，黃色的紙飛機有 8 架，其他的紙飛機有幾架？



算式：
有 () 架