

年 班 座 號 姓 名 :

家長簽名 :

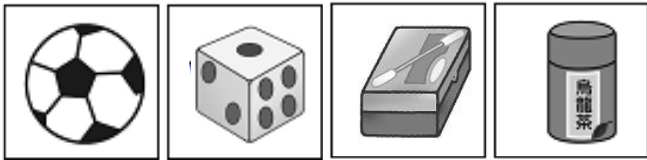
一. 算算看看：每題 2 分，共 18 分

- ①  $2+3=( )$     ②  $7-4=( )$   
 ③  $9-3=( )$     ④  $4+6=( )$   
 ⑤  $8+1=( )$     ⑥  $6-3=( )$   
 ⑦  $6-6=( )$     ⑧  $5+0=( )$   
 ⑨  $7+3=( )+7$

二. 連連看：每題 2 分，共 18 分


可以  
堆高

可以  
滾動



只有彎彎的面  
只有平平的面  
有平平的面也有彎彎的面

三. 數一數各有多少個，圈出正確的數字：每題 2 分，共 8 分

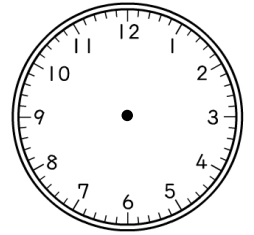
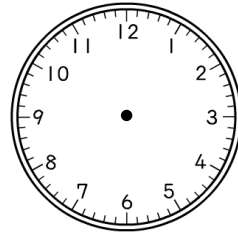


- ① ( 8, 9, 10 ) 個正方形。  
 ② ( 3, 4, 5 ) 個長方形。  
 ③ ( 5, 6, 7 ) 個三角形。  
 ④ ( 9, 8, 7 ) 個圓形。

四. 畫畫看看：每題 3 分，共 6 分


1. 7 點鐘

2. 11 點鐘




五. 看看圖填填看：每格 2 分，共 26 分

1.



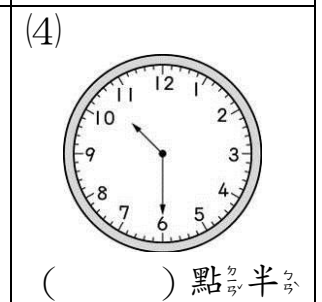
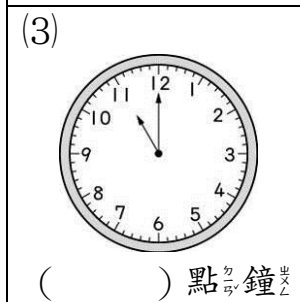
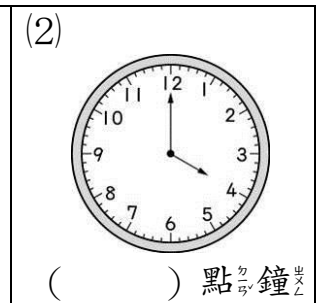
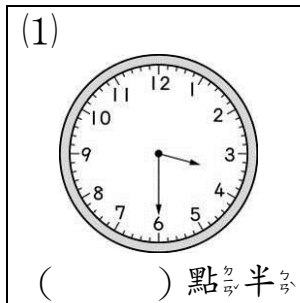
長針指在 ( )，短針指在 ( )，是 ( ) 點鐘。

2.

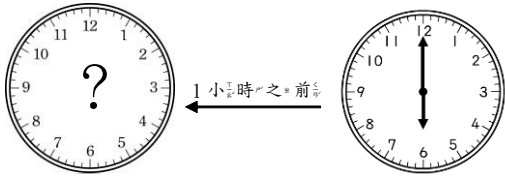


長針指在 ( )，短針指在 ( ) 和 ( ) 之間，是 ( ) 點半。

3

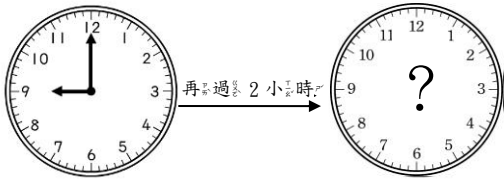


4. 小英 下午 6 點吃晚餐，1 小時之前在彈鋼琴。



小英 下午 ( ) 點在彈鋼琴。

5. 媽媽上午 9 點去市場買菜，再過 2 小時回家。



媽媽上午 ( ) 點回家。

六. 畫○算算看，並用算式。

記下來：每題 4 分，共 24 分。

1. 姐姐有 5 顆糖果，媽媽又給她 2 顆糖果，姐姐共有幾顆糖果？

畫○：

算式：

( ) 顆

2. 盤子裡有 10 個水餃，老師吃掉 10 個，還剩下幾個水餃？

畫○：

算式：

( ) 個

3. 一把尺賣 3 元，小嘉 買了兩把，共要多少元？

畫○：

算式：

( ) 元

4. 教室裡有 3 個女生和 4 個男生，男生比女生多幾個？

畫○：

算式：

( ) 個

5. 舅舅家裏有 5 張椅子，有 8 個人要坐，1 人坐 1 張，不夠幾張椅子？

畫○：

算式：

不夠 ( ) 張椅子。

6. 小駿 和哥哥共採了 10 顆草莓，有 3 顆是小駿採的，哥哥採了幾顆？

畫○：

算式：

( ) 顆

◎ 寫完後，要再檢查 3 遍喔！