

命題教師： 三年__班 座號__ 姓名：__

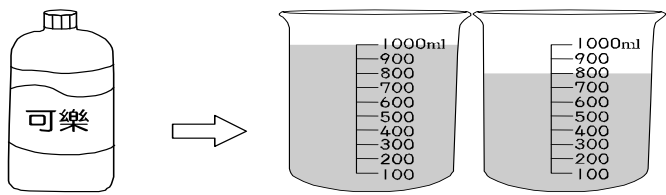
一、選擇題：每題 2 分，共 14 分。

- () 1. 我們以哪一個時刻，將一天分成上午和下午？
 ①中午 12 時 ②半夜 12 時 ③上午 8 時 ④下午 8 時
- () 2. 時針在鐘面上走 1 圈是經過多少時間？
 ①12 小時 ②60 分鐘 ③60 秒 ④1 日
- () 3. 從今天上午 8 時到明天上午 8 時，共經過幾小時？
 ①16 ②12 ③8 ④24
- () 4. 找出最接近「 $185 \div 3$ 」的數。
 ①30 ②40 ③50 ④60
- () 5. $9 \overline{) \square 62}$ 的商是三位數， \square 中的數字可能是下面哪一個？
 (①9 ②6 ③3 ④1)
- () 6. 用洗衣機洗衣服，每次大約會用掉多少的水？
 ①60cm ②60mL ③60L ④600 mL
- () 7. 瑞凡買了 3 張超商禮券花了 299 元，1 張超商禮券大約是幾百元？
 ①一百元 ②二百元 ③三百元 ④四百元

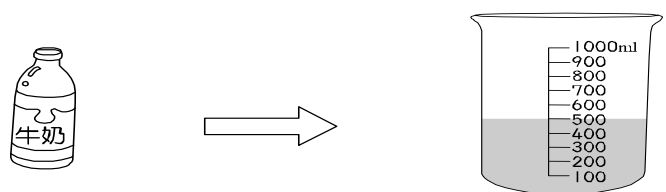
二、看圖填答：每格 1 分，共 11 分。

1. 看圖回答問題：

甲.





乙.



- (1) 甲容器的容量是 () 毫升。
 (2) 乙容器的容量是 () 毫升。
 (3) 乙容器的容量比甲容器的容量少 () 毫升。

2. 看圖填答：



- (1) 現在是上午 () 時 () 分。
 (2) 25 分鐘前是上午 () 時 () 分。
 (3) 25 分鐘後是上午 () 時 () 分。
3. 下面容器的容量是多少？(□=60 毫升)

 可倒滿 () 杯□，是 () 毫升。

三、填答：每格 1 分，共 28 分

1. 1 瓶鋁罐汽水的容量大約是 () 300 L () 300 mL
 請打勾
2. $4 \text{ 公升 } 60 \text{ 毫升} = () \text{ 毫升}$
3. $4003 \text{ mL} = () \text{ L } () \text{ mL}$
4. 在 () 裡填入 L 或 mL：
 (1) 爸爸的汽車加了 40 () 的汽油。
 (2) 一個浴缸的容量約 300 ()。
 (3) 一瓶醬油的容量約是 500 ()。
 (4) 一個大茶壺可以裝 3 () 的水。
5. $8 \text{ L} - 710 \text{ mL}$
 $= () \text{ mL} - 710 \text{ mL}$
 $= () \text{ mL}$
6. $5 \text{ 小時 } 33 \text{ 分鐘} = () \text{ 分鐘}$
7. $120 \text{ 秒} = () \text{ 分鐘}$
8. $3 \text{ 日} = () \text{ 小時}$
9. $21:21$ 是 () 午 () 時 () 分
10. $7 \text{ 時 } 30 \text{ 分} + 25 \text{ 分} = () \text{ 時 } () \text{ 分}$
11. 上午 6 時 35 分用 24 時制表示是 () 時 () 分
12. $50 \div 6 = () \dots ()$
 $500 \div 6 = () \dots ()$
13. 填入 >、< 或 =：
 (1) $18 \text{ 公升} () 1800 \text{ 毫升}$
 (2) $450 \text{ mL} + 550 \text{ mL} () 1 \text{ L}$
 (3) $350 \div 7 () 350 \div 5$
 (4) $480 \div 8 () 400 \div 8$

四、用直式計算算看：每題3分，共15分

(1) $855 \div 9 = (\quad)$ (2) $402 \div 4 = (\quad) \cdots (\quad)$

(3) $637 \div 5 = (\quad) \cdots (\quad)$ (4) $800 \div 3 = (\quad) \cdots (\quad)$

(5) $12 \text{ 公升 } 888 \text{ 毫升} + 5 \text{ 公升 } 46 \text{ 毫升}$
 $= (\quad) \text{ 公升 } (\quad) \text{ 毫升}$

五、應用題：每題4分，共32分。

1. 客運在下午5時10分發車，1小時45分鐘後到達目的地，客運在下午什麼時候到達目的地？

答：

2. 莉文下午6時20分開始運動，到下午8時30分才休息，她花了多少時間運動？

答：

3. 有609枝鉛筆，每6枝裝1盒，可裝成幾盒？還剩下幾枝？

答：_____，_____

4. 方叔叔採收了60個水蜜桃，每8個裝成1盒，最多可以裝滿幾盒？

答：_____

5. 每輛計程車可載4個乘客，有129個乘客，最少需要幾輛計程車，才能載完全部的乘客？最後一輛載了幾位乘客？

答：_____，_____

6. 寶傑一天喝2公升的水，西西一天喝1800毫升的水，誰喝的水比較多？多幾毫升？

答：

7. 水桶裡有4公升250毫升的水，再加幾毫升的水，才會含有5公升？

答：

8. 這是一張從南港到雲林的單程票。請依照車票訊息，回答下面問題。

- (1) 請問高鐵出發時刻是()午()時()分
- (2) 抵達雲林的時刻是()午()時()分
- (3) 從南港到雲林經過()小時()分鐘

