


一、做做看看： 共 16% (每答 2 分)

1. 填入適當的數：



2. 「二百零五」寫作 ()

3. 1 個百和 5 個十合起來和幾個十一樣多？ ()

4. 下面各數中，把最小的數圈起來。

(99 110 91 101 113)

5. 圈出最接近「9 + 88」答案的數。



6. 2 個百和 5 個一合起來是 ()。

二、請比較大小填入 > 或 <


共 8% (每題 2 分)

1. 241 □ 171 2. 17 + 13 □ 18 + 11

3. 300 □ 299 4. 37 □ 19 + 19.

三、畫畫看看： 共 6% (每題 3 分)

1. 用 100、⑩、① 表示 235。



2. 用尺畫出一條 6 公分的直線。

四、比比看看： 共 8% (每答 2 分)

1. 比一比，容量比較多的在 ()

裡打✓。



2. 哪一個容器裡裝的水比較少？

在 () 裡打✓：

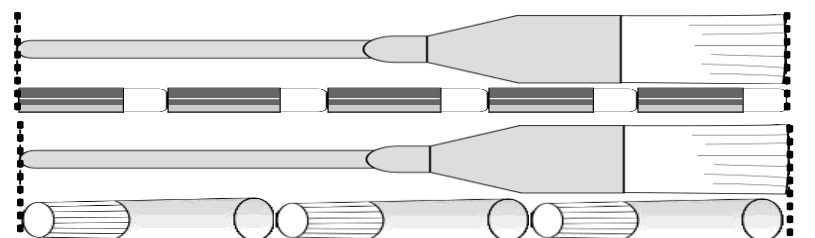



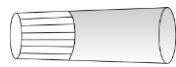
五、看看圖做做看看： 3% (每答 3 分)

1. 用不同的物品量同一把刷子

子，哪一個物品比較長？圈圈看看：

看：



( , ) 比較長。

六、連連看看： 共 15% (每題 3 分)

1. 怎麼讀？連連看看：

① 198	•	•	ㄅ. 三百
② 300	•	•	ㄆ. 二百
③ 220	•	•	ㄏ. 一百九十八
④ 200	•	•	ㄏ. 一百八十五
⑤ 185	•	•	ㄉ. 二百二十

七、圈出最接近：4%(每題2分)

1. 圈出最接近「68-19」答案的數。



2. 圈出最接近「71-29」答案的數。



八、用直式計算算式，並驗算：共20%(每題四分)

(1) 92-15	驗算
(2) 68-4	驗算
(3) 72-32	驗算
(4) 43-14	驗算
(5) 55-27	驗算

九、把做法記下來：共20%(每題4分)

(1) 二年級甲班的同學們上午畫了21張賀卡，下午畫了19張，共畫了幾張賀卡？

答：() 張

(2) 魚缸裡原有一些魚，小祐再放進17條，共有46條，魚缸裡原有多少條魚？

答：() 條

(3) 小翰用50元買一包色紙後，剩下29元，一包色紙賣幾元？

答：() 元

(4) 小紫有48張遊戲王卡，比小好多34張，小好有多少張遊戲王卡？

答：() 張

(5) 二年級有男生49人和女生47人參加戶外教學，二年級共有幾人參加戶外教學？

答：() 個