


一、選擇題 (每題 1 分, 共 11 分)

- () 算式「 $28+55=83$ 」中, 加數是什麼?
① 28 ② 55 ③ 83
- () 哪一種東西不能用來量長度?
① 水杯 ② 15 公分的尺 ③ 斷掉頭的尺
- () 哪樣東西比 15 公分長 ① 手指的長 ② 數學課本的長 ③ 一本故事書的厚度
- () 2 枝長 12 公分的鉛筆接在一起, 共長
① 4 公分 ② 14 公分 ③ 24 公分
- () 哪樣東西長約 10 公分 ① 一輛遊覽車的長 ② 大拇指指甲的長 ③ 一枝彩色筆的長
- () 5 枝蠟筆的長度和 3 枝鉛筆一樣長, 所以
① 蠟筆較長 ② 鉛筆較長 ③ 蠟筆和鉛筆一樣長
- () 1 枝筆的長度和 3 個橡皮擦合起來一樣長, 1 個橡皮擦長 4 公分, 1 枝筆有多長?
① 12 公分 ② 9 公分 ③ 7 公分
- () 哪種是容器? ① 尺 ② 水桶 ③ 體重計
- () 有甲、乙兩個大小不同的杯子, 如右圖。將甲杯裝滿水倒入乙杯後, 再把乙杯的水倒回甲杯, 水量會
① 減少 ② 增加 ③ 不變
- () 右圖, 哪個杯子可以再裝水?
① 甲杯 ② 乙杯 ③ 都可以
- () 將甲容器裝滿水後, 倒入空的乙容器內, 水會滿出來, 那麼甲、乙兩容器哪個容量比較多?
① 甲容器 ② 乙容器 ③ 一樣多




二、計算題 (每題 4 分, 共 8 分)

1. $9+48=()$ 驗算:
直式:

2. $65-27=()$ 驗算:
直式:

三、做做看 (每答 1 分, 共 63 分)

1. 圖形中所代表的數是()



2. 用尺畫出一條 10 公分的直線。

3. 按照順序填填看

- $182 \rightarrow 192 \rightarrow () \rightarrow 212 \rightarrow 222$
- $231 \rightarrow () \rightarrow () \rightarrow 228 \rightarrow 227$
- $190 \rightarrow 195 \rightarrow () \rightarrow () \rightarrow 210$
- 比 300 少 1 的數是()。
- ① 105 讀作()。
② 二百八十四寫作()。
- ① 184 是()個百、()個十和 4 個一合起來的。
② 19 個十和 18 個一合起來是()。

- 1 桶糖果有 100 顆, 1 包糖果有 10 顆。
① 1 桶又 8 包糖果, 合起來是()顆糖果。
② 2 桶 6 包又 2 顆糖果, 合起來是()顆糖果。
③ 1 桶又 3 顆糖果, 合起來是()顆糖果。
- ① $102-4=()$ ② $101-5=()$

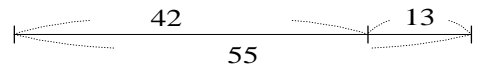
9. 親親國小將在運動會時舉辦跳繩比賽, 二年 5 班的班導師為了讓學生取得好成績, 規定全班每個學生每天跳繩至少跳 80 下。已知明明、香香、美美三個人跳繩結果如下:

- 明明上午跳 42 下, 下午跳 53 下。
- 香香上午跳 37 下, 下午跳 46 下。
- 美美上午跳 57 下, 下午跳 14 下。

哪個學生不符合老師的要求? ()

10. 看圖

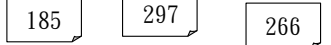
填充格



- $55-()=13$
- $()+13=55$

11. 聯歡晚會時舉辦抽獎活動, 有幾張摸彩券意外遺落在地上, 如右圖:

① 家家說: 我的摸彩券



號碼比 280 大, 比 299 小。



家家的摸彩券號碼是()。

② 安安說: 我的摸彩券號碼, 百位、十位、個位數字合起來是 9。安安的摸彩券號碼是()。

12. 把十位數字是 6 的數圈起來。

76, 166, 63, 106

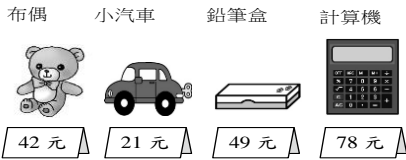
13. 在公分刻度尺上, 從刻度 5 到刻度 13 畫一條直線, 這條線段長()公分。

14. 比一比, 在()裡填入 >、< 或 =:

- ① $231 () 132$ ② $256 () 265$
- ③ $22+55 () 33+44$ ④ $35+8 () 18+8$
- ⑤ $57-8 () 58-9$
- ⑥ $73-26 () 73-34$

15. 平平和小小到

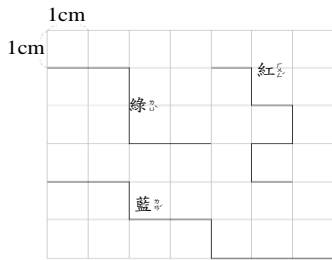
玩具店買東西，看圖回答問題，在□中打√。



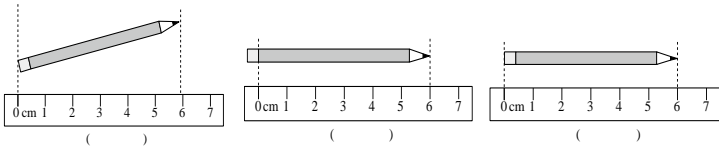
- 布偶和鉛筆盒的價錢合起來，大約是幾元？
(80元 90元 100元)
- 小汽車和計算機的價錢，大約是相差幾元？
(50元 60 70元)
- 平平帶130元要買鉛筆盒和計算機，他的錢夠嗎？
(夠 不夠)

16. 右圖中，小方格的每一個邊都是1公分。

- 綠繩長 () 公分。
- 紅繩長 () 公分。
- 藍繩長 () 公分。
- () 繩最長。
(填顏色)

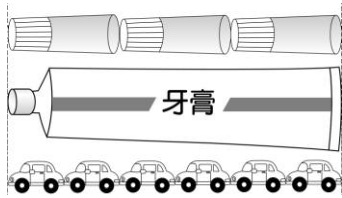


17. 下面哪一種測量物品的方法是正確的？對的在()裡打√，錯的打×：

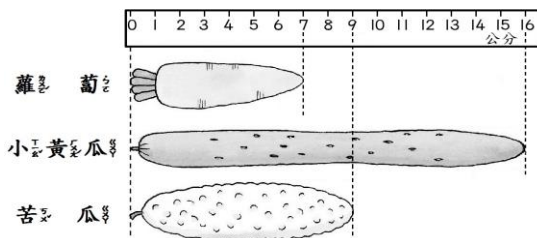


18. 看圖回答下面問題：

- 牙膏和 () 瓶膠水一樣長。
- 牙膏也和 () 輛玩具車一樣長。
- 用哪一種東西量時，個數用的比較少？圈一圈。
(牙膏 , 玩具車)



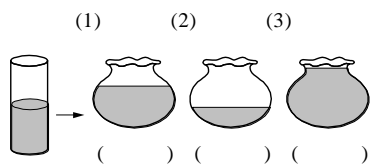
19. 填一填：



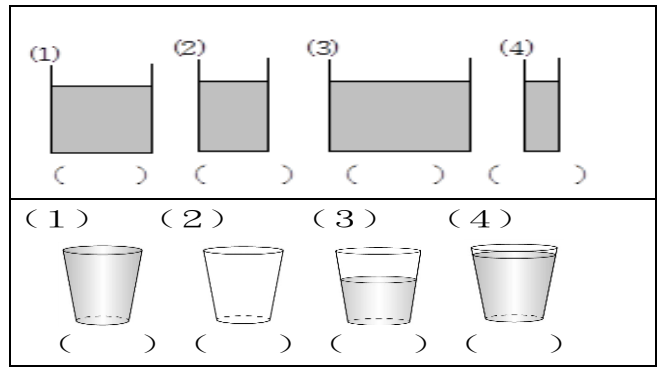
- 最長的是 ()，是 () 公分。
- 最短的是 ()，是 () 公分。
- 最長和最短的相差 () 公分。
- 圖中三樣菜共長 () 公分。

20. 把杯子裡的水倒入

右邊的魚缸裡，哪個是正確的？在 () 裡打√：



21. 將水量由多到少，在 () 裡填入1~4：



22. 小千和小海分別將兩瓶果汁全部倒入一樣大的杯子內，小千倒了5杯，小海倒了7杯，小千倒的是什麼果汁？圈圈看
(蘋果汁 , 芭樂汁)



四、寫出做法並用直式算算看 (每題3分，共18分)

1. 媽媽今年30歲，媽媽比樂樂大23歲，樂樂今年幾歲？

答：_____

2. 飲料店上午賣出65杯，下午又賣出72杯，飲料店今天共賣出幾杯？

答：_____

3. 跳繩比賽，弟弟跳了54下，比哥哥少跳16下，哥哥跳了幾下？

答：_____

4. 班上有14個男生、12個女生，共26個人需注射流感疫苗，9個人注射完後，還剩下幾個人沒注射？

答：_____

5. 水果店裡有一些西瓜，賣掉38個後，還剩下94個，水果店裡原來有幾個西瓜？

答：_____

6. 妹妹原有一些零錢，媽媽又給她35元後，共有80元，妹妹原有幾元？

答：_____