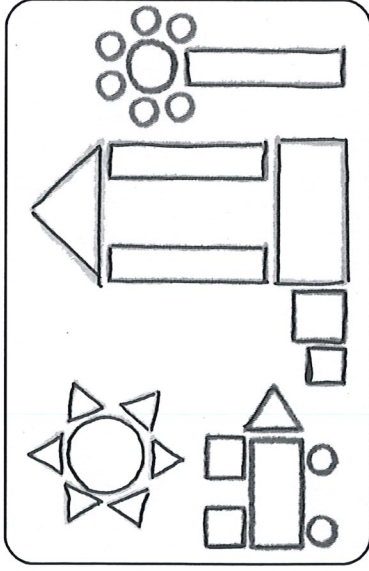


四、對號的畫○，錯的畫×【每題1分，共5分】

- () 1. $2+3$ 和 $3+2$ 的答數案一樣。
- () 2. 長針指在12，短針指在9，時間是9點鐘。
- () 3. 數字「3:50」表示3點半。
- () 4. $9+0$ 的答數案比 $9-0$ 的答數案大。
- () 5. 現在是上午9點鐘，再過3個小時是上午11點鐘。

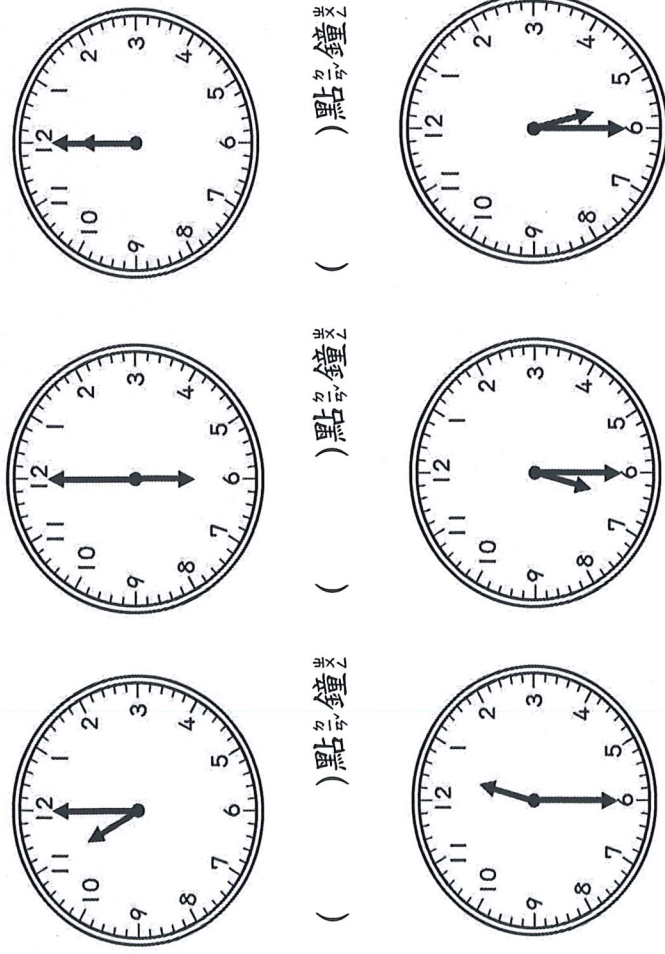
五、看圖回答問題【每格1分，共6分】



- (1) 圓形有 () 個。
- (2) 長方形有 () 個。
- (3) 正方形有 () 個。
- (4) 三角形有 () 個。
- (5) 圓形比三角形 (多 / 少) 。
- (6) 長方形比正方形 (多 / 少) 。

六、填字看看是幾點鐘或幾點半

【每格1分，共6分】



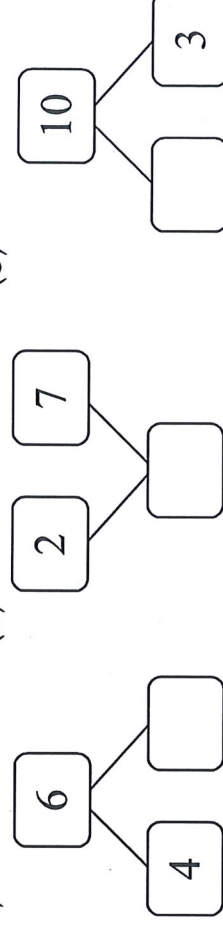
- () 點鐘 () 點鐘 () 點鐘
- () 點半 () 點半 () 點半

七、算算看看【每格1分，共10分】

- (1) $3+4=$ () (2) $7+2=$ ()
- (3) $8+0=$ () (4) $6+4=$ ()
- (5) $8-5=$ () (6) $9-2=$ ()
- (7) $6-6=$ () (8) $10-7=$ ()
- (9) $4-0=$ () (10) $7-4=$ ()

八、分分看看、合合看看【每格2分，共6分】

(1)



(2)

九、寫出橫式和答數【每題3分，共21分】

- (1) 草原上原有4隻斑馬，又來了5隻長頸鹿，草原上共有幾隻動物？

答：() 隻

- (2) 冰箱原本有9瓶汽水，喝掉7瓶後，冰箱還剩下幾瓶汽水？

答：() 瓶

- (3) 盤子上原有3顆櫻桃和10顆草莓，櫻桃比草莓少幾顆？

答：() 顆

- (4) 哥哥和弟弟玩射飛鏢，哥哥射中4支，弟弟沒有一支射中，哥哥和弟弟共射中幾支？

答：() 支

- (5) 一盒有3個杯子蛋糕，爸爸買了兩盒，共有幾個杯子蛋糕？

答：() 個

- (6) 君君和妹妹共吃掉9顆巧克力，妹妹吃掉5顆，君君吃掉幾顆？

答：() 顆

- (7) 猴子早上吃了6根香蕉，下午又吃了3根香蕉，猴子共吃了幾根香蕉？

答：() 根