

科目數	學年級	二年	班座號	姓名	家長簽章	得分
-----	-----	----	-----	----	------	----

一、選擇題：共 10 分 (每題 2 分)。

() (1) $2 \times 5 = 10$ 中，哪一個數不是乘數？

- ① 2 ② 5 ③ 10。

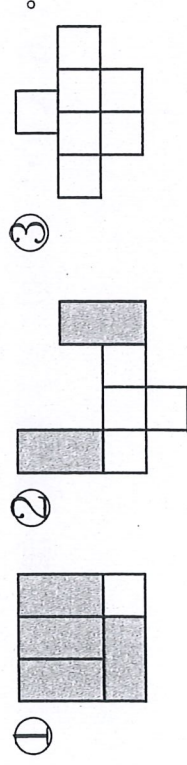
() (2) 下面哪一個物品沒有平平的面？



- ① ㄅ ② ㄆ ③ ㄇ。

() (3) 1 個 和 2 個 一樣大，哪

一個圖形的面積最大？

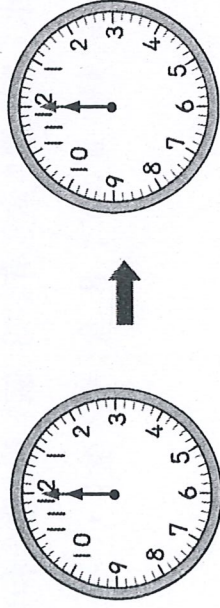


() (4) 7×4 代表的意思，下面哪一個敘述是不對的？

敘述是不對的？

- ① 7 有 4 個 ② 4 有 7 個 ③ 7 的 4 倍。

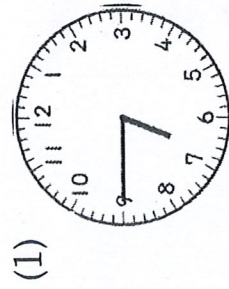
() (5) 社區的停電從中午 12 時開始，到晚上 12 時才恢復電力，從中午 12 時到晚上 12 時經過了幾小時？



- ① 10 小時 ② 12 小時 ③ 24 小時。

二、鐘面上是幾點幾分？共 7 分 (每題 1 分)。

題 1 分。



(1) 左圖是 () 時 () 分，分針再走 () 大格，會是 8 時。



(2) 左圖是 () 時 () 分，分針再走一圈，是 () 時 () 分。

三、填填看看：共 20 分 (每題 1 分)。

(1) 分針走 1 小格是 () 分鐘，走 1 大格是 () 分鐘。

(2) 分針走一圈是 () 時，時針會走 () 大格，是 () 分鐘，也就是 () 小時。

(3) 6 有 7 個比 6 有 5 個多 () 個 6，是多 ()。

(4) 7×8 可以說是有 () 個 7。

(5) 9×5 比 9×8 少 () 個 9，是少 ()。

(6) $7 + 7 + 7 = () \times () = ()$

(7) 巧玲有 25 元，姐姐有 36 元，兩人想买一碗 85 元的拉麵，還不夠多 多少元？

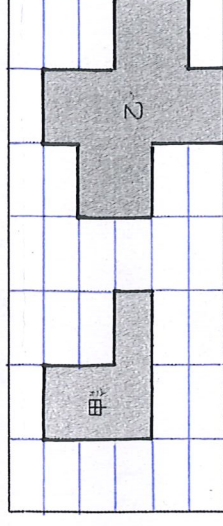
先算： $25 \circ 36 = ()$

再算： $() \circ () = ()$

答： $()$ 元

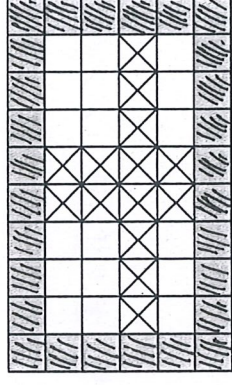
四、看看圖填填看看：共 22 分 (每題 2 分)。

1.



甲圖和 () 個 一樣大，乙圖和 () 個 一樣大，() 圖的面比較大。

2.



(1) 有 () 個。

(2) 有 () 個。

(3) 有 () 個。

(4) (,) 的面比較大，(,) 的面比較小。

3. 比比看看，回答下面問題。



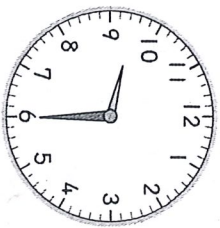
(1) ㄅ 圖的面比 ㄆ 圖 () 大，小 ()。

(2) ㄇ 圖的面比 ㄆ 圖 () 大，小 ()。

(3) 三張圖中，面積最大的是 () 圖。

五、看圖做題：
共 9 分 (每題 1 分)。

1. 小梅辦生日慶祝會。

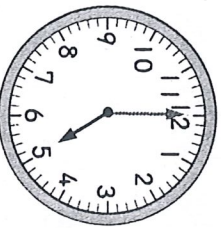


(1) 上午 9 點半，媽媽開始準備點心。

媽媽在 () 點 () 分完成點心。

(2) 準備完點心後，小梅接著布置場地，也需要 1 個小時，這樣她來得及 12 點開始慶祝嗎？圈圈看。
() 來不及，() 來得及。

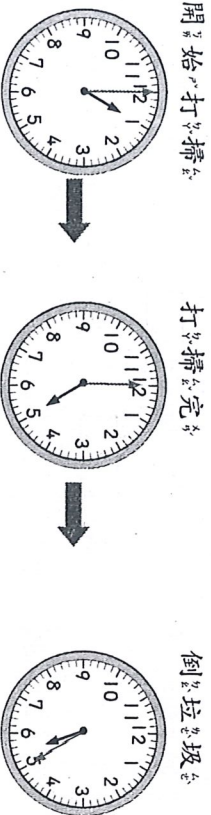
2. 媽媽從下午 5 時開始煮晚餐，煮好晚餐時，長針正好走了 8 大格。



(1) 媽媽花了 () 分鐘煮晚餐。

(2) 媽媽煮好晚餐的時間是 () 時 () 分。

3. 媽媽從下午 1 時開始打掃，打掃到下午 5 時，共花了 () 小時。從打掃完到倒垃圾，分針走了 () 小格，經過 () 分鐘。



六、寫出算式，並算算看： 32 分 (每題 4 分)

(1) 摩托車輪 1 個，車廂可以坐 4 個人，7 個車廂最多可以坐幾個人？

答：() 個

(2) 媽媽買一包果凍，付了 9 元 5 角，一包果凍是幾元？

答：() 元

(3) 樹上原有 26 隻小鳥，飛走了 14 隻後，又飛來了 22 隻，現在樹上有幾隻小鳥？

答：() 隻

(4) 妹妹堆積木，藍積木有 8 個，紅積木比藍積木多 12 個，黃積木比紅積木多 15 個，黃積木有幾個？

答：() 個

(5) 二年丁班有女生 15 人，男生比女生少 6 人，全班共有幾個人？

答：() 個

(6) 麵包店早上賣出 25 個麵包，下午賣出 13 個麵包，還剩下 11 個麵包，麵包店原本有幾個麵包？

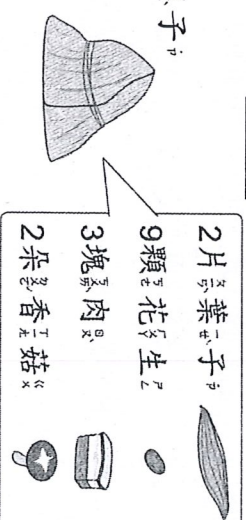
答：() 個

(7) 一盒水果禮盒有 3 個蘋果和 6 個水蜜桃，媽媽買了 8 盒禮盒，一共有幾個水果？

答：() 個

(8) 奶奶要 9 個粽子

一個粽子



1. 需要幾顆？

答：() 顆

2. 需要幾塊？

答：() 塊