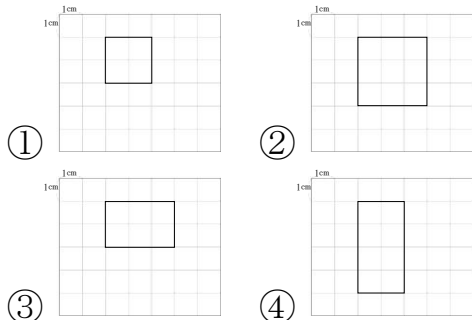


彰化縣永豐國民小學 111 學年度第一學期第一次定期評量三年級數學領域評量試卷

年 班 座號： 姓名：

一、選擇題：每題 2 分、共 2 分

( ) 1. 玉小平要在方格紙上畫一個邊長 2 公分的正方形，下面哪個畫法是正確的？



二、是非題：每題 2 分、共 10 分

- ( ) 1. 在數線上，右邊的數比左邊的數小。
- ( ) 2. 忠文國小 3 年級有 4 個班，每班有 30 人，3 年級共有 120 人。
- ( ) 3. 1 枝藍筆賣 25 元，買 5 枝共要付 100 元。
- ( ) 4. 5003 讀作「五千零三」。
- ( ) 5. 角是由 1 個頂點和 2 個邊所組成的，且這兩個邊一定是一條直線。

三、比比看：每格 2 分、共 14 分

1. 把下面的數由大到小排列：  
 (1) 4025, 2045, 5042  
 ( ) > ( ) > ( )

(2) 3356, 3536, 5336

( ) > ( ) > ( )

2. 哪一個比較長？在( )裡打✓：

( ) (1) 長 10 公分的明信片。

( ) (2) 長 123 毫米的生日卡片。

四、計算題：每題 4 分、共 40 分

1.  $48 \text{ 毫米} + 18 \text{ 毫米}$   
 = ( ) 公分 ( ) 毫米

2.  $72 \text{ 毫米} + 26 \text{ 毫米}$   
 = ( ) 公分 ( ) 毫米

3.  $1 \text{ 公分} + 2 \text{ 毫米} + 3 \text{ 公分} + 4 \text{ 毫米}$   
 = ( ) 公分 ( ) 毫米

4.  $3\text{公}\frac{\text{分}}{\text{分}}\text{分}\frac{\text{分}}{\text{分}}\text{分} + 8\text{毫}\frac{\text{米}}{\text{米}}\text{米}\frac{\text{米}}{\text{米}}\text{米} - 1\text{公}\frac{\text{分}}{\text{分}}\text{分}\frac{\text{分}}{\text{分}}\text{分} + 2\text{毫}\frac{\text{米}}{\text{米}}\text{米}\frac{\text{米}}{\text{米}}\text{米}$   
 $\text{米}\frac{\text{米}}{\text{米}}\text{米} = ( \quad )\text{公}\frac{\text{分}}{\text{分}}\text{分}\frac{\text{分}}{\text{分}}\text{分} ( \quad )\text{毫}\frac{\text{米}}{\text{米}}\text{米}\frac{\text{米}}{\text{米}}\text{米}$   
 $\text{米}\frac{\text{米}}{\text{米}}\text{米}$

5.  $17\text{公}\frac{\text{分}}{\text{分}}\text{分}\frac{\text{分}}{\text{分}}\text{分} + 4\text{毫}\frac{\text{米}}{\text{米}}\text{米}\frac{\text{米}}{\text{米}}\text{米} - 5\text{公}\frac{\text{分}}{\text{分}}\text{分}\frac{\text{分}}{\text{分}}\text{分} + 2\text{毫}\frac{\text{米}}{\text{米}}\text{米}\frac{\text{米}}{\text{米}}\text{米}$   
 $\text{米}\frac{\text{米}}{\text{米}}\text{米} = ( \quad )\text{公}\frac{\text{分}}{\text{分}}\text{分}\frac{\text{分}}{\text{分}}\text{分} ( \quad )\text{毫}\frac{\text{米}}{\text{米}}\text{米}\frac{\text{米}}{\text{米}}\text{米}$   
 $\text{米}\frac{\text{米}}{\text{米}}\text{米}$

6.  $25\text{公}\frac{\text{分}}{\text{分}}\text{分}\frac{\text{分}}{\text{分}}\text{分} + 6\text{毫}\frac{\text{米}}{\text{米}}\text{米}\frac{\text{米}}{\text{米}}\text{米} - 13\text{公}\frac{\text{分}}{\text{分}}\text{分}\frac{\text{分}}{\text{分}}\text{分} + 1$   
 $\text{毫}\frac{\text{米}}{\text{米}}\text{米}\frac{\text{米}}{\text{米}}\text{米} = ( \quad )\text{公}\frac{\text{分}}{\text{分}}\text{分}\frac{\text{分}}{\text{分}}\text{分} ( \quad )$   
 $\text{毫}\frac{\text{米}}{\text{米}}\text{米}\frac{\text{米}}{\text{米}}\text{米}$

7.  $2950 - 683 = ( \quad )$

8.  $35 + 2786 = ( \quad )$

9.  $769 \times 8 = ( \quad )$

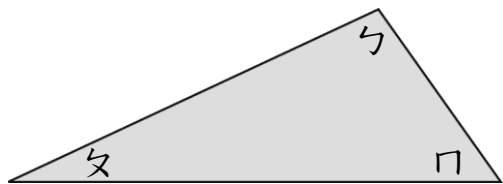
10.  $425 \times 3 = ( \quad )$

五、畫畫看：每格1分、共4分

1. 大大百貨公司 衣-服特賣會，今天賣出1322件衣服，用 、、和來表示賣出的數量：



2. 觀察下圖，並比比看角的大小：



角( )最大，角( )最小。

3. 用尺畫出一條5公 $\frac{\text{分}}{\text{分}}\text{分}\frac{\text{分}}{\text{分}}\text{分}$ 3毫 $\frac{\text{米}}{\text{米}}\text{米}\frac{\text{米}}{\text{米}}\text{米}$ 的直線。

六、填填看：每格1分、共15分

1. 在□中填入適當的數：

$$\begin{array}{r} \square 7 \square 8 \\ + 3 \square 6 5 \\ \hline 7 3 7 \square \end{array}$$

2. 三角板中最大的角，叫作( )。

3. 在 ( ) 裡填入公分或毫米：  
米：

(1) 國語辭典的厚度大約是 70 ( )。

(2) 游泳池的深度大約是 145 ( )。

(3) 一把鑰匙的長度大約是 65 ( )。

4. 在對的  中打  $\checkmark$ 。

小迪的錢包裡有 3050

元，買水果禮盒付了 889

元後，他的錢包裡最多

還剩下幾張千元鈔票？

- 1 張     2 張     3 張  
 4 張

5. 1 公尺 = ( ) 公分 = ( ) 毫米

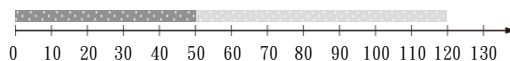
6.  $60 \times 50 = ( )$

七、應用題：每題 3 分、共 15 分

1. 鉛筆長 127 毫米，也就是幾公分幾毫米？

2. 紅緞帶長 50 公分，黃緞帶長 70 公分，兩條緞帶接在一起，共長幾公分？

分？



答：\_\_\_\_\_

3. 阿土伯採收了 72 個蘋果，每 8 個裝 1 箱，最多可以裝幾箱？

4. 用 0.3.4.7 組成一個四位數，數字不重複，可組成最小的數是多多少？

5. 阿美肉粽店今天賣出 450 個菜粽和 1320 個肉粽，今天共賣出幾個粽子？

※恭喜你已經完成作答，請記得再檢查一遍。