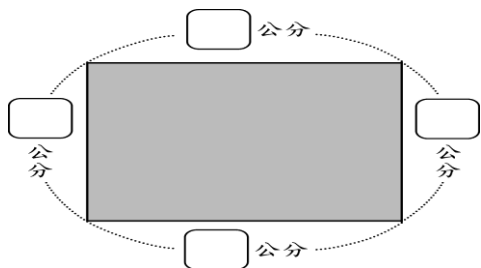


二年級甲班 座號： _____ 姓名： _____

一、看圖回答問題：每答 1 分，共 39 分

(一)題組：先量量看看再回答問題。



(1)這是一個()形。

(2)這個圖形的周長是()公分。

(3)觀察上面這個圖形，你發現了什麼？

在 中打 \checkmark 。

有 3 個邊一樣長。

4 個邊都一樣長。

有 4 個頂點。

上下 2 個邊一樣長，左右 2 個邊一樣長。

(二)1 盆花有 () 朵，

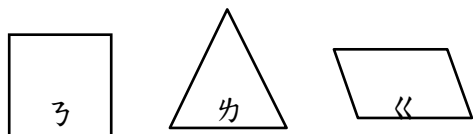
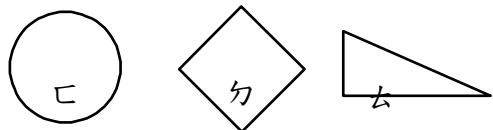
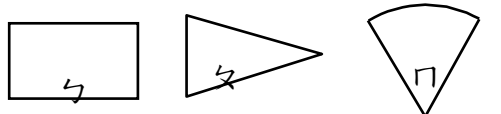


6 盆共有 () 朵花。



(三)看圖回答下面問題，並將正確的打 \checkmark 。

答案填入 () 裡：

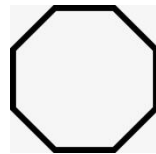


(1)哪些圖形是三角形？ () () ()

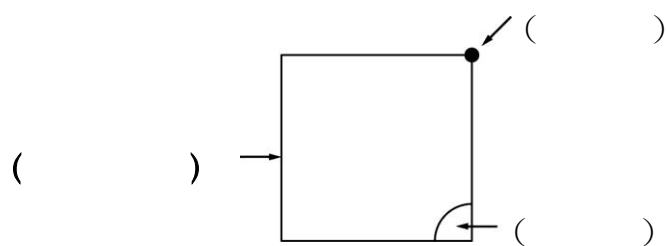
(2)哪些圖形有 4 個邊？ () () () ()

(3)沒有角的圖形是 ()。

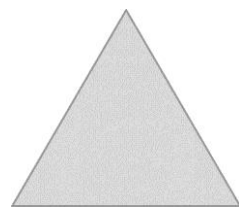
(四)數一數右圖有 () 個角。





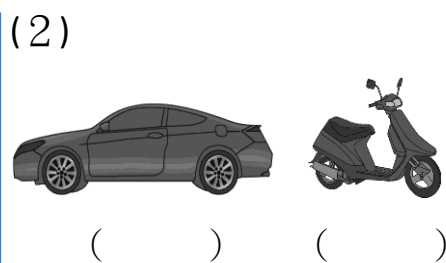
(五)在 () 裡填入邊、角或頂點：



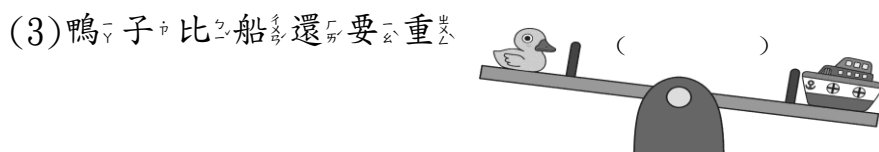
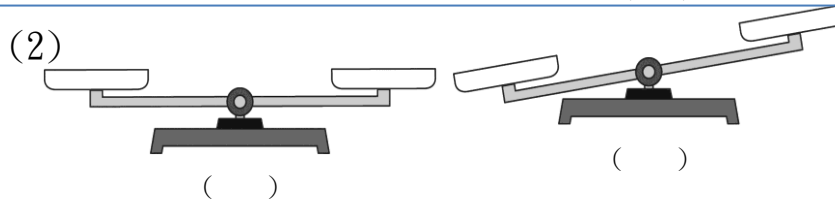
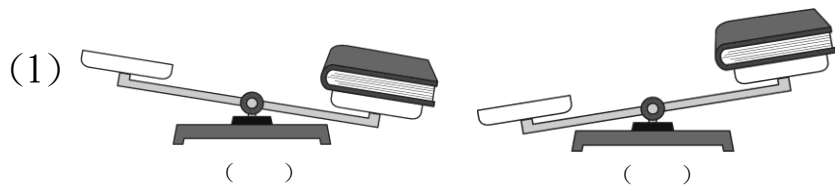
(六)量量看看，右圖的周長是 () 公分，這是一個 () 形。



(七)比較重的打 \checkmark ，比較輕的打 X：



(八)天平的位置是正確的在 () 裡畫 \bigcirc ，錯的打 X。



二、二、填填看看。每答1分，共10分

(一) 3有8個可以記作()×()=()。


(二) 6+6+6+6是表示()有()個。

(三) 7×8比7×4多()個7。

(四) 9×2個比9×7少()。

(五) 12=()×()

(六) 3顆西瓜和()個



積木一樣重。

三、比比看看。每答2分，共14分

(一) 比一比，在()裡填入>、<或=：

(1) 7×3 () 23 (2) 6+6+6+6+6+6 () 6×6

(3) 20 () 9×2 (4) 3×5 () 5×3

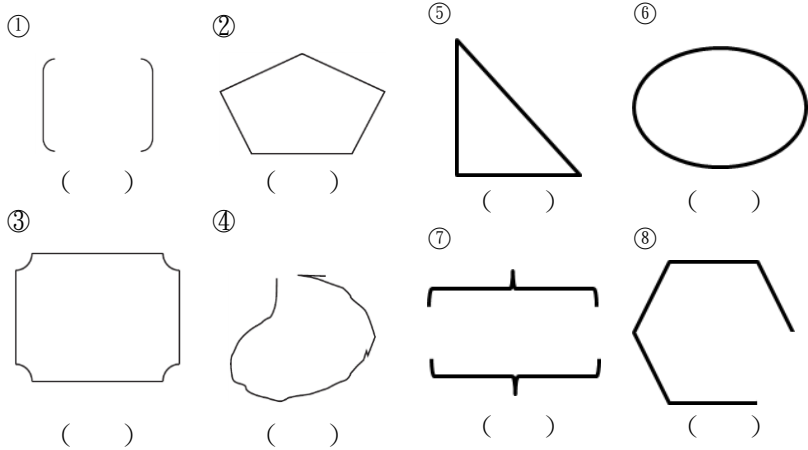
(二) 比比看，將下面三種物品，由重到輕

輕在□中填入1、2、3：



四、找找看看，每答2分，共16分。

(一) 找出有周界的圖形，並在()裡打√：



五、做做看看，寫出算式和答案，記得寫單位。15%

(一) 章丞的花園裡，每1排種3棵樹，

種了9排，共種了幾棵樹？

種了9排，共種了幾棵樹？

答：

(二) 子恩今天帶了5塊積木，每塊長6

公分，全部接起來共長幾公分？

答：

(三) 宥丞看到1隻瓢蟲有7個黑點，請問

6隻瓢蟲有幾個黑點？



答：

(四) 楊伯伯的年齡是睿緯的9倍，如果

睿緯現在9歲，楊伯伯現在是幾歲？

答：

(五) 邊長5公分的正方形，周長是多

少公分？

答：

六、連連看看，每答2分，共6分。

•	•	•
•	•	•
6有3個	8+8+8+8	3連續加
		3次