

一、應用題：(每題 5 分，共 100 分)

1. 一瓶鮮奶有 3.3 公升，商店今天進貨 56 瓶鮮奶，一共是多少公升？

2. 一袋小米重 0.85 公斤，65 袋共重幾公斤？

3. 一張紙條長 34.6 公分，把 27 張紙條接排在一起，一共長多少公分？

4. 把麵粉每 11.66 公斤裝成一袋，共裝成 25 袋，一共有多少公斤？

5. 一瓶蘋果汽水有 0.6 公升，媽媽買了 24 瓶，一共是多少公升？

6. 摺一顆紙星星要用 21.9 公分長的黃色紙條，姐姐摺了 30 顆，一共用了多少公分長的黃色紙條？

7. 一個香草泡芙售價是 35 元，扣除成本每賣出一個可賺 10.85 元，麵包店今天賣出 20 個，成本共是多少元？

8. 一個空的玻璃罐重 1.03 公斤，把一個空的玻璃罐裝入 10.39 公斤的泡菜，裝了 6 罐共重多少公斤？

9. 財政部公布去年進口值是 389 億 275 萬元，出口值是 318 億 425 萬元，去年進口值比出口值多幾元？

10. 下面是暢銷書籍的銷售本數，先用四捨五入法取概數到萬位，再算算看。

書名	新鮮活	晴天	決戰 18 分	生活通
銷售本數(本)	268269	96103	142680	61375

- (1) 銷售本數最多和最少的書籍，大約相差幾萬本？
 - (2) 這四本書的銷售本數，合起來大約有幾萬本？
11. 某年搭乘高鐵約有 4749 萬人次，搭乘臺鐵約有 2 億 2729 萬人次，哪一個搭乘的人次比較多？約相差多少人次？

12. 某公司去年生產光碟 3 兆片，在今年 1~9 月已經生產 2 兆 72 億片，還差多少片才會和去年的生產量一樣多？

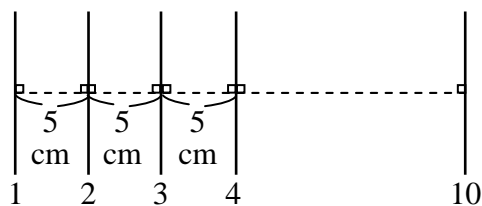
13. 一杯綜合果汁是由 0.17 公升的西瓜汁加上 0.09 公升的柳橙汁調製而成，老師買了 42 杯，一共是多少公升？

14. 大慶公司去年的營業額是 5 億 257 萬元，今年的營業額是 7 億 580 萬元，兩個年度的營業額共是多少元？

15. 火車的一個動力機車頭長度是 16.5 公尺，一節客車車廂的長度是 19.8 公尺，一列火車有 13 節車廂，加上前後兩個動力機車頭，一共長多少公尺？



16. 甲數是 8.59，乙數是 3.24，丙數是甲、乙兩數之和的 2 倍，甲數和丙數相差多少？

17. 有 10 條互相平行的直線相互排列，兩直線間的距離都為 5 公分。請問第 1 條與第 10 條直線相距幾公分？



18. 雅楓家到學校的距離是 3.65 公里，雅楓家到郵局的距離是到學校的 6 倍，從雅楓家到郵局來回一趟的距離是多遠？

19. 有 4 條長 0.9 公尺的繩子和 5 條長 1.74 公尺的繩子，如果將這些繩子接在一起，共長多少公尺？

20.  = 0.95 公斤， 重多少公斤？