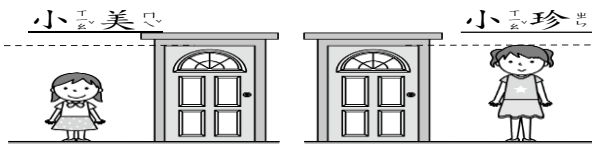


一、選出正確的答案：(共10分)

- ()算式 $9+6=15$ 中，6稱為
①被加數 ②加數 ③和。
- ()有兩個算式 $7+6=\triangle$ ，和 $6+7=\bigcirc$ ， \triangle 和 \bigcirc 各是多少？
① $\triangle=12$ ， $\bigcirc=13$ ② $\triangle=13$ ， $\bigcirc=12$
③都是12 ④都是13。
- ()大澄上午抓了8個犯人，下午抓了7個犯人，相川上午抓了7個犯人，下午抓了8個犯人，哪個時間抓到比較多的犯人？
①上午 ②下午 ③一樣多。

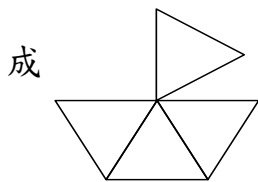
4. ()看圖比比看，誰比較矮？



- ①小美 ②小珍 ③一樣高。


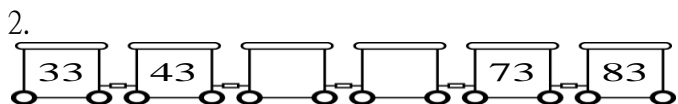
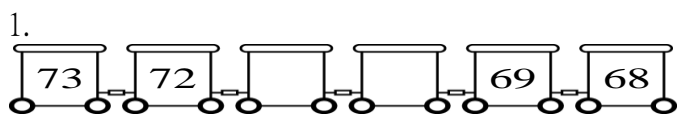
5. () 只能移動一個

三角形，移動哪一個可以變成



- ①ㄅ ②ㄆ ③ㄇ。

二、按照順序填填看：(共10分)

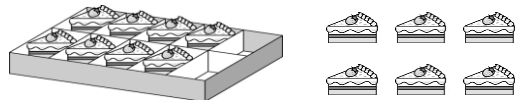


三、算算看：(共10分)

- $6+8=$ ()
- $7+4=$ ()
- $9+5=$ ()
- $15-7=$ ()
- $14-8=$ ()

四、看圖填填看：(共30分)

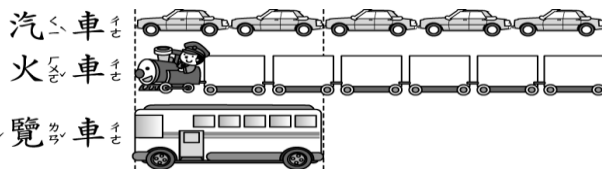
1. 盒子裡和盒子外共有幾塊蛋糕？



() + () = ()


一共有 () 塊蛋糕。

2.



如上图，遊覽車和火車接起來，和 () 台汽車一樣長。


3.



一包棒棒糖有10根，一共有 () 包，是 () 根棒棒糖，再多1包共有 () 根棒棒糖。

4. 10個蛋糕裝成一盒，67個蛋糕可以裝成 () 盒，還剩下 () 個蛋糕。

5.

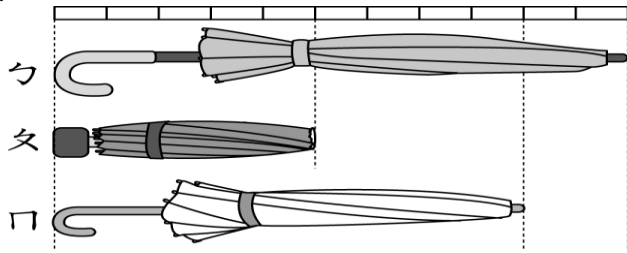


全部積木有 () 個十和 () 個一，合起來是 ()。並填入位值表。

十位	個位

五、看圖填一填，圈一圈：(共 16 分)

1.



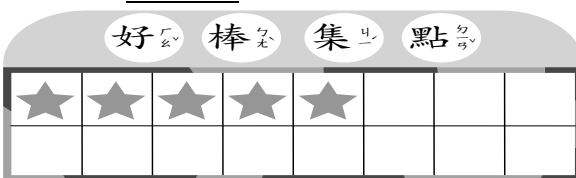
- (1) ㄅ傘和 () 個 ㄇ 一樣長。
 (2) ㄆ傘和 () 個 ㄇ 一樣長。
 (3) ㄇ傘和 () 個 ㄇ 一樣長。
 (4) 最長的是 (ㄅ傘, ㄆ傘, ㄇ傘)

2. 一年 1 班張老師為了要鼓勵小朋友，所以在班上實施了「好棒集點活動」，只要每天上學不遲到、乖巧聽話和上課專心的小朋友就可以得到一個好棒卡點數，每天最後一節課，老師就會收回小朋友的好棒卡，獲得最多好棒卡的小朋友，可以獲得老師所送的小禮物，下圖是大熊和兔兔的好棒卡，看圖回答問題。

大熊的好棒卡



兔兔的好棒卡



- (1) 大熊有 () 個好棒卡點數。
 (2) 兔兔有 () 個好棒卡點數。
 (3) 大熊和兔兔兩人一共集了 () 個好棒卡點數。
 (4) (大熊, 兔兔) 集的好棒卡點數比較多。

六、把答案相同的算式連起來：
(共 8 分)

① 7+4	② 3+9	③ 9+9	④ 6+8
.	.	.	.
.	.	.	.
ㄅ. 8+3	ㄆ. 10+8	ㄇ. 7+7	ㄈ. 6+6

七、寫出算式和答案：
(共 16 分)

1. 7 片巧克力餅乾和 5 片檸檬餅乾，合起來有多少片餅乾？

算式：

合起來有 () 片

2. 有 15 盒冰淇淋，小冊、小玉和小奇三人共吃了 9 盒，還剩下幾盒冰淇淋？

算式：

剩下 () 盒

3. 一盒牛奶糖有 14 顆，弟弟吃掉 8 顆牛奶糖，還剩下幾顆牛奶糖？

算式：

剩下 () 顆

4. 大雄和小香在公園撿松果，大雄撿了 9 顆，小香也撿了 6 顆，大雄和小香兩人共撿了幾顆松果？

算式：

共撿了 () 顆