


一、看圖回答問題(1~7 題 1 格 1 分)

1. 文興國中來學校報佳音，
每一班得到很多糖果，請把
糖果 10 個、10 個圈起來。(4%)




全部有 () 顆糖果。
吃掉 1 顆，還有 () 顆糖果。
再吃掉 1 顆，還有 () 顆糖果。

2. 聖誕節媽媽買了一堆裝飾球
要掛在聖誕樹上，請把
10 個、10 個圈起來。(4%)

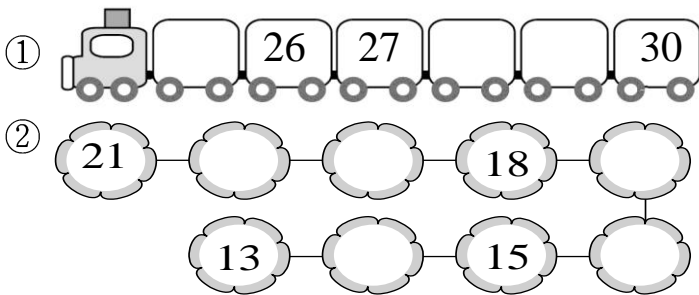


袋子裡已經有 () 顆球。
放進 1 顆，有 () 顆球。
再放進 1 顆，有 () 顆球。

3. 把答案是 6 的圈起來。(4%)



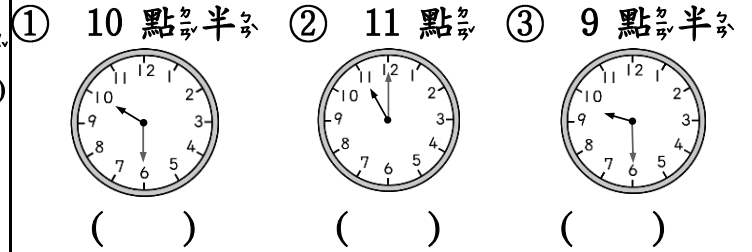
4. 按照數的順序填填看。(8%)



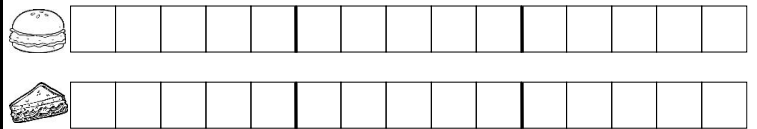
5. 用 1、2、3 表示事情發生的
先後順序。(3%)



6. 請在正確的時鐘上打勾。(3%)

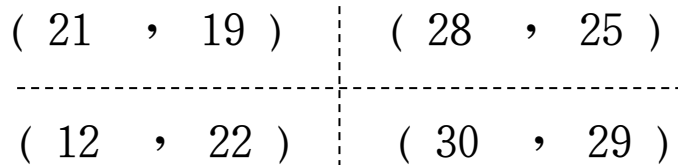


7. 早餐店今天賣出了 14 個
和 12 個，畫○比一比，
再回答問題。(4%)




① 12 個比 14 個多還是少?()
② 哪一個賣出比較多?
(,)

8. 把比較大的數圈起來。(8%)



9. 運動會時，小朋友排隊買
棉花糖。(12%)



① 全部有 () 個小朋友。小可
② 小可排在第 () 個。
③ 小可排在第 () 個，他的
前面排了 () 個小朋友。
④ 誰排在第 19 個？請把他圈
起來。
⑤ 小翔說他的前面有 22 個人，
小翔排在第 () 個。

10. 圈出第 23 棵聖誕樹。(2%)




11. 數一數, 比一比, 再圈一圈看。(6%)



- ① 有 () 隻聖誕襪, 有 () 個薑餅人。
- ② 薑餅人比聖誕襪 (多, 少)

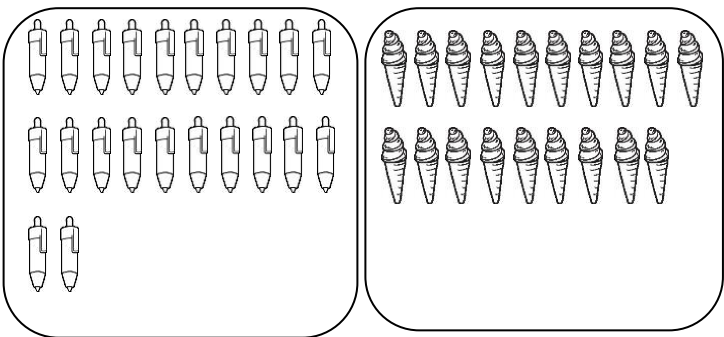
12. 連連看, 把正確的時辰連起來。(8%)



- 4 點半
- 9 點
- 2 點
- 11 點半

13. 數一數, 多的畫掉, 不夠的畫○補上。(4%)

- ① 17 個
- ② 26 個

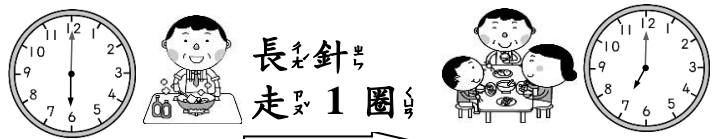


14. 冬至時, 凱凱已經吃了 3 碗湯圓, 再吃幾碗, 凱凱就會吃了 8 碗湯圓?(2%)



再吃 () 碗

15. 看圖填填看。(2%)



下午 6 點 下午 () 點

二、算算看看: 12%

- ① $5+3=()$ ② $7-3=()$
- ③ $8-0=()$ ④ $9-9=()$
- ⑤ $6+4=()$ ⑥ $10-2=()$

三、畫○算算看看, 再用算式記下來。(8%)

1. 牆上原有 5 隻貓在曬太陽, 又來了 3 隻貓, 牆上現在共有幾隻貓?

畫○:

算式:

共有 () 隻貓。

2. 桌上有 10 杯飲料, 來了 7 個小朋友, 每人拿走 1 杯, 桌上現在有幾杯飲料?

畫○:

算式:

有 () 杯飲料。

四、寫出算式做做看。(6%)

1. 一盒大福草莓有 3 顆, 媽媽買了 2 盒, 共有幾顆草莓?

共有 () 顆

2. 園遊會射氣球攤上綁了 7 顆氣球, 小莉射了一籃飛鏢, 結果都沒射中, 現在攤位上還有幾顆氣球?

還有 () 顆