





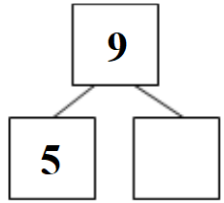
一年 班 號 姓名：

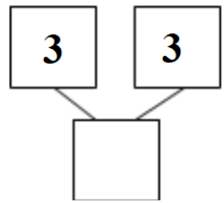
組距	100	99~90	89~80	未達80	平均	家長簽名
人數						

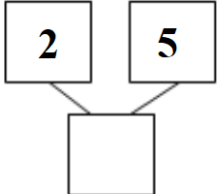
一、把不夠的畫○補上：(8分)

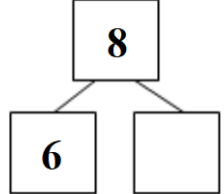
① 7	
② 6	
③ 5	
④ 10	

二、填填看看：(8分)


1. 


2. 

3. 



4. 


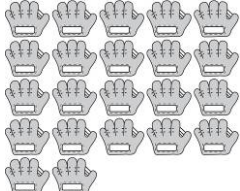
三、按照順序填填看看：(12分)

1. 



2. 



四、數一數，有多少？比較多的在□中打√：(12分)

1.  
有()根 有()張

2.  
有()隻 有()個

五、依照指示塗上顏色：(4分)

1.  8個
第1個  第8個

2.  第1個  第5個
5個

六、看圖做做看看：(14分)

左

右



從左邊數起：是排第幾個

- 是排在第()個。
- 是排在第()個。
- 在第()個，它旁邊的蔬菜是第()個和第()個。
- 從數到，共有()個。
- 圈看看，從左邊數起，第6個蔬菜是()，()，()。

七、比比看看：(26分)

1. 比較厚的打✓，比較薄的畫○

<p>勺. 叉.</p> <p>() ()</p>	<p>勺. 叉.</p> <p>() ()</p>
-----------------------------	-----------------------------

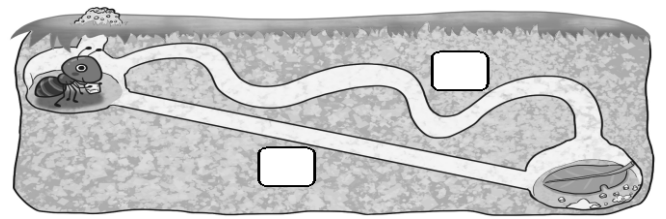
2. 比較高的畫✓，矮的畫○

<p>勺. 叉.</p> <p>() ()</p>	<p>勺. 叉.</p> <p>() ()</p>
-----------------------------	-----------------------------

3. 比較長的畫✓，短的畫○

<p>() ()</p>	<p>() ()</p>
----------------	----------------

4. 螞蟻要回家，哪一條路比較近？在□中打✓



八、比較大的數在()裡打✓，比較小的數畫×

(1) () ()

(2) () ()

(3) () ()

(4) () ()

九、把一樣多的連起來：(8分)

<p>①</p>	• •	勺.
<p>②</p>	• •	叉.
<p>③</p>	• •	勺.
<p>④</p>	• •	勺.

*寫完了，要仔細檢查喔！