

組距	100	99-90	89-80	79-70	69-60	60 以下	平均	簽名	得分
人數									

一、是非題：對的畫○，錯的打×，每題2分，共10分

- () 1. 長方形形的4個邊都一樣長，4個角都一樣是直角。
- () 2. 角1的角比直角大，角2的角比直角小，所以角1的角比角2的角大。
- () 3. 角的大小和兩個邊張開的大小無關，和兩個邊的長短無關。
- () 4. 乘法直式計算中，被乘數和乘數的個位對齊，乘數在依順序乘以被乘數的個位、十位及百位。
- () 5. 在數線上，右邊的數字比左邊的數字小。

二、填填看看：每格1分，共31分

- 填入正確的數字。
- $88 \rightarrow 78 \rightarrow () \rightarrow 58 \rightarrow ()$
- 填入正確的數字。

3100 () 5100 6100 () 8100 ()

- $9 \times 8 = 72$, $90 \times 8 = ()$, $900 \times 8 = ()$ 。
- 小潭不小心把「2340」的4寫成6，新的數是()，和原來來的數相差()。
- 13張百元鈔票可以換成()張千元和()張百元鈔票，合起來是()元。

7. 1塊超大雞排賣45元，買2塊要付幾元？完成計算過程。

$$\begin{array}{r} 5 \times 2 = () \quad 45 \\ 40 \times 2 = () \quad \times \quad 2 \\ 45 \times 2 = () \quad () \end{array}$$

- 填入毫米或公分：
 - 一枝鉛筆長約15 ()。
 - 三年級數學課本厚度約5 ()。
 - 小學生手掌的寬度約120 ()。
- 123 毫米 = () 公分 () 毫米

(3) 6426 中的兩個6各是()位的6及()位的6。

11. 在□中填入適當的數字：

$$\begin{array}{r} \text{甲} \quad 2 \square 4 6 \\ - \quad 8 \square 5 \\ \hline 1 4 2 \square \end{array} \quad \begin{array}{r} \text{乙} \\ \quad \quad \quad 7 \square \\ \quad \quad \quad \times \quad 4 \\ \hline \quad \quad \quad 3 0 0 \end{array}$$

三、看圖作答：每格1分，共19分

1. $40 \times 3 = ()$

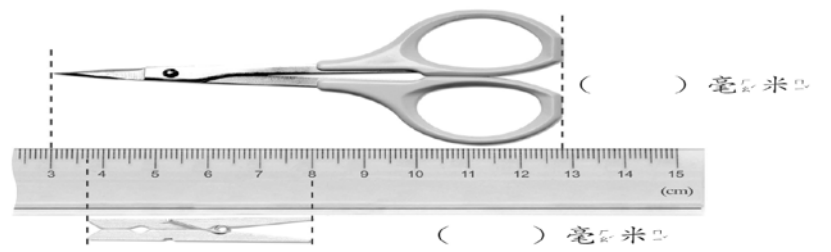


2. 數數看看，有幾元？在定位板上記記。

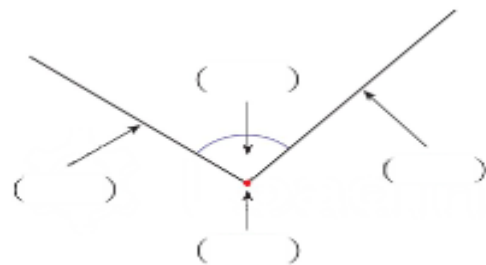


看看。這個數字讀做()。

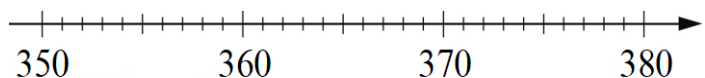
3. 看圖填填看看，各有多長？



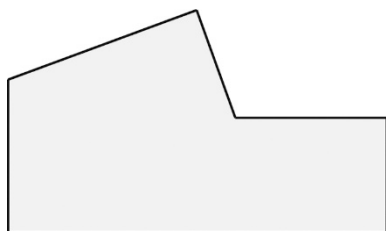
4. 填入角的各部位名稱。



5. 在數線上標出356和378的位置。



6. 下面圖形內共有()個角，其中有()個直角。



7. 觀察下面圖，大於直角的打√，等於直角的畫○，小於直角的打×。



四、填入 >、< 或 =：每題 2 分，

共 8 分

1. $9999 \square 999$
2. $3902 \square$ 三千九百
3. 一千零一十 \square 1010
4. $3824 \square 3842$

五、寫出直式算算看：每題 3 分，

共 12 分

1. $9673 - 642$
2. $999 + 8425$
3. 400×9
4. 397×7

六、應用題：每題 4 分，共 20 分

1. 花園裡有 2900 盆白花，紅花比白花多 1200 盆，花園裡共有幾盆紅花？

花？

2. 1 個玩具機器人賣 540 元，買 6 個共要幾元？

3. 鉛筆長 127 毫米，2 枝鉛筆共是幾公分幾毫米？

4. 小潭買了一根牛奶棒，吃掉 5 公分 9 毫米，還剩下 11 公分 4 毫米，這根牛奶棒原來長幾公分幾毫米？

5. 竹子今天長高 95 毫米，昨天長高 75 毫米，竹子兩天生長的高度合起來有沒有超過 15 公分？

