

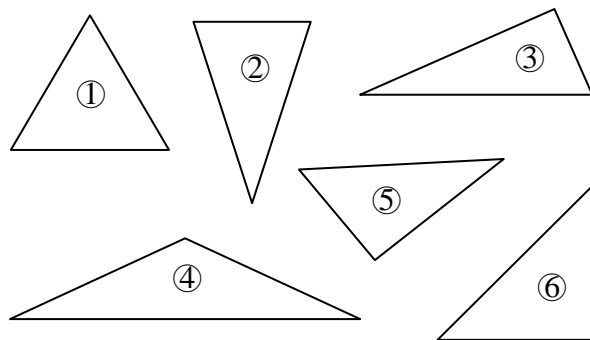
|    |     |       |       |       |       |       |    |      |
|----|-----|-------|-------|-------|-------|-------|----|------|
| 組距 | 100 | 99~90 | 89~80 | 79~70 | 69~60 | 60 以下 | 平均 | 家長簽名 |
| 人數 |     |       |       |       |       |       |    |      |

一、選擇題，每題 2 分，共 20 分。

- ( ) 9個百萬再加1個百萬，合起來是多少？  
 ①1000萬 ②100萬 ③1億 ④10億
- ( ) 正三角形的三個角都是？  
 ① 40度 ② 60度 ③ 70度 ④ 90度。
- ( ) 一億所代表的數是下面哪一個？ ① 1000000 ② 10000000 ③ 100000000 ④ 1000000000。
- ( ) 40度角是哪一種角？  
 ①鈍角 ②直角 ③平角 ④銳角
- ( ) 由0、1、6、9、3所組成的五位數中，最小的是數是多少？  
 ①19630 ②13690 ③10369 ④01369
- ( ) 有一個三角形三個角分別是90度、45度、45度，請問這是？  
 ①等腰直角三角形 ②鈍角三角形 ③銳角三角形 ④正三角形
- ( ) 一個周角等於幾個直角  
 ① 2個 ② 4個 ③ 1個 ④ 3個
- ( ) 若將2464個鳳梨酥，每8個裝成1盒，共可裝成幾盒？  
 ①88 ②38 ③308 ④208
- ( ) 鈍角三角形，有幾個銳角？  
 ①0個 ②1個 ③2個 ④3個
- ( ) 兩個直角加起來等於一個  
 ①鈍角 ②銳角 ③周角 ④平角

|     |     |     |    |    |    |    |    |
|-----|-----|-----|----|----|----|----|----|
| 千萬位 | 百萬位 | 十萬位 | 萬位 | 千位 | 百位 | 十位 | 個位 |
|     |     |     |    |    |    |    |    |

2. 用三角板或量角器量量看，填入正確的號碼。



銳角三角形：( )

直角三角形：( )

鈍角三角形：( )

3.

|       |       |       |       |      |      |
|-------|-------|-------|-------|------|------|
| 100 萬 | 100 萬 | 100 萬 | 100 萬 | 10 萬 |      |
| 10 萬  | 10 萬  | 10 萬  | 10 萬  | 10 萬 | 1 萬  |
| 1 萬   | 1 萬   | 1 萬   | 1 萬   | 1 萬  | 1000 |
| 1000  | 1000  | 10    | 10    |      |      |

是 ( )

4.




(順時針，逆時針)

(順時針，逆時針)

5. 量量看，下面動物嘴巴張開的角是幾度？再寫出銳角、直角或鈍角。

二、填填看：(每格 2 分，共 36 分)


1. 8 個百萬、8 個十萬 7 個萬和 65 個十合起來是多少？



三、畫畫看：(每題3分，共6分)

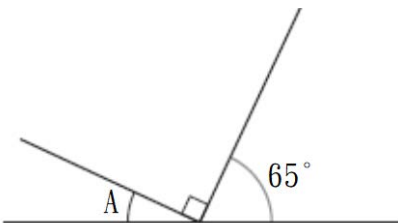
1. 畫出一個兩邊長是3公分的**等腰直角**三角形。

2. 以下面的黑線為角的一邊，黑點為角的頂點，畫出  $70^\circ$  角。

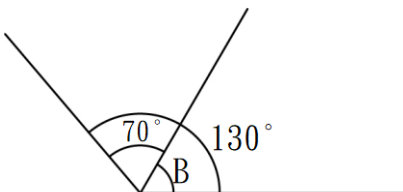


四、算算看：(每題3分，共6分)

1. 角A是幾度？



2. 角B是幾度？



五、寫出直式算算看：(每題3分，共12分)

1.  $527 \div 18$

2.  $7200 \times 5$

3.  $8764 \div 6$

4.  $958 \times 25$

六、應用題，(每題5分，共20分)：

1. 老師將241張卡片平分給32人，每人最多可分得幾張？還剩下幾張？

2. 一層書櫃可以放67本書，圖書館內有563層書櫃，全部放滿，共可以放幾本書？

3. 老師每個月存550元，三年後，存了少錢？

4. 四年級有250人搭動物園遊園車，每輛遊園車可載40人，最少需要幾輛遊園車？

