

彰化縣內安國小 112 學年度第一學期第二次定期評量二年級數學領域試卷

二年甲班 姓名：\_\_\_\_\_ 座號：\_\_\_\_\_

一、填填看看：50%

1.  $3+3+3+3+3+3$ ，是( )個( )連加，  
可以記做( ) $\times$ ( )=( )

2. 5 個 8 可以記做

( ) $\times$ ( )=( )

3. ①  $7 \times 7$  比  $7 \times 5$  多( )個 7  
是多( )

②  $9 \times 4$  比  $9 \times 6$  少( )

③  $6 \times 7 = ( )$ ，算式中 6 被乘數是( )，乘數是( )，  
積是( )。

4. ① 時針在 7 到 8 之間，分針指在 9，是( )點( )分。

② 11 點 20 分的時候，時針會指在( )到( )之間，分針指在( )的<sub>地方</sub>。


③ 分針從 6 走到 10，共走了( )大格，是走了( )分鐘

④ 分針在鐘面上走 1 大格是( )分鐘，走 1 小格是走( )分鐘。


⑤ 分針在鐘面上走了 6 大格又 2 小格，是過了( )分鐘

5. 一盒章魚燒有 8 個，5 盒章魚燒共有( )個；  
弟弟吃掉一盒後，剩下( )個章魚燒

6. 寫出正確時間：




( ) 點 ( ) 分



( ) 點 ( ) 分

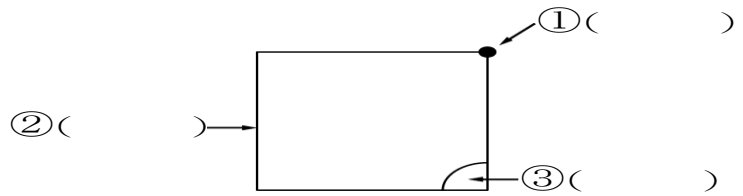


( ) 點 ( ) 分

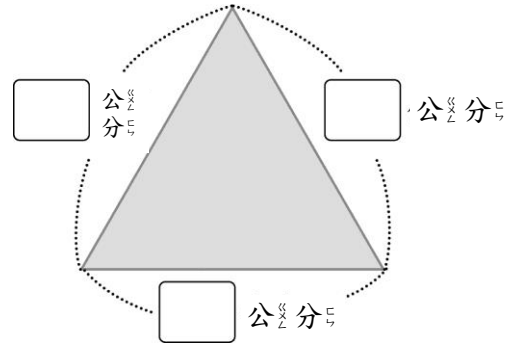


( ) 點 ( ) 分

7. 在( )內填入邊、角和頂點



8. 量出邊長填在□裡

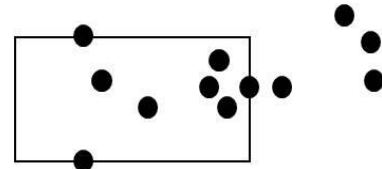


這個圖形是( )形

周長有( )公分

9. 周界上有( )個●，內部有( )個●

( )個●，外部有( )個●



10. 有周界的打√，沒有的打X

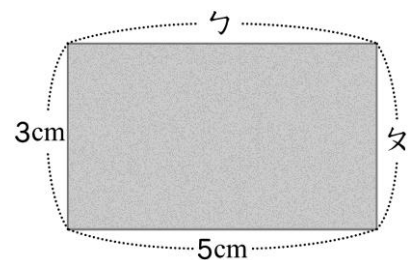


( ) ( ) ( ) ( )

二、做做看看：22%

1. 下圖是長方形，它是( )公分

又是( )公分，周長是( )公分




2. 圈出圈看：

①



(  ,  ) 比較重



②

(  ,  ) 比較輕

3. 看圖做做看：



① 1 瓶汽水 和 ( ) 瓶養樂多 一樣重。

② 4 瓶牛奶 會 和 ( ) 瓶養樂多 一樣重。

③ ( 汽水 , 牛奶 ) 比較輕。

( 圈出圈看 )

④ 3 瓶汽水 會 和 ( ) 瓶牛奶 一樣重。

4. ① 翰翰 和 媽媽 去動物園，  
9 點 進 入 園 區，12 點 離 開 動 物 園，  
他 們 在 動 物 園 裡 逛 了  
( ) 小 時。

② 小安 上 畫 畫 課，從 晚 上  
6 點 30 分 上 到 晚 上 8 點 30 分  
才 下 課，小安 一 共 上 了  
( ) 小 時 英 語。

三、寫出( )內的正確答案 10%

- |                      |                      |
|----------------------|----------------------|
| ① $6 \times 4 = ( )$ | ② $3 \times 7 = ( )$ |
| ③ $9 \times 3 = ( )$ | ④ $7 \times 8 = ( )$ |
| ⑤ $4 \times 9 = ( )$ | ⑥ $6 \times 9 = ( )$ |
| ⑦ $8 \times 8 = ( )$ | ⑧ $7 \times 7 = ( )$ |
| ⑨ $2 \times 7 = ( )$ | ⑩ $4 \times 8 = ( )$ |

四、把做法用算式記下：

來：18%

1. 一盒蛋塔有 6 個，媽媽買了 8 盒，一共有多少個蛋塔？

答：\_\_\_\_\_

2. 莉莉每天存 9 元，一星期可以存多少元？

答：\_\_\_\_\_

3. 小真去書局買了一本筆記本，付給老闆 7 個 5 元，請問筆記本是多少钱？

答：\_\_\_\_\_

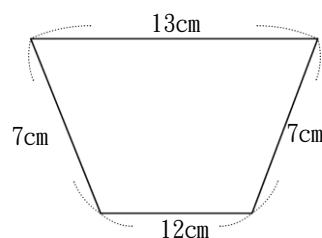
4. 有一個正方形，每邊長是 8 公分，周長是幾公分？

答：\_\_\_\_\_

5. 一盒布丁有 4 個，小玉買了 6 盒，小丸子買了 4 盒，小玉比小丸子多買了幾個布丁？

答：\_\_\_\_\_

6. 小螞蟻沿著下面的餅乾走一圈，牠共走了幾公分？



答：\_\_\_\_\_

☺ 再仔細檢查兩次！