

彰化縣內安國小 113 學年度第一學期第一次定期評量一年級數學領域試卷

一年級甲班 姓名：( ) 座號：( )

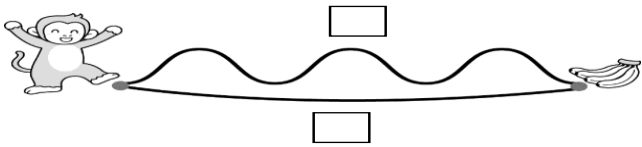
一、看圖做做看：74%

1. 比較大的數在( )裡打✓。

①    
 ②

2. 比一比，比較長的在□中

打✓，比較短的畫○：

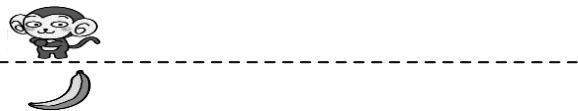


3. 身高比較矮的在□中打✓

①    
 ②

4. 有 9 隻， 有 7 根，

① 畫出一樣多的○



② 一隻猴子吃一根香蕉，香蕉夠不夠？(夠，不夠)

5. 數一數：



共有( )個輪子

6. 看圖分分看：



① 7 可以分成( )和( )

②

( ) 和 ( ) 合起來是 ( )

7. 哪一個比較薄？在( )中

打✓

①    
 ②

8. 圈圈看：

第 1 個

① 第 8 個	
② 5 個	
③ 4 個	
④ 第 6 個	

第 1 個

9. 看圖填填看：







(1) 從前面算起：

① 排在第( )個  
 ② 的旁邊是第( )個和  
 第( )個  
 ③ 排在 的前面有( )個  
 排在 的後面有( )個

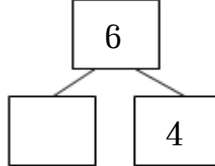
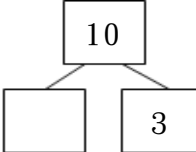
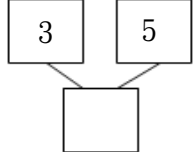
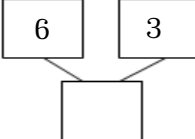
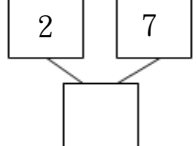
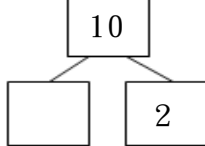
(2) 從後面算起：

① 排在第( )個  
 ② 共有( )種蔬菜  
 ③ 從 數到 ，共有( )個

10. 數一、數各有多少，填填看：

① 	
② 	
③ 	
④ 	





11. 填填看：

① 	② 
③ 	④ 
⑤ 	⑥ 

二、做做看：每答 1 分，26%

1. 是直線的在  中打  $\checkmark$ ，是

曲線的畫 ：

① 	<input type="checkbox"/>	② 	<input type="checkbox"/>
③ 	<input type="checkbox"/>	④ 	<input type="checkbox"/>

2. 按照順序填一填：









(1) 18 — 17 —  — 15 —  —

(2) 12 — 14 —  —  — 20 —







(3)  —  — 21 — 22 —  — 24

(4) 25 — 26 —  — 28 —  —

3. 連連看，多少和多少合起來是 8？

① 	•	•	
② 	•	•	
③ 	•	•	
④ 	•	•	

4. 圈出正確的數量：

① 	② 	③ 
3 4 5	7 8 6	2 6 8
④ 	⑤ 	⑥ 
9 6 8	3 7 5	7 9 8

☺ 再仔細檢查 2 次！