

一、寫出直式算算看：每格 2 分、共 20 分

(1)  $7294 - 3608$       (2)  $229 + 4671$

(3)  $5695 + 1065$       (4)  $6337 - 961$

(5)  $70 \times 8$       (6)  $55 \times 6$

(7)  $400 \times 7$       (8)  $736 \times 5$

(9)  $12\text{cm } 6\text{mm} - 7\text{cm} = ( \quad ) \text{cm} ( \quad ) \text{mm}$

(10)  $8 \text{ 公}\frac{\text{分}}{\text{米}} - 24 \text{ 毫}\frac{\text{米}}{\text{米}} = ( \quad ) \text{ 毫}\frac{\text{米}}{\text{米}}$

二、勾選題：每題 2 分、共 4 分

1. 「 $807 \times 9$ 」的答數案中最接近下面哪一個個數？

- 6200     7200     8200

2. 一箱柳丁賣 499 元，哥哥買了 6 箱，大約花了幾元？

- 1000 元     2000 元     3000 元

三、數數看，下圖有幾元？共 3 分



答：(                      ) 元

四、在□中填入 > 或 <：每答 2 分、共 8 分

- ①  $1758$  □  $1578$     ②  $5439$  □  $5493$   
 ③  $3000$  □  $2999$     ④  $1500$  □  $1699$

五、畫畫看：共 5 分



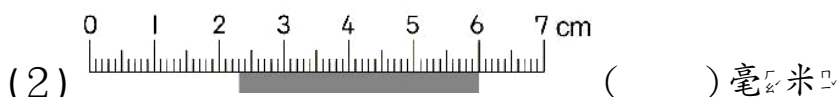
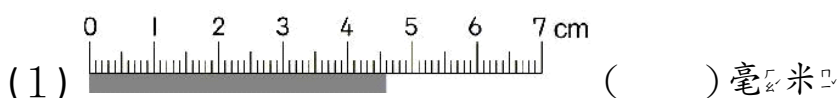
8652元

可以怎麼付錢？

用  1000、 100、 10 和  1 來付錢。


六、看圖填填看：每格 2 分、共 12 分

寫出灰色圖形的長度：



- (3)  1000  1000  1000  10  10  10  10  10  1  1  1  1  1

這些數合起來是 (                      )，  
讀作 (                      )。



七、畫畫看：每題 3 分、共 6 分

1. 用尺畫出一條 33 毫米的直線。

2. 用尺畫出一條 5cm2mm 的直線。

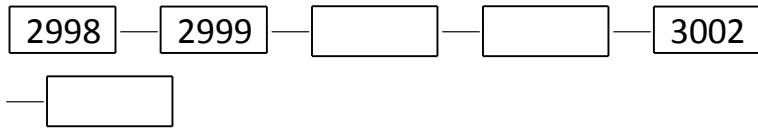
八、把最接近的答案在□中打√：每題3分，共6分

(1) 「7140 + 1138」  
 8000       9000       10000

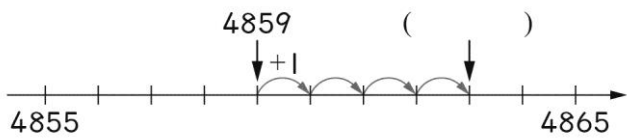
(2) 「1234 + 5978」  
 8000       7000       6000

九、填填看：每答1分，共18分

1. 在□中填入適當的數：



2.  $4859 + 4 = ( \quad )$



3.  $8\text{m}9\text{cm} = ( \quad ) \text{mm}$

4. 7公尺 = ( ) 毫米

5.  $9 \times 8 = 72$ ,  $90 \times 8 = ( \quad )$ ,  $900 \times 8 = ( \quad )$ 。

6. 用0、2、4、8、9五張數字卡

卡，做做看。

① 排出一個最大的四位数是 ( )。

② 排出一個最小的四位数是 ( )。

7. 3個千和7個百可以換成

2個千和 ( ) 個百。

8. 「三千零七十」記作 ( )。

9. 「五千零七」記作 ( )。

10. 「3108」讀作 ( )。

11. 在□中填入適當的數字：

$$\begin{array}{r} 2 \square 4 8 \\ - \quad 2 2 5 \\ \hline 2 6 2 \square \end{array}$$

12. 在□中填入適當的數字：

$$\begin{array}{r} \square 6 \\ \times \quad 5 \\ \hline 8 0 \end{array}$$

十、應用題：每題3分，共18分

1. 1年有12個月，8年共是幾個月？

2. 參加馬拉松賽跑的男生有2513人，女生有2194個人，男生比女生多幾個？

3. 1本故事書賣295元，買3本要幾元？

4. 1根迴紋針長28毫米，相同的2根連接一起，共長幾公分幾毫米？

5. 哥哥買一件760元的上衣和一件1680元的牛仔褲，共要付幾元？

6. 媽媽買了一條長40公分2毫米的法國麵包，切了9公分5毫米的麵包，還剩下多長的法國麵包？