

二年甲班 座號： \_\_\_\_\_ 姓名： \_\_\_\_\_

得分： \_\_\_\_\_

一、圈出看： 共 14 分

1. 估一估，把最接近的答圈起來。


(1) 62 - 31

( 10   20   30 )

(2) 599 + 207

( 700   800   900 )

2. 圈出 658

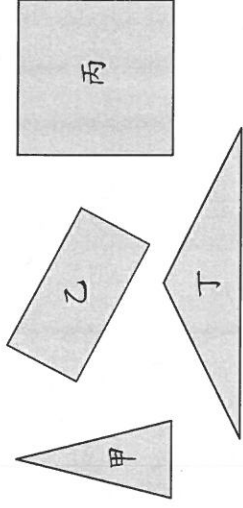


3. 圈出最大的數。

(1) 157   715   517

(2) 980   990   1000

4. 圈出有「3 條邊」的圖形。



二、用品  100、 10 或  1 畫看：

共 4 分

1. 畫出 322 元

2. 畫出 764 元

三、寫出直式計算看： 共 15 分

1.  $740 + 23 = ( \quad )$

2.  $35 + 247 = ( \quad )$

3.  $451 - 219 = ( \quad )$

4.  $197 - 79 = ( \quad )$

5. (     ) 內的數是多多少少？



四、連連看： 共 10 分

$4 \times 5$      $6 \times 4$      $0 \times 8$      $6 \times 8$      $4 \times 8$

0    20    24    32    48

$9 \times 0$      $3 \times 8$      $5 \times 4$      $8 \times 6$      $8 \times 4$

五、填填看看：共 48 分

1.  $699 - ( ) - ( ) = 702 - 703$   
— ( ) ( )
2.  $861 - 761 - ( ) = 561 - ( )$   
— ( ) ( )
3. 9 個百、4 個十和 7 個一合起來是 ( )。  
來是 ( )。
4. 3 個百和 16 個十合起來是 ( )。  
( )。
5. 1 年又 8 個月 = ( ) 個月。
6. 22 個月也可以說成是 ( ) 年又 ( ) 個月。

7. 二月有 29 天的是「平年」還是「閏年」？ ( )

是「閏年」？ ( )

8. 用 **4**、**3**、**7** 這三張數字卡，

可以排出最大的三位數是

( )；最小的三位數是

( )。

9. 口琴音樂會從 10 月 27 日開始舉行，到 11 月 2 日結束，一共是 ( ) 天。

10. 美娟全家去日本旅遊 6 天，


他們在 4 月 8 日出發，會在

( ) 月 ( ) 日回來。

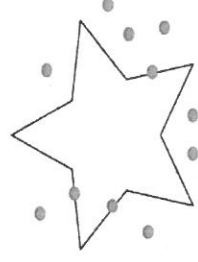
11. 有 ( ) 條邊、

( ) 個角和

( ) 個頂點



12.



(1) 星星的周界上有 ( ) 個。

(2) 星星的內部有 ( ) 個。

(3) 星星的外部有 ( ) 個。

13. 美術館從星期六開始，舉行

一星期的畫展，結束的那一天

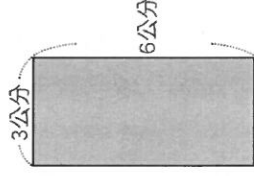
是星期 ( )。

六、寫出算式計算看看：共 9 分

1. 早餐店一份 A 套餐 129 元，一份 B 套餐 86 元，各買一份要付多少元？

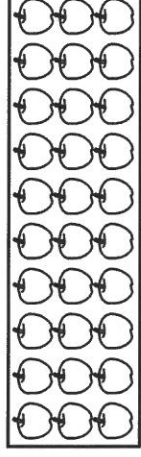
答：

2. 下面長方形的周長是幾公分？



答：

3. 下圖中共有幾顆蘋果？



答：