

彰化縣成功國小 111 學年度第二學期數學科第二次評量卷

一年 班 座號： 姓名：

一、連連看：每題 2 分、共 18 分

1. 將答案一樣的數連起來：

(1) $5+9$ • • ㄅ. $12-2$

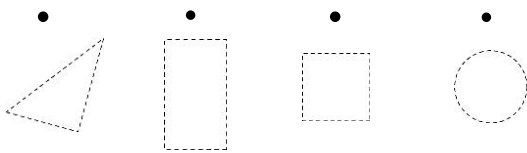
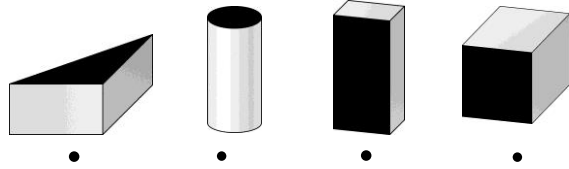
(2) $11-3$ • • ㄆ. $10+4$

(3) $6+4$ • • ㄏ. $11-9$

(4) $7+5$ • • ㄉ. $8+4$

(5) $10-8$ • • ㄊ. $17-9$

2. 下面積木塗黑的的面，描下來是哪一個圖形？連連看。



二、做做看：每題 4 分、共 20 分

1. 圈出正確的算式，再寫出答案：

小美吃了 12 顆草莓，小玉比小美多吃 3 顆，小玉吃了幾顆草莓？

$12+3=15$

$12-3=9$

() 顆

2. 一年級教室有 10 個人，有 6 個人下課到操場玩，又有 3 個人回到班上找同學，現在班上有幾個個人？

畫○：

有 () 個

3. 哥哥有 8 架飛機模型，弟弟有 6 架，哥哥和弟弟共有幾架飛機模型？

算式：

有 () 架

4. 今天要寫 18 題數學題目，已經寫完 9 題，還剩幾題？

算式：

() 題


5. 白珠子 and 紅珠子共有 16

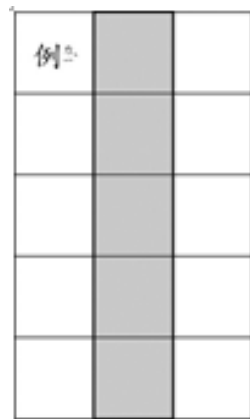
顆，紅珠子有 6 顆，白珠子有幾顆？

算式：

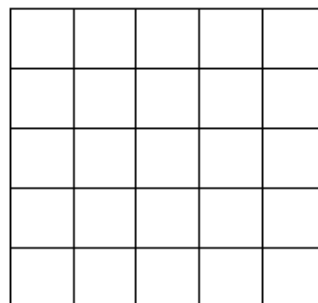
有 () 顆

三、畫畫看：共 6 分

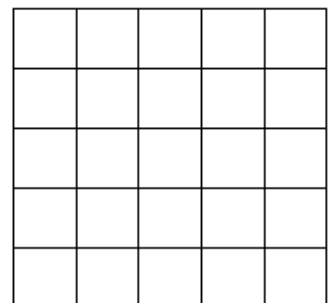
畫出用 5 塊  組成的兩種圖形。



(1)

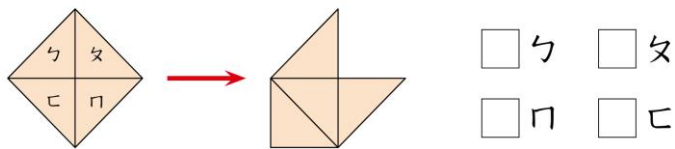


(2)

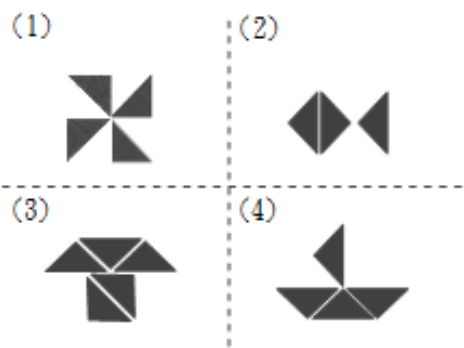


四、看圖做做看：每題 2 分、共 10 分

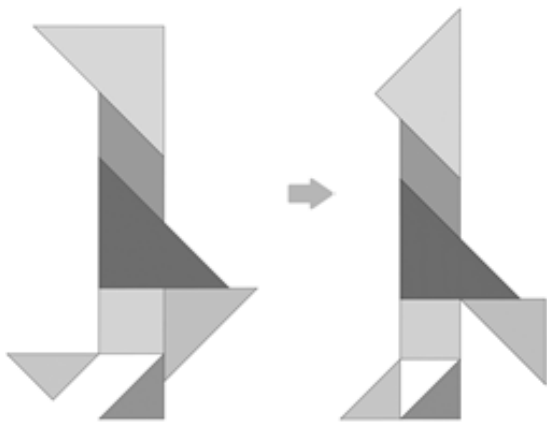
1. 移動哪一片三角形圖卡，才能變成右邊的圖形？在□中打✓：



2. 哪些圖形是用 4 片▲排成的？圈圈看：



3. 找一找，被移動的七巧板是哪幾塊？並在右圖圈出來。



五、填填看：每格 2 分、共 46 分


1. 媽媽請小霆幫忙撕日曆，小霆撕到了這張日曆，這張日曆上的日期是()月()日星期()。



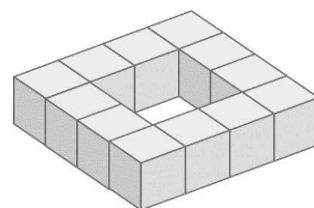
2. 小朱習慣將每個月的行程都記錄在筆記本的月曆內，請你觀察小朱的行程表，回答下列問題：

2023 年 5 月 民國 112 年						
星期日	星期一	星期二	星期三	星期四	星期五	星期六
		溜冰課	3		5	6 鋼琴課
7	8	游泳課	10	11	12 園遊會	
母親節	15	16	17			20 運動會
21		23 游泳課	24	25	26	27 鋼琴課
	29	30 溜冰課	31			

- 完成上列月曆。(10 分)
 - 母親節是 5 月的第 2 個星期日，是 5 月()日。
 - 小朱和同學約好在園遊會那天要一起去參加，是()月()日星期()。
 - 小朱學校的運動會是在()月()日星期()舉辦。
 - 小朱在()月()日和()月()日上游泳課。
 - 這個月哪一個活動會先舉行？圈圈看。
(園遊會, 運動會)
 - 五月過完了就是()月。
3. 數數看，用了幾個？



() 個



() 個

彰化縣成功國小 111 學年度第二學期數學科第二次評量卷

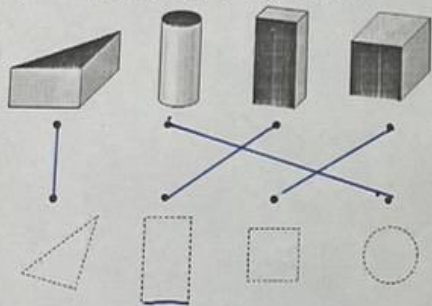
一年 班 座號： 姓名：

一、連連看：每題 2 分，共 18 分

1. 將答案不一樣算式的數連起來：

14 (1) $5+9$ ㄅ. $12-2$ 10
 8 (2) $11-3$ ㄆ. $10+4$ 14
 10 (3) $6+4$ ㄇ. $11-9$ 2
 12 (4) $7+5$ ㄏ. $8+4$ 12
 2 (5) $10-8$ ㄏ. $17-9$ 8

2. 下面積木塗黑的面，描下來是哪一個圖形？連連看。



二、做做看：每題 4 分，共 20 分

1. 圈出正確的算式，再寫出答案：

小美吃了 12 顆草莓，小玉比小美多吃 3 顆，小玉吃了幾顆草莓？

$12+3=15$

$12-3=9$

(15) 顆

2. 一年級教室有 10 個人，有 6 個人下課到操場玩，又有 3 個人回到班上找同學，現在班上有幾個個人？

畫○：
 00000 000
 00000

有 (7) 個

3. 哥哥有 8 架飛機模型，弟弟有 6 架，哥哥和弟弟共有幾架飛機模型？

算式： $8+6=14$

有 (14) 架

4. 今天我要寫 18 題數學題目，已經寫完 9 題，小如還剩幾題？

算式： $18-9=9$


(9) 題

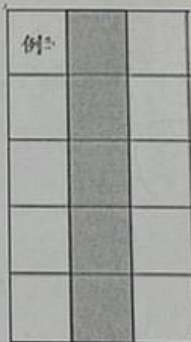
5. 白珠子有 16 顆，紅珠子有 6 顆，白珠子和紅珠子共有幾顆？

算式： $16-6=10$


有 (10) 顆

三、畫畫看：共 6 分

畫出用 5 塊  組成的兩種圖形。



(1)



(2)



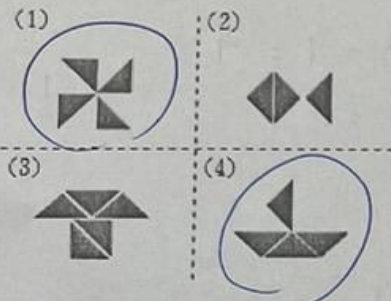
四、看圖做做看看：每題2分、共10分

1. 移動哪一片三角形色圖卡，才能變成右邊圖的圖形？在□中打✓：

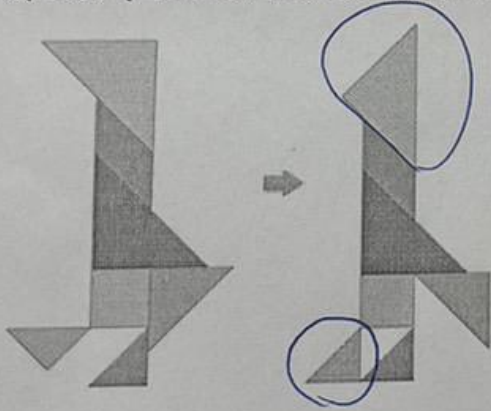


- a b
 c d

2. 哪些圖形是用4片三角形色圖卡排成的？圈出看看：



3. 找一找，被移動的七巧板是哪幾塊？並在右圖圈出來。



五、填填看看：每格2分、共46分

1. 媽媽請小霆幫忙撕日曆，小霆撕到了這張日曆，這張日曆上的日期是(3)月(8)日(星期三)。



2. 小朱習慣將每個月的行程都記錄在筆記本的月曆內，請你觀察小朱的行程表，回答下列問題：

2023年5月 民國112年						
星期日	星期一	星期二	星期三	星期四	星期五	星期六
	1	2 游泳課	3	4	5	6 鋼琴課
	7	8	9 游泳課	10	11 園遊會	12 13
14 母親節	15	16	17	18	19	20 運動會
21	22	23 游泳課	24	25	26	27 鋼琴課
28	29	30 游泳課	31			

(1) 完成上列月曆。(10分)

(2) 母親節是5月的第2個星期日，是5月(14)日。

(3) 小朱和同學約好在園遊會那天要一起去參加，

是(5)月(12)日(星期五)。

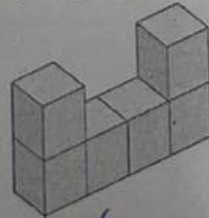
(4) 小朱學校的運動會是在(5)月(20)日(星期六)舉辦。

(5) 小朱在(5)月(9)日和(5)月(23)日上游泳課。

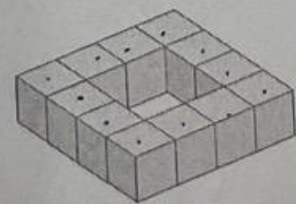
(6) 這個月哪一個活動會先舉行？(園遊會, 運動會)

(7) 五月過完了就是(6)月。

3. 數數看看，用了幾個？



(6) 個



(12) 個