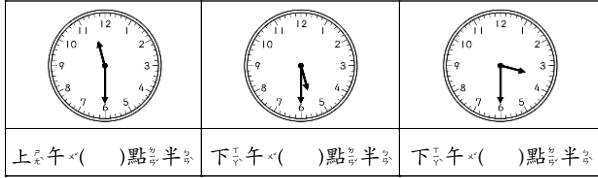


# 彰化縣溪州鄉成功國小 112 學年度第一學期數學科第 3 次評量卷

一年級 班 座號： 姓名：

## 一、連連看 (每答 2 分、共 30 分)

1. 看圖填一填，並連連看：



3:30

5:30

11:30

2.

可以堆高

容易滾動

①



②



③



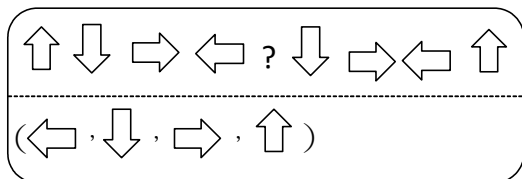
④



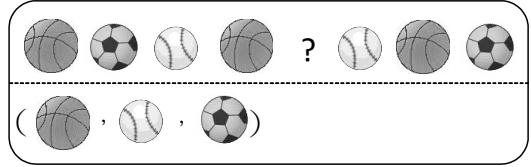
只有彎彎的面 有平平的面， 只有平平的面  
彎彎的面也有彎彎的面 平平的面

## 二、圖圖看 (每題 2 分、共 16 分)

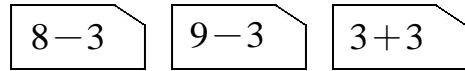
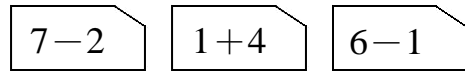
1. 依照圖形的規律性，? 會是什麼圖形？圈圖看。



2. 依照球類的規律性，? 會是什麼球類？圈圖看。



3. 答案是什麼的卡片圈起來：



## 三、配合題 (每題 2 分、共 8 分)

1. 答案相同的在 ( ) 中打  $\checkmark$ ，

不同的打  $\times$ ：

( ) ① 5-2, 6-3

( ) ② 10-10, 6-6

( ) ③ 8-0, 8+0

( ) ④ 9-3, 7-0

## 四、看看圖做事 (每格 2 分、共 6 分)

1. 依照事情發生的先後順序，在 ( ) 中填入 1、2、3：



## 五、畫算算看 (每題 2 分、共 8 分)

① $9-5=()$	② $8-8=()$
③ $10-4=()$	④ $5-3=()$

六、填填看看(每格2分、共8分)

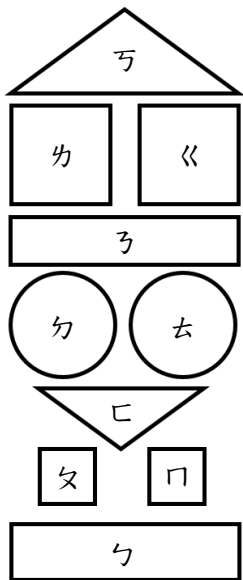
1. 學校新增一個跳房子中的遊戲區，每個代號都分別表示一個圖形，將各圖形所對應的代號填入( )裡。

三角形：

正方形：

長方形：

圓形：



七、勾選題(每題2分、共4分)

1. 做哪一件事花的時間比較長? 在□中打✓。

上課  下課

2. 做哪一件事花的時間比較短? 在□中打✓。

拼好拼圖  弄亂拼圖

八、應用題(每題5分、共20分)

1. 小明買了6瓶牛奶，喝掉2瓶後，剩下幾瓶牛奶?

算式：

( ) □ ( ) = ( )

答：( ) 瓶

2. 小珍原有8元，買了一根8元的棒棒糖，她還剩下多少元?

算式：

( ) □ ( ) = ( )

答：( ) 元

3. 姑姑要做出9個香包，現在已經做好3個，姑姑還要再做出幾個香包?

算式：

( ) □ ( ) = ( )

答：( ) 個

4. 一盒草莓有5顆，兩盒草莓共有幾顆?

算式：

( ) □ ( ) = ( )

答：有 ( ) 顆