

彰化縣二林鎮廣興國民小學一一二學年度下學期第一次定期評量			成績	家長 簽章
英語科試卷	三年 班 號	姓名：		

一、Listen and Write

仔細聽，寫出正確的數字(範圍：1~15)。
(2 pts. each, 20 pts. total)

1. ()
2. ()
3. ()
4. ()
5. ()
6. ()
7. ()
8. ()
9. ()
10. ()

二、Listen and Choose

仔細聽，選出正確的單字。
(2 pts. each, 20 pts. total)

1. ()
(1) ruler
(2) pencil
(3) eraser
2. ()
(1) pen
(2) ruler
(3) eraser
3. ()
(1) pencil
(2) marker
(3) ruler
4. ()
(1) pen
(2) eraser
(3) marker

5. ()
(1) blue
(2) red
(3) green
6. ()
(1) red
(2) blue
(3) yellow
7. ()
(1) blue
(2) green
(3) purple
8. ()
(1) purple
(2) green
(3) orange
9. ()
(1) orange
(2) yellow
(3) purple
10. ()
(1) red
(2) yellow
(3) orange

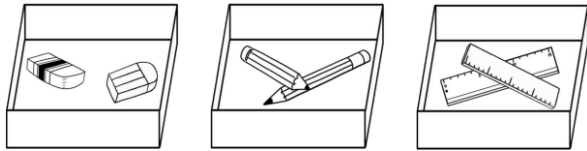
背面尚有試題

三、Listen and Circle


生活情境—圈選題。

(3 pts. each, 12 pts. total)


1. Ken 的文具不見了，請根據錄音內容，圈出正確的失物招領箱，讓 Ken 可以找到他遺失的文具。



2. Alan 在學校上課表現良好，老師請他挑選一樣文具當作獎品。請根據錄音內容，圈出正確的文具送給 Alan。



3. Wendy 很用心地準備演講比賽，媽媽買了一份禮物送給她。請根據錄音內容，圈出 Wendy 的禮物。



4. Alan 在路上遇到剛買完東西的 Ken，仔細聽兩人的對話，將 Ken 買的物品圈起來。

紅色



藍色



紫色




四、Read and Write

讀一讀，抄寫最符合圖意的單字。

(3 pts. each, 33 pts. total)

1.



a marker / an eraser

2.



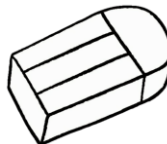
a ruler / a pen

3.



a pencil / a ruler

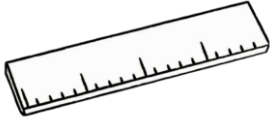
4.



a marker / an eraser

背面尚有試題

5.



a pen / a ruler

.....
.....

6.



purple / blue

.....
.....

7.



blue / red

.....
.....

8.



orange / red

.....
.....

9.



yellow / blue

.....
.....

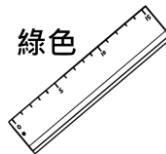
10.



green / orange

.....
.....

11.



purple / green

.....
.....


背面尚有試題

五、Read and Circle

生活情境—圈選題。

(3 pts. each, 6 pts. total)

1. 請根據 Alan 想買的文具與對應的數量，圈出正確的購物清單。




Shopping List

- pen × 1
- pencil × 2
- ruler × 1

Shopping List

- pen × 2
- pencil × 1
- eraser × 1

2. 請根據 Wendy 想買的文具與對應的數量，圈出正確的購物清單。



Shopping List

- ruler × 1
- pencil × 3
- marker × 2

Shopping List

- ruler × 1
- pencil × 2
- marker × 3

六、Read and Circle

生活情境—書寫題。

(3 pts. each, 9 pts. total)

1. Emma 買了一些文具，請看價目表，將她要付的錢寫在格線上。


Stationery 文具	Price 價錢
a pen	\$28
a ruler	\$35
a pencil	\$20
an eraser	\$25



2. 請根據下方的購物收據，算出物品的單價，並將金額寫在對應的格線上。

Receipt 收據

• pencil × 2	\$40
• eraser × 2	\$50
• marker × 3	\$90
.....	
Total 總計	\$180



試題結束